

# المرجع في الرياضيات

للفيف الثاني ثانوي العلمي

كتاب التمارين

الفصل الأول

الوحدة الأولى (التفاضل)

يعتبر مرجعاً للطلاب ومعلمي المادة

الأستاذ: معتصم ابراهيم

0788586401

## الوحدة الاولى: التفاضل

مشتقة اقتران القوة:

أجد مشتقة اقتران كل مما يأتي:

1)  $f(x) = 7x^3$

$$\hat{f}(x) = 21x^2$$

2)  $f(x) = 12x^{\frac{4}{3}}$

$$\hat{f}(x) = \frac{4}{3} \cdot 12x^{\frac{1}{3}}$$

$$= 16x^{\frac{1}{3}}$$

$$= 16\sqrt[3]{x}$$

3)  $f(x) = 3x^2 - 5\sqrt{x}$

$$f(x) = 3x^2 - 5x^{\frac{1}{2}}$$

$$\hat{f}(x) = 6x - \frac{1}{2} \cdot 5x^{-\frac{1}{2}}$$

$$= 6x - \frac{5}{2\sqrt{x}}$$

4)  $f(x) = \frac{3}{x^7}$

$$f(x) = 3x^{-7}$$

$$\hat{f}(x) = -21x^{-8}$$

$$= \frac{-21}{x^8}$$

5)  $f(x) = x^2(x^3 - 2x)$

$$f(x) = x^5 - 2x^3$$

$$\hat{f}(x) = 5x^4 - 6x^2$$

$$6) y = \frac{7}{x^3} + \frac{3}{x} - 2$$

$$y = 7x^{-3} + 3x^{-1} - 2$$

$$\dot{y} = -21x^{-4} - 3x^{-2}$$

$$= -\frac{21}{x^4} - \frac{3}{x^2}$$

مثال: أجد مشتقة كل مما يأتي:

$$a) f(x) = \frac{2x - 7}{x^2}$$

$$f(x) = 2x^{-1} - 7x^{-2}$$

$$\hat{f}(x) = -2x^{-2} + 14x^{-3}$$

$$\hat{f}(x) = -\frac{2}{x^2} + \frac{14}{x^3}$$

$$b) f(x) = \sqrt{x} + 6\sqrt{x^3} + 5$$

$$f(x) = x^{\frac{1}{2}} + 6x^{\frac{3}{2}} + 5$$

$$\hat{f}(x) = \frac{1}{2}x^{-\frac{1}{2}} + \frac{3}{2}6x^{\frac{1}{2}}$$

$$\hat{f}(x) = \frac{1}{2}x^{-\frac{1}{2}} + 9x^{\frac{1}{2}}$$

$$\hat{f}(x) = \frac{1}{2\sqrt{x}} + 9\sqrt{x}$$

مشتقة الاقتران  $y = (ax + b)^n$

أجد مشتقة كل مما يأتي:

$$7) y = (2x - 3)^6$$

$$\dot{y} = 6(2x - 3)^5(2)$$

$$= 12(2x - 3)^5$$

$$8) y = \sqrt{9 - 3x}$$

$$y = (9 - 3x)^{\frac{1}{2}}$$

$$\dot{y} = \frac{1}{2}(9 - 3x)^{-\frac{1}{2}}(-3)$$

$$= -\frac{3}{2(9 - 3x)^{\frac{1}{2}}}$$

$$= -\frac{3}{2\sqrt{(9 - 3x)}}$$

$$9) y = \frac{1}{\sqrt{4x + 1}}$$

$$y = (4x + 1)^{-\frac{1}{2}}$$

$$\dot{y} = -\frac{1}{2}(4x + 1)^{-\frac{3}{2}}(4)$$

$$\dot{y} = -\frac{2}{(4x + 1)^{\frac{3}{2}}}$$

$$\dot{y} = -\frac{2}{\sqrt{(4x + 1)^3}}$$

$$y = \frac{1}{\sqrt{8-x}}$$

مثال: أجد مشتقة الاقتران

$$y = \frac{1}{\sqrt{8-x}}$$

$$y = (8 - x)^{-\frac{1}{2}}$$

$$\dot{y} = -\frac{1}{2}(8 - x)^{-\frac{3}{2}}(-1)$$

$$\dot{y} = \frac{1}{2(8 - x)^{\frac{3}{2}}}$$

$$\dot{y} = \frac{1}{2\sqrt{(8 - x)^3}}$$

ايجاد معادلة المماس عند نقطة ما:

إذا كان الاقتران:  $f(x) = (3x + 2)^2$  فاستعمل المشتقة لإيجاد كل مما يأتي :

(10) معادلة المماس عند النقطة  $(-1, 1)$

الخطوة الأولى: أجد ميل المماس عند النقطة  $(-1, 1)$

$$f(x) = (3x + 2)^2$$

$$\hat{f}(x) = 2(3x + 2)(3)$$

$$\hat{f}(x) = 6(3x + 2)$$

$$\hat{f}(x) = 18x + 12$$

$$\hat{f}(-1) = 18(-1) + 12$$

$$= -18 + 12$$

$$= -6$$

الخطوة الثانية: أجد معادلة المماس

$$y - y_1 = m(x - x_1)$$

$$y - 1 = -6(x - (-1))$$

$$y - 1 = -6(x + 1)$$

$$y = -6x - 6 + 1$$

$$y = -6x - 5$$

(11) معادلة العمودي على المماس عند النقطة  $(-1, 1)$

الخطوة الأولى: ميل العمودي على المماس

$$m_1 = -\frac{1}{m} = -\frac{1}{-6} = \frac{1}{6}$$

الخطوة الثانية: معادلة العمودي على المماس

$$y - 1 = \frac{1}{6}(x + 1)$$

$$y = \frac{1}{6}x + \frac{1}{6} + 1$$

$$y = \frac{1}{6}x + \frac{7}{6}$$

مثال : إذا كان الاقتران :  $f(x) = x^7 - x$  فأستعمل المشتقة لإيجاد كل مما يأتي :

a) معادلة المماس عند النقطة  $(1, 0)$

الخطوة الاولى: أجد ميل المماس عند النقطة  $(1, 0)$

$$f(x) = x^7 - x$$

$$f'(x) = 7x^6 - 1$$

$$f'(1) = 7(1)^6 - 1$$

$$= 7 - 1$$

$$= 6$$

الخطوة الثانية: أجد معادلة المماس

معادلة المستقيم بصيغة الميل ونقطة  $y - y_1 = m(x - x_1)$

بالتبسيط  $y = 6x - 6$  بتعويض  $(x_1 = 1, y_1 = 0, m = 6)$   $y - 0 = 6(x - 1)$

b) معادلة العمودي على المماس عند النقطة  $(1, 0)$

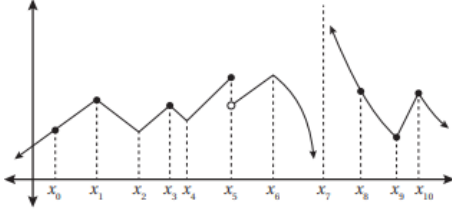
ميل العمودي على  $-\frac{1}{m} = -\frac{1}{6}$  ، ومنه فإن معادلة العمودي على المماس عند النقطة  $(1,0)$  هي :  
المماس هو

$$y - 0 = -\frac{1}{6}(x - 1)$$

$$y = -\frac{1}{6}x + \frac{1}{6}$$

## الدرس الأول: الاشتقاق

1) يبين الشكل المجاور منحنى الاقتران  $f(x)$  ، أحد قيم  $x$  للنقاط التي يكون عندها الاقتران  $f(x)$  غير قابل للاشتقاق ، مبرراً إجابتي .



$f$  غير قابل للاشتقاق عند القيم  $x_1, x_2, x_3, x_4, x_6, x_9, x_{10}$  بسبب وجود زاوية لمنحنى الاقتران عند كل منها رغم أنه متصل.

$f$  غير قابل للاشتقاق عند القيم  $x_5, x_7$  وذلك لأنه غير متصل عندها ، والاتصال شرط ضروري.

أجد مشتقة كل اقتران مما يأتي:

$$2) f(x) = 9e^x + \frac{1}{3\sqrt{x}}$$

$$f(x) = 9e^x + \frac{1}{3}x^{-\frac{1}{2}}$$

$$\hat{f}(x) = 9e^x - \frac{1}{2} \cdot \frac{1}{3}x^{-\frac{3}{2}}$$

$$= 9e^x - \frac{1}{6}x^{-\frac{3}{2}}$$

$$= 9e^x - \frac{1}{6x^{\frac{3}{2}}}$$

$$3) f(x) = 2e^x + \frac{1}{x^2}$$

$$f(x) = 2e^x + x^{-2}$$

$$\hat{f}(x) = 2e^x - 2x^{-3}$$

$$= 2e^x - \frac{2}{x^3}$$

$$4) f(x) = \frac{\pi}{2} \sin x - \cos x$$

$$\hat{f}(x) = \frac{\pi}{2} \cos x + \sin x$$

(5) أجد معادلة المماس لمنحنى الاقتران :  $f(x) = 2e^x + x$  عندما  $x = 2$   
الخطوة الأولى: ايجاد النقطة

$$f(x) = 2e^x + x, x = 2$$

$$f(2) = 2e^2 + 2$$

النقطة هي  $(2, 2e^2 + 2)$

الخطوة الثانية: ايجاد ميل المماس

$$f(x) = 2e^x + x \quad \text{ميل المماس:}$$

$$\hat{f}(x) = 2e^x + 1$$

$$\hat{f}(2) = 2e^2 + 1$$

الخطوة الثالثة: ايجاد معادلة المماس

$$y - y_1 = m(x - x_1) \quad \text{معادلة المماس:}$$

$$y - (2e^2 + 2) = (2e^2 + 1)(x - 2)$$

$$y = (2e^2 + 1)(x - 2) - (2e^2 + 2)$$

$$y = (2e^2 + 1)(x - 2 - 2e^2 + 2)$$

$$y = (2e^2 + 1)(x - 2e^2)$$

(6) اثبت عدم وجود مماس أفقي لمنحنى الاقتران :  $f(x) = 3x + \sin x + 2$

نشق ثم نساوي بالصفر وذلك لأن عند المماس الأفقي يكون  $\hat{f}(x) = 0$

$$\hat{f}(x) = 3 + \cos x = 0$$

$$\cos x = -3$$

قيمة  $\cos x$  تقع بين  $-1 \leq \cos x \leq 1$

اذن  $-3$  لا تقع ضمن هذا المجال مما يعني عدم وجود مماس أفقي لمنحنى  $f$

يمثل الاقتران  $s(t) = 3t^2 - t^3, t \geq 0$  موقع جسيم يتحرك في مسار مستقيم ، حيث  $s$  الموقع بالأمتار ، و  $t$  الزمن بالثواني :

(7) أجد سرعة الجسيم المتجهة وتسارعه بعد  $t$  ثانية

$$s(t) = 3t^2 - t^3, t \geq 0$$

$$\dot{s}(t) = v(t) = 6t - 3t^2 \quad \text{السرعة:}$$



$$v(t) = 6t - 3t^2$$

$$\dot{v}(t) = a(t) = 6 - 6 \quad \text{التسارع:}$$

8) أجد موقع (المواقع) الذي يكون عنده الجسم في حالة سكون.

يكون الجسم في حالة سكون عندما  $v(t) = 0$

$$v(t) = 6t - 3t^2$$

$$6t - 3t^2 = 0$$

$$3t(2 - t) = 0$$

$$3t = 0$$

$$t = 0$$

$$2 - t = 0$$

$$t = 2$$

$$s(t) = 3t^2 - t^3$$

$$s(0) = 6(0) - 3(0)^2$$

$$s(0) = 0$$

$$s(2) = 6(2) - 3(2)^2$$

$$s(2) = 12 - 12$$

$$s(2) = 0$$

إذا كان:  $f(x) = \ln x^2$  ، حيث  $x > 0$  ، فأجب عن السؤالين الآتيين تباعاً :

9- أجد معادلة مماس منحنى الاقتران عندما  $x = e^2$

الخطوة الأولى: إيجاد النقطة

$$f(x) = \ln x^2$$

$$f(x) = 2 \ln x \quad x = e^2$$

$$f(e^2) = 2 \ln e^2 = 4 \quad (e^2, 4)$$

الخطوة الثانية: ايجاد ميل المماس

$$f(x) = \ln x^2$$

$$f'(x) = \frac{1}{x^2}(2x)$$

$$= \frac{2}{x}$$

$$f'(e^2) = \frac{2}{e^2}$$

الخطوة الثالثة: ايجاد معادلة المماس

$$y - y_1 = m(x - x_1) \quad \text{معادلة المماس:}$$

$$y - 4 = \frac{2}{e^2}(x - e^2)$$

$$y - 4 = \frac{2}{e^2}x - \frac{2}{e^2}e^2$$

$$y - 4 = \frac{2}{e^2}x - 2$$

$$y = \frac{2}{e^2}x - 2 + 4$$

$$y = \frac{2}{e^2}x + 2$$

10- أجد الإحداثي  $x$  للنقطة التي يكون المماس عندها موازياً للمستقيم  $6x - 2y + 5 = 0$

الخطوة الأولى: ايجاد ميل المستقيم  $y = mx + b$  حيث  $m$  الميل

$$6x - 2y + 5 = 0$$

$$[-2y = -6x - 5] \quad \div -2$$

$$y = 3x + \frac{5}{2} \quad \text{ميل المستقيم} = 3$$

الخطوة الثانية ايجاد الاحداثي  $x$

$$f(x) = \ln x^2$$

$$f'(x) = \frac{2}{x} = 3$$

$$x = \frac{2}{3}$$

إذا كان الاقتران :  $f(x) = 2 \sin x - 4 \cos x$  ، فأجب عن السؤالين الآتيين تباعاً :

11) أجد ميل المماس لمنحنى الاقتران  $f(x)$  عندما  $x = 0$

$$f(x) = 2 \sin x - 4 \cos x$$

$$\hat{f}(x) = 2 \cos x + 4 \sin x$$

$$\hat{f}(0) = 2 \cos 0 + 4 \sin 0$$

$$= 2(1) + 4(0)$$

$$= 2$$

12- أجد معادلة المماس لمنحنى الاقتران  $f(x)$  عندما  $x = \frac{\pi}{2}$

1- الخطوة الأولى: ايجاد النقطة

$$f(x) = 2 \sin x - 4 \cos x$$

$$f\left(\frac{\pi}{2}\right) = 2 \sin \frac{\pi}{2} - 4 \cos \frac{\pi}{2}$$

$$= 2(1) - 4(0)$$

$$= 2$$

النقطة هي  $\left(\frac{\pi}{2}, 2\right)$

2- الخطوة الثانية: ايجاد ميل المماس

$$f(x) = 2 \sin x - 4 \cos x$$

$$\hat{f}(x) = 2 \cos x + 4 \sin x$$

$$\hat{f}\left(\frac{\pi}{2}\right) = 2 \cos \frac{\pi}{2} + 4 \sin \frac{\pi}{2}$$

$$= 2(0) + 4(1)$$

$$= 4 \quad \text{ميل المماس}$$

الخطوة الثالثة: ايجاد معادلة المماس

$$y - y_1 = m(x - x_1) \quad \text{معادلة المماس:}$$

$$y - 2 = 4\left(x - \frac{\pi}{2}\right)$$

$$y - 2 = 4x - 2\pi$$

$$y = 4x - 2\pi + 2$$

## الدرس الثاني

## مشتقتا الضرب والقسمة والمشتقات العليا

أجد مشتقة كل اقتران مما يأتي:

$$1) f(x) = \frac{\sin x}{x}$$

$$\begin{aligned} \hat{f}(x) &= \frac{(x)(\cos x) - (\sin x)(1)}{x^2} \\ &= \frac{x \cos x - \sin x}{x^2} \end{aligned}$$

$$2) f(x) = -\csc x - \sin x$$

$$\hat{f}(x) = (-) - \csc x \cot x - \cos x$$

$$\hat{f}(x) = \csc x \cot x - \cos x$$

$$3) f(x) = \frac{x+c}{x+\frac{c}{x}}$$

$$\hat{f}(x) = \frac{\left(x + \frac{c}{x}\right)(1) - (x+c)(1 - cx^{-2})}{\left(x + \frac{c}{x}\right)^2}$$

$$\hat{f}(x) = \frac{\left(x + \frac{c}{x}\right) - (x+c)(1 - cx^{-2})}{\left(x + \frac{c}{x}\right)^2} \cdot \frac{x}{x}$$

$$\hat{f}(x) = \frac{x^2 + c + x(-x - c)(1 - \frac{c}{x^2})}{\left(\frac{x^2 + c}{x}\right)^2}$$

$$\hat{f}(x) = \frac{x^2 + c + x(-x + \frac{c}{x} - c + \frac{c^2}{x^2})}{(x + \frac{c}{x})^2}$$

$$\hat{f}(x) = \frac{x^2 + c - x^2 + c - cx + \frac{c^2}{x}}{(x + \frac{c}{x})^2}$$

$$\hat{f}(x) = \frac{x^2 + c - x^2 + c - cx + \frac{c^2}{x}}{(x + \frac{c}{x})^2}$$

$$\hat{f}(x) = \frac{2c - cx + \frac{c^2}{x}}{(x + \frac{c}{x})^2} \cdot \frac{x}{x}$$

$$\hat{f}(x) = \frac{2cx - cx^2 + c^2}{(x^2 + c)^2}$$

4)  $f(x) = x \cot x$

$$\begin{aligned}\hat{f}(x) &= x(-\csc^2 x) + \cot x \quad (1) \\ &= x(-\csc^2 x) + \cot x \quad (1) \\ &= -x \csc^2 x + \cot x\end{aligned}$$

5)  $f(x) = 4x - x^2 \tan x$

$$\begin{aligned}\hat{f}(x) &= 4 - (x^2 \sec^2 x + \tan x) \quad (2x) \\ &= 4 - x^2 \sec^2 x - 2x \tan x\end{aligned}$$

6)  $f(x) = \frac{\cos x}{x^2}$

$$\begin{aligned}\hat{f}(x) &= \frac{x^2(-\sin x) - \cos x(2x)}{(x^2)^2} \\ &= \frac{-x^2 \sin x - 2x \cos x}{x^4}\end{aligned}$$

$$= \frac{x(-x \sin x - 2 \cos x)}{x \cdot x^3}$$

$$= \frac{-x \sin x - 2 \cos x}{x^3}$$

$$7) f(x) = x \left(1 - \frac{4}{x+3}\right)$$

$$f(x) = x - \frac{4x}{x+3}$$

$$\hat{f}(x) = 1 - \frac{(x+3)(4) - (4x)(1)}{(x+3)^2}$$

$$= 1 - \frac{4x + 12 - 4x}{(x+3)^2}$$

$$= 1 - \frac{12}{(x+3)^2}$$

$$8) f(x) = \frac{3(1 - \sin x)}{2 \cos x}$$

$$f(x) = \frac{3 - 3 \sin x}{2 \cos x}$$

$$\hat{f}(x) = \frac{(2 \cos x)(-3 \cos x) - (3 - 3 \sin x)(-2 \sin x)}{(2 \cos x)^2}$$

$$= \frac{-6 \cos^2 x + 6 \sin x - 6 \sin^2 x}{(2 \cos x)^2}$$

$$= \frac{-6(\cos^2 x - \sin x + \sin^2 x)}{(2 \cos x)^2}$$

قاعدة  $\sin^2 x + \cos^2 x = 1$

$$= \frac{-6(1 - \sin^2 x - \sin x + \sin^2 x)}{(2 \cos x)^2}$$

قاعدة  $\cos^2 x = 1 - \sin^2 x$

$$= \frac{-6(1 - \sin x)}{4 \cos^2 x}$$

$$= \frac{-6 + 6 \sin x}{4 \cos^2 x}$$

$$9) f(x) = (x + 1)e^x$$

$$\hat{f}(x) = (x + 1)e^x + e^x(1)$$

$$\hat{f}(x) = xe^x + e^x + e^x$$

$$\hat{f}(x) = xe^x + 2e^x$$

$$\hat{f}(x) = (x + 2)e^x$$

أجد معادلة المماس لكل اقتران مما يأتي عند النقطة المعطاة:

$$10) f(x) = x^2 \cos x, \left(\frac{\pi}{2}, 0\right)$$

الخطوة الاولى: ايجاد ميل المماس

$$f(x) = x^2 \cos x$$

$$\hat{f}(x) = x^2 (-\sin x) + \cos x (2x)$$

$$\hat{f}(x) = -x^2 \sin x + 2x \cos x$$

$$\hat{f}\left(\frac{\pi}{2}\right) = -\left(\frac{\pi}{2}\right)^2 \sin\left(\frac{\pi}{2}\right) + 2\left(\frac{\pi}{2}\right) \cos\left(\frac{\pi}{2}\right)$$

$$= -\frac{\pi^2}{4} \cdot (1) + \pi (0)$$

$$= -\frac{\pi^2}{4} \quad \text{ميل المماس}$$

الخطوة الثانية: ايجاد معادلة المماس

$$y - y_1 = m(x - x_1) \quad \text{معادلة المماس:}$$

$$y - 0 = -\frac{\pi^2}{4} \left(x - \frac{\pi}{2}\right)$$

$$y = -\frac{\pi^2}{4}x + \frac{\pi^3}{8}$$

$$11) f(x) = \frac{1 + \sin x}{\cos x}, (\pi, -1)$$

الخطوة الاولى: ايجاد ميل المماس

$$f(x) = \frac{1 + \sin x}{\cos x}$$

$$\hat{f}(x) = \frac{(\cos x)(\cos x) - (1 + \sin x)(-\sin x)}{\cos^2 x}$$

$$= \frac{\cos^2 x + \sin x + \sin^2 x}{\cos^2 x}$$

$$= \frac{1 + \sin x}{\cos^2 x}$$

$$\text{قاعدة } \sin^2 x + \cos^2 x = 1$$

$$\hat{f}(\pi) = \frac{1 + \sin \pi}{\cos^2 \pi}$$

$$= \frac{1 + (0)}{(-1)^2}$$

$$= \frac{1}{1} = 1 \quad \text{ميل المماس}$$

الخطوة الثانية: إيجاد معادلة المماس

$$y - y_1 = m(x - x_1) \quad \text{معادلة المماس:}$$

$$y - (-1) = 1(x - \pi)$$

$$y + 1 = x - \pi$$

$$y = x - \pi - 1$$

أجد إحداثيي النقطة (النقاط) التي يكون عندها لمنحني كل اقتران مما يأتي مماس أفقي:

$$12) f(x) = \frac{2x - 1}{x^2}$$

نشق ثم نساوي بالصفر وذلك لأن عند المماس الأفقي يكون  $\hat{f}(x) = 0$

$$\hat{f}(x) = \frac{(x^2)(2) - (2x - 1)(2x)}{(x^2)^2}$$

$$\hat{f}(x) = \frac{2x^2 - 4x^2 + 2x}{x^4}$$

$$= \frac{-2x^2 + 2x}{x^4}$$

$$= \frac{-2x + 2}{x^3} = 0$$

$$-2x + 2 = 0$$



$$-2x = -2$$

$$x = 1$$

$$\hat{f}(1) = \frac{2(1) - 1}{(1)^2}$$

$$= \frac{2 - 1}{1}$$

$$= 1$$

النقطة المطلوبة (1, 1)

$$13) h(x) = \frac{x^2}{x^2 + 1}$$

$$\hat{h}(x) = \frac{(x^2 + 1)(2x) - (x^2)(2x)}{(x^2 + 1)^2}$$

$$\hat{h}(x) = \frac{2x^3 + 2x - 2x^3}{(x^2 + 1)^2}$$

$$\hat{h}(x) = \frac{2x}{(x^2 + 1)^2}$$

$$\frac{2x}{(x^2 + 1)^2} = 0$$

$$2x = 0$$

$$\boxed{x = 0}$$

$$\hat{h}(0) = \frac{0^2}{0^2 + 1}$$

$$\hat{h}(0) = 0$$

النقطة هي (0, 0)

$$14) g(x) = \frac{8(x - 2)}{e^x}$$

$$\hat{g}(x) = \frac{(8x - 16)}{e^x}$$

$$\hat{g}(x) = \frac{(e^x)(8) - (8x - 16)(e^x)}{(e^x)^2}$$

$$\hat{g}(x) = \frac{8e^x - 8xe^x + 16e^x}{e^{2x}}$$

$$\dot{g}(x) = \frac{24e^x - 8xe^x}{e^{2x}}$$

$$\dot{g}(x) = \frac{24 - 8x}{e^x}$$

$$\dot{g}(x) = \frac{8(3 - x)}{e^x}$$

$$\dot{g}(x) = \frac{8(3 - x)}{e^x} = 0$$

$$8(3 - x) = 0$$

$$3 - x = 0$$

$$x = 3$$

$$\dot{g}(x) = \frac{8(3 - x)}{e^x}$$

$$\dot{g}(3) = \frac{8(3 - 3)}{e^3}$$

$$\dot{g}(3) = 0$$

النقطة هي : (3, 0)

يبين الشكل المجاور منحنى الاقترانين :  $f(x)$  و  $g(x)$ . إذا كان :  $u(x) = f(x)g(x)$

وكان  $v(x) = \frac{f(x)}{g(x)}$  فأجد كلا مما يأتي :

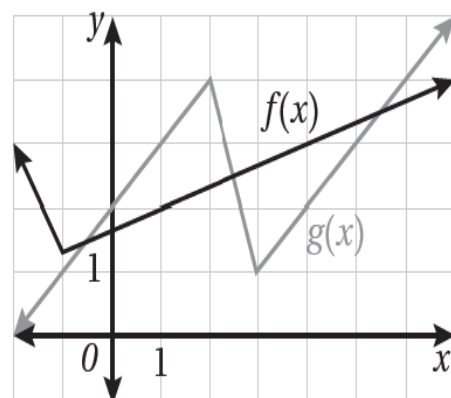
15)  $u'(1)$

$$u'(x) = f(x) \cdot \dot{g}(x) + g(x) \cdot \dot{f}(x)$$

$$u'(1) = f(1) \cdot \dot{g}(1) + g(1) \cdot \dot{f}(1)$$

$$u'(1) = (2) \cdot (1) + (3) \cdot \left(\frac{1}{3}\right)$$

$$u'(1) = 3$$



$$16) \quad v'(x) = \frac{g(x) \cdot \hat{f}(x) - f(x) \cdot \hat{g}(x)}{(g(x))^2}$$

$$v'(4) = \frac{g(4) \cdot \hat{f}(4) - f(4) \cdot \hat{g}(4)}{(g(4))^2}$$

$$v'(4) = \frac{(2) \cdot \left(\frac{1}{3}\right) - (3) \cdot (1)}{(2)^2}$$

$$v'(4) = \frac{\frac{2}{3} - 3}{4}$$

$$v'(4) = \frac{-\frac{7}{3}}{4}$$

$$v'(4) = -\frac{7}{12}$$

17) إذا كان  $f(x) = x \sec x$  ، فأثبت أن  $\hat{f}(x) = \sec x(1 + x \tan x)$  .

$$f(x) = x \sec x$$

$$\hat{f}(x) = (x) \cdot (\sec x \tan x) + (\sec x) \cdot (1)$$

$$\hat{f}(x) = x \sec x \tan x + \sec x$$

$$\hat{f}(x) = \sec x(1 + x \tan x)$$

18) إذا كان  $f(x) = \frac{\ln x}{x}$  ، حيث  $x > 0$  ، فأجد  $\hat{f}(x)$  ، و  $\hat{\hat{f}}(x)$  .

$$f(x) = \frac{\ln x}{x}$$

$$\hat{f}(x) = \frac{(x) \cdot \left(\frac{1}{x}\right) - (\ln x) \cdot (1)}{x^2}$$

$$\dot{f}(x) = \frac{1 - \ln x}{x^2}$$

$$\ddot{f}(x) = \frac{(x^2) \cdot \left(-\frac{1}{x}\right) - (1 - \ln x) \cdot (2x)}{(x^2)^2}$$

$$\ddot{f}(x) = \frac{-x - 2x + 2x \ln x}{x^4}$$

$$\ddot{f}(x) = \frac{-3x + 2x \ln x}{x^4}$$

$$\ddot{f}(x) = \frac{-3 + 2 \ln x}{x^3}$$

يمثل الاقتران :  $v(t) = \frac{10}{2t+15}$  ,  $t \geq 0$  السرعة المتجهة لسيارة بدأت الحركة في مسار مستقيم من وضع السكون ، حيث تقاس  $v$  بالقدم لكل ثانية :  
(19) أجد تسارع السيارة عندما  $t = 5$  .

$$v(t) = \frac{10}{2t + 15}$$

$$a(t) = \frac{(2t + 15) \cdot (0) - (10) \cdot (2)}{(2t + 15)^2}$$

$$a(t) = \frac{-20}{(2t + 15)^2}$$

$$a(5) = \frac{-20}{(2(5) + 15)^2}$$

$$a(5) = \frac{-20}{(10 + 15)^2}$$

$$a(5) = \frac{-20}{625}$$

$$a(5) = -\frac{4}{125} = -0.032 \text{ ft/s}^2$$

(20) أجد تسارع السيارة عندما  $t = 20$  .

$$a(20) = \frac{-20}{(2(20) + 15)^2}$$

$$a(20) = \frac{-20}{(40 + 15)^2}$$

$$a(20) = \frac{-20}{3025}$$

$$a(20) = -\frac{4}{605} = -0.007 \text{ ft/s}^2$$

(21) يعطى طول مستطيل بالمقدار  $6t + 5$  ، ويعطى عرضه بالمقدار  $\sqrt{t}$  ، حيث  $t$  الزمن بالثواني ، والأبعاد بالسنتيمترات ، أجد معدل تغير مساحة المستطيل بالنسبة إلى الزمن .

مساحة المستطيل = الطول  $\times$  العرض

$$A = (\sqrt{t}).(6t + 5)$$

$$A = (t)^{\frac{1}{2}}.(6t + 5)$$

$$A = 6t^{\frac{3}{2}} + 5t^{\frac{1}{2}}$$

$$\frac{dA}{dt} = \frac{3}{2} \cdot 6t^{\frac{1}{2}} + \frac{1}{2} \cdot 5t^{-\frac{1}{2}}$$

$$\frac{dA}{dt} = 9t^{\frac{1}{2}} + \frac{5}{2}t^{-\frac{1}{2}}$$

$$\frac{dA}{dt} = 9\sqrt{t} + \frac{5}{2\sqrt{t}} \text{ cm}^2/\text{s}$$

## الدرس الثالث

## قاعدة السلسلة

أجد مشتقة كل افتتان مما يأتي:

$$1) f(x) = 100e^{-0.1x}$$

$$\hat{f}(x) = (100)e^{-0.1x}(-0.1)$$

$$\hat{f}(x) = -10e^{-0.1x}$$

$$2) f(x) = \sin(x^2 + 2)$$

$$\hat{f}(x) = \cos(x^2 + 2) \cdot (2x)$$

$$\hat{f}(x) = 2x \cos(x^2 + 2)$$

$$3) f(x) = \cos^2 x$$

$$\hat{f}(x) = (2 \cos x)(-\sin x)(1)$$

$$\hat{f}(x) = -2 \cos x \sin x$$

$$\sin 2x = 2 \sin x \cos x \quad \text{قانون نصف الزاوية}$$

$$\hat{f}(x) = -\sin 2x$$

$$4) f(x) = \cos 2x - 2 \cos x$$

$$\hat{f}(x) = (-\sin 2x) \cdot (2) - 2(-\sin x)(1)$$

$$\hat{f}(x) = -2 \sin 2x + 2 \sin x$$

$$5) f(x) = \log_3 \frac{x\sqrt{x-1}}{2}$$

$$f(x) = \log_3 \frac{x(x-1)^{\frac{1}{2}}}{2}$$

$$f(x) = \log_3 x + \frac{1}{2} \log_3(x-1) - \log_3 2$$

$$\hat{f}(x) = \frac{1}{x \ln 3} + \frac{1}{2(x-1) \ln 3} - 0$$

$$\hat{f}(x) = \frac{1}{x \ln 3} + \frac{1}{2x \ln 3 - 2 \ln 3}$$

$$6) f(x) = 2 \cot^2(\pi x + 2)$$

$$\hat{f}(x) = (2)2 \cot(\pi x + 2) - \csc^2(\pi x + 2) (\pi)$$

$$\hat{f}(x) = -4\pi \cot(\pi x + 2) \csc^2(\pi x + 2)$$

$$7) f(x) = \log 2x$$

$$\hat{f}(x) = \frac{2}{2x \ln 10}$$

$$\hat{f}(x) = \frac{1}{x \ln 10}$$

$$8) f(x) = \ln(x^3 + 2)$$

$$\hat{f}(x) = \frac{3x^2}{x^3 + 2}$$

$$9) f(x) = \left( \frac{x^2}{x^3 + 2} \right)^2$$

$$\hat{f}(x) = (2) \left( \frac{x^2}{x^3 + 2} \right) \times \left( \frac{(x^3 + 2) \cdot (2x) - (x^2) \cdot (3x^2)}{(x^3 + 2)^2} \right)$$

$$\hat{f}(x) = \frac{2x^2}{x^3 + 2} \times \frac{2x^4 + 4x - 3x^4}{(x^3 + 2)^2}$$

$$\hat{f}(x) = \frac{2x^2}{x^3 + 2} \times \frac{4x - x^4}{(x^3 + 2)^2}$$

$$\hat{f}(x) = \frac{8x^3 - 2x^6}{(x^3 + 2)^3}$$

$$10) f(x) = x^2 \sqrt{20 - x}$$

$$\hat{f}(x) = (x^2) \cdot \frac{-1}{2\sqrt{20 - x}} + \sqrt{20 - x} \cdot (2x)$$

$$\hat{f}(x) = \frac{-x^2}{2\sqrt{20 - x}} + 2x\sqrt{20 - x}$$

$$\hat{f}(x) = \frac{-x^2}{2\sqrt{20 - x}} + \frac{2x\sqrt{20 - x} \cdot (2\sqrt{20 - x})}{1 \cdot (2\sqrt{20 - x})}$$

$$\hat{f}(x) = \frac{-x^2}{2\sqrt{20 - x}} + \frac{4x(20 - x)}{2\sqrt{20 - x}}$$

$$\hat{f}(x) = \frac{-x^2}{2\sqrt{20 - x}} + \frac{80x - 4x^2}{2\sqrt{20 - x}}$$

$$\hat{f}(x) = \frac{80x - 5x^2}{2\sqrt{20 - x}}$$



$$11) f(x) = \frac{\sin(2x + 1)}{e^{x^2}}$$

$$\hat{f}(x) = \frac{e^{x^2} \cos(2x + 1)(2) - \sin(2x + 1)2xe^{x^2}}{(e^{x^2})^2}$$

$$\hat{f}(x) = \frac{2e^{x^2} \cos(2x + 1) - 2xe^{x^2} \sin(2x + 1)}{e^{2x^2}}$$

$$\hat{f}(x) = \frac{2\cos(2x + 1) - 2x\sin(2x + 1)}{e^{x^2}}$$

$$12) f(x) = 3^{\cot x}$$

$$\hat{f}(x) = 3^{\cot x} (-\csc^2 x) \ln 3$$

$$\hat{f}(x) = -3^{\cot x} \ln 3 \csc^2 x$$

أجد معادلة المماس لكل اقتران مما يأتي عند قيمة  $x$  المعطاة :

$$13) f(x) = 2 \sin 5x - 4 \cos 3x, x = \frac{\pi}{2}$$

1- الخطوة الاولى: ايجاد النقطة

$$f(x) = 2 \sin 5\left(\frac{\pi}{2}\right) - 4 \cos 3\left(\frac{\pi}{2}\right)$$

$$f(x) = 2(1) - 4(0)$$

$$f(x) = 2$$

النقطة هي :  $\left(\frac{\pi}{2}, 2\right)$

2- الخطوة الثانية: ايجاد ميل المماس

$$f(x) = 2 \sin 5x - 4 \cos 3x$$

$$\hat{f}(x) = 2 \cos 5x(5) - 4(-\sin 3x)(3)$$

$$\hat{f}(x) = 10 \cos 5x + 12 \sin 3x$$

$$\hat{f}\left(\frac{\pi}{2}\right) = 10 \cos 5\left(\frac{\pi}{2}\right) + 12 \sin 3\left(\frac{\pi}{2}\right)$$

$$\hat{f}\left(\frac{\pi}{2}\right) = 10 \cos\left(\frac{5\pi}{2}\right) + 12 \sin\left(\frac{3\pi}{2}\right)$$

$$\hat{f}\left(\frac{\pi}{2}\right) = 10 \cos\left(\frac{5\pi}{2}\right) + 12 \sin\left(\frac{3\pi}{2}\right)$$

$$\hat{f}\left(\frac{\pi}{2}\right) = 10 \cos(\pi) + 12 \sin\left(\frac{3\pi}{2}\right)$$

$$\hat{f}\left(\frac{\pi}{2}\right) = 10(0) + 12(-1)$$

$$\hat{f}\left(\frac{\pi}{2}\right) = -12 \quad \text{ميل المماس}$$

3- الخطوة الثالثة: إيجاد معادلة المماس

$$y - y_1 = m(x - x_1) \quad \text{معادلة المماس:}$$

$$y - 2 = -12\left(x - \frac{\pi}{2}\right)$$

$$y - 2 = -12x + 6\pi$$

$$y = -12x + 6\pi + 2$$

$$14) f(x) = (x^2 + 2)^3, x = -1$$

1- الخطوة الاولى: ايجاد النقطة

$$f(-1) = ((-1)^2 + 2)^3$$

$$f(-1) = (1 + 2)^3$$

$$f(-1) = (3)^3$$

$$f(-1) = 27$$

النقطة هي :  $(-1, 27)$

2- الخطوة الثانية: ايجاد ميل المماس

$$f(x) = (x^2 + 2)^3$$

$$\hat{f}(x) = 3(x^2 + 2)^2(2x)$$

$$\hat{f}(x) = 6x(x^2 + 2)^2$$

$$\hat{f}(-1) = 6(-1)((-1)^2 + 2)^2$$

$$\hat{f}(-1) = -6(3)^2$$

$$\hat{f}(-1) = -6(9)$$

$$\hat{f}(-1) = -54$$

3- الخطوة الثالثة: ايجاد معادلة المماس

$$y - y_1 = m(x - x_1) \quad \text{معادلة المماس:}$$

$$y - 27 = -54(x - (-1))$$

$$y - 27 = -54(x + 1)$$

$$y - 27 = -54x - 54$$

$$y = -54x - 54 + 27$$

$$y = -54x - 27$$

$$15) f(x) = \tan 3x, x = \frac{\pi}{4}$$

1- الخطوة الاولى: ايجاد النقطة

$$f\left(\frac{\pi}{4}\right) = \tan 3\left(\frac{\pi}{4}\right)$$

$$f\left(\frac{\pi}{4}\right) = -1 \quad \left(\frac{\pi}{4}, -1\right) \text{ هي النقطة}$$

2- الخطوة الثانية: ايجاد ميل المماس

$$\hat{f}(x) = \sec^2 3x. (3)$$

$$\hat{f}(x) = 3 \sec^2 3x$$

$$\hat{f}\left(\frac{\pi}{4}\right) = 3 \sec^2 3\left(\frac{\pi}{4}\right)$$

$$\hat{f}\left(\frac{\pi}{4}\right) = 3(-\sec \frac{\pi}{4})^2$$

$$\hat{f}\left(\frac{\pi}{4}\right) = 3(-\sqrt{2})^2$$

ملاحظة

$$\sec x = \frac{1}{\cos x} = \frac{1}{\frac{1}{\sqrt{2}}} = \sqrt{2}$$

$$\hat{f}\left(\frac{\pi}{4}\right) = 3(2) = 6$$

3- الخطوة الثالثة: إيجاد معادلة المماس

$$y - y_1 = m(x - x_1) \quad \text{معادلة المماس:}$$

$$y - (-1) = 6\left(x - \frac{\pi}{4}\right)$$

$$y + 1 = 6x - \frac{3\pi}{2}$$

$$y = 6x - \frac{3\pi}{2} - 1$$

$$y = 6x - \frac{3\pi + 2}{2}$$

إذا كان الاقتران :  $f(x) = 3 \sin x - \sin^3 x$  ، فأجب عن السؤالين الآتيين تباعاً :  
 (16) أثبت أن  $f'(x) = 3 \cos^3 x$  .

$$f(x) = 3 \sin x - \sin^3 x$$

$$f'(x) = 3(\cos x) \cdot (1) - (3\sin^2 x) \cdot (\cos x) \cdot (1)$$

$$f'(x) = 3 \cos x - 3\sin^2 x \cos x$$

$$f'(x) = 3 \cos x(1 - \sin^2 x)$$

$$f'(x) = 3 \cos x(\cos^2 x)$$

$$f'(x) = 3 \cos^3 x$$

(17) أجد  $f''(x)$  .

$$f'(x) = 3 \cos^3 x$$

$$f''(x) = 3(3) \cos^2 x \cdot -\sin x (1)$$

$$f''(x) = -9 \cos^2 x \cdot \sin x$$

(18) يعطي منحنى بالمعادلة الوسيطة:  $x = a \cos t$  ,  $y = b \sin t$  ، حيث :

$0 \leq t \leq 2\pi$  . أجد المقطع  $y$  لمماس المنحنى عندما  $t = \frac{\pi}{4}$  بدلالة  $a$  و  $b$  .

1- الخطوة الاولى: ايجاد النقطة

$$x = a \cos\left(\frac{\pi}{4}\right)$$

$$x = a \frac{1}{\sqrt{2}} = \frac{a}{\sqrt{2}}$$

$$y = b \sin\left(\frac{\pi}{4}\right) = b \frac{1}{\sqrt{2}} \rightarrow y = \frac{b}{\sqrt{2}}$$

النقطة هي :  $\left(\frac{a}{\sqrt{2}}, \frac{b}{\sqrt{2}}\right)$

2- الخطوة الثانية: ايجاد ميل المماس

$$y = b \sin t$$

$$\frac{dy}{dt} = b \cos t$$

$$x = a \cos t$$

$$\frac{dx}{dt} = -a \sin t$$

$$\frac{dy}{dx} = \frac{\frac{dy}{dt}}{\frac{dx}{dt}}$$

$$\frac{dy}{dx} = \frac{b \cos t}{-a \sin t}$$

$$\frac{dy}{dx} = -\frac{b}{a} \cot t$$

$$\left. \frac{dy}{dx} \right|_{t=\frac{\pi}{4}} = -\frac{b}{a} \cot\left(\frac{\pi}{4}\right)$$

$$\left. \frac{dy}{dx} \right|_{t=\frac{\pi}{4}} = -\frac{b}{a} \quad (1)$$

$$\boxed{\left. \frac{dy}{dx} \right|_{t=\frac{\pi}{4}} = -\frac{b}{a}}$$

ميل المماس

3- الخطوة الثالثة: ايجاد معادلة المماس:

$$y - y_1 = m(x - x_1) \quad \text{معادلة المماس:}$$

$$y - \frac{b}{\sqrt{2}} = -\frac{b}{a} \left(x - \frac{a}{\sqrt{2}}\right)$$

$$y - \frac{b}{\sqrt{2}} = -\frac{b}{a}x + \frac{b}{\sqrt{2}}$$

$$y = -\frac{b}{a}x + \left(\frac{b}{\sqrt{2}} \cdot \frac{\sqrt{2}}{\sqrt{2}}\right) + \left(\frac{b}{\sqrt{2}} \cdot \frac{\sqrt{2}}{\sqrt{2}}\right)$$

$$y = -\frac{b}{a}x + \frac{\sqrt{2} b}{2} + \frac{\sqrt{2} b}{2}$$

$$y = -\frac{b}{a}x + \frac{2\sqrt{2} b}{2}$$

$$y = -\frac{b}{a}x + \sqrt{2} b$$

إذا كان الاقتران :  $y = e^{ax}$  ، حيث  $a$  ثابت، و  $a > 0$  ، فأجب عن السؤالين الآتيين تباعاً :

19) أجد إحداثيي النقطة  $P$  التي تقع على منحنى الاقتران ، ويكون ميل المماس عندها 1 .

1- الخطوة الأولى : نشتق الاقتران  $y = e^{ax}$  ثم نساوي المشتقة بالميل وهو 1 لإيجاد قيمة  $x$

$$y = e^{ax}$$

$$\frac{dy}{dx} = ae^{ax}$$

$$ae^{ax} = 1$$

$$\frac{ae^{ax}}{a} = \frac{1}{a}$$

$$e^{ax} = \frac{1}{a}$$

$$\ln e^{ax} = \ln \frac{1}{a}$$

$$ax \cdot (1) = \ln \frac{1}{a}$$

$$ax = \ln 1 - \ln a$$

$$ax = 0 - \ln a$$

$$ax = -\ln a$$

$$\frac{ax}{a} = \frac{-\ln a}{a}$$

$$x = \frac{-\ln a}{a}$$

2- الخطوة الثانية: نعوض قيمة  $x = \frac{-\ln a}{a}$  في الاقتران لإيجاد قيمة  $y$

$$y = e^{a\left(\frac{-\ln a}{a}\right)}$$

$$y = e^{-\ln a}$$

$$y = (e^{\ln a})^{-1}$$

$$y = a^{-1}$$

$$\boxed{y = \frac{1}{a}}$$

إذن النقطة هي :  $P\left(\frac{-\ln a}{a}, \frac{1}{a}\right)$

(20) أثبت أنه يمكن كتابة معادلة العمودي على المماس عند النقطة  $P$  في صورة :  $x + y = k$  ، ثم أجد قيمة الثابت  $k$  .

1- الخطوة الأولى: إيجاد ميل العمودي على المماس:

بما أن ميل المماس هو 1 فإن ميل العمودي على المماس هو (- مقلوب ميل المماس)  $m_1 = -1$

2- الخطوة الثانية: إيجاد معادلة العمودي على المماس:

$$y - y_1 = m_1(x - x_1) \quad \text{معادلة المماس:}$$

$$y - \frac{1}{a} = -1\left(x - \frac{-\ln a}{a}\right)$$

$$y - \frac{1}{a} = -x - \frac{\ln a}{a}$$

$$\boxed{y = -x - \frac{\ln a}{a} + \frac{1}{a}}$$

3- الخطوة الثالثة : كتابة معادلة العمودي على المماس عند النقطة  $P$  في صورة :  $x + y = k$ :

$$x + y = k$$

$$y = -x - \frac{\ln a}{a} + \frac{1}{a}$$

$$\boxed{y + x = -\frac{\ln a}{a} + \frac{1}{a}}$$



4- الخطوة الرابعة : إيجاد قيمة الثابت  $k$  :

$$k = -\frac{\ln a}{a} + \frac{1}{a}$$

$$k = \frac{1 - \ln a}{a}$$

(21) إذا كان الاقتران :  $h(x) = \sqrt{4 + 3f(x)}$  ، وكان :  $\hat{f}(1) = 4$  ، وكان :  $f(1) = 7$  فأجد  $\hat{h}(1)$  .

$$h(x) = \sqrt{4 + 3f(x)}$$

$$\hat{h}(x) = \frac{(3\hat{f}(x))}{2\sqrt{4 + 3f(x)}}$$

$$\hat{h}(1) = \frac{(3\hat{f}(1))}{2\sqrt{4 + 3f(1)}}$$

$$\hat{h}(1) = \frac{3(4)}{2\sqrt{4 + 3(7)}}$$

$$\hat{h}(1) = \frac{12}{2\sqrt{25}}$$

$$\hat{h}(1) = \frac{6}{5}$$

(22) إذا كان الاقتران :  $f(x) = e^{2x} + e^{-2x}$  فأثبت أن  $\hat{f}(x) = 4f(x)$  .

$$f(x) = e^{2x} + e^{-2x}$$

$$\hat{f}(x) = (2)e^{2x} + (-2)e^{-2x}$$

$$\hat{f}(x) = 2e^{2x} - 2e^{-2x}$$

$$\hat{\hat{f}}(x) = (2)2e^{2x} - (-2)2e^{-2x}$$

$$\hat{\hat{f}}(x) = 4e^{2x} + 4e^{-2x}$$

$$\hat{\hat{f}}(x) = 4(e^{2x} + e^{-2x})$$

$$\hat{\hat{f}}(x) = 4f(x)$$

(23) إذا كان  $f(x) = \sin 4x + \cos 4x$  ، فأثبت أن  $\dot{f}(x) + 16f(x) = 0$  .

$$f(x) = \sin 4x + \cos 4x$$

$$\dot{f}(x) = \cos 4x(4) + -\sin 4x(4)$$

$$\dot{f}(x) = 4 \cos 4x - 4 \sin 4x$$

$$\ddot{f}(x) = 4 - \sin 4x(4) - 4 \cos 4x(4)$$

$$\ddot{f}(x) = -16 \sin 4x - 16 \cos 4x$$

$$\ddot{f}(x) = -16(\sin 4x + \cos 4x)$$

$$\ddot{f}(x) = -16f(x)$$

$$\ddot{f}(x) + 16f(x) = 0 \quad \text{اثبات}$$

$$\dot{f}(x) + 16f(x) = 0$$

$$\boxed{-16f(x) + 16f(x) = 0}$$

يعطى منحنى بالمعادلة الوسيطة:  $y = 2 \cos \theta$  ،  $x = \sin^2 \theta$  ، حيث  $0 \leq \theta \leq 2\pi$  :

(24) أجد  $\frac{dy}{dx}$  بدلالة  $\theta$  .

$$y = 2 \cos \theta$$

$$\frac{dy}{d\theta} = -2 \sin \theta$$

$$x = \sin^2 \theta$$

$$\frac{dx}{d\theta} = 2 \sin \theta \cos \theta$$

$$\frac{dy}{dx} = -\frac{2 \sin \theta}{2 \sin \theta \cos \theta}$$

$$\frac{dy}{dx} = -\frac{1}{\cos \theta}$$

$$\boxed{\frac{dy}{dx} = -\sec \theta}$$

(25) أجد معادلة المماس عندما يكون الميل  $\sqrt{2}$  .

1- الخطوة الأولى: مساواة المشتقة مع الميل

$$\frac{dy}{dx} = \sqrt{2}$$

$$\boxed{-\sec \theta = \sqrt{2}}$$

2- الخطوة الثانية: إيجاد قيم  $x, y$

$$\cos \theta = -\frac{1}{\sqrt{2}}$$

$$\boxed{\cos x = \frac{1}{\sec x} \text{ قانون}}$$

$$y = 2 \cos \theta$$

$$y = 2\left(-\frac{1}{\sqrt{2}}\right)$$

$$y = \sqrt{2} \cdot \sqrt{2} \left(-\frac{1}{\sqrt{2}}\right)$$

$$y = \sqrt{2}(-1)$$

$$\boxed{y = -\sqrt{2}}$$

$$x = \sin^2 \theta$$

$$\boxed{\sin^2 x + \cos^2 x = 1 \text{ قاعده}}$$

$$\sin^2 \theta = 1 - \left(-\frac{1}{\sqrt{2}}\right)^2$$

$$\boxed{\sin^2 x = 1 - \cos^2 x \text{ قاعده}}$$

$$\sin^2 \theta = 1 - \frac{1}{2}$$

$$\sin^2 \theta = 1 - \frac{1}{2}$$

$$\sin^2 \theta = \boxed{x = \frac{1}{2}}$$

3-الخطوة الثالثة: إيجاد معادلة العمودي على المماس:

$$y - y_1 = m_1(x - x_1) \quad \text{معادلة المماس:}$$

$$y - (-\sqrt{2}) = \sqrt{2}(x - \frac{1}{2})$$

$$y + \sqrt{2} = \sqrt{2}x - (\sqrt{2} \cdot \frac{1}{2})$$

$$y + \sqrt{2} = \sqrt{2}x - \left(\sqrt{2} \cdot \frac{1}{\sqrt{2} \cdot \sqrt{2}}\right)$$

$$y + \sqrt{2} = \sqrt{2}x - \frac{1}{\sqrt{2}}$$

$$y = \sqrt{2}x - \frac{1}{\sqrt{2}} - \sqrt{2}$$

$$y = \sqrt{2}x - \frac{1}{\sqrt{2}} - \frac{2}{\sqrt{2}}$$

$$\boxed{y = \sqrt{2}x - \frac{3}{\sqrt{2}}}$$

26) أجد النقطة التي يكون عندها المماس موازياً للمحور  $y$ .

يكون المماس موازياً للمحور  $y$  عندما يكون  $\frac{dy}{dx}$  غير معرف ، أي عندما يكون  $\cos \theta = 0$

عندها يتم إيجاد قيم  $y$  و  $x$  على أن  $\cos \theta = 0$

$$\sin^2 \theta = 1 - (0)^2$$

$$\boxed{\sin^2 x = 1 - \cos^2 x} \quad \text{قاعده}$$

$$\boxed{x = \sin^2 \theta = 1}$$

$$y = 2 \cos \theta$$

$$\boxed{y = 2 \times 0 = 0}$$

إذن النقطة هي : (1, 0)

(27) سيارة : يمثل الاقتران :  $v(t) = 15te^{-0.05t^2}$  السرعة المتجهة ( بالمترا لكل ثانية ) لسيارة تتحرك في مسار مستقيم ، حيث :  $0 \leq t \leq 10$  . أجد السرعة المتجهة للسيارة عندما يكون تسارعها صفراً .

$$v(t) = 15te^{-0.05t^2}$$

$$a(t) = 15((t \cdot (e^{-0.05t^2}) \cdot (-0.1t) + (e^{-0.05t^2}) \cdot (1)) \cdot (1))$$

$$a(t) = -1.5t^2e^{-0.05t^2} + 15e^{-0.05t^2}$$

$$a(t) = 15e^{-0.05t^2}(1 - 0.1t^2)$$

$$a(t) = 0 \rightarrow 15e^{-0.05t^2}(1 - 0.1t^2) = 0$$

$$\frac{15e^{-0.05t^2}}{15e^{-0.05t^2}}(1 - 0.1t^2) = \frac{0}{15e^{-0.05t^2}}$$

$$1 - 0.1t^2 = 0$$

$$0.1t^2 = 1$$

$$\frac{0.1t^2}{0.1} = \frac{1}{0.1}$$

$$t^2 = 10$$

$$\sqrt{t^2} = \sqrt{10}$$

$$t = \sqrt{10}$$

$$v(\sqrt{10}) = 15\sqrt{10}e^{-0.05(\sqrt{10})^2}$$

$$v(\sqrt{10}) = 15\sqrt{10}e^{-0.5}$$

$$v(\sqrt{10}) = \frac{15\sqrt{10}}{e^{0.5}}$$

$$v(\sqrt{10}) = \frac{15\sqrt{10}}{\sqrt{e}} \text{ m/s}$$

أجد  $(f \circ g)'(x)$  عند قيمة  $x$  المعطاة في كل مما يأتي :

$$28) f(u) = u^5 + 1, u = g(x) = \sqrt{x}, x = 1$$

$$f'(u) = 5u^4$$

$$f'(u) = 5(\sqrt{1})^4$$

$$g'(x) = \frac{1}{2\sqrt{x}}$$

$$(f \circ g)(x) = f[g(x)] = f[\sqrt{1}]$$

$$(f \circ g)(x) = (\sqrt{x})^5 + 1$$

$$(f \circ g)(x) = x^{\frac{5}{2}} + 1$$

$$(f \circ g)' = \frac{5}{2} x^{\frac{3}{2}}$$

$$(f \circ g)'(x) = f'(u) \times g'(x)$$

$$(f \circ g)'(x) = f'(g(x)) \times g'(x)$$

$$(f \circ g)'(x) = f'(g(1)) \times \frac{1}{2\sqrt{x}}$$

$$(f \circ g)'(1) = f'(1) \times \frac{1}{2\sqrt{1}}$$

$$(f \circ g)'(1) = f'(1) \times \frac{1}{2} = \frac{5}{2}$$

$$29) f(u) = u + \frac{1}{\cos^2 u}, u = g(x) = \pi x, x = \frac{1}{4}$$

$$f(u) = u + \sec^2 u$$

$$f'(u) = 1 + 2 \sec u \sec u \tan u$$

$$f'(u) = 1 + 2 \sec^2 u \tan u$$

$$, u = g(x) = \pi x$$

$$g'(x) = \pi$$

$$(f \circ g)'(x) = f'(u) \times g'(x)$$

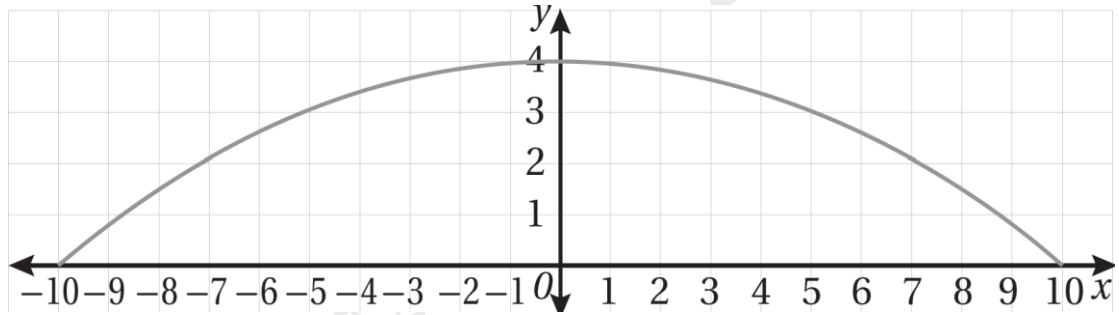
$$(f \circ g)'(x) = f'(g(x)) \times g'(x)$$

$$(f \circ g)'\left(\frac{1}{4}\right) = f'\left(g\left(\frac{1}{4}\right)\right) \times g'\left(\frac{1}{4}\right)$$

$$(f \circ g)'(\frac{1}{4}) = f'\left(\frac{\pi}{4}\right) \times \pi$$

$$(f \circ g)'(\frac{1}{4}) = 5\pi$$

مرور: يبين التمثيل البياني المجاور شكل مطب سرعة صمم للتخفيف من سرعة السيارات على أحد الطرق. وفيه يمثل المحور  $x$  سطح الأرض ، وتقاس جميع الأطوال بالسنتيمترات .



إذا كانت المعادلة الوسيطة التي تمثل منحنى المطب هي:

$$x = 10 \sin t , y = 2 + 2 \cos 2t \text{ ، حيث } -\frac{\pi}{2} \leq t \leq \frac{\pi}{2} \text{ ، فأجد كلا ما يأتي :}$$

(30) ميل المماس لمنحنى المطب بدلالة  $t$  .

$$y = 2 + 2 \cos 2t$$

$$\frac{dy}{dt} = 2(-\sin 2t)(2)$$

$$\frac{dy}{dt} = -4 \sin 2t$$

$$x = 10 \sin t$$

$$\frac{dx}{dt} = 10 \cos t$$

$$\frac{dy}{dx} = \frac{\frac{dy}{dt}}{\frac{dx}{dt}}$$

$$\frac{dy}{dx} = \frac{-4 \sin 2t}{10 \cos t}$$

$$\frac{dy}{dx} = \frac{-2 \sin 2t}{5 \cos t}$$

$$\frac{dy}{dx} = \frac{-4 \sin t \cos t}{5 \cos t}$$

$$\frac{dy}{dx} = -\frac{4 \sin t}{5}$$

$$\sin 2x = 2 \sin x \cos x \quad \text{قاعده}$$

**(31) قيمة  $t$  عند أعلى نقطة على منحنى المطب .**  
 يكون المماس عند أعلى نقطة في المنحنى المعطى أفقياً، إذن ميله يساوي صفر.

$$\frac{dx}{dt} = 0 \rightarrow \sin t = 0 \rightarrow t = 0$$

أو أن قيمة  $x$  عند أعلى نقطة تساوي صفر ، إذن

$$x = 10 \sin t$$

$$10 \sin t = 0$$

$$t = 0$$

أو أن قيمة  $y$  عند أعلى نقطة تساوي 4 ، إذن

$$y = 2 + 2 \cos 2t$$

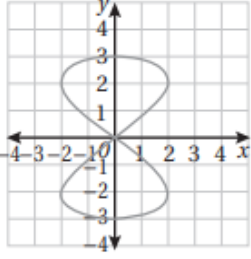
$$2 + 2 \cos 2t = 4$$

$$2 \cos 2t = 2$$

$$\cos 2t = 1$$

$$t = 0$$





32) تبرير: يبين الشكل المجاور منحنى المعادلة الوسيطة:

$$x = 2 \sin 2t, \quad y = 3 \cos t \quad 0 \leq t \leq 2\pi$$

أجد ميل المماس لكل من فرعي المعادلة عند نقطة الأصل، مبرراً إجابتي.

1- الخطوة الأولى: إيجاد النقطة، من السؤال نقطة الأصل وهي:  $(0,0)$

2- الخطوة الثانية: إيجاد ميل المماس

$$y = 3 \cos t$$

$$\frac{dy}{dt} = -3 \sin t$$

$$x = 2 \sin 2t$$

$$\frac{dx}{dt} = 2 \cos 2t \quad (2)$$

$$\frac{dx}{dt} = 4 \cos 2t$$

$$\frac{dy}{dx} = \frac{\frac{dy}{dt}}{\frac{dx}{dt}}$$

$$\frac{dy}{dx} = \frac{-3 \sin t}{4 \cos 2t}$$

$$(x, y) = (0, 0)$$

$$(x, y) = (2 \sin 2t, 3 \cos t)$$

$$2 \sin 2t = 0$$

$$\sin 2t = 0$$

$$t = 0, \frac{\pi}{2}, \pi, \frac{3\pi}{2}, 2\pi$$

$$3 \cos t = 0$$

$$\cos t = 0$$

$$t = \frac{\pi}{2}, \frac{3\pi}{2}$$

يتحقق الشرطان معاً عندما  $t = \frac{\pi}{2}, t = \frac{3\pi}{2}$

$$\left. \frac{dy}{dx} \right|_{t=\frac{\pi}{2}} = \frac{-3 \sin \frac{\pi}{2}}{4 \cos 2 \frac{\pi}{2}}$$

$$\left. \frac{dy}{dx} \right|_{t=\frac{\pi}{2}} = \frac{-3(1)}{4(-1)}$$

$$\left. \frac{dy}{dx} \right|_{t=\frac{\pi}{2}} = \frac{-3}{-4}$$

$$\left. \frac{dy}{dx} \right|_{t=\frac{\pi}{2}} = \frac{3}{4}$$

$$\left. \frac{dy}{dx} \right|_{t=\frac{3\pi}{2}} = \frac{-3 \sin \frac{3\pi}{2}}{4 \cos 2 \frac{3\pi}{2}}$$

$$\left. \frac{dy}{dx} \right|_{t=\frac{3\pi}{2}} = \frac{-3(-1)}{4(-1)}$$

$$\left. \frac{dy}{dx} \right|_{t=\frac{3\pi}{2}} = \frac{3}{-4}$$

$$\left. \frac{dy}{dx} \right|_{t=\frac{3\pi}{2}} = -\frac{3}{4}$$

إذن أحد فرعي المعادلة ميله عند نقطة الاصل  $\frac{3}{4}$ ، والآخر ميله  $-\frac{3}{4}$

## الدرس الرابع

## الاشتقاق الضمني

أجد  $\frac{dy}{dx}$  لكل مما يأتي :

1)  $x^3 y^3 = 144$

$$(x^3) \cdot (3y^2 \frac{dy}{dx}) + (y^3) \cdot (3x^2) = 0$$

$$x^3 3y^2 \frac{dy}{dx} + 3x^2 y^3 = 0$$

$$\frac{3x^3 y^2 dy}{3x^3 y^2 dx} = \frac{-3x^2 y^3}{3x^3 y^2}$$

$$\frac{dy}{dx} = -\frac{y}{x}$$

2)  $xy = \sin(x + y)$

$$(x) \cdot \left(\frac{dy}{dx}\right) + (y) \cdot (1) = \cos(x + y) \left(1 + \frac{dy}{dx}\right)$$

$$x \frac{dy}{dx} + y = \cos(x + y) \left(1 + \frac{dy}{dx}\right)$$

$$x \frac{dy}{dx} + y = \cos(x + y) + \cos(x + y) \frac{dy}{dx}$$

$$x \frac{dy}{dx} - \cos(x + y) \frac{dy}{dx} = \cos(x + y) - y$$

$$\frac{dy (x - \cos(x + y))}{dx (x - \cos(x + y))} = \frac{\cos(x + y) - y}{x - \cos(x + y)}$$

$$\frac{dy}{dx} = \frac{\cos(x + y) - y}{x - \cos(x + y)}$$

$$3) y^4 - y^2 = 10x - 3$$

$$4y^3 \frac{dy}{dx} - 2y \frac{dy}{dx} = 10$$

$$\frac{dy}{dx} (4y^3 - 2y) = 10$$

$$\frac{dy}{dx} = \frac{10}{4y^3 - 2y}$$

$$\frac{dy}{dx} = \frac{5}{2y^3 - y}$$

$$4) x \sin y - y \cos x = 1$$

$$(x) \cdot \left( \cos y \frac{dy}{dx} \right) + (\sin y) \cdot (1) - (y) \cdot (-\sin x) + (\cos x) \cdot \left( \frac{dy}{dx} \right) = 0$$

$$x \cos y \frac{dy}{dx} + \sin y + y \sin x - \cos x \frac{dy}{dx} = 0$$

$$x \cos y \frac{dy}{dx} - \cos x \frac{dy}{dx} = -\sin y - y \sin x$$

$$\frac{dy}{dx} \frac{(x \cos y - \cos x)}{x \cos y - \cos x} = \frac{-\sin y - y \sin x}{x \cos y - \cos x}$$

$$\frac{dy}{dx} = \frac{-\sin y - y \sin x}{x \cos y - \cos x}$$

$$\frac{dy}{dx} = -\frac{\sin y + y \sin x}{x \cos y - \cos x}$$

$$5) \cot y = x - y$$

$$- \csc^2 y \frac{dy}{dx} = 1 - \frac{dy}{dx}$$

$$- \csc^2 y \frac{dy}{dx} + \frac{dy}{dx} = 1$$

$$\frac{dy (1 - \csc^2 y)}{dx (1 - \csc^2 y)} = \frac{1}{1 - \csc^2 y}$$

$$\frac{dy}{dx} = - \frac{1}{\cot^2 y}$$

$$\frac{dy}{dx} = - \tan^2 y$$

$$6) \sqrt{xy} + x + y^2 = 0$$

$$(xy)^{\frac{1}{2}} + x + y^2 = 0$$

$$x \frac{dy}{dx} + y + 1 + 2y \frac{dy}{dx} = 0$$

$$\left[ \frac{x \frac{dy}{dx} + y}{2\sqrt{xy}} + 1 + 2y \frac{dy}{dx} \right] = 0 \quad \frac{2\sqrt{xy}}{1}$$

$$x \frac{dy}{dx} + y + 2\sqrt{xy} + 4y\sqrt{xy} \frac{dy}{dx} = 0$$

$$\frac{dy (x + 4y\sqrt{xy})}{dx (x + 4y\sqrt{xy})} = \frac{-y - 2\sqrt{xy}}{x + 4y\sqrt{xy}}$$

$$\frac{dy}{dx} = - \frac{y + 2\sqrt{xy}}{x + 4y\sqrt{xy}}$$

أجد معادلة المماس لمنحنى كل علاقة مما يأتي عند النقطة المعطاة:

$$7) x^2 + 3xy + y^2 = x + 3y, (2, -1)$$

1- الخطوة الأولى: إيجاد ميل المماس

$$2x + (3x) \cdot \left(\frac{dy}{dx}\right) + (3y) \cdot (1) + 2y \frac{dy}{dx} = 1 + 3 \frac{dy}{dx}$$

$$2x + 3x \frac{dy}{dx} + 3y + 2y \frac{dy}{dx} = 1 + 3 \frac{dy}{dx}$$

$$3x \frac{dy}{dx} + 2y \frac{dy}{dx} - 3 \frac{dy}{dx} = 1 - 2x - 3y$$

$$\frac{dy}{dx} \frac{(3x + 2y - 3)}{3x + 2y - 3} = \frac{1 - 2x - 3y}{3x + 2y - 3}$$

$$\frac{dy}{dx} = \frac{1 + 2x - 3y}{3x + 2y - 3}$$

$$\left. \frac{dy}{dx} \right|_{(2, -1)} = \frac{1 - 2(2) - 3(-1)}{3(2) + 2(-1) - 3}$$

$$= \frac{1 - 4 + 3}{6 - 2 - 3}$$

$$= \frac{0}{1}$$

$$\boxed{\left. \frac{dy}{dx} \right|_{(2, -1)} = 0} \quad \text{ميل المماس}$$

2- الخطوة الثانية: إيجاد معادلة المماس

$$y - y_1 = m(x - x_1) \quad \text{معادلة المماس:}$$

$$y - (-1) = 0(x - 2)$$

$$y + 1 = 0$$

$$\boxed{y = -1} \quad \text{معادلة المماس}$$

$$8) \quad xe^y + y \ln x = 2 \quad , (1, \ln 2)$$

1- الخطوة الأولى: إيجاد ميل المماس

$$\left(x\right) \cdot \left(e^y \frac{dy}{dx}\right) + \left(e^y\right) \cdot (1) + (y) \cdot \left(\frac{1}{x}\right) + (\ln x) \cdot \left(\frac{dy}{dx}\right) = 0$$

$$xe^y \frac{dy}{dx} + e^y + \frac{y}{x} + \ln x \frac{dy}{dx} = 0$$

$$xe^y \frac{dy}{dx} + \ln x \frac{dy}{dx} = -e^y - \frac{y}{x}$$

$$\frac{dy}{dx} (xe^y + \ln x) = -\left(e^y + \frac{y}{x}\right)$$

$$\left[\frac{dy}{dx} (xe^y + \ln x) = -\left(\frac{xe^y + y}{x}\right)\right] \times \frac{1}{(xe^y + \ln x)}$$

$$\frac{dy}{dx} = -\frac{xe^y + y}{x(xe^y + \ln x)}$$

$$\left.\frac{dy}{dx}\right|_{(1, \ln 2)} = -\frac{(1)e^{\ln 2} + \ln 2}{1(1e^{\ln 2} + \ln 1)}$$

$$\left.\frac{dy}{dx}\right|_{(1, \ln 2)} = -\frac{e^{\ln 2} + \ln 2}{(e^{\ln 2} + \ln 1)}$$

$$\left.\frac{dy}{dx}\right|_{(1, \ln 2)} = -\frac{2 + \ln 2}{(2 + 0)}$$

$$\left.\frac{dy}{dx}\right|_{(1, \ln 2)} = -\frac{2 + \ln 2}{2}$$

$$\left.\frac{dy}{dx}\right|_{(1, \ln 2)} = -\frac{2}{2} - \frac{1}{2} \ln 2$$

$$\left.\frac{dy}{dx}\right|_{(1, \ln 2)} = \boxed{-1 - \frac{1}{2} \ln 2}$$

ميل المماس

## 2-الخطوة الثانية: إيجاد معادلة المماس

$$y - y_1 = m(x - x_1) \quad \text{معادلة المماس:}$$

$$y - \ln 2 = \left(-1 - \frac{1}{2} \ln 2\right)(x - 1)$$

$$y = -x + 1 - \frac{1}{2} \ln 2x + \frac{1}{2} \ln 2 + \ln 2$$

$$y = \left(-1 - \frac{1}{2} \ln 2\right)x + 1 + \frac{3}{2} \ln 2$$

$$9) \quad 4xy = 9 \quad , \left(1, \frac{9}{4}\right)$$

## 1-الخطوة الأولى: إيجاد ميل المماس

$$(4x) \cdot \left(\frac{dy}{dx}\right) + (4y) \cdot (1) = 0$$

$$4x \frac{dy}{dx} + 4y = 0$$

$$\frac{4x \frac{dy}{dx}}{4x} = \frac{-4y}{4x}$$

$$\frac{dy}{dx} = -\frac{y}{x}$$

$$\left. \frac{dy}{dx} \right|_{\left(1, \frac{9}{4}\right)} = -\frac{\frac{9}{4}}{1}$$

$$\left. \frac{dy}{dx} \right|_{\left(1, \frac{9}{4}\right)} = \boxed{-\frac{9}{4}}$$



## 2-الخطوة الثانية: إيجاد معادلة المماس

معادلة المماس:  $y - y_1 = m(x - x_1)$ 

$$y - \frac{9}{4} = -\frac{9}{4}(x - 1)$$

$$y - \frac{9}{4} = -\frac{9}{4}x + \frac{9}{4}$$

$$y = -\frac{9}{4}x + \frac{9}{4} + \frac{9}{4}$$

$$y = -\frac{9}{4}x + \frac{18}{4}$$

$y = -\frac{9}{4}x + \frac{9}{2}$	معادلة المماس
-----------------------------------	---------------

$$10) \frac{x^2}{2} + \frac{y^2}{8} = 1, (1, 2)$$

## 1-الخطوة الأولى: إيجاد ميل المماس

$$\frac{1}{2}x^2 + \frac{1}{8}y^2 = 1$$

$$2 \frac{1}{2}x + 2 \frac{1}{8}y \frac{dy}{dx} = 0$$

$$x + \frac{1}{4}y \frac{dy}{dx} = 0$$

$$\left[ \frac{y dy}{4 dx} = -x \right] \times \frac{4}{y}$$

$$\frac{dy}{dx} = -\frac{4x}{y}$$

$$\frac{dy}{dx} \Big|_{(1, 2)} = -\frac{4(1)}{2}$$

$\frac{dy}{dx} \Big _{(1, 2)} = -2$	ميل المماس
-------------------------------------	------------

## 2-الخطوة الثانية: إيجاد معادلة المماس

$$y - y_1 = m(x - x_1) \quad \text{معادلة المماس:}$$

$$y - 2 = -2(x - 1)$$

$$y - 2 = -2x + 2$$

$$y = -2x + 2 + 2$$

$$y = -2x + 4 \quad \text{معادلة المماس}$$

أجد  $\frac{d^2y}{dx^2}$  لكل مما يأتي :

$$11) \quad x^2y - 4x = 5$$

$$(x^2) \cdot \left(\frac{dy}{dx}\right) + (y) \cdot (2x) - 4 = 0$$

$$x^2 \frac{dy}{dx} + 2xy - 4 = 0$$

$$\frac{x^2 dy}{x^2 dx} = \frac{4-2xy}{x^2}$$

$$\frac{dy}{dx} = \frac{4-2xy}{x^2}$$

$$\frac{dy}{dx} = 4x^{-2} - 2yx^{-1}$$

$$\frac{d^2y}{dx^2} = -8x^{-3} - (-2y \cdot -x^{-2}) + (-2x^{-1} \cdot \frac{dy}{dx})$$

$$\frac{d^2y}{dx^2} = -8x^{-3} + 2yx^{-2} - 2x^{-1}(4x^{-2} - 2yx^{-1})$$

$$\frac{d^2y}{dx^2} = -8x^{-3} + 2yx^{-2} - 8x^{-3} + 4yx^{-2}$$

$$\frac{d^2y}{dx^2} = -16x^{-3} + 6yx^{-2}$$

$$\frac{d^2y}{dx^2} = -\frac{16}{x^3} + \frac{6y}{x^2}$$

$$12) \quad x^2 + y^2 = 8$$

$$2x + 2y \frac{dy}{dx} = 0$$

$$2y \frac{dy}{dx} = -2x$$

$$\frac{2y dy}{2y dx} = \frac{-2x}{2y}$$

$$\frac{dy}{dx} = \frac{-x}{y}$$

$$\frac{dy}{dx} = -xy^{-1}$$

$$\frac{d^2y}{dx^2} = \left( -x \cdot -y^{-2} \frac{dy}{dx} \right) + (-y^{-1} \cdot 1)$$

$$\frac{d^2y}{dx^2} = xy^{-2} \frac{dy}{dx} - y^{-1}$$

$$\frac{d^2y}{dx^2} = xy^{-2}(-xy^{-1}) - y^{-1}$$

$$\frac{d^2y}{dx^2} = -x^2y^{-3} - y^{-1}$$

$$\frac{d^2y}{dx^2} = \frac{-x^2}{y^3} - \frac{1}{y}$$

$$\frac{d^2y}{dx^2} = \frac{-x^2}{y^3} - \frac{1 \cdot y^2}{y \cdot y^2}$$

$$\frac{d^2y}{dx^2} = \frac{-x^2}{y^3} - \frac{y^2}{y^3}$$

$$\frac{d^2y}{dx^2} = \frac{-x^2 - y^2}{y^3}$$

$$\frac{d^2y}{dx^2} = -\frac{x^2 + y^2}{y^3}$$

$$\frac{d^2y}{dx^2} = -\frac{8}{y^3}$$

$$13) 2y = x^3$$

$$2y \frac{dy}{dx} = 3x^2$$

$$\frac{2y dy}{2y dx} = \frac{3x^2}{2y}$$

$$\frac{dy}{dx} = \frac{3x^2}{2y}$$

$$\frac{d^2y}{dx^2} = \frac{(2y) \cdot (6x) - (3x^2) \cdot (2 \frac{dy}{dx})}{(2y)^2}$$

$$\frac{d^2y}{dx^2} = \frac{12xy - 6x^2 \frac{dy}{dx}}{4y^2}$$

$$\frac{d^2y}{dx^2} = \frac{12xy - 6x^2 \left( \frac{3x^2}{2y} \right)}{4y^2}$$

$$\frac{d^2y}{dx^2} = \frac{12xy - \frac{9x^4}{y}}{4y^3}$$

$$\frac{d^2y}{dx^2} = \frac{\left[ 12xy - \frac{9x^4}{y} \right] \times \frac{y}{1}}{4y^3}$$

$$\frac{d^2y}{dx^2} = \frac{12xy^2 - 9x^4}{4y^3}$$

14) أجد معادلة المماس لمنحنى الاقتران :  $y = x^{(x^2)}$  عندما  $x = 2$  .

1- الخطوة الأولى: إيجاد النقطة

$$y = x^{(x^2)}$$

$$y = 2^{(2^2)}$$

$$y = 2^{(4)}$$

$$y = 16$$

النقطة  $(2, 16)$

2- الخطوة الثانية: إيجاد ميل المماس

$$\ln y = \ln x^{(x^2)}$$

$$\ln y = x^2 \ln x$$

$$\frac{dy}{dx} = \left( x^2 \cdot \frac{1}{x} \right) + (\ln x \cdot 2x)$$

$$\left[ \frac{dy}{dx} = x + 2x \ln x \right] \times \frac{y}{1}$$

$$\frac{dy}{dx} = xy + 2xy \ln x$$

$$\frac{dy}{dx} \Big|_{(2, 16)} = (2 \times 16) + (2 \times 2 \times 16 \ln 2)$$

$$\frac{dy}{dx} \Big|_{(2, 16)} = \boxed{32 + 64 \ln 2} \text{ ميل المماس}$$

3- الخطوة الثالثة: إيجاد معادلة المماس

$$y - y_1 = m(x - x_1) \quad \text{معادلة المماس:}$$

$$y - 16 = 32 + 64 \ln 2 (x - 2)$$

(15) أجد معادلة العمودي على المماس لمنحنى العلاقة :  $(x + y)^3 = x^2 + y$  عند النقطة  $(1, 0)$

1- الخطوة الأولى: إيجاد ميل المماس

$$(x + y)^3 = x^2 + y$$

$$3(x + y)^2 \left(1 + \frac{dy}{dx}\right) = 2x + \frac{dy}{dx}$$

$$3(1 + 0)^2 \left(1 + \frac{dy}{dx}\right) = 2(1) + \frac{dy}{dx}$$

$$3 \left(1 + \frac{dy}{dx}\right) = 2 + \frac{dy}{dx}$$

$$3 + 3 \frac{dy}{dx} = 2 + \frac{dy}{dx}$$

$$3 \frac{dy}{dx} - \frac{dy}{dx} = 2 - 3$$

$$\frac{2 dy}{2 dx} = \frac{-1}{2}$$

$$\boxed{\frac{dy}{dx} = \frac{-1}{2}} \quad \text{ميل المماس}$$

بما أن ميل المماس هو  $\frac{-1}{2}$  فإن ميل العمودي على المماس هو (- مقلوب ميل المماس)  $2 =$

معادلة العمودي على المماس:  $y - y_1 = m_1(x - x_1)$

$$y - 0 = 2(x - 1)$$

$$y = 2x - 2$$

16) أجد معادلة المماس لمنحنى الاقتران :  $y = x (\ln x)^x$  عندما  $x = e$  .

1- الخطوة الاولى إيجاد النقطة

$$y = x (\ln x)^x$$

$$y = e (\ln e)^e$$

$$y = e(1)^e$$

$$y = e$$

$$(e, e) \text{ النقطة}$$

2- الخطوة الثانية إيجاد ميل المماس

$$y = x (\ln x)^x$$

$$\ln y = \ln(x (\ln x)^x)$$

$$\frac{dy}{dx} = \frac{1}{x} + x \times \frac{1}{\ln x} + \ln x$$

$$\frac{dy}{dx} = \frac{1}{x} + \frac{1}{\ln x} + \ln(\ln x)$$

$$\left[ \frac{dy}{dx} = \frac{1}{x} + \frac{1}{\ln x} + \ln(\ln x) \right] \times \frac{y}{1}$$

$$\frac{dy}{dx} = \frac{y}{x} + \frac{y}{\ln x} + y \ln(\ln x)$$

$$\frac{dy}{dx} \Big|_{(e, e)} = \frac{e}{e} + \frac{e}{\ln e} + e \ln(\ln e)$$

$$\frac{dy}{dx} \Big|_{(e, e)} = 1 + \frac{e}{1} + e \ln(1)$$

$$\frac{dy}{dx} \Big|_{(e, e)} = 1 + e + 0$$

$$\frac{dy}{dx} \Big|_{(e, e)} = 1 + e \quad \text{ميل المماس}$$

## 3- الخطوة الثالثة إيجاد معادلة المماس

$$y - y_1 = m(x - x_1) \quad \text{معادلة المماس:}$$

$$y - e = (1 + e)(x - e)$$

$$y - e = 1(x - e) + e(x - e)$$

$$y - e = x - e + ex - e^2$$

$$y = x - e + ex - e^2 + e$$

$$y = x + ex - e^2$$

$$\boxed{y = (1 + e)x - e^2} \quad \text{معادلة المماس}$$

أجد مشتقة كل من الافتراضات الآتية باستعمال الاشتقاق اللوغاريتمي :

$$17) y = (x - 2)^{x+1}$$

$$\ln y = (x + 1)\ln(x - 2)$$

$$\frac{dy}{dx} = (x + 1) \times \left(\frac{1}{x - 2}\right) + \ln(x - 2)(1)$$

$$\left[ \frac{dy}{dx} = \frac{(x + 1)}{x - 2} + \ln(x - 2) \right] \times \frac{y}{1}$$

$$\frac{dy}{dx} = \frac{y(x + 1)}{x - 2} + y\ln(x - 2)$$

$$\frac{dy}{dx} = \frac{(x - 2)^{x+1}(x + 1)}{x - 2} + (x - 2)^{x+1}\ln(x - 2)$$

$$\frac{dy}{dx} = \frac{(x - 2)(x - 2)^x(x + 1)}{x - 2} + (x - 2)^{x+1}\ln(x - 2)$$

$$\frac{dy}{dx} = (x - 2)^x(x + 1) + (x - 2)^{x+1}\ln(x - 2)$$



$$18) y = \frac{x^{10}\sqrt{x^2+5}}{\sqrt[3]{8x^2+2}}$$

$$y = \frac{x^{10}(x^2+5)^{\frac{1}{2}}}{(8x^2+2)^{\frac{1}{3}}}$$

$$\ln y = 10 \ln x + \frac{1}{2} \ln(x^2+5) - \frac{1}{3} \ln(8x^2+2)$$

$$\frac{dy}{dx} = 10 \cdot \frac{1}{x} + \frac{1}{2} \cdot \frac{2x}{x^2+5} - \frac{1}{3} \cdot \frac{16x}{(8x^2+2)}$$

$$\frac{dy}{dx} = \frac{10}{x} + \frac{x}{x^2+5} - \frac{16x}{3(8x^2+1)}$$

$$\left[ \frac{dy}{dx} = \frac{10}{x} + \frac{x}{x^2+5} - \frac{16x}{3(8x^2+1)} \right] \times \frac{y}{1}$$

$$\frac{dy}{dx} = y \left( \frac{10}{x} + \frac{x}{x^2+5} - \frac{16x}{3(8x^2+1)} \right)$$

$$\frac{dy}{dx} = \frac{x^{10}\sqrt{x^2+5}}{\sqrt[3]{8x^2+2}} \left( \frac{10}{x} + \frac{x}{x^2+5} - \frac{16x}{3(8x^2+1)} \right)$$

$$19) y = (\cos x)^x$$

$$\ln y = x \ln(\cos x)$$

$$\frac{dy}{dx} = (x) \left( \frac{-\sin x}{\cos x} \right) + \ln(\cos x)(1)$$

$$\frac{dy}{dx} = (x) \left( \frac{-\sin x}{\cos x} \right) + \ln(\cos x)(1)$$

$$\left[ \frac{dy}{dx} = (x)(-\tan x) + \ln(\cos x) \right] \times \frac{y}{1}$$

$$\frac{dy}{dx} = y(x)(-\tan x) + y \ln(\cos x)$$

$$\frac{dy}{dx} = (\cos x)^x (x)(-\tan x) + (\cos x)^x \ln(\cos x)$$

$$\frac{dy}{dx} = (\cos x)^x (-x \tan x) + (\cos x)^x \ln(\cos x)$$

$$\frac{dy}{dx} = (\cos x)^x (-x \tan x + \ln(\cos x))$$

(20) أجد معادلتني مماس منحنى العلاقة :  $\frac{x^2}{4} + \frac{y^2}{9} = 1$  اللذين يمران بالنقطة  $(4, 0)$ .

$$\frac{x^2}{4} + \frac{y^2}{9} = 1$$

$$\frac{1}{4}x^2 + \frac{1}{9}y^2 = 1$$

$$\frac{1}{4}2x + \frac{1}{9}2y \frac{dy}{dx} = 0$$

$$\frac{2}{4}x + \frac{2}{9}y \frac{dy}{dx} = 0$$

$$\frac{1}{2}x + \frac{2}{9}y \frac{dy}{dx} = 0$$

$$\frac{2}{9}y \frac{dy}{dx} = -\frac{1}{2}x$$

$$\left[ \frac{2y}{9} \frac{dy}{dx} = -\frac{x}{2} \right] \times \frac{9}{2y}$$

$$\frac{dy}{dx} = -\frac{9x}{4y}$$

ميل المماس يساوي

$$\frac{y - y_1}{x - x_1} = m$$

$$\frac{y - 0}{x - 4} = -\frac{9x}{4y}$$

$$4y^2 = 36x - 9x^2$$

بضرب طرفي معادلة المنحنى في 36 نجد أن:

$$\left[ \frac{x^2}{4} + \frac{y^2}{9} = 1 \right] \times 36$$

$$9x^2 + 4y^2 = 36$$

$$4y^2 = 36 - 9x^2$$

$$36x - 9x^2 = 36 - 9x^2$$

$$36x = 36 - 9x^2 + 9x^2$$

$$36x = 36$$

$$\boxed{x = 1}$$

نعوض قيمة  $x = 1$  في المعادلة  $4y^2 = 36 - 9x^2$  لإيجاد قيم  $y$ 

$$\sqrt{4y^2} = \pm \sqrt{36 - 9x^2}$$

$$\frac{2y}{2} = \pm \frac{\sqrt{36 - 9x^2}}{2}$$

$$\boxed{y = \pm \frac{\sqrt{36 - 9x^2}}{2}}$$

$$\sqrt{4y^2} = \pm \sqrt{36x - 9x^2}$$

$$\frac{2y}{2} = \pm \frac{\sqrt{36x - 9x^2}}{2}$$

$$y = \pm \frac{\sqrt{36x - 9x^2}}{2}$$

$$y = \pm \frac{\sqrt{36 - 9x^2}}{2} = \pm \frac{\sqrt{36x - 9x^2}}{2}$$

$$y = \pm \frac{\sqrt{36 - 9(1)^2}}{2} = \pm \frac{\sqrt{36(1) - 9(1)^2}}{2}$$

$$y = \pm \frac{\sqrt{27}}{2} = \pm \frac{\sqrt{27}}{2}$$

$$y = \pm \frac{\sqrt{(9)(3)}}{2} = \pm \frac{\sqrt{(9)(3)}}{2}$$

$$y = \pm \frac{3\sqrt{3}}{2} = \pm \frac{3\sqrt{3}}{2}$$

$$y = \pm \frac{3\sqrt{3}}{2}$$

النقطتان هما :  $(1, -\frac{3\sqrt{3}}{2})$ ,  $(1, \frac{3\sqrt{3}}{2})$

$$\frac{dy}{dx} \Big|_{(1, -\frac{3\sqrt{3}}{2})} = -\frac{9x}{4y}$$

$$\frac{dy}{dx} \Big|_{(1, -\frac{3\sqrt{3}}{2})} = -\frac{(9)(1)}{-(4)(\frac{3\sqrt{3}}{2})}$$

$$\frac{dy}{dx} \Big|_{(1, -\frac{3\sqrt{3}}{2})} = \frac{9}{(\frac{12\sqrt{3}}{2})}$$

$$\frac{dy}{dx} \Big|_{\left(1, \frac{3\sqrt{3}}{2}\right)} = \frac{9}{6\sqrt{3}}$$

$$\frac{dy}{dx} \Big|_{\left(1, \frac{3\sqrt{3}}{2}\right)} = \frac{3}{2\sqrt{3}} \cdot \frac{\sqrt{3}}{\sqrt{3}}$$

$$\frac{dy}{dx} \Big|_{\left(1, \frac{3\sqrt{3}}{2}\right)} = \frac{3\sqrt{3}}{2 \cdot 3}$$

$$\boxed{\frac{dy}{dx} \Big|_{\left(1, \frac{3\sqrt{3}}{2}\right)} = \frac{\sqrt{3}}{2}}$$

$$\frac{dy}{dx} \Big|_{\left(1, \frac{3\sqrt{3}}{2}\right)} = -\frac{9x}{4y}$$

$$\frac{dy}{dx} \Big|_{\left(1, \frac{3\sqrt{3}}{2}\right)} = -\frac{(9)(1)}{(4)\left(\frac{3\sqrt{3}}{2}\right)}$$

$$\frac{dy}{dx} \Big|_{\left(1, \frac{3\sqrt{3}}{2}\right)} = -\frac{9}{\left(\frac{12\sqrt{3}}{2}\right)}$$

$$\frac{dy}{dx} \Big|_{\left(1, \frac{3\sqrt{3}}{2}\right)} = -\frac{9}{6\sqrt{3}}$$

$$\frac{dy}{dx} \Big|_{\left(1, \frac{3\sqrt{3}}{2}\right)} = -\frac{3}{2\sqrt{3}} \cdot \frac{\sqrt{3}}{\sqrt{3}}$$

$$\frac{dy}{dx} \Big|_{\left(1, \frac{3\sqrt{3}}{2}\right)} = -\frac{3\sqrt{3}}{2 \cdot 3}$$

$$\boxed{\frac{dy}{dx} \Big|_{\left(1, \frac{3\sqrt{3}}{2}\right)} = -\frac{\sqrt{3}}{2}}$$

معادلة المماس الأول:

$$y - y_1 = m(x - x_1)$$

$$y - 0 = \frac{\sqrt{3}}{2}(x - 4)$$

$$y = \frac{\sqrt{3}}{2}x - \frac{\sqrt{3}}{2}(4)$$

$$y = \frac{\sqrt{3}}{2}x - 2\sqrt{3}$$

معادلة المماس الثاني:

$$y - y_1 = m(x - x_1)$$

$$y - 0 = -\frac{\sqrt{3}}{2}(x - 4)$$

$$y = -\frac{\sqrt{3}}{2}x + \frac{\sqrt{3}}{2}(4)$$

$$y = -\frac{\sqrt{3}}{2}x + 2\sqrt{3}$$

**(21) أجد نقطتي تقاطع منحنى العلاقة :  $x^2 + xy + y^2 = 7$  مع المحور  $x$  ، ثم أثبت أن مماسي منحنى العلاقة عند هاتين النقطتين متوازيان .**

الخطوة الأولى: إيجاد النقطة أو النقاط

حيث ان تقاطع منحنى العلاقة مع المحور  $x$  بالتالي  $y = 0$

بتعويض  $y = 0$  لإيجاد قيمة  $x$

$$x^2 + xy + y^2 = 7$$

$$x^2 + x(0) + (0)^2 = 7$$

$$\sqrt{x^2} = \sqrt{7} \quad \boxed{x = \pm\sqrt{7}}$$

النقطتان هما :  $(\sqrt{7}, 0), (-\sqrt{7}, 0)$

الخطوة الثانية: ايجاد الميل

$$x^2 + xy + y^2 = 7$$

$$2x + (x) \left( \frac{dy}{dx} \right) + (y)(1) + 2y \frac{dy}{dx} = 0$$

$$2x + x \frac{dy}{dx} + y + 2y \frac{dy}{dx} = 0$$

$$x \frac{dy}{dx} + 2y \frac{dy}{dx} = -2x - y$$

$$\frac{dy}{dx} \left( \frac{x + 2y}{x + 2y} \right) = - \frac{2x + y}{x + 2y}$$

$$\frac{dy}{dx} = - \frac{2x + y}{x + 2y}$$

$$\frac{dy}{dx} \Big|_{(\sqrt{7}, 0)} = - \frac{2\sqrt{7} + 0}{\sqrt{7} + 2(0)}$$

$$\frac{dy}{dx} \Big|_{(\sqrt{7}, 0)} = - \frac{2\sqrt{7}}{\sqrt{7}} \boxed{= -2}$$

$$\frac{dy}{dx} \Big|_{(-\sqrt{7}, 0)} = - \frac{-2\sqrt{7} + 0}{-\sqrt{7} + 2(0)}$$

$$\frac{dy}{dx} \Big|_{(\sqrt{7}, 0)} = - \frac{-2\sqrt{7}}{-\sqrt{7}} \boxed{= -2}$$

ميلا المماس متساويان ، إذن هذان المماسان متوازيان .