

العلامة —
15

بسم الله الرحمن الرحيم
وزارة التربية والتعليم
مديرية تربية لواء قصبة مادبا
رياض ومدارس الأخلاء التربوية
اختبار الشهر الثاني للفصل الدراسي
الثاني للعام الدراسي 2022/2021م
المبحث: (الرياضيات)




اليوم:
التاريخ:/...../2022م

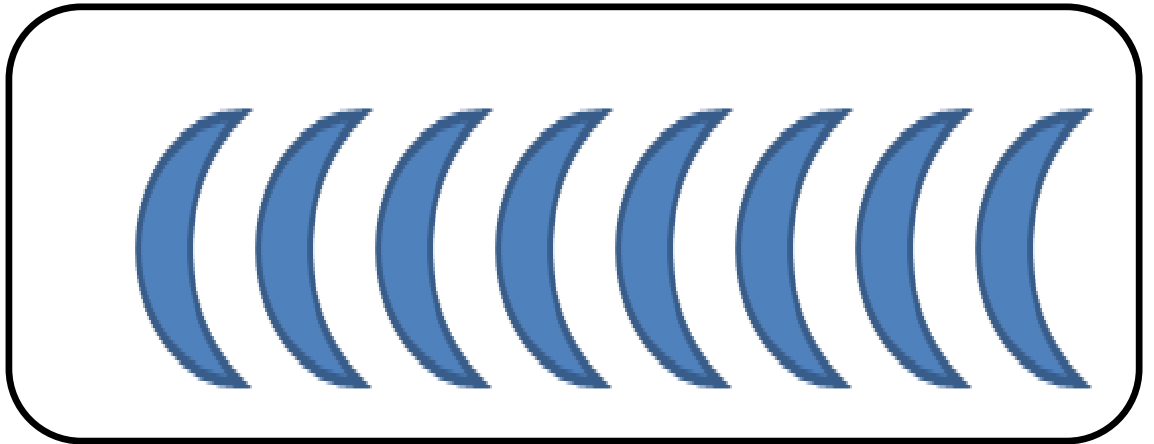
اسم الطالب:
الصف: (الثاني) / الشعبة: ()

رقم السؤال	1	2	3	4	5	المجموع	التوقيع
علامة السؤال	1	4	2	4	4	15	
علامة الطالب							

السؤال الأول: قسم إلى مجموعات متساوية : (علامة)
أ- كم مجموعة خماسية في 15 ؟




ب- كم مجموعة ثنائية في 8 ؟



السؤال الثاني : استعمل الطرح المتكرر لأجد ناتج القسمة (4 علامات) :

$$أ- 20 - 5 = \underline{\quad}$$

$$\begin{array}{r} \underline{\quad} - \underline{\quad} = \underline{\quad} \\ \underline{\quad} - \underline{\quad} = \underline{\quad} \\ \underline{\quad} - \underline{\quad} = \underline{\quad} \end{array}$$



$$20 \div 5 = \underline{\quad}$$

$$ب- 8 - 2 = \underline{\quad}$$

$$\begin{array}{r} \underline{\quad} - \underline{\quad} = \underline{\quad} \\ \underline{\quad} - \underline{\quad} = \underline{\quad} \\ \underline{\quad} - \underline{\quad} = \underline{\quad} \end{array}$$



$$8 \div 2 = \underline{\quad}$$

السؤال الثالث : لون حقيقتي الضرب و القسمة المترابطتين باللون نفسه : (علامتان)

$$4 \times 2 = 8$$

$$5 \times 3 = 15$$

$$5 \times 2 = 10$$

$$4 \times 3 = 12$$

$$15 \div 3 = 5$$

$$8 \div 2 = 4$$

$$10 \div 2 = 5$$

$$12 \div 4 = 3$$


السؤال الرابع: اكتب حقيقة مرتبطة بحقيقة الضرب : (4 علامات)

أ - $5 \times 3 = 15$

○ ÷ ○ = ○

ب - $4 \times 3 = 12$

○ ÷ ○ = ○



السؤال الخامس: جد ناتج القسمة فيما يلي : (4 علامات)

$8 \div 2 = \underline{\quad}$

$4 \div 2 = \underline{\quad}$

$25 \div 5 = \underline{\quad}$


$5 \div 5 = \underline{\quad}$

$20 \div 4 = \underline{\quad}$

$3 \div 3 = \underline{\quad}$

$20 \div 5 = \underline{\quad}$

$30 \div 5 = \underline{\quad}$



معلمات الصف الثاني

أجب عن هذا السؤال لتحصل على علامة اضافية أيها البطل أيتها البطلة:

مالعدد الذي ضربته ب 5 يعطيني الناتج
40 ؟
