

ملاحظة : عدد الأسئلة 6 و عدد الصفحات 3 و الإجابة على نفس الورقة

السؤال الأول: اختر الإجابة الصحيحة مما يلي بوضع علامة (√) أمام الاختيار المناسب :

نشأت شبكة الإنترنت في بدايتها	2	يستخدم مفتاح الحذف Delete في برمجية الورد ل	1
من شبكة مخصصة لأغراض العسكرية	أ-	حذف المؤشر	أ-
من شبكة خاصة لأحد الأشخاص	ب-	حذف الحرف الموجود خلف المؤشر	ب-
من شبكة تملها ،حدى الشركات	ج-	حذف الحرف الموجود أمام المؤشر	ج-
من شبكة أنشأها مجموعة من الطلاب	د-	تحديث نظام التشغيل	د-
مفتاح Home في برمجية الورد يستخدم	4	من طرائق الإتصال بالإنترنت	3
للانتقال إلى نهاية السطر الحالي	أ-	تنزيل البرمجيات	أ-
للانتقال إلى بداية السطر الحالي	ب-	التجارة الإلكترونية	ب-
للانتقال شاشة إلى أسفل	ج-	عن طريق إشارات الراديو	ج-
للانتقال شاشة إلى أعلى	د-	الإتصال بالإنترنت عن طريق خط الهاتف العادي	د-
في صفحة الإنترنت :	6	الجدول في برنامج معالج النصوص هو	5
لكي نتمكن من البحث عن كلمة معينة داخل الصفحة لا بد من تنزيل برمجيات خاصة	أ-	مجموعة من الصفوف والأعمدة المتقاطعة التي تشكل مجموعة من الخلايا.	أ-
يمكننا البحث ولكن في متصفح واحد فقط	ب-	مجموعة من الأعمدة	ب-
لا يمكننا البحث عن كلمة معينة داخل الصفحة	ج-	مجموعة من الصفوف	ج-
يمكننا البحث عن كلمة معينة داخل الصفحة	د-	لا شيء مما ذكر	د-
مفاتيح ( Ctrl + Shift ) في برمجية الورد يُستخدم	8	من شروط وجود الموقع على شبكة الإنترنت :	7

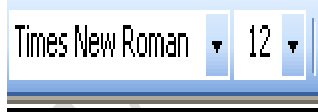




<u>طباعة الأحرف الإنجليزية بالأحرف الكبيرة</u>	أ-	<u>أن يكون فريدا</u>	أ-
<u>لتغيير اتجاه الكتابة</u>	ب-	<u>أن لا يتطابق عنوانان لموقعين مختلفين</u>	ب-
<u>لتحويل لغة الكتابة</u>	ج-	<u>أن يكون إسما مميزا عن باقي المواقع</u>	ج-
<u>للانتقال شاشة إلى الأعلى</u>	د-	<u>جميع ما ذكر</u>	د-
<u>أحد هذه الأنواع ليست من أنواع التعداد الرقمي:</u>		<u>الحقل الأول في الموقع</u> <a href="http://www.moe.gov.io">http://www.moe.gov.io</a>	9
( أ . ب . ج )	أ-	<u>إسم الموقع</u>	أ-
( 3 . 2 . 1 )	ب-	<u>رمز نوع الموقع</u>	ب-
( A . B . C )	ج-	<u>بروتوكول الإنترنت</u>	ج-
( * . * . * )	د-	<u>رمز الدولة</u>	د-

السؤال الثاني :- ضع المصطلح المناسب امام كل عبارة من التالية

<u>1- هي وسيلة للتواصل بين الاشخاص مباشرة عبر شبكة الانترنت .</u>	
<u>2- تقوم بتوفير إمكانية الربط على الانترنت مقابل اجر مادي عن طريق الاشتراك بها لساعات شهرية او سنوية</u>	
<u>3- هو اظهاره بشكل جميل ممتع للنظر , وذلك باختيار النوع والنمط المناسب حتى تتم قراءته بسهولة</u>	
<u>4- مجموعة من القواعد التي تتحكم بالاتصال وتبادل المعلومات بين أجهزة الحاسوب المرتبطة على الشبكة</u>	
<u>5- مجموعة من الصور والرسومات الجاهزة المصنفة حسب موضوعاتها وهي موجودة ضمن برنامج (Word)</u>	

5

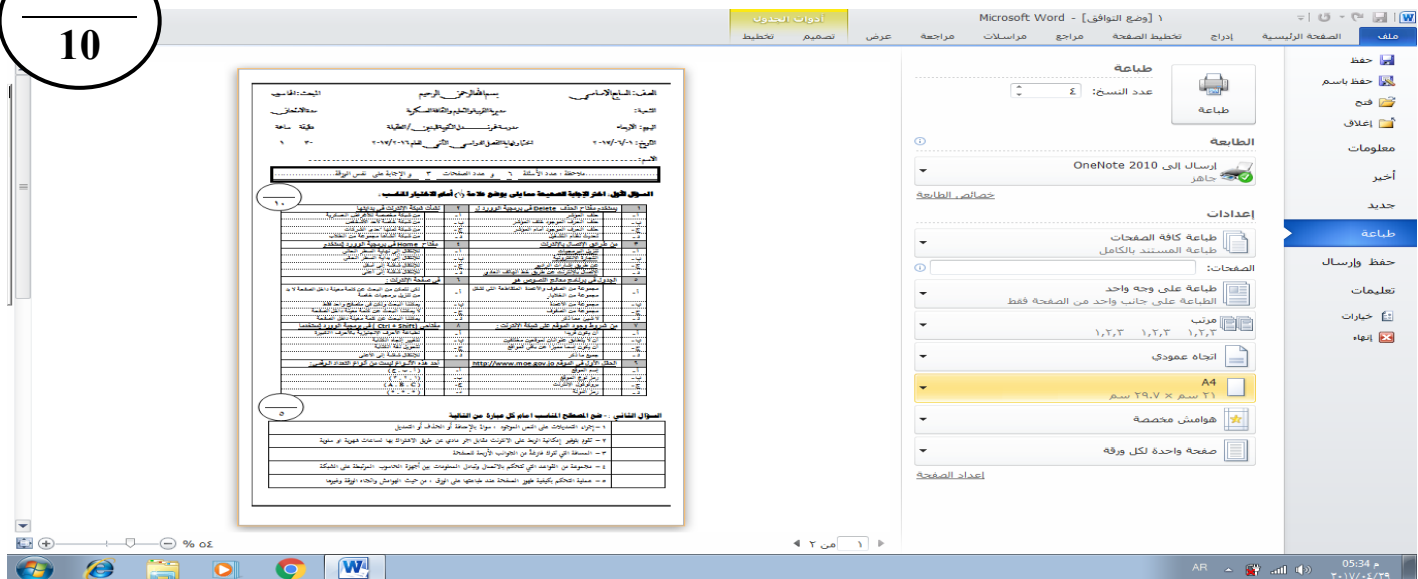
السؤال الثالث :- ما وظيفة كل من الادوات التالية:

					<u>الأداة</u>
					<u>الوظيفة</u>

5

**السؤال الرابع :- تأمل الشكل التي , ثم اجب عن الأسئلة التي تليه :**

10



**ما العملية التي قيد التنفيذ؟**

(2) .....

**ما اسم صندوق الحوار**

(2) .....

**كم عدد النسخ المطلوب طباعتها**

(2) .....

**ما اتجاه الصفحات المطلوب طباعتها**

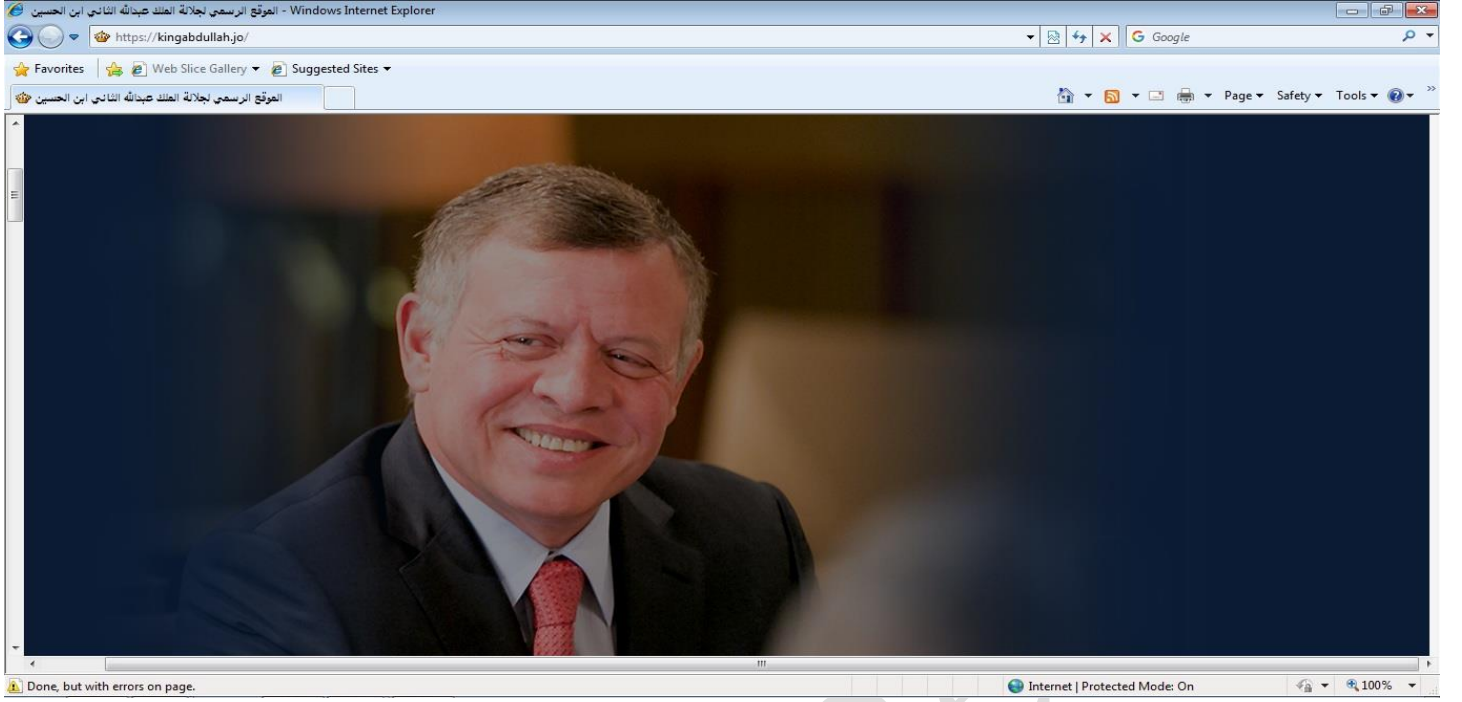
(2) .....

**ما حجم الورق المستخدم في الطباعة**

(2) .....

www.awaal.com

السؤال الخامس: تأمل الشكل التالي ثم أجب عن الاسئلة التي تليه:



ما هو البرنامج الذي نستخدمه

الآن؟..... (2)

ما هو عنوان الموقع الذي أمامك

الآن؟..... (2)

أذكر عنوان واحد لأشهر محركات

البحث؟..... (2)

أذكر واحدة من أخلاقيات التعامل مع شبكة

الانترنت؟..... (2)

ما هي طريقة حفظ الصورة الموجودة

بالموقع؟..... (2)

WWW.AWA22