

مدارس الإيمان الإسلامية  
ورقة عمل " 1 " في مادة الرياضيات  
للصف الرابع

س<sup>1</sup> : اكتب العدد (389102) بالصيغتين

اللفظية :

التحليلية :

س<sup>2</sup> : اكتب العدد ( سبعون ألفاً وثمانئة )  
بالصيغتين :

القياسية :


التحليلية :

س<sup>3</sup> : اكتب العدد (  $70000 + 300 + 50 + 9$  )  
بالصيغة القياسية


رابع ... تابع ورقة « ا »

س٤ : ما القيمة الترتيبية للرقم « 6 » :

654000 \*




36921 \*



4690 \*



16231 \*



س٥ : اكتب عدداً من ست منازل

بحيث يكون آحاده 5  
آحاد ألوفه 5

واقمله على لوحة المنازل

دورة الألوف

دورة الآحاد

آحاد	عشرون	مئات	آحاد	عشرون	مئات

فيسبوك

مدارس الإيمان الإسلامية  
ورقة عمل " 2 " نبي مادة الرياضيات  
للمصف الرابع

س<sup>1</sup>: اكتب مايلي بالصيغة القياسية :-

← (أ)  $500000 + 30000 + 600 + 7$

(ب) سبعون ألفاً وسبعمئة وواحد ←

← (ج)  $400000 + 50$

(د) ستمئة ألف وتسعة ←

س<sup>2</sup>: اكتب مايلي بالصيغة اللفظية :-

← (أ)  $303030$

← (ب)  $900000 + 6000 + 7$

« اكتب بالصيغة القياسية ثم اللفظية »

← (ج)  $900009$

← (د)  $705001$



رابع ... تابع ورقة " 2 "

س: أصل العدد (165043) على لوحة  
المنازل  
ثم أجد القيمة المنزلية لكل رقم فيه .

دورة الألوف			دورة الآحاد		
مئات	عشرات	آحاد	مئات	عشرات	آحاد

الرقم " 3 " يقع في منزلة  
وقيمته المنزلية

الرقم " 4 " يقع في منزلة  
وقيمته المنزلية

الرقم " 0 " يقع في منزلة  
وقيمته المنزلية

الرقم " 5 " يقع في منزلة  
وقيمته المنزلية

الرقم " 6 " يقع في منزلة  
وقيمته المنزلية

الرقم " 1 " يقع في منزلة  
وقيمته المنزلية

مدارس الإيمان الإسلامية  
ورقة عمل « 4 » في مادة الرياضيات  
للمصف الرابع ♥

س 1 : - تشارك « 3 » أشخاص في مشروع تجاري ،  
ودفعوا المبالغ المبينة  
في الجدول :

المبلغ	الشخص
27209	أحمد
43710	محمد
32000	عمر

اعتمد على الجدول في الإجابة  
عنايبي :-

أ - اكتب المبلغ الذي دفعه أحمد بالصيغة اللفظية :

ب - اكتب المبلغ الذي دفعه عمر بالصيغة التحليلية :

ج - من الشخص الذي دفع أكبر مبلغ ؟

د - رتب المبالغ المدفوعة تنازلياً ؟

هـ - قرّب المبلغ الذي دفعه عمر لأقرب 10000

و - قدر مجموع المبلغ الذي دفعه عمر ومحمد  
لأقرب 10000

ز - ما المبلغ الذي دفعه الأشخاص الثلاثة ؟

رابع ... تابع ورقة " 4 "

س<sup>2</sup> : أقدّر الناتج ( التقريب إلى أقرب ألف ) :

1 75671 - 23137 .

2 495310 + 12928

س<sup>3</sup> :- جد ناتج مايلي :-

1 347529  
+ 290631

2 777666  
+ 123123

3 465329 + 12963 =

س<sup>4</sup> : ضع العدد المناسب في □ :

3 □ 5 7 □ 2  
+ □ 5 1 □ 9 6  
-----  
5 9 □ 0 3 8

مكرونة

روز



مدارس الامان الاسلاميه  
ورقة عمل «3» في مادة الرياضيات  
للمصف الرابع ♥

س<sup>1</sup>: أضع إشارة < أو > أو = في □ :

790306 □ 793006 (أ)

500 مئة □ 50 ألف (ب)

321740 □ 89365 (ج)

س<sup>2</sup>: أرتب الأعداد الآتية تصاعدياً :

246352 / 9763 / 12345 / 23456

س<sup>3</sup>: أرتب الأعداد الآتية تنازلياً :

13076 / 75210 / 92613 / 43756

رابع ... تابع ورقة « 3 »

س٤ : أَقْرَب الأعداد التالية حسب المنزلة التي تحتها خط =

أ) 37965 ←

ب) 48931 ←

ج) 398720 ←

س٥ : - قَرِّب جِئَا العدد (39274) إِلَى

39000 . مَا المنزلة التي قَرِّب إِلَيْهَا؟

LEARN 2 BE

س٦ : - اكتشف الخطأ وأصوبه :

تَقْرِب العدد 395210 لِأَقْرَب عَشْرَةِ آلاف

هو : 310,0000 ؟

فيسون