

أكاديمية

زبدان

للتعليم والتدريب
الإلكتروني

الفيزياء خطوة خطوة

مكثف ٢٠٥ للفصلين
الأول و الثاني



أ. زيدان محمود

تم التحميل من موقع الأونل التعليمي www.awa2el.net



رقم الحصة	عنوان الحصة	الصفحة
الوحدة الأولى: الزخم الخطي والتصادمات.		
1	الزخم الخطي	2
2	مبرهنة الزخم الخطي – الدفع والمساحة تحت منحني القوة والزمن	4
3	حفظ الزخم الخطي	9
4	التصادمات	13
الوحدة الثانية: الحركة الدورانية		
5	العزم وعزم الإزدواج	18
6	الإتزان ومركز الكتلة	22
7	الحركة الدورانية	25
8	عزم القصور الذاتي وقانون نيوتن الثاني في الحركة الدورانية	29
9	الطاقة الحركية الدورانية والزخم الزاوي وحفظه	31
الوحدة الثالثة: التيار الكهربائي		
10	التيار الكهربائي والمقاومة الكهربائية	35
11	القوة الدافعة الكهربائية	38
12	القدرة الكهربائية والدارة الكهربائية البسيطة	40
13	توصيل المقاومات	44
14	قاعدتا كيرشوف	47
الوحدة الرابعة: المجال المغناطيسي		
15	المجال المغناطيسي القوة المغناطيسية المؤثرة على شحنة متحركة في مجال مغناطيسي	54
16	الحركة الدائرية لجسيم مشحون في مجال مغناطيسي منتظم	57
17	القوة المؤثرة في موصل يحمل تيارا في مجال مغناطيسي	59
18	المغناطيس الكهربائي (سلك مستقيم، ملف دائري، ملف لولبي) الجزء 1	62
19	المغناطيس الكهربائي (سلك مستقيم، ملف دائري، ملف لولبي) الجزء 2	67
الوحدة الخامسة: الحث الكهرومغناطيسي		
20	التدفق المغناطيسي والحث الكهرومغناطيسي وقانون لنز	71
21	الحث المتبادل والمحول الكهربائي	77
22	التيار الكهربائي المتردد ودارات التيار الكهربائي المتردد البسيطة	79
23	المعاوقة	83
24	المواد الموصلة والعازلة وشبه الموصلة والدايود والترانزستور	86
الوحدة السادسة: الفيزياء الحديثة		
25	الحاجة إلى الفيزياء الحديثة	90
26	الظاهرة الكهروضوئية	93
27	ظاهرة كومبتون	100
28	نموذج بور لذرة الهيدروجين والأطياف الذرية	101
29	الطبيعة الموجية – الجسيمية	106
الوحدة السابعة: الفيزياء النووية		
30	بنية الذرة ونطاق الاستقرار	108
31	طاقة الربط النووية	111
32	الاضمحلال النووي	114
33	النشاطية الإشعاعية	116
34	التفاعل النووي والمفاعل النووي	119
اختبارات على الفصل الدراسي الأول والثاني وكامل المنهج (150 سؤال)		

حصّة رقم 1: الزخم الخطي

1	حاصل ضرب كتلة جسم في سرعته:	أ	الطاقة الحركية	ب	القوة	ج	الدفع	د	الزخم
2	يعتمد الزخم الخطي لجسم على:	أ	كتلته فقط.	ب	سرعته المتجهة فقط.	ج	كتلته وسرعته المتجهة	د	وزنه وتسارع السقوط الحر.
3	وحدة قياس الزخم الخطي حسب النظام الدولي للوحدات، هي:	أ	$N \cdot m/s$	ب	$kg \cdot m^2/s$	ج	N/s	د	$kg \cdot m/s$
4	اتجاه الزخم يكون دوماً باتجاه	أ	السرعة المتجهة	ب	القوة	ج	التسارع	د	تغير الزخم
5	كلما قلت سرعة الجسم فإن زخمه:	أ	يقل	ب	ثابت	ج	يزداد	د	لا يمكن التنبؤ
6	يتحرك جسم كتلته (10 kg) أفقيًا بسرعة ثابتة (5 m/s) شرقًا. إن مقدار الزخم الخطي لهذا الجسم واتجاهه هو:	أ	$0.5 \text{ kg} \cdot \text{m/s}$ شرقًا.	ب	$50 \text{ kg} \cdot \text{m/s}$ غربًا.	ج	$2 \text{ kg} \cdot \text{m/s}$ غربًا.	د	$50 \text{ kg} \cdot \text{m/s}$ شرقًا.
7	تتحرك سيارة شمالاً بسرعة ثابتة؛ بحيث كان زخمها الخطي يساوي ($9 \times 10^4 \text{ N} \cdot \text{s}$) إذا تحركت السيارة جنوبًا بمقدار السرعة نفسه فإن زخمها الخطي يساوي:	أ	$9 \times 10^4 \text{ N} \cdot \text{s}$	ب	$-9 \times 10^4 \text{ N} \cdot \text{s}$	ج	$18 \times 10^4 \text{ N} \cdot \text{s}$	د	$0 \text{ N} \cdot \text{s}$

8	دراجة هوائية كتلتها 20kg وتبلغ سرعتها 5m/s ، باتجاه $(-x)$ ، فإن زخمها:
أ	$+100\text{kg.m/s}$ ب -100kg.m/s ج $+100\text{m/s}^2$ د -100m/s^2

9	دراجة هوائية كتلتها 40kg وزخمها 200kg.m/s ، تكون سرعتها تساوي:
أ	20m/s ب 50m/s ج 5m/s د 0.5m/s

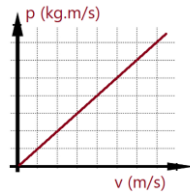
10	إذا كان زخم دراجة 100kg.m/s وسرعتها 2m/s ، فإن كتلتها تساوي :
أ	$5 \times 10^3\text{kg}$ ب $5 \times 10^2\text{kg}$ ج $5 \times 10^1\text{kg}$ د 5kg

11	تركض لينا غرباً بسرعة مقدارها (3m/s) إذا ضاعفت لينا مقدار سرعتها مرتان فإن مقدار زخمها الخطي:
أ	يتضاعف مرتان.
ب	يتضاعف أربع مرات.
ج	يقل بمقدار النصف.
د	يقل بمقدار الربع.

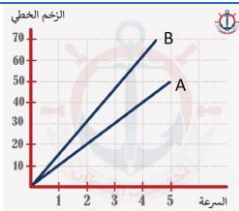
12	إذا زادت سرعة جسم ستة أضعاف (ستة أمثال) فإن زخمه يزداد بمقدار
أ	ثلاثة أضعاف
ب	ستة أضعاف
ج	تسعة أضعاف
د	36 ضعف

13	ما مقدار فرق الزخم بين شخص كتلته 70kg يركض بسرعة مقدارها 4m/s وشاحنة كتلتها 3000kg تتحرك بسرعة مقدارها 0.1m/s
أ	2kg.m/s ب 20kg.m/s ج 200kg.m/s د 2000kg.m/s

14	ميل الخط المستقيم في الرسم البياني المجاور يمثل:
أ	القوة
ب	الدفع
ج	الكتلة
د	تغير الزخم



15	الرسم البياني المجاور يمثل منحنى (السرعة المتجهة - الزخم الخطي) حيث قيست السرعة بوحدة m/s وقيس الزخم الخطي بوحدة kg.m/s معتمداً على الرسم فإن كتلة كلا من الجسم A, B هي:
أ	$A = 10\text{kg}, B = 10\text{kg}$
ب	$A = 15\text{kg}, B = 10\text{kg}$
ج	$A = 10\text{kg}, B = 15\text{kg}$
د	$A = 0.1\text{kg}, B = 0.067\text{kg}$



16	متى يكون مقدار الزخم الخطي لسيارة رقم 1 ، مساويا لمقدار الزخم الخطي لسيارة رقم 2 حيث كتلتها ثلاثة أضعاف كتلة السيارة رقم 1؟		
أ	$v_1 = 9v_2$	ب	$v_1 = 3v_2$
ج	$v_2 = 9v_1$	د	$v_2 = 3v_1$

17	يقف باص المدرسة ($2500kg$) على إشارة المرور، وتطير داخله فراشة ($0.004kg$) بسرعة ($2m/s$) من الخلف إلى الأمام باتجاه السائق. فأى العلاقات التالية صحيحة:		
أ	الزخم الخطي لباص المدرسة أكبر	ب	الزخم الخطي لهما متساوي
ج	الزخم الخطي للفراشة أكبر	د	لا يمكن التنبؤ

حصة رقم 2: مبرهنة الزخم الخطي- الدفع والمساحة تحت منحنى القوة والزمن

18	يتناسب التسارع الذي يكتسبه الجسم مع ...		
أ	القوة المؤثرة عليه طردياً	ب	مربع كتلته طردياً
ج	القوة المؤثرة عليه عكسياً	د	مربع كتلته عكسياً

19	ضرب لاعب البيسبول الكرة بقوة قدرها $2.5N$ فاكتسبت تسارعاً مقداره $10m/s^2$ ، كم كتلة الكرة؟		
أ	$0.25kg$	ب	$4kg$
ج	$45Kg$	د	$75kg$

20	إذا أثرت قوة مقدارها $40N$ على جسم كتلته $8kg$ فحركته في نفس اتجاه القوة فإن مقدار تسارع الجسم بوحدة m/s^2 يساوي..		
أ	0.2	ب	5
ج	10	د	9.8



ضع هدفك أمام عينيك ولا تسمح
لشئ أن يلهيك عن الوصول إليه.

21	العبارة " دفع قوة محصلة مؤثرة في جسم يساوي التغير في زخمه الخطي " تمثل		
أ	مبرهنة الشغل و الطاقة	ب	مبرهنة الزخم الخطي - الدفع
ج	مبرهنة الطاقة الحركية	د	مبدأ حفظ الطاقة الميكانيكية

22	العلاقة الرياضية $F \cdot \Delta t = m \cdot \Delta v$ تمثل مبرهنة		
أ	القوة - العزم	ب	القوة - الزخم الخطي
		ج	الدفع - الزخم
		د	الدفع

23	وحدة قياس الدفع في النظام الدولي هي :		
أ	$N \cdot s$	ب	N/s
		ج	$N \cdot s^2$
		د	N/s^2

24	اتجاه الدفع يكون دوماً باتجاه		
أ	تغير السرعة	ب	تغير الزخم
		ج	القوة
		د	جميع ما سبق

25	المعدل الزمني للتغير في الزخم الخطي هو:		
أ	تغير الزخم الخطي	ب	القدرة الكلية
ج	الدفع	د	القوة المحصلة

26	كلّما زاد زمن تأثير قوّة (F) في جسم كتلته (m)		
أ	زاد الدفع المؤثر فيه، وزاد التغير في زخمه الخطي.		
ب	زاد الدفع المؤثر فيه، ونقص التغير في زخمه الخطي.		
ج	نقص الدفع المؤثر فيه، وزاد التغير في زخمه الخطي.		
د	نقص كل من: الدفع المؤثر فيه، والتغير في زخمه الخطي.		

27	الدفع الحاصل من قوة متوسطة قدرها $10N$ تبذل على عربة لمدة زمنية قدرها $2s$		
أ	$5kg \cdot m/s$	ب	$10kg \cdot m/s$
ج	$12kg \cdot m/s$	د	$20kg \cdot m/s$

28	تزداد سرعة فراشة كتلتها $4g$ من $0.5m/s$ إلى $2.5m/s$ خلال زمن، ما مقدار التغير في زخمها الخطي		
أ	$8kg \cdot m/s$	ب	$0.008kg \cdot m/s$
ج	$12kg \cdot m/s$	د	$0.012kg \cdot m/s$

29	عندما يركل لاعب كرة القدم الكرة يتغير زخمها الخطي بمقدار $15kg \cdot m/s$ باتجاه الغرب ($-x$) أوجد القوة المؤثرة عليها من اللاعب، إذا علمت أن زمن تأثير القوة على الكرة يساوي $3ms$.
أ	$5000N$ ، باتجاه الشرق
ب	$5000N$ ، باتجاه الغرب
ج	$0.045N$ ، باتجاه الشرق
د	$0.045N$ ، باتجاه الغرب

30	تنزلق عربة على جليد عديم الاحتكاك كتلتها بمن فيها من ركاب $600kg$ بسرعة متجهة مقدارها $4m/s$ نحو الشرق، وتصطدم بجدار ساكن وتوقفت خلال زمن قدره $0.02s$ ، ما مقدار القوة المؤثرة على العربة ومن فيها من الركاب واتجاهها.
أ	1.2×10^5N ، باتجاه الشرق
ب	1.2×10^5N ، باتجاه الغرب
ج	1.2×10^4N ، باتجاه الشرق
د	1.2×10^4N ، باتجاه الغرب

31	تنزلق عربة على جليد عديم الاحتكاك كتلتها بمن فيها من ركاب $400kg$ بسرعة متجهة مقدارها $3m/s$ نحو الغرب، وتصطدم بجدار ساكن وتوقفت خلال زمن قدره $0.01s$ ، ما مقدار القوة المؤثرة في الجدار الساكن واتجاهها.
أ	1.2×10^5N ، باتجاه الشرق
ب	1.2×10^5N ، باتجاه الغرب
ج	1.2×10^4N ، باتجاه الشرق
د	1.2×10^4N ، باتجاه الغرب

32	زُميت كرة كتلتها m أفقيًا بسرعة مقدارها v نحو جدار؛ فارتدت الكرة أفقيًا بمقدار السرعة نفسه. إن مقدار التغير في الزخم الخطي للكرة يساوي:
أ	mv
ب	$-mv$
ج	$2mv$
د	صفرًا

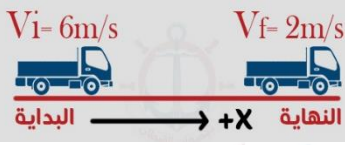
33	أي الحالات الآتية يخضع لأقصى تغير في الزخم الخطي:
أ	الإمساك بكرة البيسبول
ب	قذف كرة البيسبول
ج	الإمساك بكرة البيسبول قم إعادة قذفها.
د	المعطيات غير كافية.

34	في لعبة الملاكمة أي الخيارات الآتية يعتبر الخيار الأفضل للملاكم، عند تلقيه لكمة على وجهه من قبل خصمه:
أ	التحرك باتجاه اللكمة.
ب	عدم التحرك.
ج	التحرك مبتعدًا عن اللكمة.
د	لا يمكننا الحكم فالمعطيات غير كافية.

35	تزود السيارات بماص صدمات يمكنه الانضغاط في أثناء الصدمة وذلك حتى:
أ	يقل زمن التصادم وتقل القوة المؤثرة
ب	يزداد زمن التصادم وتقل القوة المؤثرة
ج	يقل زمن التصادم وتزداد القوة المؤثرة
د	يزداد زمن التصادم وتزداد القوة المؤثرة.

36	مبدأ عمل الوسائد الهوائية		
أ	زيادة كلا من القوة والزمن	ب	تقليل الزمن و زيادة القوة
ج	تقليل كلا من القوة والزمن	د	زيادة الزمن و تقليل القوة


37	أثرت قوة في كرة طائرة بدفع مقداره $2.0 \text{ kg} \cdot \text{m/s}$ مسببة تحليق كرة الطائرة عن الأرض بسرعة مقدارها 5 m/s ما كتلة كرة الطائرة؟		
أ	0.2 kg	ب	0.4 kg
		ج	0.8 kg
		د	1.2 kg

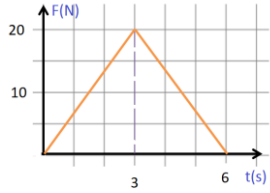
38	في الشكل المجاور تباطأت سرعة سيارة كتلتها 1000 kg من 6 m/s إلى 2 m/s خلال 4 s في اتجاه $+X$ الدفع الحاصل على السيارة بوحدة $(\text{N} \cdot \text{s})$ يساوي:		
			
أ	4000	ب	8000
ج	-4000	د	-8000

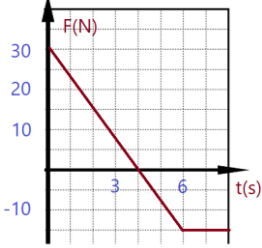
39	إذا أثرت قوتان متساويتان في المقدار والاتجاه في سيارتين ساكنتين (سيارة بيكانتوكيا وسيارة دووج دروانجو) خلال نفس الفترة الزمنية فإن: (ملاحظة كتلة سيارة الدووج دروانجو أكبر من كتلة سيارة البيكانتوكيا)		
أ	سرعة البيكانتو تساوي سرعة الدووج	ب	زخم البيكانتو يساوي زخم الدووج
ج	زخم البيكانتو أكبر من زخم الدووج	د	زخم البيكانتو أقل من زخم الدووج

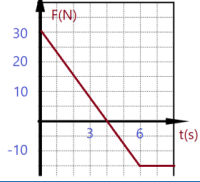
40	يتحرك جسم كتلته m في مسار دائري بسرعة ثابتة مقدارًا v ، إن مقدار الدفع المؤثر على الجسم خلال نصف دورة يساوي:		
أ	0	ب	$2mv$
ج	mv	د	$\sqrt{2}mv$

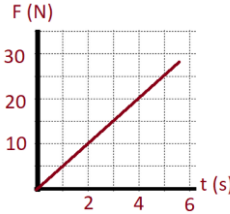
المساحة المحصورة تحت منحنى القوة - الزمن

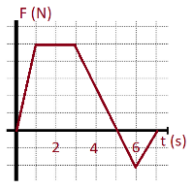
41	الرسم البياني في الأعلى يمثل منحنى القوة والزمن، احسب الدفع الحاصل على الجسم من 1 s إلى 4 s بوحدة $\text{N} \cdot \text{s}$		
			
أ	10	ب	14
ج	3	د	30

	<p>جسم ساكن كتلته 20kg موضوع على سطح أفقي أملس، تحرك هذا الجسم تحت تأثير قوة متغيرة مع الزمن كما في الشكل المجاور، فإن مقدار سرعته النهائية بعد مرور زمن قدره 6s من تأثير القوة.</p>	42	
<p>3m/s</p>	ب	30m/s	أ
<p>1m/s</p>	د	10m/s	ج

	<p>كرة كتلتها 4kg تتحرك بسرعة 2m/s على سطح أفقي أملس، أثرت عليها قوة متغيرة، حيث تم تمثيل العلاقة البيانية بين القوة المؤثرة وزمن تأثيرها كما في الشكل المجاور، اوجد أكبر سرعة ستمتلكها الكرة بنفس اتجاه جريتها الابتدائية.</p>	43	
<p>15m/s</p>	ب	20m/s	أ
<p>13m/s</p>	د	17m/s	ج

	<p>معتمدا على الشكل المجاور الذي يمثل العلاقة البيانية بين قوة متغيرة تؤثر على جسم خلال فترة زمنية. أوجد قيمة الدفع خلال أول (7s)</p>	44	
<p>30N.s</p>	ب	105N.s	أ
<p>0N.s</p>	د	15N.s	ج

	<p>جسم كتلته 4kg يتحرك بسرعة 5m/s باتجاه $-x$ أثرت عليه قوة متغيرة مع الزمن كما في الشكل المجاور، إن سرعته عند نهاية الثانية الرابعة تساوي</p>	45	
<p>10m/s</p>	ب	0m/s	أ
<p>15m/s</p>	د	5m/s	ج

	<p>يبدا جسم حركته من السكون باتجاه محور $+x$ تحت تأثير قوة متغيرة، كما في الشكل المجاور، إن أكبر سرعة للجسم تكون عند زمن؟</p>	46	
<p>5s</p>	ب	1s	أ
<p>7s</p>	د	6s	ج

حصّة رقم 3: حفظ الزخم الخطي

47	في النظام المعزول مقدار القوة الخارجية على النظام تساوي :				
أ	0N	ب	1N	ج	3N
				د	لا يمكن التنبؤ

48	المفهوم الفيزيائي الذي يوقف الأجسام المتحركة عند تصادمها هو :				
أ	الطاقة	ب	الشغل	ج	السرعة
				د	الزخم

49	سيارتان لهما الكتلة نفسها ويتحركان بالاتجاه نفسه، ولكن إحداها بطيئة والأخرى أسرع، فإذا اصطدمتا ببعضهما البعض والتحمتا فإن سرعتيهما معا ستكون:				
أ	مساوية لسرعة بين سرعة السيارة السريعة والبطيئة	ب	مساوية لسرعة السيارة البطيئة		
ج	مساوية لسرعة السيارة السريعة	د	صفرا		

50	تستعد سمكة جائعة لتناول طعام الغداء بالسرعة الموضحة في الشكل المجاور إذا كانت كتلة السمكة الجائعة خمسة أضعاف كتلة السمكة الصغيرة، فما مقدار سرعة السمكة الكبيرة بعد تناول طعام الغداء.				
أ	5m/s	ب	1.2m/s		
ج	10m/s	د	3.8m/s		

51	يقفز قُصي من قارب ساكن كتلته (400 kg) إلى الشاطئ ، فيتحرك القاربُ مبتعدًا عن الشاطئ بسرعة أفقيّة مقدارها (1.0 m/s) . إذا علمتُ أنّ كتلة قُصي (80 kg) ؛ فما مقدار سرعة حركته؟ وما اتجاهها؟				
أ	(0.2 m/s) . نحو الشاطئ.	ب	(0.5 m/s) . بعيدًا عن الشاطئ		
ج	(5.0 m/s) . بعيدًا عن الشاطئ	د	(5.0 m/s) . نحو الشاطئ		

52	تقفز شذى من قارب ساكن كتلته (300 kg) إلى الشاطئ بسرعة أفقيّة مقدارها (3 m/s) . إذا علمت أن كتلة شذى (50 kg) فما مقدار سرعة حركة القارب؟ وما اتجاهها؟				
أ	3m/s نحو الشاطئ	ب	3m/s بعيدًا عن الشاطئ.		
ج	0.5m/s بعيدًا عن الشاطئ	د	18m/s نحو الشاطئ.		

53	تركب فتاة كتلتها $50kg$ عربة ترفية كتلتها $10kg$ وتتحرك شرقا بسرعة $5m/s$ فإذا قفزت الفتاة من مقدمة العربة ووصلت إلى الأرض بسرعة $7m/s$ في اتجاه الشرق بالنسبة إلى الأرض، أوجد السرعة المتجهة للعربة بعد أن قفزت منها الفتاة:		
أ	$0m/s$	ب	$5m/s$ ، باتجاه الغرب
ج	$5m/s$ ، باتجاه الشرق	د	65 ، باتجاه الشرق

54	كتلة مسدس $2.00Kg$ ، أطلق رصاصة كتلتها $0.05Kg$ وبسرعة $100m/s$ ، احسب السرعة التي يرتد بها المسدس (افترض أن الرصاصة انطلقت نحو الشرق):		
أ	$2.5m/s$ ، شرقاً	ب	$5.0m/s$ ، شرقاً
ج	$2.5m/s$ ، غرباً	د	$5.0m/s$ ، غرباً

55	صندوق كتلته $6kg$ ينزلق بسرعة $4m/s$ على ارض أفقية ملساء باتجاه محور السينات الموجب ، فإذا انفجر إلى قطعتين الأولى كتلتها $2kg$ تحركت نحو السينات الموجب بسرعة $8m/s$ فما سرعة القطعة الأخرى ؟		
أ	$2m/s$ ، نحو محور السينات السالب	ب	$10m/s$ ، نحو محور السينات السالب
ج	$2m/s$ ، نحو محور السينات الموجب	د	$10m/s$ ، نحو محور السينات الموجب

56	رجل كتلته m يقف على عربة كتلتها M ساكنة على سطح أفقي أملس إذا بدأ الرجل يمشي نحو الأمام بسرعة v ، فما هي السرعة التي ستتحرك بها العربة.		
أ	$\frac{mv}{M}$	ب	$-\frac{mv}{M}$
ج	$\frac{Mv}{m}$	د	$-\frac{Mv}{mv}$

57	تتحرك كرة كتلتها $4kg$ بسرعة $10m/s$ وتصطدم بكرة ساكنة لها نفس الكتلة وتلتحم الكرتان وتتحركان معا احسب السرعة المشتركة لهما بعد التصادم.		
أ	$12m/s$	ب	$8m/s$
		ج	$5m/s$
		د	$2m/s$

58	ينزلق متزلج كتلته $40kg$ على جليد بسرعة مقدارها $2m/s$ في اتجاه زلاجة ثابتة كتلتها $10kg$ على الجليد وعندما وصل المتزلج إليها اصطدم بها وثم واصل المتزلج انزلاقه مع الزلاجة في الاتجاه الأصلي نفسه لحركته. ما مقدار سرعة المتزلج والزلاجة بعد تصادمهما.		
أ	$0.4m/s$	ب	$0.8m/s$
		ج	$1.6m/s$
		د	$3.2m/s$



59	يقف متزلج كتلته 45kg على الجليد في حالة سكون عندما يمر إليه صديقه كرة كتلتها 5kg فانزلق المتزلج والكرة إلى الورا بسرعة مقدارها 0.50m/s فما مقدار سرعة الكرة قبل أن يمسكها المتزلج مباشرة.
أ	2.5m/s ب 3.0m/s ج 4.0m/s د 5.0m/s

60	اصطدمت سيارتا شحن كتلة كل منها $3 \times 10^5\text{kg}$ ، فالتصقتا معا، فإذا كانت سرعة إحدهما قبل التصادم مباشرة 2m/s ، وكانت الأخرى ساكنة، فما سرعتها النهائية المشتركة؟
أ	0m/s ب 2m/s
ج	1m/s د 4m/s

61	يتحرك قرص لعبة هوكي كتلته 0.1kg بسرعة 60m/s ، فيمسك به حارس مرمى كتلته 59.9kg في حالة سكون. ما السرعة المشتركة التي ينزلق بها حارس المرمى على الجليد؟
أ	0.2m/s ب 0.5m/s
ج	0.1m/s د 0.25m/s

62	تحركت رصاصة كتلتها 0.03kg بسرعة 600m/s ، فاصطدمت بكيس من الطحين كتلته 3.0kg موضوع على أرضية ملساء في حالة سكون، فاخرقت الرصاصة الكيس، وخرجت منه بسرعة 200m/s . ما سرعة الكيس لحظة خروج الرصاصة منه؟ (اعتبر حركة الرصاصة باتجاه x)
أ	2m/s ب 4m/s
ج	3m/s د 9.24m/s

63	تحركت رصاصة مطاطية كتلتها 20g بسرعة متجهة مقدارها 200m/s باتجاه الشرق، فاصطدمت بطوبية إسمنتية ساكنة كتلتها 6kg موضوعة على سطح عديم الاحتكاك وارتدت الرصاصة في الاتجاه المعاكس بسرعة 100m/s فما السرعة التي ستتحرك بها الطوبية بعد الاصطدام؟
أ	1m/s باتجاه الشرق ب 1m/s باتجاه الغرب
ج	0.33m/s باتجاه الشرق د 0.33m/s باتجاه الغرب

64	تحركت كرة كتلتها 0.50kg بسرعة 6.0m/s ، فاصطدمت بكرة أخرى كتلتها 1.0kg تتدحرج في الاتجاه المعاكس بسرعة مقدارها 12m/s . فإذا ارتدت الكرة الأقل كتلة إلى الخلف بسرعة مقدارها 14m/s بعد التصادم، فكم يكون مقدار سرعة الكرة الأخرى بعد التصادم؟
أ	2m/s بنفس اتجاه حركتها قبل التصادم ب 3m/s بنفس اتجاه حركتها قبل التصادم
ج	2m/s عكس اتجاه حركتها قبل التصادم د 3m/s عكس اتجاه حركتها قبل التصادم

65	يركض عمرُ شرقاً بسرعة (4.0 m/s) ، ويقفز في عربةٍ كتلتها (90.0 kg) تتحرك شرقاً بسرعةٍ مقدارها (1.5 m/s) ، إذا علمتُ أن كتلة عمر (60.0 kg) ؛ فما مقدارُ سرعة حركة عمر والعربة معاً؟ وما اتّجاهها؟		
أ	ب	شرفاً 2.0 m/s	غرباً 5.5 m/s
ج	د	غرباً 4.2 m/s	شرفاً 2.5 m/s

66	أطلق نموذج لصاروخ كتلته 6 kg ، بحيث نفث 50 g من الوقود المحترق من العادم بسرعة مقدارها 600 m/s نحو الأسفل، ما سرعة الصاروخ المتجهة بعد احتراق الوقود؟ تلميح : أهمل القوتين الخارجيتين الناتجتين عن الجاذبية ومقاومة الهواء.		
أ	ب	نحو الأعلى 10 m/s	نحو الأسفل 10 m/s
ج	د	نحو الأعلى 5 m/s	نحو الأسفل 5 m/s

67	ترتبط عربتان إحداهما مع الأخرى بخيط يمنعهما من الحركة، ولدي احتراق الخيط دفع نابض مضغوط بينهما العربيتين في اتجاهين متعاكسين، فإذا اندفعت إحدى العربيتين وكتلتها 2 kg بسرعة متجهة 0.3 m/s إلى اليسار، ما السرعة المتجهة للعربة الأخرى التي كتلتها 6 kg ؟		
أ	ب	نحو اليسار 0.1 m/s	نحو اليمين 0.1 m/s
ج	د	نحو اليسار 0.3 m/s	نحو اليمين 0.3 m/s

68	يتحرك جسم كتلته m وسرعته v فيصطدم بجسم ساكن كتلته $3m$ ، ويلتحمان معاً ويتحركان سرعتهما بعد الالتحام هي:		
أ	ب	$\frac{mv}{2}$	$\frac{v}{2}$
ج	د	$\frac{mv}{4}$	$\frac{v}{4}$

69	عند تصادم جسماً كتلته m ويتحرك بسرعة v مع جسم ساكن له نفس الكتلة ويلتحمان معاً، فإن سرعتهما المشتركة بعد التصادم تساوي :		
أ	ب	$\frac{1}{4}v$	$\frac{1}{2}v$
	ج	v	$2v$
	د		

70	عربة شحن كتلته M تتحرك بسرعة متجهة ثابتة قدرها v على طريق أفقي عديم الاحتكاك، يتساقط المطر بشكل عمودي على العربة وتملأ قطرات المطر بمقاسة بوحدة kg/s ، فإن السرعة المتجهة للعربة بعد زمن معين مقداراه t هي ؟		
أ	ب	$\frac{M}{\mu t} v$	$\frac{M}{M + \mu} v$
ج	د	$\frac{\mu t}{M} v$	$\frac{M}{M + \mu t} v$

حصّة رقم 4 : التصادمات

71	تناسب الطاقة الحركية لجسم ...		
أ	عكسياً مع مربع سرعته	ب	عكسياً مع كتلته
ج	طردياً مع مربع سرعته	د	طردياً مع مربع كتلته

72	عند مضاعفة سرعة كرة (تصبح السرعة مثلي السرعة الابتدائي)، فإن طاقتها الحركية :		
أ	تبقى ثابتة	ب	تتضاعف أربع مرات
ج	تتضاعف مرتين	د	تتضاعف ثمان مرات

73	إذا زادت سرعة الجسم ثلاثة أضعاف (ثلاثة أمثال) فإن طاقته الحركية:		
أ	تزداد ثلاثة أضعاف	ب	تقل للثلث
ج	تزداد تسعة أضعاف	د	تقل للتسع

74	صندوقان (A, B) يستقران على سطح أفقيّ أملس. أثرت في كل منهما القوة المحصّلة نفسها باتجاه محور +x للفترة الزمنية (Δt) نفسها. إذا علمت أن كتلة الصندوق (m _A) أكبر من كتلة الصندوق (m _B)؛ فأبى العلاقات الآتية صحيحة في نهاية الفترة الزمنية؟		
أ	$p_A < p_B, KE_A < KE_B$	ب	$p_A = p_B, KE_A > KE_B$
ج	$p_A = p_B, KE_A < KE_B$	د	$p_A > p_B, KE_A > KE_B$

75	الكمية التي تبقى محفوظة في جميع أنواع التصادمات في الأنظمة المعزولة.		
أ	السرعة النهائية.	ب	الزخم الخطي.
ج	الطاقة الحركية.	د	السرعة الابتدائية.

76	التصادم الذي يحفظ الطاقة الحركية يدعى التصادم :						
أ	الانفجاري	ب	المرن	ج	عديم المرونة	د	جميع ما سبق

77	في التصادم المرن تكون نسبة الطاقة الحركية للنظام بعد التصادم إلى الطاقة الحركية للنظام قبل التصادم.						
أ	أكبر من 1	ب	تساوي 1	ج	أقل من 1	د	المعطيات غير كافية.

78	في التصادم عديم المرن تكون نسبة الطاقة الحركية للنظام بعد التصادم إلى الطاقة الحركية للنظام قبل التصادم.		
أ	أكبر من 1	ب	تساوي 1
ج	أقل من 1	د	المعطيات غير كافية.

79	التصادم الذي تكون فيه $KE_f < KE_i$		
أ	الانفجاري	ب	عديم المرونة
ج	المرن	د	جميع التصادمات

80	التصادم الذي تكون فيه $KE_f = KE_i$		
أ	الانفجاري	ب	عديم المرونة
ج	المرن	د	جميع أنواع التصادم

81	كرة (A) تتحرك بسرعة ($2 m/s$) غربًا؛ فتصطدم بكرة أخرى ساكنة (B) مماثلة لها تصادمًا مرئيًا في بُعد واحد. إذا توقفت الكرة (A) بعد التصادم، فإن مقدار سرعة الكرة (B) واتجاهها بعد التصادم يساوي:		
أ	$2m/s$ شرقًا	ب	$2m/s$ غربًا
ج	$1m/s$ شرقًا	د	$1m/s$ غربًا

82	تتحرك كرة كتلتها m بسرعة v_1 على سطح أفقي عندما اصطدمت بحائط مبطن ثم ارتدت عنه في الاتجاه المعاكس فإذا أصبحت طاقتها الحركية نصف مما كانت عليه قبل التصادم وأهملنا الاحتكاك فأى مما يأتي يعبر عن سرعة الكرة بعد التصادم بدلالة سرعتها قبل التصادم؟		
أ	$\frac{1}{2}v_1$	ب	$\frac{\sqrt{2}}{2}v_1$
ج	$\sqrt{2}v_1$	د	$2v_1$

83	يصطدم جسمًا كتلته m وسرعته v ، بجسم آخر ساكن كتلته m تصادمًا مرئيًا. فإن التغير في الطاقة الحركية نتيجة التصادم يساوي:		
أ	$\Delta KE = \frac{1}{2}mv^2$	ب	$\Delta KE = \frac{1}{4}mv^2$
ج	$\Delta KE = 2mv^2$	د	$\Delta KE = 0$



”ليس من المهم ببطء خطواتك طالما أنك لا تتوقف.“

84	يصطدم جسما كتلته m وسرعته v ، بجسم أخر ساكن كتلته m تصادما عديم المرونة. فإن التغير في الطاقة الحركية نتيجة التصادم يساوي:		
أ	$\Delta KE = -\frac{1}{2}mv^2$	ب	$\Delta KE = -\frac{1}{4}mv^2$
ج	$\Delta KE = -4mv^2$	د	$\Delta KE = 0$

85	جسمان لهما نفس الكتلة ، إذا كانت طاقة الحركة للجسم الأول أربعة أمثال طاقة الحركة للجسم الثاني، فإن زخم الجسم الأول هو:		
أ	$p_1 = 4p_2$	ب	$p_1 = 0.5p_2$
ج	$p_1 = 2p_2$	د	$p_1 = 0.25p_2$

86	سيارتان لهما نفس الزخم الخطي وكتلة السيارة الأولى ضعف كتلة السيارة الثانية فإن الطاقة الحركية للسيارة الأولى هي:		
أ	$KE_1 = 4KE_2$	ب	$KE_1 = KE_2$
ج	$KE_1 = 2KE_2$	د	$KE_1 = 0.5KE_2$

87	عندما يزداد سرعة كرة البلياردو إلى الضعف (مثلي السرعة) فإن كلا من الزخم الخطي والطاقة الحركية تصبح:		
أ	p, KE	ب	$2p, 4 KE$
ج	$2p, 2 KE$	د	$4p, 2 KE$

88	كتلة الجسم الأول خمسة أمثال كتلة الجسم الثاني والطاقة الحركية للجسم الأول ثلاثة أمثال الطاقة الحركية للجسم الثاني فإن نسبة $\frac{p_1}{p_2}$ هي:		
أ	$\frac{1}{\sqrt{15}}$	ب	$\frac{15}{1}$
ج	$\frac{\sqrt{15}}{1}$	د	$\frac{1}{15}$

89	جسمان A, B ، كتلة الجسم B مثلي كتلة A ، حيث $KE_A = KE_B$ ، فإن:		
أ	$v_A = 2v_B$	ب	$v_A = \sqrt{2}v_B$
ج	$v_A = v_B$	د	$v_A = \sqrt{v_B}$

جسمان A, B ، كتلة الجسم B مثلي كتلة A ، حيث $p_A = p_B$ ، فإن:			90
$v_A = \sqrt{2}v_B$	ب	$v_A = 2v_B$	أ
$v_A = \sqrt{v_B}$	د	$v_A = v_B$	ج

عندما تزداد سرعة جسم من v إلى $3v$ فإن كلا من زخمه الخطي وطاقته الحركية تصبح:			91
$9p, 3KE$	ب	$3p, 3KE$	أ
$9p, 9KE$	د	$3p, 9KE$	ج

اصطدم جسم كتلته $2kg$ يتحرك بسرعة $5m/s$ مع جسم آخر كتلته $8kg$ في حالة سكون والتصق به و تحركا معا ، ما هي الطاقة الحركية المفقودة نتيجة هذا التصادم ؟			92
$\Delta KE = -15J$	ب	$\Delta KE = 0J$	أ
$\Delta KE = -20J$	د	$\Delta KE = -10$	ج

قفز شاب كتلته $60.0kg$ من ارتفاع $0.45m$ نحو سطح الأرض ، ما زخمه عند وصوله إلى الأرض ؟ (اهمل قوة مقاومة الهواء) (اعتبر الاتجاه نحو الاسفل -)			93
$160kg.m/s$	ب	$-180kg.m/s$	أ
$180kg.m/s$	د	$-160kg.m/s$	ج

قفز شاب كتلته $60.0kg$ من ارتفاع $0.45m$ نحو سطح الأرض ، ما الدفع اللازم لإيقافه عندما يصطدم بالأرض ؟ (اهمل قوة مقاومة الهواء) (اعتبر الاتجاه نحو الاسفل -)			94
$+180N.s$	ب	$+100N.s$	أ
$-180N.s$	د	$-100N.s$	ج

عند قذف جسم رأسياً للأعلى إن زخمه الخطي:			95
يزداد أثناء صعوده و يقل أثناء نزوله	ب	يزداد أثناء صعوده و يقل أثناء نزوله	أ
يقل أثناء الصعود والنزول.	د	ثابت لا يتغير	ج

تزداد سرعة سيارة كتلتها $750kg$ من $3m/s$ إلى $8m/s$ خلال زمن ، ما مقدار الدفع الحاصل عليها :				96			
$37500N.s$	د	$3750N.s$	ج	$375N.s$	ب	$37N.s$	أ



لا تستسلم عن المحاولة، ولا تتوقف عن التعليم لأي سبب !

		<p>في الشكل المقابل تسقط قطعة حديدية معلقة بخيط مهمل الكتلة من ارتفاع h ، سقوطا حرا وتصطدم بمغناطيس له نفس الكتلة موضوع على سطح طاولة عديمة الاحتكاك ، وتلتصق القطعتان وترتفعان معا ، الارتفاع الذي تصل اليه القطعتان معا مقارنة بالارتفاع الذي سقطت منه القطعة الحديدية هو: (أهمل القوى الخارجية أثناء التصادم مثلا قوة تجاذب المغناطيس مع قطعة الحديد)</p>	97
$\frac{1}{4}h$	ب	$\frac{1}{2}h$	أ
h	د	$\frac{1}{8}h$	ج

		<p>جسم m كتلته $1kg$ يستقر أعلى منحدر أملس كما في الشكل المجاور ، ويسقط من السكون باتجاه بندول ساكن كتلته $2kg$ يصطدم به ويرتد عنه بسرعة $2m/s$ فيرتفع البندول إلى أقصى ارتفاع قدره $0.2m$ ، إن الارتفاع الذي سقط منه الجسم m يساوي :</p>	98
$0.6m$	ب	$0.8m$	أ
$0.1m$	د	$0.2m$	ج

<p>أطلقت رصاصة كتلتها $20g$ في اتجاه أفقي صوب جسم ساكن خشبي كتلته $2kg$ معلق بنهاية حبل طويل، التحمت الرصاصة في الكتلة الخشبية. احسب سرعة الرصاصة علما أن التصادم يدفع الجسمين (الرصاصة والخشبية) للتأرجح حتى ارتفاع $20cm$ فوق منسوبه الأصلي:</p>		99	
$202m/s$	ب	$200m/s$	أ
$402m/s$	د	$204m/s$	ج





		<p>أطلقت رصاصة كتلتها $20g$ على كتلة خشبية كتلتها $980g$ كما في الشكل ، فكان اكبر ارتفاع رأسي وصلته المجموعة $20cm$ عن المستوى الأفقي الأصلي فإن سرعة المجموعة بعد التصادم مباشرة</p>	100
$2m/s$	ب	$1m/s$	أ
$4m/s$	د	$2.5m/s$	ج

حصة رقم 5: العزم وعزم الإزدواج

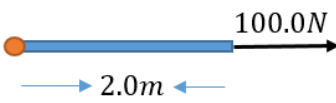
101	يكون العزم أكبر ما يمكن عندما تكون الزاوية بين r , F تساوي						
أ	30°	ب	45°	ج	90°	د	180°

102	يكون العزم نصف قيمته العظمى عندما تكون الزاوية بين r , F تساوي						
أ	0°	ب	30°	ج	90°	د	120°

103	عندما تؤثر قوة في جسم؛ فإن عزمها يكون صفرا عندما:		
أ	يتعامد متجه القوة مع متجه موقع نقطة تأثيرها.	ب	يتزايد مقدار السرعة الزاوية للجسم.
ج	يمر خط عمل القوة بمحور الدوران.	د	يتناقص مقدار السرعة الزاوية للجسم.

104	أي الأشكال يعطينا أكبر عزم:		
أ		ب	
ج		د	

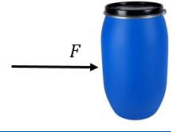
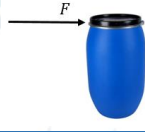
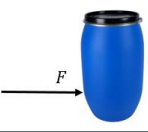
105	الشكل المجاور يعطينا قيمة للعزم هي:						
أ	-2N.m	ب	0N.m	ج	2N.m	د	200N.m



106	ذراع القوة في قانون العزم هو:	
أ	المسافة الموازية لمحور الدوران حتى نقطة التأثير.	
ب	المسافة العمودية من محور الدوران حتى نقطة التأثير.	
ج	الإزاحة الموازية لمحور الدوران حتى نقطة التأثير.	
د	الإزاحة الزاوية من محور الدوران حتى نقطة التأثير.	

107	البعد العمودي بين خط عمل القوة ومحور الدوران يسمى:		
أ	الإزاحة الزاوية	ب	الموقع الزاوي
ج	العزم	د	ذراع القوة

108	كلما زادت قيمة ذراع القوة L فإن القوة اللازمة لإحداث هذا العزم:			
أ	تزداد	ب	تبقى ثابتة	
	ج	تقل	د	تتعدم

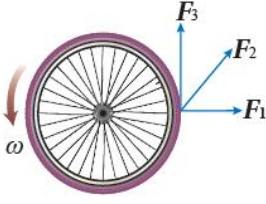
109	تحاول مني إمالة برميل ماء، أي المواضع في الأشكال الآتية يكون مقدار القوة اللازمة لإمالة البرميل أقل ما يمكن (أصغرها يمكن)		
أ		ب	
	ج	د	

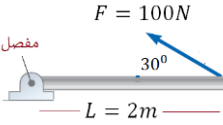
110	أرادت سلمى شد برغي بأقل قوة ممكنة باستخدام مفتاح الربط (الإن كي) في الشكل المجاور فإنها تستخدم الذراع:		
أ	R	ب	r
ج	r أو R	د	المعطيات غير كافية

111	في الشكل المجاور توجد في الباب أربع مقابض أي المقابض تستخدم لفتحه بأقل قوة ممكنة.			
أ	A	ب	B	
	ج	C	د	D

112	تستخدم دانا مفك براغي لفك برغي من خزانتها ولم تتمكن من ذلك. يجب على دانا استخدام مفك براغي يكون مقبضه:		
أ	أطول من مقبض المفك المستخدم.	ب	أقصر من مقبض المفك المستخدم.
ج	أكثر سمكا من سمك المقبض المستخدم.	د	أقل سمكا من سمك المقبض المستخدم.

113	يستخدم خالد مفتاح شد لفك صامولة إطارسيارة ولم يتمكن من ذلك. يجب على خالد استخدام مفتاح شد يكون مقبضه:		
أ	أطول من مقبض مفتاح الشد المستخدم.	ب	أقصر من مقبض مفتاح الشد المستخدم.
ج	أكثر سمكا من سمك مفتاح الشد المستخدم.	د	أقل سمكا من سمك مفتاح الشد المستخدم.

	تؤثر ثلاث قوى لها المقدار نفسه في إطار قابل للدوران حول محور ثابت عمودي على مستوى الصفحة مارا في مركزه. أي هذه القوى يكون عزمها هو الأكبر؟		114
	أ	F_1	ب
ج	F_3	د	جميعها لها مقدار العزم نفسه

	مقدار العزم الناتج من القوة $100N$ في الشكل المجاور هو:		115
	أ	$50N.m$	ب
ج	$100N.m$	د	$350N.m$

أثرو ليد بقوة عمودية مقدارها $20N$ في باب الفصل وعلى بعد $80cm$ من محوره دورانه ما العزم الذي أثربه وليد في الباب:				116			
أ	$1600N.m$	ب	$16N.m$	ج	$4N.m$	د	$0N.m$

يحاول طفل استخدام مفتاح شد لفك برغي في دراجته الهوائية ويحتاج فك البرغي إلى عزم مقداره $10N.m$ وأقصى قوة يستطيع أن يؤثر بها الطفل عموديا في المفتاح $50N$. فما طول مفتاح الشد الذي يجب أن يستخدمه الطفل حتى يفك البرغي.				117			
أ	$0.1m$	ب	$0.2m$	ج	$0.15m$	د	$0.25m$

تستخدم روى مفكا طوله $(30.0cm)$: لفتح غطاء علبة بالتأثير في طرف المفك بقوة مقدارها $(80.0N)$ عموديا عليه. إن مقدار العزم الذي تؤثر به روى بوحدة $(N.m)$ يساوي:				118
أ	24	ب	2.67	
ج	2400	د	0	

119 أي الحالات الآتية أفضل لفك برغي بمفتاح شد:	
أ	قوة أفقية $50N$ ومفتاح شد طوله $0.2m$
ب	قوة أفقية $50N$ ومفتاح شد طوله $0.4m$
ج	قوة عمودية $50N$ ومفتاح شد طوله $0.2m$
د	قوة عمودية $50N$ ومفتاح شد طوله $0.4m$

عند فتح باب عرضه $1m$ فإن أقل قوة تلزم لذلك تساوي $20N$ ، احسب أقل قوة تلزم لفتحه إذا أثرت على بعد $0.40m$ من فصالية الباب.	120
أ	$8N$
ب	$10N$
ج	$40N$
د	$50N$

أثرت قوة F_1 عمودياً على طرف باب عرضه L ، أثرت قوة أخرى على منتصف الباب F_2 بزاوية 30° مع سطح الباب ، إذا كان للقوتين نفس العزم فإن :	121
أ	$F_2 = F_1$
ب	$F_2 = 2F_1$
ج	$F_2 = 3F_1$
د	$F_2 = 4F_1$

	122	ماذا يحدث للجسم بالشكل المجاور	
أ	يدور مع عقارب الساعة	ب	يدور عكس عقارب الساعة
ج	لا يدور	د	لا يمكن التنبؤ

	123	عزم الدوران الكلي على العجلة الموضحة في الشكل يساوي: ($b =$ ، $a = 10\text{ cm}$) 25 cm	
أ	$-3.55N.m$	ب	$-4.15N.m$
ج	$-1.78N.m$	د	$5.95N.m$

	124	مقدار عزم الازدواج الناتج في الشكل المجاور هو:	
أ	$120N.m$	ب	$12.0N.m$
ج	$1.20N.m$	د	$0.12N.m$

	125	مقدار عزم الازدواج الناتج في الشكل المجاور هو:	
أ	$25\sqrt{3}N.m$	ب	$25N.m$
ج	$12.5N.m$	د	$12.5\sqrt{3}N.m$

126	يكون جسم و اقع تحت تأثير عزم ازدواج عندما:
أ	يكون متزناً؛ أي تكون القوة المحصلة والعزم المحصل المؤثران فيه يساويان صفراً
ب	تؤثر فيه قوتان لهما المقدار نفسه والاتجاه نفسه، وخطا عملها متطابقان.
ج	تؤثر فيه قوتان لهما المقدار نفسه، متعاكستان في الاتجاه، وخطا عملها غير متطابقين.
د	تؤثر فيه قوتان لهما المقدار نفسه، والاتجاه نفسه، وخطا عملها غير متطابقين.

حصة رقم 6: الإيزان ومركز الكتلة

127	إذا تحقق في جسم صلب كلا من الشرطين التاليين فإنه يكون: الشرط الأول: $\sum F = 0$ ، الشرط الثاني: $\sum \tau = 0$
أ	متزن دورانيا فقط
ب	متزن إيزان ساكن
ج	متزن انتقاليا فقط
د	غير متزن

128	إذا كانت الكتلتان A, B متزنتين في الشكل المجاور، فأى التالي صحيح:
أ	A قريبة من نقطة الإرتكاز ولها كتلة أكبر من كتلة B
ب	كتلة A تساوي كتلة B
ج	A قريبة من نقطة الإرتكاز ولها كتلة أصغر من كتلة B
د	وزن A يساوي وزن B

129	ساق مهمل الكتلة طوله L ، وضعت الكتلتان m_a, m_b على طرفيه كما في الشكل على أي مسافة من الكتلة m_a يزن الساق:
أ	$\frac{Lm_a}{m_a + m_b}$
ب	$\frac{Lm_b}{m_a + m_b}$
ج	$\frac{m_a}{m_a + m_b}$
د	$\frac{m_b}{m_a + m_b}$

	<p>130 بين الشكل صندوقين عند نهايتي لوح خشبي طوله $3.0m$، يرتكز عند منتصفه على دعامة تمثل محور دوران، فإذا كانت كتلة الصندوق الأيسر $m_B = 15kg$ وكتلة الصندوق الأيمن $m_A = 25kg$، فما بعد النقطة التي يجب وضع الدعامة عندها عن الطرف الأيسر لكي يتزن اللوح الخشبي والصندوقان أفقياً:</p>			
	أ	ب	ج	د
0.38m	1.1m	0.60m	1.9m	

<p>131 ساق مهمل الكتلة طوله $1m$، وضعت الكتلتان $8kg, 4kg$ على طرفيه أي مسافة من المسافات الآتية من الكتلة $4kg$ يتزن الساق:</p>			
أ	ب	ج	د
0.66m	0.50m	0.40m	0.33m

	<p>132 الرسم المجاور يمثل ميزان في أي موضع يجب وضع الكتلة $4kg$ حتى يتزن الميزان ويصبح أفقياً علماً أن المسافات بين النقط على ذراع الميزان متساوية.</p>			
	أ	ب	ج	د
A	C	D		
B				

	<p>133 مسطرة مترية منتظمة متماثلة ترتكز على نقطة عند التدرج $(25cm)$ علق ثقل كتلته $(0.50kg)$ عند التدرج $(0cm)$ للمسطرة، فاتزنت أفقياً، كما هو موضح في الشكل المجاور. إن مقدار كتلة خارج الخط</p>			
	أ	ب	ج	د
0.25kg	0.10kg	0.50kg	0.20kg	

<p>134 يجلس خالد $(60.0kg)$ وعاهد $(50.0kg)$ على طرفي لعبة see - saw متزنة أفقياً، تتكون من قضيب فلزي منتظم يرتكز عند نقطة في منتصفه. إذا كان بعد خالد $(1.5m)$ عن نقطة الارتكاز، فإن بعد عاهد . عن النقطة نفسها بوحدة m يساوي: ج،</p>			
أ	ب	ج	د
1.25	1.8	3.0	2.0

ضع هدفاً و لا تتخلى عنه حتى تحققه.



مركز الكتلة

135	أي الأشكال التالية أكثر استقراراً على الأرض:
أ	 ب  ج  د 

136	الشكل المجاور يمثل أربعة شاحنات العلامة X على كل شاحنة تبين موقع مركز ثقلها، الشاحنة الأقل ثباتاً على الطريق هي:
أ	A
ب	B
ج	C
د	D

137	يجب أن تكون سيارات السباق متزنة ومستقرة على الأرض لذلك تصنع بحيث تكون:
أ	قاعدتها عريضة ومركز كتلتها مرتفع
ب	قاعدتها عريضة ومركز كتلتها منخفض
ج	قاعدتها ضيقة ومركز كتلتها مرتفع
د	قاعدتها ضيقة ومركز كتلتها منخفض

138	الرسم المجاور يمثل مضرب بيسبول أي النقاط على الرسم يمكن أن تمثل موقع مركز الكتلة للمضرب.
أ	A
ب	B
ج	C
د	D

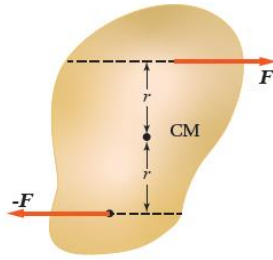
139	كسر مضرب بيسبول منتظم الكثافة في موقع مركز كتلته إلى جزأين؛ كما هو موضح في الشكل. إن الجزء ذا الكتلة الأصغر هو:
أ	الجزء الموجود على اليمين
ب	الجزء الموجود على اليسار.
ج	كلا الجزأين له الكتلة نفسها
د	لا يمكن تحديده

140	إذا تم فصل مضرب كرة البيسبول بشكل رأسي إلى قطعتين عند مركز الكتلة، وكانت m_r كتلة القطعة على اليمين، m_l كتلة القطعة على اليسار، فإن:
أ	$m_r > m_l$
ب	$m_r < m_l$
ج	$m_r = m_l$
د	لا يمكن معرفة ذلك

141	نظام يتكون من كرتين ($m_A = 8.0 \text{ kg}$) و ($m_B = 2.0 \text{ kg}$). إذا علمت أن ($x_A = 2.0 \text{ cm}$) و ($x_B = 8.0 \text{ cm}$): أحدد موقع مركز كتلة النظام.
أ	$x_{CM} = 6.4 \text{ cm}$ ب
ب	$x_{CM} = 3.2 \text{ cm}$ ج
ج	$x_{CM} = 1.6 \text{ cm}$ د
د	$x_{CM} = 9 \text{ cm}$

142	جسيمان نقطيان البعد بينهما (r). إذا علمت أن ($m_1 = 4m_2$): فإن موقع مركز الكتلة يكون:
أ	في منتصف المسافة بين الجسيمين.
ب	بين الجسيمين، وأقرب إلى (m_1)
ج	بين الجسيمين، وأقرب إلى (m_2)
د	خارج الخط الواصل بين الجسيمين، وأقرب إلى (m_1)

143	الشكل المجاور يبين قوتين متساويتين مقداراً ومتعاكستين اتجاههما تؤثران على بعد متساوٍ من مركز كتلة جسم موجود على سطح أملس. أي الجمل الآتية تصف بشكل صحيح حالة الجسم الحركية عند اللحظة المبينة؟
أ	الجسم في حالة اتزان سكوني؛ حيث القوة المحصلة المؤثرة فيه تساوي صفراً.
ب	الجسم ليس في حالة اتزان سكوني، حيث العزم المحصل المؤثر فيه يساوي صفراً.
ج	الجسم ليس في حالة اتزان سكوني، ويبدأ الدوران بعكس اتجاه حركة عقارب الساعة.
د	الجسم ليس في حالة اتزان سكوني، ويبدأ الدوران باتجاه حركة عقارب الساعة.



حصّة رقم 7: الحركة الدورانية

للتعليم والتدريب الإلكتروني

144	الزاوية التي يصنعها الخط الواصل بين الجسم ونقطة الأصل مع الخط المرجعي (محور +x) تُسمى:
أ	الإزاحة الزاوية
ب	الموقع الزاوي
ج	السرعة الزاوية
د	الزاوية الحرجة

145	التغير في الموقع الزاوي أثناء دوران الجسم يسمى:
أ	السرعة الزاوية
ب	التردد الزاوي
ج	التسارع الزاوي
د	الإزاحة الزاوية

146	عند دوران أسطوانة مصممة متماثلة حول محور ثابت مدة زمنية معينة فإن مقدار الإزاحة الزاوية :			
أ	يكون متساويا لأجزائها جميعها.	ب	لا يعتمد على زمن دوران الجسم؛ فهو يساوي $(2\pi rad)$ دائما	
ج	يكون أكبر للجسيمات القريبة من محور الدوران.	د	يكون أكبر للجسيمات البعيدة من محور الدوران.	

147	عندما يدور الجسم مع عقارب الساعة فإن إزاحته الزاوية:			
أ	ثابتة	ب	تقل	ج
				د
				تكون موجبة
				تكون سالبة

148	الدورة الكاملة لجسم صلب يدور حول محور ثابت تساوي:			
أ	πrad	ب	$2\pi rad$	ج
				د
				$4\pi rad$
				$2 rad$

149	إذا كانت الإزاحة الزاوية لجسم $40\pi rad$ ، فهذا يعني أن الجسم دار حول محوره:			
أ	$20 rev$	ب	$50 rev$	ج
				د
				$100 rev$
				$200 rev$

150	الإزاحة الزاوية التي يقطعها عقرب الدقائق خلال ربع دورة بالراديان هي:			
أ	$\frac{\pi}{4}$	ب	$\frac{\pi}{2}$	ج
				د
				π
				2π

151	مضى من الزمن الآن $10min$ على ساعة الحائط، ما مقدار الإزاحة الزاوية لعقرب الثواني؟			
أ	$2\pi rad$	ب	$5\pi rad$	ج
				د
				$10\pi rad$
				$20\pi rad$

152	الإزاحة الزاوية مقسومة على الزمن تسمى:			
أ	السرعة	ب	التسارع	ج
				د
				السرعة الزاوية
				التسارع الزاوي

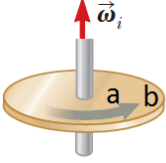
153	عند دوران إطار سيارة حول محور ثابت؛ فإن مقدار سرعته الزاوية :			
أ	يكون متساويا لأجزائه جميعها.	ب	يزداد بالابتعاد عن محور الدوران.	
ج	يقل بالابتعاد عن محور الدوران.	د	يساوي صفرا.	

154	تدور محطة الفضاء الدولية حول محورها في مدار حول الأرض، إن مقدار السرعة الزاوية يكون:			
أ	متساوي لكل أجزاء المحطة	ب	يقل كلما اتجهنا لمحور دوران المحطة	
ج	يزداد كلما اتجهنا لمحور دوران المحطة	د	يزداد كلما اتجهنا لحافة المحطة الخارجية.	

واصل لتصل إياك ثم إياك أن تتوقف



جسمان متماثلان A و B على سطح الأرض؛ الجسم A عند خط الاستواء، والجسم B عند قطبها الشمالي، أي مما يأتي يعبر بشكل صحيح عن العلاقة بين سرعتي الجسمين الزاوية؟	155
$\omega_A > \omega_B$	ب
$\omega_A = \omega_B \neq 0$	أ
$\omega_A = \omega_B = 0$	د
$\omega_A < \omega_B$	ج

	الشكل المجاور يوضح قرصًا يدور حول محور ثابت تم وضع العلامتين A, B على القرص أي الآتي هو الأصح:	156
$\omega_A < \omega_B$	ج	أ
$\omega_A > \omega_B$	ب	ب
$\omega_A = \omega_B$	د	ج
لا يمكن التنبؤ	د	د

السرعة الزاوية لعقرب الثواني في ساعة بيغ بن هو:	157
$\pi \text{ rad/s}$	ب
$2\pi \text{ rad/s}$	أ
$\frac{\pi}{60} \text{ rad/s}$	د
$\frac{\pi}{30} \text{ rad/s}$	ج

تتجه بنظرك إلى الشرق فترى ساعة حائط ، ما هو اتجاه السرعة الزاوية لعقرب الثواني :	158
الشرق	ب
الغرب	أ
الجنوب	د
الشمال	ج

التغير في السرعة الزاوية مقسوم على الزمن يدعى:	159
الإزاحة الزاوية	ب
السرعة الزاوية	أ
التسارع الزاوي	ج
التردد الزاوي	د

يدور إطار لعبة بمعدل ثابت مقداره 150 rad/s فإن تسارعه الزاوية يساوي:	160
موجب	ب
سالب	أ
صفرًا	ج
5 rad/s^2	د

ميل الخط المستقيم المرسوم من العلاقة البيانية بين السرعة الزاوية المتجهة والزمن تعطي:	161
الإزاحة	ب
التسارع	أ
الإزاحة الزاوية	ج
التسارع الزاوي	د

عجلة تدور بتسارع زاوي ثابت لفترة من الزمن T ، عند أي لحظة زمنية خلال ذلك يكون التسارع الزاوي اللحظي مساويًا لمتوسط التسارع الزاوي ؟	162
$0.5T$	ب
$0.75T$	أ
$0.95T$	د
جميع ما ذكر صحيح	ج

163	تدور عجلة عكس اتجاه عقارب الساعة في المستوى xy ، إذا كانت السرعة الزاوية تتناقص مع الزمن، ماهو اتجاه (ω, α) على التوالي:		
أ	$\omega \rightarrow +z, \alpha \rightarrow -z$	ب	$\omega \rightarrow -z, \alpha \rightarrow +z$
ج	$\omega \rightarrow +z, \alpha \rightarrow +z$	د	$\omega \rightarrow -z, \alpha \rightarrow -z$

164	اتجاه التسارع الزاوي α يكون دائماً باتجاه:		
أ	ω_i	ب	ω_f
ج	$\Delta\omega$	د	a

165	بدأت عجلة دورانها من السكون وبعد $5s$ أصبحت سرعتها الزاوية $10rad/s$ فإن تسارعها الزاوي:				
أ	$1rad/s^2$	ب	$2rad/s^2$	ج	$3rad/s^2$
				د	$4rad/s^2$

166	بكرة اسطوانية تدور من السكون إلى سرعة زاوية قدرها $40rad/s$ خلال زمن قدره $10s$ ، أحسب التسارع الزاوي له		
أ	$4rad/s^2$	ب	$5rad/s^2$
		ج	$15rad/s^2$
		د	$20rad/s^2$

167	كانت السرعة الزاوية الابتدائية لدولاب غزل $50rad/s$ نحو الشرق، وبعد $20s$ أصبحت سرعته الزاوية $50rad/s$ نحو الغرب، اتجاه و مقدار التسارع الزاوي:		
أ	$0rad/s^2$	ب	$5rad/s^2$ شرقاً
ج	$5rad/s^2$ غرباً	د	$5rad/s^2$ شمالاً

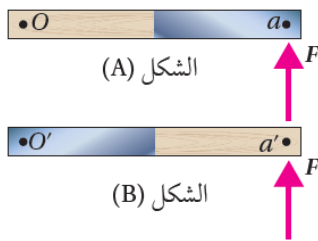
168	السرعة الزاوية لجسم يتحرك حركة دورانية عند لحظة معينة تساوي $(-5rad/s)$ ، وتسارعه الزاوي عند اللحظة نفسها $(3rad/s^2)$. أصف حركة هذا الجسم بأنه:		
أ	يدور باتجاه حركة عقارب الساعة بتسارع	ب	يدور باتجاه حركة عقارب الساعة بتباطؤ.
ج	يدور بعكس اتجاه حركة عقارب الساعة بتسارع.	د	يدور بعكس اتجاه حركة عقارب الساعة بتباطؤ.

169	يدور إطار سيارة بعكس اتجاه حركة عقارب الساعة حول محور دوران ثابت عمودي عليه ويمر في مركزه. أي الجمل الآتية صحيحة في ما يتعلق بحركة الإطار:		
أ	تزداد السرعة الزاوية لأجزاء الإطار بالاقتراب من محور الدوران		
ب	تزداد السرعة الزاوية لأجزاء الإطار بالابتعاد عن محور الدوران.		
ج	يكون لأجزاء الإطار جميعها السرعة الزاوية نفسها.		
د	السرعة الزاوية لبعض أجزاء الإطار موجبة، ولأجزاء أخرى سالبة حسب بعدها عن محور الدوران		

حصة رقم 8: عزم القصور الذاتي وقانون نيوتن الثاني في الحركة الدورانية

170	وحدة قياس عزم القصور الذاتي حسب النظام الدولي للوحدات هي:		
أ	$N.m/s$	ب	$kg.m^2$
ج	$kg.m^2/s$	د	$kg.m/s$

أقرأ الفقرة الآتية، ثم أجب عن السؤالين (14 و15)


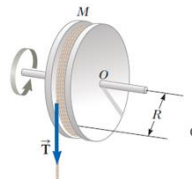


يوضح الشكل المجاور مسطرة مترية نصفها خشب ونصفها الآخر فولاذ. بداية؛ المسطرة قابلة للدوران حول محور عمودي عليها عند نهايتها الخشبية (النقطة O)، أنظر الشكل (A)، وأثرت فيها بقوة (F) عند نهايتها الفولاذية (النقطة a). بعد ذلك؛ جعلت المسطرة قابلة للدوران حول محور عمودي عليها عند نهايتها الفولاذية (النقطة O')، أنظر الشكل (B)، وأثرت فيها بالقوة (F) نفسها عند نهايتها الخشبية (النقطة a')

171	أي العلاقات الآتية صحيحة لعزمي القصور الذاتي للمسطرتين حول محوري دورانهما؟		
أ	$I_A > I_B$	ب	$I_A < I_B$
ج	$I_A = I_B$	د	$I_A = I_B = 0$

172	أي العلاقات الآتية صحيحة حول مقداري التسارع الزاويين المسطرتين حول محوري دورانهم؟		
أ	$\alpha_A > \alpha_B$	ب	$\alpha_A < \alpha_B$
ج	$\alpha_A = \alpha_B$	د	$\alpha_A = -\alpha_B$

173	وحدة قياس عزم القصور الذاتي بالوحدات الأساسية بالنظام الدولي للوحدات هو:		
أ	kg/m	ب	kg/m^2
ج	$kg.m$	د	$kg.m^2$
174	جسم كتلته M معلق بحبل يمر على بكرة قابلة للدوران. التسارع الزاوي للبكرة عند حركتها يعطى بالعلاقة:		
أ	$\alpha = \frac{Mg}{R}$	ب	$\alpha = \frac{TR}{I}$
ج	$\alpha = \frac{TI}{R}$	د	$\alpha = \frac{MR}{T}$



قرص له عزم قصور ذاتي $3.0 \times 10^{-4} \text{ kg} \cdot \text{m}^2$ يدور بسرعة زاوية قدرها 3.5 rad/s ماهو العزم المطلوب لايقافه في 3 s ؟	175
أ	$4.5 \times 10^{-3} \text{ N} \cdot \text{m}$
ب	$3.5 \times 10^{-4} \text{ N} \cdot \text{m}$
ج	$7.5 \times 10^{-4} \text{ N} \cdot \text{m}$
د	$5.0 \times 10^{-4} \text{ N} \cdot \text{m}$

تطبق قوة أفقية ثابتة قدرها 1.2 N على عمود إدارة (وظيفته تدوير القرص) نصف قطره $r = 3 \text{ cm}$ (مهمل الكتلة) متصل بقرص صلب كتلته 4 kg ونصف قطره $R = 8 \text{ cm}$ ، يدور القرص حول محور مركزي مع عقارب الساعة. التسارع الزاوي للقرص يساوي :	176
أ	3.47 rad/s^2
ب	10.31 rad/s^2
ج	1.41 rad/s^2
د	2.81 rad/s^2

تدور حلقة واسطوانة لهما نفس الكتلة ونصف القطر حول محور يمر عموديا على مركزهما الهندسي بنفس التسارع الزاوي، النسبة بين عزم الحلقة إلى عزم الاسطوانة هو: (استخدم الجدول صفحة 56)	177
أ	2
ب	1
ج	$\frac{1}{2}$
د	$\frac{5}{3}$

قضيب صلب كتلته M وطوله L ، ومثبت على طرفيه كتلتين m_1, m_2 كما في الشكل، عزم القصور الذاتي لدوران النظام حول المحور Z يساوي :	178
أ	$I = \frac{L^2}{4} \left[\frac{M}{3} + m_1 + m_2 \right]$
ب	$I = \frac{L^2}{4} \left[\frac{4M}{3} + m_1 + m_2 \right]$
ج	$I = \frac{L^2}{4} [+m_1 + m_2]$
د	$I = \frac{L^2}{4} \left[\frac{4M}{3} + m_1 + m_2 \right]$



كن واثقا بأن حلمك
الذي تتعب من أجله
سيتحقق يوما ما

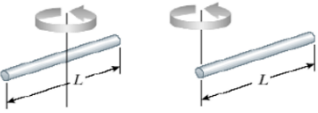
حصه رقم 9: الطاقة الحركية الدورانية والزخم الزاوي وحفظه

179	عندما تزداد السرعة الزاوية لجسم يدور حول محور ثابت بمقدار ثلاثة أمثال فإن الطاقة الحركية الدورانية تزداد بمقدار.		
أ	ثلاثة أمثال	ب	ستة أمثال
ج	تسعة أمثال	د	تبقى ثابتة

180	تدور كرة مصمته كتلتها 15kg ونصف قطرها 0.2m ($I = \frac{2}{5}mr^2$) بسرعة زاوية قدرها 10rad/s فإن طاقتها الحركية الدورانية هي:		
أ	48J	ب	24J
ج	12J	د	6J

181	كرة مصمته كتلتها 4kg ونصف قطرها 0.10m تدور بسرعة زاوية قدرها 10rad/s من محور يمر في مركزها، فإن الطاقة الحركية الدورانية لها تساوي: (تذكر أن عزم القصور الذاتي للكرة المصمته هو $I = \frac{2}{5}mr^2$)		
أ	0.80J	ب	8.00J
ج	80.0J	د	100J

182	كرة مجوفة كتلتها m ونصف قطرها r تدور بسرعة زاوية قدرها $\omega = \frac{2}{r}\text{rad.s}$ من محور يمر في مركزها، فإن الطاقة الحركية الدورانية لها تساوي: (تذكر أن عزم القصور الذاتي للكرة المصمته هو $I = \frac{2}{3}mr^2$)		
أ	$KE_R = \frac{4}{3}mr$	ب	$KE_R = \frac{4}{3}mr^2$
ج	$KE_R = \frac{4}{3}m$	د	$KE_R = \frac{3}{4}m$

		<p>يدير خالد ساقاً منتظماً طوله L من محور دوران يمر في منتصف الساق تارة وتارة أخرى من طرفه ، وفي كلتا الحالتين يدير الساق بسرعة زاوية قدرها ω ، ما مقدار نسبة الطاقة الحركية الدورانية في الحالة الأولى للحالة الثانية. (استعن بقيم عزم القصور الذاتي بالجدول بصفحة 56)</p>	183
0.5	ب	1	أ
0.125	د	0.25	ج

<p>قرص دائري كتلته 5kg ونصف قطره 0.20m يدور بسرعة زاوية قدرها 20rad/s من محوره يمر في مركزه، فإن الطاقة الحركية الدورانية له تساوي: (تذكر أن عزم القصور الذاتي للقرص الدائري هو $I = \frac{1}{2}mr^2$)</p>		184	
40J	ب	200J	أ
5J	د	20.0J	ج

<p>وحدة قياس الزخم الزاوي حسب النظام الدولي للوحدات هي:</p>		185	
kg.m/s	ب	N.m/s	أ
$\text{kg.m}^2/\text{s}$	د	N/s	ج

<p>اتجاه كمية الحركة الزاوية يكون دائماً في اتجاه :</p>		186	
α	ب	ω	أ
τ	د	$\Delta\omega$	ج

<p>احسب كمية الحركة الزاوية لاسطوانة كتلتها 8kg ونصف قطرها 20cm تدور حول محور رأسي يمر موازياً لارتفاعها وخلال مركز كتلتها ، إذا كانت تدور بسرعة زاوية 50rad/s ، $(I = \frac{1}{2}mr^2)$</p>		187	
8kg.m/s	ب	$8\text{kg.m}^2/\text{s}$	أ
4kg.m/s	د	$4\text{kg.m}^2/\text{s}$	ج

<p>أحسب كمية الحركة الزاوية الناشئة عن دوران الأرض حول محورها. (افترض ان الكرة الأرضية كرة مصممة منتظمة $I = \frac{2}{5}mR^2$) بدلالة كتلتها ونصف قطرها وزمنها الدوري.</p>		188	
$L = 2mR^2/T$	ب	$L = mR^2/T$	أ
$L = \frac{4mR^2}{5T}$	د	$L = \frac{4\pi mR^2}{5T}$	ج



189	يدور قرص ($I = 4kg \cdot m^2$) حول محاور ثابت بسرعة زاوية قدرها ($\omega = 10rad \cdot s$) فإن طاقته الحركية الدورانية وزخمه الزاوي:
أ	$KE_R = 40J$, $L = 200kg \cdot m^2/s$ ب
ج	$KE_R = 40J$, $L = 40kg \cdot m^2/s$ د
	$KE_R = 200J$, $L = 200kg \cdot m^2/s$
	$KE_R = 200J$, $L = 40kg \cdot m^2/s$

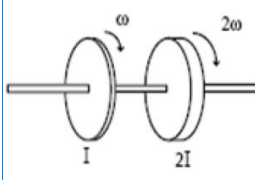
190	كرة مصمتة وكرة مجوفة، لهما الكتلة نفسها ونصف القطر نفسه، تدوران بمقدار السرعة الزاوية نفسه. أي الكرتين مقدار زخمها الزاوي أكبر؟
أ	الكرة المصمتة. ب
ج	لهما مقدار الزخم الزاوي نفسه. د
	الكرة المجوفة.
	لا يمكن معرفة ذلك.

191	أثر عزم محصل قدره $\tau = 25N \cdot m$ على قرص حر الحركة لمدة زمنية قدرها $t = 10s$ ، فإن مقدار التغير في زخمه الزاوي هو:
أ	$25kg \cdot m^2/s$ ب
ج	$4kg \cdot m^2/s$ د
	$12.5kg \cdot m^2/s$
	$2.5kg \cdot m^2/s$

192	يدور إطار دراجة هو ائبة حول محاور ثابت بسرعة زاوية قدرها $12rad/s$ مقدار التغير في زخمه الزاوي عندما يعكس اتجاه دورانه مع بقاء قيمة سرعته الزاوية ثابتة.
أ	$\Delta\omega = 0rad/s$ ب
ج	$\Delta\omega = 12rad/s$ د
	$\Delta\omega = 6rad/s$
	$\Delta\omega = 24rad/s$

193	عندما يقوم اللاعب بضم يديه كما في الشكل المجاور، فإن:
أ	$I_i = I_f$ ب
ج	$I_i > I_f$ د
	$\omega_i = \omega_f$
	$\omega_i > \omega_f$


194	يجلس طالب عزم القصور الذاتي له $I_A = 8kg \cdot m^2$ ، على كرسي دوار ساكن ويمسك بعجلة عزم القصور الذاتي لها $I_B = 2kg \cdot m^2$ وتدور بسرعة ثابتة قدرها $\omega_{iB} = 2\pi rad \cdot s$ ، إذا قلب الطالب العجلة رأساً على عقب فإن سرعته الزاوية تصبح (أهمل كتلة الكرسي الدوار)
أ	$2\pi rad/s$ ب
ج	$0.5\pi rad/s$ د
	$\pi rad/s$
	$0.25\pi rad/s$

	<p>قرصين مثبتين على محور مشترك، القرص الأول عزم القصور الذاتي له (I) وسرعته الزاوية (ω) والقرص الثاني عزم القصور الذاتي له ($2I$) وسرعته الزاوية (2ω) ويدور بنفس اتجاه دوران القرص الأول كما في الشكل المجاور، تم تقريب القرصين ببطء من بعضهما البعض حتى إلتحما وصارا يدوران كجسم واحد، فإن السرعة الزاوية النهائية للقرصين الملتحمين هي: (أهمل القوى الخارجية مثل قوة الاحتكاك)</p>		195
	<p>أ</p> <p>$\frac{1}{3}\omega$</p>	ب <p>$\frac{1}{4}\omega$</p>	ج <p>$\frac{3}{5}\omega$</p>
	د <p>$\frac{5}{3}\omega$</p>		

<p>جسم يدور حول مرور ثابت بطاقة حركية دورانية قدرها KE_R ، زادت سرعته الزاوية ثلاثة أضعاف عما كانت عليه، فإن طاقته الدورانية تصبح</p>		196	
أ	ثلاثة أضعاف ما كانت عليه	ب	ستة أضعاف ما كانت عليه
ج	تسعة أضعاف ما كانت عليه	د	المعلومات غير كافية.

<p>جسم يدور حول محور ثابت بزخم زاوي قدره L ، زادت سرعته الزاوية ثلاثة أضعاف عما كانت عليه، فإن زخمه الزاوي يصبح</p>		197	
أ	ثلاثة أضعاف ما كان عليه	ب	ستة أضعاف ما كان عليه
ج	تسعة أضعاف ما كان عليه	د	المعلومات غير كافية.

<p>وحدة قياس الزخم الزاوي بالوحدات الأساسية بالنظام الدولي للوحدات هو:</p>		198	
أ	$kg.s/m$	أ	$kg.m/s$
ج	$kg.m.s$	د	$kg.m^2/s$

	<p>عندما يقوم المعلم بإجراء التجربة في الشكل المجاور ويقوم بضم يديه أثناء دورانه أي الكميات الآتية تبقى ثابتة ولا تتغير</p>		199
	أ	سرعته الزاوية	ب
ج	الزخم الزاوي له	د	جميع ما سبق

<p>جسم يدور حول مرور ثابت بطاقة حركية دورانية قدرها KE_R ، زادت زخمه الزاوي ثلاثة أمثال عما كانت عليه، فإن طاقته الدورانية تصبح</p>		200	
أ	ثلاثة أمثال ما كانت عليه	ب	ستة أمثال ما كانت عليه
ج	تسعة أمثال ما كانت عليه	د	المعلومات غير كافية.

حصّة رقم 10: التيار الكهربائي والمقاومة الكهربائية

201	المعدل الزمني لتدفق الشحنات الكهربائية :		
أ	المقاومة الكهربائية	ب	القدرة الكهربائية
ج	الطاقة الكهربائية	د	التيار الكهربائي

202	يُقاس التيار الكهربائي بوحدة:			
أ	أمبير. ثانية	ب	كولوم. ثانية	
	ج	أمبير/ ثانية	د	كولوم / ثانية

203	مقدار الشحنة الكهربائية في سلك خلال 2min عندما يمر به تيار شدته 1.0A :		
أ	20C	ب	240C
ج	120C	د	480C

204	خاصية تحدد مقدار التيار الكهربائي الذي سيعبر الدائرة الكهربائية :		
أ	القدرة	ب	فرق الجهد
ج	المقاومة	د	المجال

205	الصيغة الرياضية التالية $V = IR$ تمثل قانون:		
أ	جول	ب	واط
ج	أوم	د	أمبير

206	مقاومة موصل يمر به تيار 1 أمبير عندما يكون فرق الجهد بين طرفيه 1 فولت		
أ	واط	ب	أوم
ج	جول	د	كولوم

207	مقاومة 55Ω فرق الجهد بين طرفيها 110V إن شدة التيار المار فيها ..		
أ	4A	ب	1.5A
ج	2A	د	0.5 A

208	احسب مقاومة جهاز كهربائي يمر به تيار شدته $2A$ وفرق جهد بين طرفيه $20V$:		
أ	40Ω	ب	10Ω
ج	20Ω	د	0.1Ω

209	المقاومية خصيصة فيزيائية للمادة، ومقاومية موصل تتصف بإحدى الصفات الآتية:		
أ	تزداد بزيادة طول الموصل وبزيادة مساحة مقطعه.		
ب	تقل بزيادة طول الموصل وبزيادة مساحة مقطعه		
ج	تزداد بزيادة طول الموصل وينقصان مساحة مقطعه.		
د	تعتمد على نوع المادة وليس على أبعاد الموصل الهندسية		

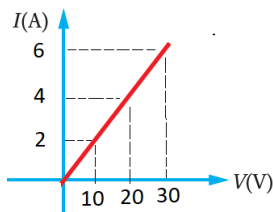
210	تزداد مقاومة موصل فلزي بتقليل :		
أ	طوله	ب	درجة حرارته
ج	مساحة مقطعه	د	مقاومته

211	تزداد مقاومة الموصلات بزيادة درجة الحرارة بسبب		
أ	نقصان حركة الذرات	ب	زيادة تصادم الإلكترونات بالذرات
ج	زيادة عدد الذرات	د	نقصان عدد الإلكترونات

212	مادة مقاومتها صفر توصل الكهرباء دون فقدان الطاقة:		
أ	موصلات مميزة	ب	موصلات سريعة
ج	موصلات فائقة	د	موصلات مرودة





213	سلك من الحديد طوله $50cm$ ومساحة مقطعه $2\mu m^2$ ، فإن مقاومته: ($\rho_{\text{حديد}} = 10 \times 10^{-8} \Omega \cdot m$)		
أ	250Ω	ب	0.25Ω
ج	25.0Ω	د	0.025Ω

214	الشكل المقابل يمثل العلاقة البيانية بين فرق الجهد والتيار المار في سلك معدني مساحة مقطعه $0.25mm^2$ ، والمقاومية له $10 \times 10^{-8} \Omega \cdot m$ فإن طول السلك هو:		
أ	$12.5mm$	ب	$12.5m$
ج	$12.5cm$	د	$12.5km$




215	سلك معدني مقاومته R وطوله L ومساحة مقطعه A ، سحب السلك حتى أصبح طوله $2L$ مقدار مقاومته بعد السحب بدلالة مقاومته قبل السحب هي
أ	$\frac{R}{2}$
ب	R
ج	$2R$
د	$4R$

216	سلك طوله L ومساحة مقطعه A عند وصله بفرق جهد V يمر تيار كهربائي في السلك قيمته I سحب السلك ليصبح طوله $3L$ مع بقاء فرق الجهد بين طرفيه ثابت، فإن التيار الكهربائي الذي سيعبر السلك يساوي:
أ	$\frac{I}{3}$
ب	$\frac{I}{9}$
ج	$3I$
د	$9I$

217	أي الرسومات البيانية الآتية خاطئة بما يختص العلاقة بين المقاومة والمقاومية والأبعاد الهندسية لها.
أ	
ب	
ج	
د	

218	مستخدماً البيانات في الجدول المجاور التي تمثل بيانات حصلنا عليها من تجربة لقياس مقاومة كهربائية أومية، أوجد قيمة هذه المقاومة.
أ	$R = 30\Omega$
ب	$R = 3\Omega$
ج	$R = 15\Omega$
د	$R = 0.33\Omega$

219	الشكل المجاور يمثل رسماً بيانياً لتجربة أجريت على أربعة موصلات، ترتيب مقاومتها من المقاومة الأكبر قيمة إلى المقاومة الأقل قيمة هو:
أ	$R_B > R_A > R_C > R_D$
ب	$R_B = R_A = R_C = R_D$
ج	$R_D > R_C > R_A > R_B$
د	$R_B = R_A > R_C > R_D$



	<p>الشكل المقابل يمثل العلاقة البيانية بين فرق الجهد وشدّة التيار لأربعة موصلات أومية، لها نفس الطول والمقاومية، ومختلفة في مساحة المقطع A، فأبي العلاقات الآتية صحيحة:</p>	220	
$A_A = A_B = A_C = A_D$	ب	$A_B < A_A < A_C < A_D$	أ
$A_B < A_A = A_C = A_D$	د	$A_B > A_A > A_C > A_D$	ج

<p>ثلاث موصلات من الألمنيوم وصل كل منها بنفس مصدر الجهد، أي العلاقات الآتية صحيحة بما يتعلق بقيمة المقاومة لكل منها. علما أن: $L_2 = L_3 = 0.5L_1$ ، ، $A_1 = A_2 = 2A_3$.</p>	221		
$R_1 = R_2 = R_3$	ب	$R_1 < R_2 < R_3$	أ
$R_1 = R_3 > R_2$	د	$R_1 > R_2 > R_3$	ج

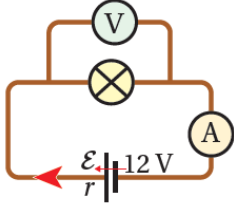
<p>ثلاث موصلات من الألمنيوم وصل كل منها بنفس مصدر الجهد، أي العلاقات الآتية صحيحة بما يتعلق بالتيار المار فيها. علما أن: $L_1 = L_2 = 2L_3$ ، ، $A_2 = A_3 = 2A_1$.</p>	222		
$I_1 = I_2 = I_3$	ب	$I_1 < I_2 < I_3$	أ
$I_1 = I_2 < I_3$	د	$I_1 > I_2 > I_3$	ج

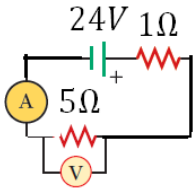
حصة رقم 11: القوة الدافعة الكهربائية

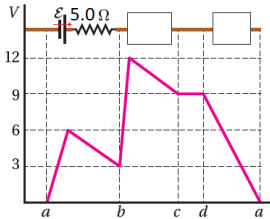
للتعليم والتدريب الإلكتروني

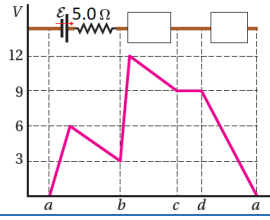
<p>223 ما الرسم الصحيح من الدوائر التالية؟</p>		ب		أ
	د		ج	

دائرة كهربائية بسيطة مقاومتها الخارجية $R = 48\Omega$ ، وتحتوي بطارية قوتها المحركة الكهربائية $\mathcal{E} = 20V$ ومقاومتها الداخلية $r = 2\Omega$ ، فإن قيمة التيار الكهربائي المار في الدائرة؟	224
0.4A	ب
0.2A	د
0.8A	أ
0.6A	ج

	225	عندما تكون قراءة الفولتميتر في الدارة المبينة في الشكل (9.0V) وقراءة الأميتر (1.5 A) ؛ فإن المقاومة الداخلية للبطارية تساوي:
1.5Ω	ب	1.0Ω
2.5Ω	د	2.0Ω
		أ
		ج

	226	مقدار قراءة الأميتر والفولتميتر في الدائرة الكهربائية المجاورة
1A, 5V	د	4A, 20V
		6A, 20V
		4A, 24V
		أ

	227	الشكل المجاور يمثل تغيرات الجهد في دارة كهربائية بيانياً، معتمداً على البيانات فيه أوجد التيار المار في الدارة.
0.8A	ب	1.5A
0.6A	د	1.2A
		أ
		ج

	228	الشكل المجاور يمثل تغيرات الجهد في دارة كهربائية بيانياً، معتمداً على البيانات فيه ماذا يمثل العنصر الموصول بين النقطتين d, a
2Ω مقاومة داخلية	ب	15Ω مقاومة خارجية
9V بطارية	د	20Ω مقاومة خارجية
		أ
		ج

	<p>الشكل المجاور يمثل تغيرات الجهد في دائرة كهربائية بيانياً، معتمداً على البيانات فيه ماذا يمثل العنصر الموصل بين النقطتين b, c</p>	229	
بطارية ($\varepsilon = 12V$) و ($r = 1\Omega$)	ب	بطارية ($\varepsilon = 9V$) و ($r = 5\Omega$)	أ
مقاومة خارجية ($R = 5\Omega$)	د	بطارية ($\varepsilon = 12V$) و ($r = 5\Omega$)	ج

	<p>الشكل المجاور يمثل تغيرات الجهد في دائرة كهربائية بيانياً، معتمداً على البيانات فيه، احسب كلا من القوة الدافعة الكهربائية للبطارية، التيار الكهربائي المار في الدائرة، المقاومة الخارجية.</p>	230	
$\varepsilon = 15V$, $I = 3A$, $R = 2\Omega$	ب	$\varepsilon = 12V$, $I = 3A$, $R = 4\Omega$	أ
$\varepsilon = 15V$, $I = 3A$, $R = 12\Omega$	د	$\varepsilon = 15V$, $I = 3A$, $R = 4\Omega$	ج

<p>الرمز الذي يمثل الجهاز الذي يقيس التيار الكهربائي في الدارة الكهربائية هو:</p>	231
	أ
	ب
	ج
	د

حصة رقم 12: القدرة الكهربائية والدارة الكهربائية البسيطة

المعدل الزمني لتحويل الطاقة	232
التيار الكهربائي	أ
القدرة الكهربائية	ب
طاقة الوضع الكهربائية	د
المقاومة الكهربائية	ج

233	يمر تيار شدته $4A$ خلال مصباح مقاومته 30Ω فإن قدرة المصباح الكهربائي تساوي:		
أ	$110 W$	ب	$110 J$
ج	$480 W$	د	$480 J$

234	قدرة محرك كهربائي يمر به تيار شدته $3A$ فرق جهد $120V$ بين طرفيه:		
أ	$40W$	ب	$240W$
ج	$120W$	د	$360W$

235	مصباح كُتب عليه $50V$, $150W$ مقدار مقاومة المصباح وشدة التيار المار به عند تشغيله هي :		
أ	$200A, 0.5\Omega$	ب	$3A, 16.67\Omega$
		ج	$3A, 150\Omega$
		د	$30A, 2\Omega$

236	أوجد فرق الجهد بين طرفي جهاز كهربائي قدرته $1100W$ إذا كان التيار المار فيه $5 A$		
أ	$44 V$	ب	$220 V$
ج	$110 V$	د	$5500 V$

237	المقدار التالي من الطاقة $3.6 \times 10^6 J$ يساوي:		
أ	kW	ب	kWh
ج	Wh	د	kJh

238	عندما تمر شحنة قدرها $4C$ بين نقطتين فإنها تفقد طاقة قدرها $28J$ ، مقدار فرق الجهد بين النقطتين:		
أ	$4V$	ب	$7V$
ج	$24V$	د	$28V$

239	بطارية جهدها $12 V$ كم تحتاج من الوقت بالثانية لتنتج طاقة مقدارها $600 J$ في دائرة كهربائية يمر فيها تيار مقداره $0.5 A$ ؟		
أ	0.01	ب	100
ج	6	د	3600

240	أحسب تكلفة تشغيل مكيف قدرته $(1500W)$ مدة $(4h)$ يوميا لمدة شهر كامل ($30 day$) ؛ إذا كان سعر وحدة الطاقة الكهربائية $(0.15JD/kWh)$.		
أ	$27 JD$	ب	$2.7 JD$
ج	$9.0 JD$	د	$0.9 JD$

241	مدفأة كهربائية كتب عليها $2kW$ استخدمت $100h$ فما تكلفة استخدامها بالدينار الأردني علماً أن سعر kWh هو $0.12JD$
أ	24 ب
ج	12 د
	2.4
	1.2

242	لنقل القدرة الكهربائية مسافات كبيرة دون ضياع جزء كبير من الطاقة الكهربائية يتم رفع:
أ	التيار ب
ج	المقاومة د
	الجهود
	القدرة

243	يسدد المستهلكون فواتير الكهرباء لمنازلهم عن ثمن
أ	الطاقة الكهربائية ب
ج	القدرة الكهربائية د
	الجهود الكهربائي
	التيار الكهربائي

244	تناسب القدرة المستنفدة في مقاومة ...
أ	عكسيا مع المقاومة وطردياً مع مربع التيار المار فيها ب
ج	طردياً مع المقاومة وعكسياً مع مربع التيار المار فيها د
	عكسياً مع كل من المقاومة وطردياً مع مربع التيار المار فيها
	طردياً مع كل من المقاومة ومربع التيار المار فيها

الدائرة الكهربائية البسيطة

للتعليم والتدريب الإلكتروني

245	بطارية قوتها المحركة الكهربائية $\mathcal{E} = 30V$ ومقاومتها الداخلية $R_0 = 2\Omega$ مقدار التيار الكهربائي المار الذي سينشأ عند ربط هذه البطارية بجهاز مقاومته $R = 8\Omega$ هو:
أ	1A ب
ج	2A د
	2.5A
	3A

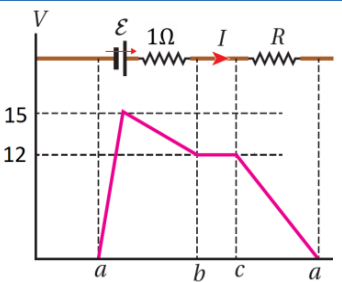
246	دائرة بسيطة تنتج بطايرتها قدرة قدرها $40W$ وتستهلك في مقاومتها الداخلية $5W$ ، فإن القدرة التي تستهلكها المقاومة الخارجية هي:
أ	200W ب
ج	45W د
	35W
	8W

دائرة بسيطة تحتوي على بطارية مقاومتها الداخلية (2Ω) تنتج بطايرتها قدرة قدرها $40W$ وتستهلك في مقاومتها الداخلية $8W$ ، فإن فرق الجهد الكهربائي بين طرفي المقاومة الخارجية :			
أ	$32V$	ب	$8V$
ج	$16V$	د	$4V$

دائرة بسيطة تحتوي على بطارية مقاومتها الداخلية (2Ω) تنتج بطايرتها قدرة قدرها $40W$ وتستهلك في مقاومتها الداخلية $8W$ ، فإن فرق الجهد الكهربائي بين طرفي المقاومة الداخلية:			
أ	$32V$	ب	$8V$
ج	$16V$	د	$4V$

بطارية قوتها المحركة الكهربائية $\mathcal{E} = 30V$ ومقاومتها الداخلية $r = 2\Omega$ مقدار القدرة المستنفذة في المقاومة الداخلية عند ربط هذه البطارية بجهاز مقاومته $R = 8\Omega$ هو:			
أ	$30W$	ب	$18W$
ج	$24W$	د	$6W$

دائرة بسيطة يمر بها تيار كهربائي قدره ($3A$) تنتج بطايرتها قدرة قدرها $100W$ وتستهلك في مقاومتها الداخلية $10W$ ، فإن قيمة المقاومة الخارجية هي:			
أ	90Ω	ب	10Ω
ج	9.0Ω	د	1.1Ω

			
الشكل المجاور يمثل تغيرات الجهد في دائرة كهربائية بيانياً، معتمداً على البيانات فيه، احسب كلا من القدرة المنتجة في البطارية، القدرة المستنفذة في البطارية.			
أ	$P_{\mathcal{E}} = 90W$ ، $P_r = 18W$	ب	$P_{\mathcal{E}} = 60W$ ، $P_r = 9W$
ج	$P_{\mathcal{E}} = 45W$ ، $P_r = 9W$	د	$P_{\mathcal{E}} = 46W$ ، $P_r = 3W$

دائرة مقاومتها صغيرة جداً وتيارها كبير جداً :			
أ	دائرة التوالي	ب	دائرة التأييض
ج	دائرة التوازي	د	دائرة القصر

حصّة رقم 13: توصيل المقاومات

أكاديمية

253	عند توصيل عدة مقاومات مختلفة القيمة على التوالي فإن القيمة الثابتة في هذه الدائرة بين طرفي أي من هذه المقاومات هي:		
أ	ب	ج	د
التيار الكهربائي	فرق الجهد الكهربائي	المقاومة الكهربائية	القدرة الكهربائية

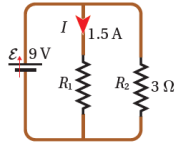
254	عند ربط 5 مقاومات مختلفة القيمة على التوالي فإن التيار المار في المقاومات		
أ	ب	ج	د
متساوٍ والجهد بين طرفي كل مقاومة مختلف	متساوٍ والجهد بين طرفي كل مقاومة مختلف	مختلف والجهد بين طرفي كل مقاومة مختلف	مختلف والجهد بين طرفي كل مقاومة مختلف

255	في الشكل المجاور دائرة مكونة من بطارية ومقاومتين R_1 , R_2 مختلفتا المقدارين وقياس شدة التيار الكهربائي المار في كل مقاومة وفرق الجهد بين طرفيها سنجد أن:		
أ	شدة التيار الكهربائي مختلفة، لكن فرق الجهد متساوٍ		
ب	شدة التيار الكهربائي مختلفة، وكذلك فرق الجهد مختلف		
ج	شدة التيار الكهربائي متساوية، لكن فرق الجهد مختلف		
د	شدة التيار الكهربائي متساوية، وكذلك فرق الجهد متساوٍ		

256	جهاز يستخدم لقياس التيار الكهربائي في أي فرع من فروع الدائرة الكهربائية		
أ	ب	ج	د
الأوميتير	الفولتميتر	الأوميتير	الكشاف الكهربائي

257	المقاومة المكافئة للمقاومتين 3Ω , 6Ω عند توصيلها على التوالي هي:	
أ	ب	2Ω
ج	د	9Ω
		18Ω
		3Ω

258	تكون المقاومة المكافئة للمقاومتين في الدارة المجاورة:	
أ	ب	1Ω
ج	د	2Ω
		3Ω
		6Ω




259	قيمة المقاومة المكافئة في الدائرة المجاورة	
أ	ب	$\frac{R}{4}$
ج	د	$\frac{48}{R}$
		$\frac{4}{R}$
		$4R$

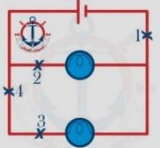
260	وصلت المقاومات 5Ω و 15Ω و 10Ω في دائرة توأل ببطارية جهدها $90V$ ما مقدار المقاومة المكافئة للدائرة؟ وما مقدار التيار فيها؟	
أ	ب	$3A$, 30Ω
ج	د	$270A$, 3Ω
		$3A$, 3Ω
		$270A$, 30Ω

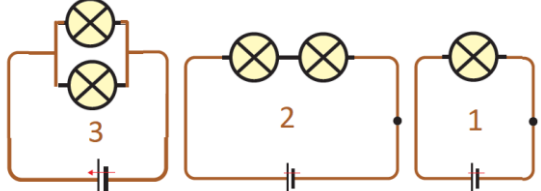
261	ثلاث مقاومات متكافئة قيمة كل واحدة 5Ω عندما وصلت على التوالي مع مصدر للجهد مرتيار قدره $2A$ في الدائرة ، ما مقدار فرق جهد المصدر:	
أ	ب	$10V$
ج	د	$15V$
		$20V$
		$30V$

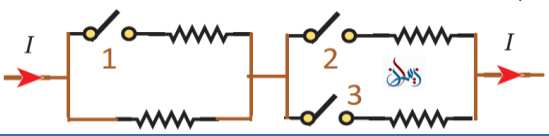
262	خمس مقاومات موصلة على التوازي ، إذا علمت أن فرق الجهد بين طرفي إحدهما $4V$ فإن فرق الجهد بين طرفي الخمس مقاومات يساوي:	
أ	ب	$20V$
ج	د	$4V$
		$9V$
		$1.25V$

عند ربط مقاومتين R_1, R_2 على التوالي مع بطارية تعطي فرق جهد قدره V ، يمكن حساب التيار من العلاقة	263
$I = \frac{V}{R_1 R_2}$	أ
$I = \frac{V}{R_1 + R_2}$	ب
$I = \frac{R_1 R_2}{V}$	ج
	د

ما مقدار جهد البطارية في الدائرة المجاورة بوحدة الفولت؟	264
	
12	أ
24	ب
	ج
	د

الدائرة المجاورة مكونة من بطارية ومصباحين فإذا كانت لديك فرصة واحدة فقط بحيث لا يضىء أي من المصباحين فما النقطة التي ستقطع عنها الدائرة؟	265
	
3	أ
4	ب
	ج
	د

الشكل المجاور يمثل ثلاث دارات كهربائية تعمل على نفس فرق الجهد، المصباح فيها متماثلة المقاومة، أي العلاقات الرياضية الآتية هي الأصح.	266
	
$P_2 < P_1 < P_3$	أ
$P_1 = P_2 = P_3$	ب
$P_1 = P_2 < P_3$	ج
	د
	$P_2 > P_1 > P_3$

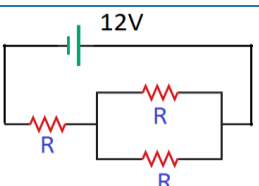
الشكل المجاور يمثل مقاومات متماثلة، أي المفاتيح يجب أن تغلق للحصول على أكبر مقاومة مكافئة؟	267
	
المفتاح رقم 1 فقط	أ
المفتاح رقم 2 و المفتاح رقم 3	ب
المفتاح رقم 1 و المفتاح رقم 2	ج
جميع المفاتيح	د



أنت تحتاج إلى تحفيز فقط لبداية جديدة



268	إذا وصلت ثلاثة أسلاك مقاوماتها متساوية في دائرة كهربائية مع بطارية وكانت فروق الجهد بين أطر افها متساوية وشدة التيارات الكهربائية المارة فيها متساوية وكل منها تساوي $\frac{1}{3}$ شدة التيار المار في البطارية فإن:
أ	هذه المقاومات موصولة مع بعضها على التوالي.
ب	هذه المقاومات موصولة مع بعضها على التوازي.
ج	مقاومتان منها متصلتان على التوازي معا وبينما تتصل الثالثة على التوالي معهم
د	ليس هناك إجابة صحيحة فيما سبق

269	التيار المار في الدائرة المجاورة بدلالة R :
	
أ	$\frac{6}{R}$
ب	$\frac{12}{R}$
ج	$\frac{3}{4R}$
د	$\frac{8}{R}$

270	في الدائرة الموضحة بالشكل المجاور إذا كانت القدرة الكهربائية المستنفذة في المقاومة R_1 تساوي $36W$ ، فإن القدرة المستنفذة في R_2 تساوي $(R_1 = 1\Omega, R_2 = 2\Omega)$
أ	$9W$
ب	$36W$
ج	$18W$
د	$45W$

271	مقاومتان مقدارهما 2Ω متصلتان على التوازي ، فإذا تم توصيلهما على التوالي ، فإن المقاومة المكافئة لهما ستضعف :
أ	0.5 مرة
ب	مرتين
ج	1.5 مرة
د	4 مرات

272	في الشكل المقابل احسب قيمة المقاومة الكهربائية المكافئة بين النقطتين A, B علما أن قيمة كل مقاومة منها 4Ω :
أ	4Ω
ب	7.4Ω
ج	6Ω
د	24.8Ω

حصة رقم 14: قاعدة كيرشوف

	إذا كان التيار الأول ($4.0A$) والتيار الثاني ($2.5A$). فإن مقدار التيار المار في المقاومة (R_3) هو:		273
	أ	6.5A	ب
ج	1.5A	د	0.5A

	أي مما يأتي يمثل العلاقة الرياضية الصحيحة للتيار في الشكل المجاور		274
	أ	$I_1 = I_3 - I_2$	ب
ج	$I_1 = I_2 - I_3$	د	$I_1 = 4I_2$

	يسري تيار في مقاومة باتجاه اليسار، كما في الشكل، إذا كان (V_a) ثابتاً؛ فإنه يمكن وصف الجهد (V_b) بأنه:		275
	أ	(V_b) أعلى من (V_a) وبزيادته يزداد التيار (I)	ب
ج	(V_b) أقل من (V_a) وبزيادته يزداد التيار (I)	د	(V_b) أقل من (V_a) وبزيادته يقل التيار (I)

	احسب قيمة V_b من الشكل المجاور إذا علم أن $V_a = 10V$		276
	أ	16V	ب
ج	10V	د	4V

	<p>احسب قيمة V_b من الشكل المجاور إذا علمت أن $V_a = 30V$</p>	277	
57V	ب	3V	أ
63V	د	60V	ج

	<p>احسب قيمة V_b من الشكل المجاور إذا علمت أن $V_a = 7V$</p>	278	
40V	ب	3V	أ
63V	د	60V	ج

	<p>إذا كان التيار الكهربائي في الشكل يساوي (1.2A)، فإن فرق الجهد ($\Delta V = V_b - V_a$) يساوي:</p>	279	
4.0V	ب	3.2V	أ
4.8V	د	4.2V	ج

	<p>في الشكل المجاور إذا علمت أن ($V_a - V_c = 5V$)، و ($V_b - V_c = 8V$) فاحسب المقاومة الداخلية للبطارية.</p>	280	
3.5Ω	ب	6Ω	أ
0.5Ω	د	1.5Ω	ج

	<p>احسب جهد النقطة a، أعطيت المعلومات التالية عن الشكل المجاور ($V_c = 10V$)، ($I_3 = 5A$)، ($I_1 = 2A$)</p>	281	
$V_a = 17V$	ب	$V_a = 27V$	أ
$V_a = 12V$	د	$V_a = 20V$	ج


	<p>احسب جهد النقطة (a) من الدارة الكهربائية المجاورة علماً أن المقاومة الداخلية (r = 2Ω)</p>	282	
$V_a = -18.66V$	ب	$V_a = 18.66V$	أ
$V_a = 0V$	د	$V_a = 14V$	ج

	<p>مقدار شدة التيار I المار في الدائرة المجاورة</p>	283	
3.3 A	ب	6.6 A	أ
0.5 A	د	1.5 A	ج

	<p>احسب التيار المار في الدارة الكهربائية المجاورة. وحدد اتجاهه في المقاومة (3Ω)</p>	284	
1.5A ، من c إلى d	ب	1.5A ، من d إلى c	أ
0.75A ، من c إلى d	د	0.75A ، من d إلى c	ج

	<p>مقدار المقاومة التي يجب أن توصل وطريقة توصيلها مع المقاومة (2Ω)، حتى يمر بها تيار كهربائي قدره (1A)</p>	285	
7Ω ، على التوالي	ب	7Ω ، على التوازي	أ
2Ω ، على التوازي	د	2Ω ، على التوازي	ج

ضع هدفاً و لا تتخلى عنه حتى تحققه <



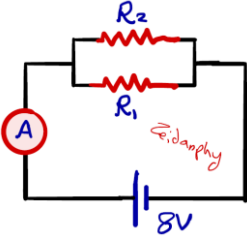
	<p>286</p> <p>فرق الجهد بين النقطة a والنقطة b من الدارة الكهربائية المجاورة علما أن المقاومة الداخلية ($r = 0.5\Omega$)</p>		
14V	ب	0V	أ
39V	د	25V	ج

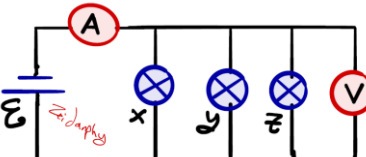
	<p>287</p> <p>معتدا على البيانات المثبتة في الدارة الكهربائية في الشكل المجاور، إذا علمت أن قراءة الأميتر $1.5A$، فإن فرق الجهد V_{ba} بوحدة الفولت يساوي</p>		
9	ب	3	أ
-9	د	-3	ج

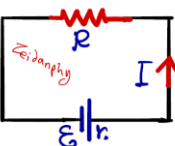
<p>288</p> <p>من بيانات السؤال السابق قيمة المقاومة R بوحدة أوم هي:</p>	ب	2	أ
3	د	4	ج

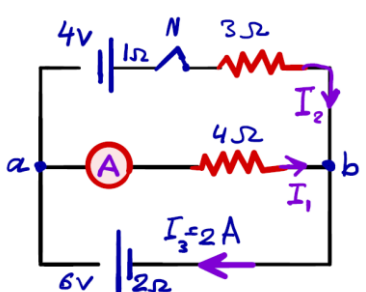
	<p>289</p> <p>معتدا على البيانات المثبتة في الشكل المجاور إذا علمت أن $I_3 = 3A$ فإن قراءة الفولتميتر (V) بوحدة الفولت هي:</p>		
38	ب	36	أ
41	د	39	ج

<p>290</p> <p>من بيانات السؤال السابق القدرة المستهلكة في المقاومة (3Ω) بوحدة واط هي:</p>	ب	1	أ
12	د	27	ج

	<p>معتدا على البيانات المثبتة في الشكل المجاور إذا علمت أن قراءة الأميتر (A) تساوي (6A) والتيار الكهربائي المار في المقاومة R_1 يساوي (4A) فإن قيمة المقاومة R_2 بوحدة أوم هي:</p>		291
	2	ب	1
8	د	4	ج

	<p>الشكل المجاور يمثل دائرة كهربائية فيها ثلاثة مصابيح متماثلة (X, Y, Z)، إذا احترق فتيل المصباح (X) فإن قراءة كل من الأميتر (A) والفولتميتر (V) على الترتيب:</p>		292
	تقل ، لا تتغير	ب	تزداد ، لا تتغير
لا تتغير ، لا تتغير	د	تزداد ، تزداد	ج

	<p>في الشكل المجاور معدل الطاقة التي تنتجها البطارية (ε) يساوي</p>		293
	$\frac{\epsilon}{(R+r)}$	ب	$\frac{\epsilon^2}{(R+r)}$
$\frac{\epsilon}{(R+r)^2}$	د	$\frac{\epsilon^2}{(R+r)^2}$	ج

	<p>اعتمد على البيانات المثبتة في الشكل المجاور والذي يمثل دائرة كهربائية في الإجابة عن الأسئلة (294 ، 295 ، 296) الآتية:</p> <p>فرق الجهد الكهربائي (V_{ab}) بالفولت يساوي</p>		294
	2	ب	-2
10	د	-10	ج

قراءة الأميتر (A) بالأمبير تساوي:		295	
0.5	ب	0.75	أ
1.5	د	1.25	ج

296	عند فتح المفتاح (N) فإن القدرة المنتجة في البطارية ($6V$) بالواط تساوي:		
أ	1	ب	12
ج	27	د	75

397	ثلاث مقاومات متماثلة متصلة كما في الشكل المجاور. عند إغلاق المفتاح (N) فإن قراءة كل من (A_1) و (A_2) على الترتيب:		
أ	لا تتغير ، لا تتغير	ب	تزداد ، لا تتغير
ج	لا تتغير ، تقل	د	تقل ، تزداد

298	إذا كانت قراءة الأميتر (A) في الدارة الكهربائية المبينة في الشكل المجاور تساوي ($3A$) اعتمد على البيانات المثبتة على الشكل في الإجابة عن الفقرات (298 ، 299 ، 300) الآتية مقدار (I) بالأمبير يساوي		
أ	2	ب	3
ج	5	د	8

299	المقاومة الداخلية (r_0) بالأوم تساوي		
أ	0.5	ب	1.5
ج	2.5	د	4.5

300	فرق الجهد (V_{ba}) بالفولت يساوي:		
أ	9	ب	-9
ج	11	د	-11

مفتاح النجاح هو التركيز على الأهداف لا العقبات



حصه رقم 15: المجال المغناطيسي القوة المغناطيسية المؤثرة على شحنة متحركة في مجال مغناطيسي

301	منطقة محيطه بالمغناطيس ويظهر أثره فيها:	أ	التدفق المغناطيسي	ب	المجال المغناطيسي	ج	المجال الفوتوني	د	المجال الكهربائي
302	تخرج خطوط المجال المغناطيسي من القطب إلى القطب	أ	الشمال - الجنوب	ب	الجنوب - الشمال	ج	الموجب - السالب	د	السالب - الموجب
303	يكون اتجاه المجالات المغناطيسية داخل المغناطيس من القطب إلى القطب	أ	الشمال - الجنوب	ب	الجنوب - الشمال	ج	الموجب - السالب	د	السالب - الموجب
304	عند تقرب قطبين مغناطيسيين جنوبيين من بعضهما البعض فإنهما:	أ	يتنافران	ب	يتجاذبان	ج	يتنافران ثم يتجاذبان	د	لا يحدث شيء
305	إذا علقنا مغناطيساً بخيوط وأصبح حر الحركة فإن قطبه الشمالي يتجه نحو القطب الجغرافي للأرض	أ	الشرقي	ب	الغربي	ج	الشمالي	د	الجنوبي
306	من صفات خطوط المجال المغناطيسي	أ	وهمية	ب	تتقارب عند زيادة المجال	ج	لا تتقاطع	د	جميع ما سبق
307	عند تمثيل المجال المغناطيسي المنتظم بخطوط مجال؛ فإنها تتصف بواحدة مما يأتي:	أ	خطوط متوازية والمسافات بينها متساوية	ب	خطوط متوازية والمسافات بينها غير متساوية	ج	خطوط منحنية تشكل حلقات مغلقة	د	خطوط منحنية تشكل حلقات غير مغلقة
308	يعتمد اتجاه القوة المغناطيسية المؤثرة على جسيم مشحون يتحرك في مجال مغناطيسي؟	أ	اتجاه سرعة الجسم	ب	اتجاه المجال المغناطيسي	ج	نوع شحنة الجسيم	د	جميع ما ذكر صحيح

309	من العوامل التي يعتمد عليها مقدار القوة المغناطيسية التي تؤثر في جسيم مشحون متحرك مقدار الشحنة وسرعة الجسيم، حيث تزداد القوة:	أ	زيادة السرعة ونقص الشحنة.	ب	زيادة السرعة وزيادة الشحنة.
		ج	بنقص السرعة وزيادة الشحنة	د	بنقص السرعة ونقص الشحنة.

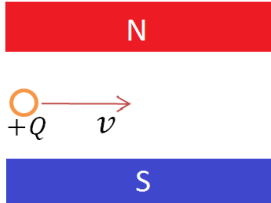
310	ماذا يحدث لشحنة ساكنة إذا أترعلها مجال مغناطيسي	أ	تتحرك مع اتجاه المجال	ب	تتحرك خارج اتجاه المجال
		ج	تتحرك عكس اتجاه المجال	د	لا يحدث لها تغيير وتبقى ساكنة

311	عندما يدخل نيوترون مجالاً مغناطيسياً بسرعة ما، فإنه لا يعاني انحرافاً، هذا يعود إلى أنه	أ	غير مشحون	ب	مشحون بشحنة موجبة	ج	دخل عمودياً على المجال	د	معدوم السرعة
-----	---	---	-----------	---	-------------------	---	------------------------	---	--------------


312	تتحرك شحنة مقدارها $5.0 \mu C$ بسرعة الضوء في مجال مغناطيس مقدارها $400 mT$ بحركة عمودية على المجال. ما مقدار القوة المؤثرة فيها: ($c = 3 \times 10^8 m/s$) (سؤال افتراضي)	أ	$60 N$	ب	$6.0 \times 10^4 N$
		ج	$6.0 \times 10^2 N$	د	$1.0 \times 10^6 N$

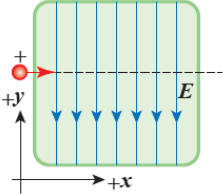
313	يتحرك جسيم شحنته $3 \times 10^{-8} C$ عمودياً في مجال مغناطيسي منتظم شدته $4 T$ فإذا كانت القوة المغناطيسية المؤثرة في الجسيم $24 \times 10^{-4} N$ فاحسب سرعة الجسم.	أ	$2 \times 10^8 m/s$	ب	$2 \times 10^6 m/s$	ج	$2 \times 10^4 m/s$	د	$288 \times 10^{-12} m/s$
-----	---	---	---------------------	---	---------------------	---	---------------------	---	---------------------------

314	الشكل المجاور يمثل الاتجاه الابتدائي لشحنة موجبة تدخل مجالاً مغناطيسياً بسرعة v ، فإن الشحنة:	أ	تنحرف للأسف	ب	تنحرف للأعلى	ج	تنحرف لخارج الورقة	د	تنحرف لداخل الورقة
-----	---	---	-------------	---	--------------	---	--------------------	---	--------------------




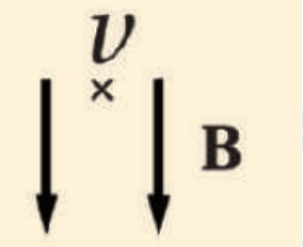
315	من الرسم المجاور حدد انحراف الإلكترون عندما يدخل المجال المغناطيسي عمودياً.	أ	أسفل الورقة	ب	أعلى الورقة	ج	داخل الورقة	د	خارج الورقة
-----	---	---	-------------	---	-------------	---	-------------	---	-------------



	<p>يتحرك أيون موجب باتجاه محور ($+x$)، داخل غرفة مفرغة فيما مجال كهربائي باتجاه ($-y$)، كما في الشكل، في أي اتجاه يجب توليد مجال مغناطيسي بحيث يمكن أن يؤثر في الجسم بقوة تجعله لا ينحرف عن مساره؟</p>		316	
	أ	باتجاه محور ($+y$)، للأعلى.	ب	باتجاه محور ($-y$)، للأسفل.
	ج	باتجاه محور ($+z$)، نحو الناظر	د	باتجاه محور ($-z$)، بعيدا عن الناظر

<p>يدخل بروتون غرفة مفرغة من الهواء بسرعة من الغرب نحو الشرق تحتوي مجالا كهربائيا اتجاهه من أسفل إلى أعلى الورقة، في أي اتجاه يجب توليد مجالا مغناطيسيا حتى يمر البروتون دون إنحراف.</p>		317	
أ	$+z$	ب	$-z$
ج	$+y$	د	$-y$

	<p>عندما يسلك الإلكترون المسار في الشكل المجاور عند دخوله إلى مجال مغناطيسي فإن اتجاه المجال المغناطيسي يكون باتجاه:</p>		318
	أ	$-z$	ب
ج	$-y$	د	$+y$

	<p>مجال مغناطيسي منتظم مقداره $0.5T$ يتجه رأسيا إلى أسفل، دخل فيه بروتون كما في الشكل وبسرعة أفقية مقدارها $2 \times 10^6 m/s$. ما مقدار القوة المؤثرة في البرتون و اتجاهها لحظة دخوله المجال.</p>		319
	أ	$1.6 \times 10^{-13} N$ إلى اليسار	ب
ج	$1.6 \times 10^{-13} N$ إلى اليمين	د	$1.0 \times 10^{-13} N$ إلى اليمين

<p>مجال مغناطيسي منتظم له مركبتان الأولى $0.3T$ نحو ($+x$) والثانية $0.4T$ نحو المحور ($-z$) إذا تحركت شحنة نقطية سالبة مقدارها $1\mu C$ بسرعة $2 \times 10^6 m/s$ باتجاه محور ($-x$) فدخلت منطقة المجال، فإن القوة المغناطيسية المؤثرة في الشحنة لحظة دخولها تساوي.</p>		320	
أ	$0.6N, +y$	ب	$0.6N, -y$
ج	$0.8N, -y$	د	$0.8N, +y$



حصّة رقم 16: الحركة الدائرية لجسيم مشحون في مجال مغناطيسي منتظم

	<p>321 دخلت أربعة جسيمات (a, b, c, d) منطقة مجال مغناطيسي منتظم بسرعات متساوية وباتجاه عمودي على خطوطه كما في الشكل. ترتيب الجسيمات (a, b, d) تصاعديا حسب كتلتها هو:</p>		
	<p>أ $m_a > m_b > m_d$</p>	ب	<p>ب $m_b > m_a > m_d$</p>
	ج	<p>د $m_d > m_b > m_a$</p>	<p>د $m_b > m_d > m_a$</p>
<p>322 في السؤال السابق نوع شحنة كلا من الجسيم a والجسيم d هي:</p>			
أ	ب	<p>أ $q_a = +, q_d = +$</p>	<p>ب $q_a = -, q_d = -$</p>
ج	د	<p>ج $q_a = +, q_d = -$</p>	<p>د $q_a = -, q_d = +$</p>
<p>323 عند دخول جسيم مشحون مجالا مغناطيسيا متعامدا عليه فإن الشحنة تسلك مسارا:</p>			
أ	ب	دائريا	ج
	د	جيبيا	ب
<p>324 دخل جسيم ألفا مجالا مغناطيسيا ولم ينحرف وذلك بسبب أن جسيم ألفا</p>			
أ	ب	غير مشحون	د
ج	د	مشحون	ب
<p>325 دخل جسيم مشحون يسير بسرعة منتظمة في خط مستقيم مجالا مغناطيسيا منتظما وباتجاه عمودي عليه فإنه:</p>			
أ	ب	يحافظ على زخمه من حيث المقدار والاتجاه	د
ج	د	يغير طاقته الحركية	ب
<p>326 دخل إلكترون بسرعة (v) عموديا على مجال مغناطيسي منتظم فتتحرك في مسارات دائرية تحت تأثير قوة المجال، إن مقدار سرعة الإلكترون بعد مرور ($5s$) من دخوله إلى المجال بدلالة سرعته (v) تساوي</p>			
أ	ب	$0.5v$	د
ج	د	$0.2v$	ب

327	أدخل بروتون وإلكترون بشكل عمودي على مجال مغناطيسي منتظم فاتخذنا مسارين دائريين متساويين في نصف القطر، عند مقارنة سرعتي دخول البروتون والإلكترون إلى المجال فإن:		
أ	سرعتهما متساويتان في المقدار، ولهما الاتجاه نفسه.		
ب	سرعتهما متساويتان في المقدار، ومتعاكستان في الاتجاه		
ج	سرعة دخول البروتون أكبر من سرعة دخول الإلكترون، ولهما الاتجاه نفسه.		
د	سرعة دخول البروتون أصغر من سرعة دخول الإلكترون، ومتعاكسان في الاتجاه.		

328	من تطبيقاته فصل عينة من اليورانيوم إلى النظائر المكونة لها		
أ	المطياف	ب	أنبوب أشعة المهبط
ج	مطياف الكتلة	د	الباروميتر

329	جهاز يستخدم المجالين الكهربائي والمغناطيسي في قياس كتلة الأيونات الموجبة والجزيئات		
أ	المطياف	ب	الميزان الحساس
ج	مطياف الكتلة	د	الميزان ذو الكفتين

330	يمكن تسريع إلكترون عن طريق		
أ	مجال كهربائي	ب	مجال مغناطيسي
د	ليست أيًا منهما	ج	كلاهما


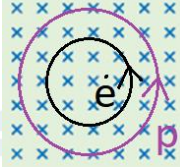


331	عندما يتحرك جسيم مشحون حركة دائرية في مجال مغناطيسي منتظم؛ متى يزداد نصف قطر المسار الدائري . للجسيم؟		
أ	زيادة المجال وزيادة الشحنة	ب	زيادة الكتلة ونقص المجال
ج	بنقص الكتلة ونقص السرعة	د	بنقص الكتلة وزيادة المجال

332	يزداد نصف قطر المسار الدائري للجسيم المشحون في المسرعات النووية		
أ	زيادة شدة المجال المغناطيسي المؤثر	أ	زيادة كتلة الجسيم
ج	زيادة شحنة الجسيم	ج	بتقليل سرعة الجسيم

333	دخل جسيما شحنتهما q ولهما نفس السرعة إلى جهاز مطياف الكتلة، كتلة الأول m_1 والثاني m_2 فإذا كان نصف قطر مسار الأول r_1 والثاني r_2 يعطى بالعلاقة ($r_2 = 3r_1$) فإن:		
أ	$m_1 = 3m_2$	ب	$m_2 = 3m_1$
د	$m_2 = 9m_1$	ج	$m_1 = 9m_2$

334	يستخدم المجال المغناطيسي لحساب الشحنة النوعية للجسيمات، ماذا يقصد بالشحنة النوعية؟		
أ	نسبة كتلة الجسيم إلى مربع شحنته	ب	نسبة شحنة الجسيم إلى مربع كتلته
ج	نسبة كتلة الجسيم إلى شحنته	د	نسبة شحنة الجسيم إلى كتلته

وحدة الشحنة النوعية $\left(\frac{C}{kg}\right)$ وتكافئ:		335
T/s	ب	$T \cdot s$
$(T/s)^{-1}$	د	$(T \cdot s)^{-1}$

أي الرسومات الآتية تمثل حركة إلكترون وبروتون يتحركان بنفس السرعة داخل مجال مغناطيسي منتظم اتجاهه نحو $(-z)$			336
	ب		أ
	د		ج

أيون موجب شحنته $(+e)$ يكمل 5 دورات في مجال مغناطيسي منتظم $(5.0 \times 10^{-2} T)$ خلال مدة زمنية $(1.5ms)$ ، أحسب كتلة الأيون بوحدة (kg) .		337
3.8×10^{-25}	ب	3.8×10^{25}
2.8×10^{-25}	د	2.8×10^{25}

حصة رقم 17: القوة المؤثرة في موصل يحمل تيارا في مجال مغناطيسي

الصيغة الرياضية لحساب القوة المغناطيسية المؤثرة في سلك موضوع في مجال مغناطيسي منتظم				338			
$F = IL\sin\theta$	د	$F = IBL\tan\theta$	ج	$F = IBL\sin\theta$	ب	$F = IBL\cos\theta$	أ

يقاس المجال المغناطيسي بوحدة تسلا وهي تكافئ:		339
نيوتن/ متر. أمبير	ب	نيوتن/ متر. ثانية
أمبير. متر/ نيوتن	د	نيوتن/ أمبير. متر. ثانية

340	احسب القوة المؤثرة في سلك طوله 40cm ويمر به تيار مقداره 20A في مجال مغناطيسي منتظم 0.4T عموديا على اتجاه التيار.						
أ	1.6N	ب	3.2N	ج	6.4N	د	0N

341	يمر تيار كهربائي مقداره 10A في سلك مستقيم طوله 0.3m موازي مع مجال مغناطيسي منتظم قدره 2T ، فإن القوة المؤثرة في السلك بوحدة N تساوي:						
أ	12	ب	9	ج	6	د	0

342	الجدول المجاور يمثل أربع حالات لسلك يمر به تيار كهربائي وضع عموديا في مجال مغناطيسي تكون القوة المغناطيسية المؤثرة أكبر في الحالة رقم		الحالة	I(A)	B(T)	
	1	2				3
أ	1	ب	2	3	4.0	0.3
ج	3	د	4	4	5.0	0.2

343	إذا كانت القوة المغناطيسية لسلك يحمل تيارا تساوي 50N وكانت قيمة المجال المغناطيسي الناشئ يساوي 1T ومقدار التيار المار فيه يساوي 25A فإن طول السلك يساوي		
أ	0.5m	ب	2m
ج	1m	د	4m

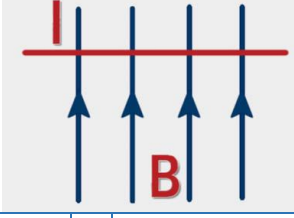
344	موصل مستقيم طوله 20cm ووزنه 0.5N ، يمر في الموصل تيار كهربائي قدره 10A فما مقدار المجال المغناطيسي المنتظم الذي يجب ان يؤثر فيه رأسيا بحيث يطفو السلك في المجال (يتزن).		
أ	0T	ب	0.15T
ج	0.25T	د	0.50T


345	افتراض أن جزءا طوله 40cm من سلك يسري فيه تيار متعامد مع مجال مغناطيسي مقداره 2.0T ويتأثر بقوة مقدارها 200mN ما مقدار التيار المار في السلك		
أ	0.75A	ب	0.25A
ج	0.50A	د	0.10A



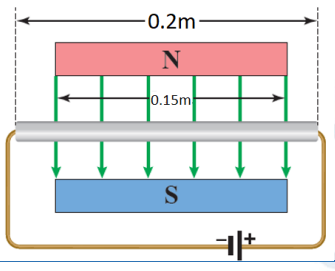
النجاح يحققه الذين يواصلون المحاولة بنظرة إيجابية للأشياء



		اتجاه القوة المغناطيسية الناشئة من مرور التيار الكهربائي في السلك المستقيم في الشكل المجاور من الشرق إلى الغرب تكون:		346			
أ	داخلة إلى الورقة	ب	خارجة من الورقة	ج	لأسفل الورقة	د	يمين الورقة

		اتجاه القوة المغناطيسية الناشئة من مرور التيار الكهربائي في السلك المستقيم في الشكل المجاور من الشرق إلى الغرب تكون:		347			
أ	+x	ب	-x	ج	+z	د	-z

		موصل مستقيم طوله 30cm ، يمر فيه تيار كهربائي مقداره 5A مغمور في مجال مغناطيسي منتظم مقداره 0.2T كما في الشكل المجاور. القوة المغناطيسية التي يؤثر بها المجال في الموصل بوحدة نيوتن تساوي:		348	
علما أن $\cos 37^\circ = 0.8$ و $\sin 37^\circ = 0.6$		أ	0.18N ، +Z	ب	0.18 ، -Z
ج	0.24 ، +Z	د	0.24 ، -Z		

		في الشكل المجاور سلك ألومنيوم طوله (0.2m) يحمل تيارا (10A)؛ جزء منه داخل مجال مغناطيسي (0.4T) وعمودي عليه. فإن مقدار واتجاه القوة المغناطيسية:		349
أ	0.6N ، -z	ب	0.6N ، +z	
ج	0.8N ، -z	د	0.8N ، +z	

وحدة قياس عزم الثناقلي المغناطيسي هي:		350					
أ	N.m	ب	A.m	ج	N.m ²	د	A.m ²

يسري تيار قدره 20A في حلقة مساحتها 5cm^2 ، مقدار عزم الثناقلي المغناطيسي المتكون هو:		351	
أ	100A.m^2	ب	0.01A.m^2
ج	4A/m^2	د	0.04A/m^2

352	يدور ملف عزم الثناطي المغناطيسي له $0.4A \cdot m^2$ في مجال مغناطيسي منتظم قدره $0.008T$ ، مقدار عزم الازدواج الناشئ عن الملف عندما يصبح مستواه يعامد خطوط المجال المغناطيسي.		
أ	$0N \cdot m$	ب	$50N \cdot m$
ج	$0.02N \cdot m$	د	$0.0032N \cdot m$

353	سلك نحاسي طوله $12cm$ ، صنع منه ملف مربع الشكل ثم وضع في مجال مغناطيسي منتظم شدته $200mT$ ، وعند مرور تيار كهربائي فيه شدته $20A$ أصبح يدور ، مقدار عزم الإزدواج على الملف حوله محوره عندما يكون مستواه يوازي خطوط المجال المغناطيسي.		
أ	$0N \cdot m$	ب	$0.36N \cdot m$
ج	$0.036N \cdot m$	د	$0.0036N \cdot m$

354	ملف دائري نصف قطره $(\sqrt{20}cm)$ يتكون من (100) لفة ويحمل تيارا كهربائيا ($25A$) معلق رأسيا في مجال مغناطيسي أفقي منتظم ، مقداره ($0.4T$) تصنع خطوطه زاوية (30°) مع العمودي على مستوى الملف ، مقدار عزم الازدواج الذي يؤثر به المجال المغناطيسي المنتظم في الملف.		
أ	$6.28N/m$	ب	$3.14N/m$
ج	$1.57N/m$	د	$0.79N/m$

حصة رقم 18: المغناطيس الكهربائي (سلك مستقيم، ملف دائري، ملف لولبي) الجزء 1

355	وحدة قياس النفاذية المغناطيسية هي:		
أ	$T \cdot A/m$	ب	$A \cdot m/T$
ج	$T \cdot m/A$	د	T/A

356	اكتشف العالم أروستد أنه عند مرور التيار الكهربائي في سلك فإنه ينشأ حول السلك:						
أ	مجال كهربائي	ب	مجال كهرومغناطيسي	ج	مجال مغناطيسي	د	مجال جاذبي

357	شدة المجال المغناطيسي على بعد $10cm$ من سلك مستقيم يحمل تيار $30A$:						
أ	5×10^6T	ب	$5 \times 10^{-6}T$	ج	6×10^5T	د	$6 \times 10^{-5}T$

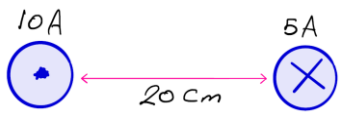
358	موصل مستقيم لا نهائي الطول موضوع على سطح يحمل تيار كهربائياً $50A$ يتجه من الشمال إلى الجنوب، حدد مقدار واتجاه المجال المغناطيسي عند نقطة على السطح تبعد $2.5m$ إلى الشرق من السلك.		
أ	$4 \times 10^{-7}T$, +z	ب	$4 \times 10^{-6}T$, +z
ج	$4 \times 10^{-7}T$, -z	د	$4 \times 10^{-6}T$, -z

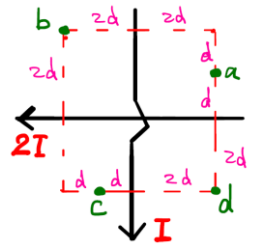
359	قيمة المجال المغناطيسي عند النقطة a في الشكل المجاور هي:		
أ	$5 \times 10^{-6}T$	ب	$1 \times 10^{-6}T$
ج	$1 \times 10^{-5}T$	د	$1 \times 10^{-4}T$

360	يسري تيار كهربائي في موصل فينشأ حوله مجال مغناطيسي قيمته B على بعد r من الموصل، كم تصبح قيمة المجال المغناطيسي على بعد $4r$ من الموصل.		
أ	$4B$	ب	$2B$
ج	$0.5B$	د	$0.25B$


361	يمر تيارين مقدار كل منهما $10A$ ، كما في الشكل المجاور، احسب محصلة المجال المغناطيسي عند النقطة a		
أ	$0T$	ب	4×10^{-5}
ج	$4\sqrt{2} \times 10^{-5}$	د	8×10^{-5}

362	يمر تيارين مقدار كل منهما $10A$ ، كما في الشكل المجاور، احسب محصلة المجال المغناطيسي عند النقطة a		
أ	$0T$	ب	4×10^{-5}
ج	$4\sqrt{2} \times 10^{-5}$	د	8×10^{-5}

	في الشكل المجاور موصلان مستقيمان طويلان متوازيان، يحملان تيارين كهربائيين متعاكسين المجال المغناطيسي المحصل عند منتصف المسافة بينهما بوحدة (تسلا) يساوي:	363
$1 \times 10^{-5} T$, $-y$	ب	$1 \times 10^{-5} T$, $+y$
$3 \times 10^{-7} T$, $-y$	د	$3 \times 10^{-5} T$, $+y$

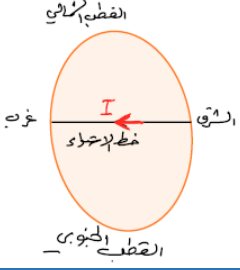
	في الشكل المجاور موصلان مستقيمان متعامدان يمر في كل منهما تيار كهربائي (I , $2I$) ، ينعقد المجال المغناطيسي المحصل الناشئ عنهما عند النقطة	364
b	ب	a
d	د	c

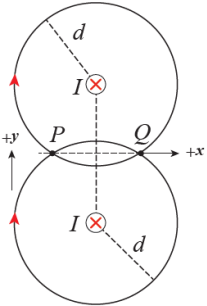
شكل المجال المغناطيسي حول سلك مستقيم يمر به تيار:				365			
أ	منحنيات مغلقة	ب	حلقات حلزونية	ج	خطوط مستقيمة	د	حلقات دائرية

	اتجاه المجال المغناطيسي الناشئ من مرور تيار كهربائي في سلك مستقيم في الشكل المجاور عند النقطة A يكون	366					
أ	لأعلى الورقة	ب	لأسفل الورقة	ج	داخل إلى الورقة	د	خارج من الورقة

إذا مرت تيار كهربائي في موصل مستقيم عمودي على الصفحة واتجاه التيار باتجاه الناظر، يكون اتجاه المجال المغناطيسي عند نقطة تقع شمال السلك تماما:				367
أ	شمالا	ب	جنوبا	
ج	شرقا	د	غربا	

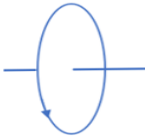
إذا مرت تيار كهربائي في سلك مستقيم عمودي على الصفحة الأفقية وكان اتجاه التيار بعيدا عن الناظر ($-Z$) فإن اتجاه المجال المغناطيسي عند نقطة تقع شرق السلك تماما يكون.				368
أ	شمالاً	ب	شرقاً	
ج	جنوباً	د	غرباً	

	<p>إذا كان سلك يحمل تيار ملفوف حول خط الاستواء للكرة الأرضية والتيار يمر فيه من الشرق إلى الغرب فإن اتجاه المجال المغناطيسي له في مركز الأرض يكون (أهمل المجال المغناطيسي الأرضي)</p>		369
	أ	من الشرق للغرب	ب
ج	من الغرب للشرق	د	نحو القطب الجنوبي

	<p>سلكان مستقيمان متوازيان لانهايا الطول؛ يحملان تيارين متساويين وباتجاه (-z) داخل الصفحة؛ النقطتان (P, Q) تبعدان عن السلكين مسافات متساوية، كما في الشكل. كيف يكون اتجاه المجال المغناطيسي المحصل عند النقطتين (P, Q)؟</p>		370
	أ	عند (P) باتجاه (+x)، وعند (Q) باتجاه (+y)	ب
ج	عند (P) باتجاه (+x)، وعند (Q) باتجاه (-x)	د	عند (P) باتجاه (+y)، وعند (Q) باتجاه (-y)

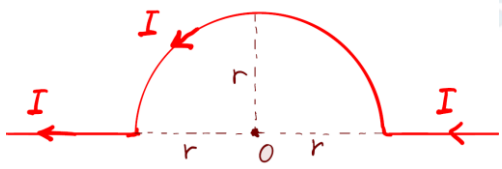
<p>مقدار المجال المغناطيسي في مركز الملف الدائري الناشئ عن مرور التيار في الملف يزداد بنقصان:</p>		371	
أ	شدة التيار	ب	عدد اللفات
ج	مساحة مقطع الملف	د	الوسط المحيط بالملف

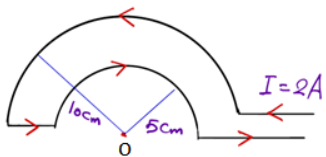
<p>ملفان دائريان (a, b) لهما نفس عدد اللفات ويمر فيهما نفس قيمة التيار الكهربائي، نصف قطره الملف a يساوي r، كم يجب أن يكون نصف قطر الملف b حتى تكون النسبة بين مجالهما المغناطيسي $\frac{B_b}{B_a} = \frac{1}{3}$</p>		372	
أ	$r_a = 3r_b$	ب	$r_b = 3r_a$
ج	$r_a = 9r_b$	د	$r_b = 9r_a$

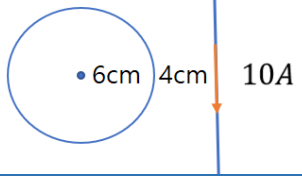
	<p>المجال المغناطيسي الناتج في مركز الملف الدائري في الشكل المجاور يكون باتجاه:</p>		373
	أ	الشرق (+x)	ب
ج	بعيدا عن الناظر (-z)	د	نحو الناظر (+z)

		المجال المغناطيسي الناتج في مركز الملف الدائري في الشكل المجاور يكون باتجاه:	374
الجنوب (-y)	ب	الشمال (+y)	أ
نحو الناظر (+z)	د	بعيدا عن الناظر (-z)	ج

ملف دائري نصف قطره 3.14cm مكون من 100 لفة يمر به تيار قدره 0.5A ، مقدار شدة المجال المغناطيسي الناشئ عند مركز الملف:				375			
$2 \times 10^{-2}T$	ب	$10^{-2}T$	ج	$10^{-3}T$	د	$\pi 10^{-3}T$	أ

		اعتمد على الشكل المجاور، إذا كان $I = 3A$ و $r = \pi cm$ ، فإن المجال المغناطيسي عند النقطة (O) يساوي:	376
$3 \times 10^{-7}T$ ، +z	ب	$12 \times 10^{-5}T$ ، -z	أ
$3 \times 10^{-5}T$ ، +z	د	$12 \times 10^{-7}T$ ، -z	ج

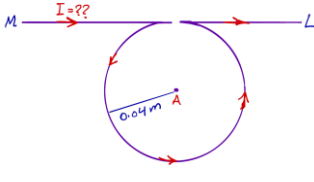
		مستخدما البيانات في الشكل المجاور احسب المجال المغناطيسي عند النقطة (O)	377
$2\pi \times 10^{-6}T$ ، +z	ب	$2\pi \times 10^{-6}T$ ، -z	أ
$4\pi \times 10^{-6}T$ ، +z	د	$4\pi \times 10^{-6}T$ ، -z	ج

		حدد قيمة واتجاه التيار الكهربائي في الملف الدائري الذي يجعل محصلة المجال المغناطيسي في مركزه ينعدم.	378
6A ، مع عقارب الساعة	ب	6A ، عكس عقارب الساعة	أ
$\frac{6}{\pi}A$ ، مع عقارب الساعة	د	$\frac{6}{\pi}A$ ، عكس عقارب الساعة	ج



أثبت نفسك لنفسك
وليس للآخرين.

حصة رقم 19: المغناطيس الكهربائي (سلك مستقيم، ملف دائري، ملف لولبي) الجزء 2

	<p>ML سلك مستقيم لا نهائي الطول، جعل منه جزء على شكل حلقة دائرية نصف قطرها $0.04m$ كما في الشكل المجاور، عندما مرتيار كهربائي (I) في السلك، نشأ مجال مغناطيسي مقداره $2.14 \times 10^{-4}T$ في مركز الحلقة (A)، فإن مقدار التيار الكهربائي المار في السلك هو:</p>		379
	25A	ب	30A
5A	د	20A	ج

380	أي مما يلي لا يؤثر على شكل المجال المغناطيسي الناشئ في ملف لولبي:						
أ	شدة التيار	ب	عدد اللفات	ج	مساحة المقطع	د	نوع قلب الملف

381	مقدار المجال المغناطيسي عند محور الملف اللولبي الناشئ عن مرور التيار في الملف يزداد بزيادة:			
أ	طول الملف	ب	مقاومة سلك الملف	
ج	مساحة مقطع الملف	د	فرق الجهد بين طرفي الملف	

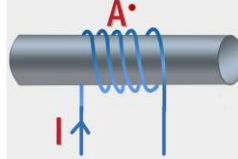
382	عندما نستبدل قلب الملف اللولبي بقلب من الحديد المطاوع بدلا من الهواء فإن شدة المجال المغناطيسي الناشئة من مرور نفس التيار الكهربائي فيه:			
أ	تقل بنسبة كبيرة جدا.	ب	تبقى ثابتة.	
ج	تزداد بقيمة بسيطة.	د	تزداد بقيمة كبيرة جدا.	

383	يمكن الحصول على مجال مغناطيسي منتظم (مغناطيس كهربائي واضح الأقطاب)			
أ	بإمرار تيار كهربائي في سلك مستقيم.	ب	بين لوحي مكثف مشحون.	
ج	بإمرار تيار كهربائي في ملف لولبي.	د	حول شحنة نقطية سالبة ساكنة	

384	المجال المغناطيسي في محور ملف لولبي طوله $0.314m$ يتكون من 100 لفة، ويسري به تيار كهربائي شدته $10A$ هو:			
أ	$0T$	ب	$10^{-7}T$	
ج	$4 \times 10^{-5}T$	د	$4 \times 10^{-3}T$	

385	ملف لولبي طوله (لفة $100\pi cm$) يمر به تيار $10A$ مقدار شدة المجال المغناطيسي الناشئ بمحوره						
أ	$4\pi T$	ب	$4\pi \times 10^{-2}T$	ج	$4 \times 10^{-2}T$	د	$4 \times 10^{-6}T$

ملف حلزوني طوله $0.3m$ ويتكون من 100 لفة، يسري فيه تيار كهربائي شدته $10A$ ، يحيط به ملف دائري يتكون من 10 لفات نصف قطره $3cm$ ، مقدار التيار الكهربائي الذي يجب أن يسري في الملف الدائري حتى تكون محصلة المجال المغناطيسي في مركزه تساوي صفراً.	386
أ	$10A$
ب	$15A$
ج	$17.5A$
د	$20A$

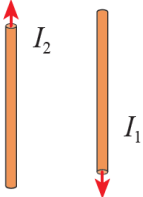
	اتجاه المجال المغناطيسي الناشئ من مرور تيار كهربائي في الملف اللولبي في الشكل المجاور عند النقطة A يكون	387					
أ	←	ب	→	ج	↑	د	↓

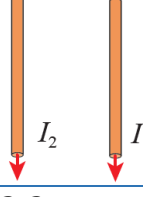
	اتجاه المجال المغناطيسي الناشئ عن الملف الولبي عند النقطة a يكون نحو:	388	
أ	الشرق $(+x)$	ب	الغرب $(-x)$
ج	بعيدا عن الناظر $(-z)$	د	نحو الناظر $(+z)$

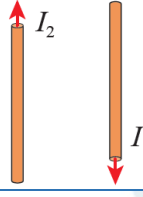
القوة المغناطيسية بين موصلين متوازيين

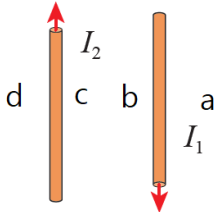
تنشأ قوة تجاذب بين السلكين عندما يمر فيهما تياران:	389
أ	متوازيان وبنفس الاتجاه
ب	متعامدان
ج	متوازيان وفي اتجاهين متعاكسين
د	بينهم زاوية 450

ينشأ تنافر بين السلكين المتوازيين الاثنائين في الطول عندما يمر فيهما تياران:	390
أ	متوازيان وبنفس الاتجاه
ب	متعامدان
ج	متوازيان وفي اتجاهين متعاكسين
د	بينهم زاوية 450

	إذا علمت أن قيمة $(I_1 = 10A)$ و $(I_2 = 5A)$ والمسافة العمودية بينهم $0.20m$ فإن القوة المتبادلة بينهم لكل وحدة طول تساوي:	391	
$2 \times 10^{-5} N/m$	ب	$2 \times 10^{-4} N/m$	أ
$5 \times 10^{-5} N/m$	د	$5 \times 10^{-4} N/m$	ج

	إذا علمت أن قيمة $(I_1 = 4A)$ و $(I_2 = 8A)$ والمسافة العمودية بينهم $0.10m$ فإن نقطة تعادل المجال المغناطيسي تبعد عن التيار الأول مسافة:	392	
خارج السلكين وتبعد عن I_1 مسافة $13.3cm$	ب	خارج السلكين وتبعد عن I_1 مسافة $3.3cm$	أ
خارج السلكين وتبعد عن I_1 مسافة $6.7cm$	د	بين السلكين وتبعد عن I_1 مسافة $3.3cm$	ج

	إذا علمت أن قيمة $(I_1 = 4A)$ و $(I_2 = 8A)$ والمسافة العمودية بينهم $0.10m$ فإن نقطة تعادل المجال المغناطيسي تبعد عن التيار الأول مسافة:	393	
خارج السلكين وتبعد عن I_1 مسافة $20cm$	ب	خارج السلكين وتبعد عن I_1 مسافة $10cm$	أ
بين السلكين وتبعد عن I_1 مسافة $6.7cm$	د	بين السلكين وتبعد عن I_1 مسافة $3.3cm$	ج

	إذا علمت أن $(I_1 > I_2)$ فأى النقاط التالية تمثل نقطة تعادل (محصلة المجال المغناطيسي عندها يساوي صفرا)	394	
b	ب	a	أ
d	د	c	ج

سلكان مستقيمان متوازيان لانهائيا الطول المسافة بينهما $20cm$ يحمل أحدهما تيار كهربائيا يساوي أربعة أمثال التيار الذي يحمله السلك الآخر. بعد النقطة التي ينعدم عندها المجال المغناطيسي عن التيار الأقل قيمة إذا كانا يسيران بنفس الاتجاه.	395		
$6.67cm$	ب	$4cm$	أ
$24cm$	د	$16cm$	ج

396	سلكان مستقيمان متوازيان لانهائيا الطول المسافة بينهما 20cm يحمل أحدهما تيار كهربائيا يساوي أربعة أمثال التيار الذي يحمله السلك الاخر. بعد النقطة التي ينعدم عندها المجال المغناطيسي عن التيار الأقل قيمة عندما يكون التياران متعاكسان بالاتجاه.		
أ	4cm	ب	6.67cm
ج	16cm	د	24cm

397	سلكان موصلان مستقيمان مثبتان من الأطراف ومرنان، عندما يمر فيهما تياران متعاكسان في الاتجاه فإنهما:		
أ	يتقوسان من الوسط إلى الداخل.	ب	يقتربان من بعضهما البعض.
ج	يتقوسان من الوسط إلى الخارج.	د	يبتعدان عن بعضهما البعض.

398	ثلاثة أسلاك مستقيمة ومتوازية مغمورة في مجال مغناطيسي منتظم شدته 0.2mT ويسري في كل منها تيارا كهربائيا كما في الشكل المجاور، احسب القوة المغناطيسية على وحدة أطوال السلك a		
أ	$11.8 \times 10^{-4}\text{N}$ باتجاه أعلى الصفحة	ب	$11.8 \times 10^{-4}\text{N}$ باتجاه أسفل الصفحة
ج	$8.2 \times 10^{-4}\text{N}$ باتجاه أعلى الصفحة	د	$8.2 \times 10^{-4}\text{N}$ باتجاه أسفل الصفحة

399	موصلان متوازيان لانهائيا الطول يحمل كل منهما تيارا كهربائيا (200A): الموصل العلوي مثبت، والسفلي قابل للحركة رأسيا، كما في الشكل المجاور. إذا علمت أن كتلة وحدة الأطوال من الموصل السفلي (0.2g/cm): فإن المسافة (r) التي تجعله متزنا هي:		
أ	0.20m	ب	0.25m
ج	0.04m	د	0.50m

400	سلكان مستقيمان متوازيان المسافة بينهما r يحمل كل منهما تيارا كهربائيا بنفس الاتجاه حيث $I_1 = 4I_2$ ، العلاقة بين القوة المؤثرة في كل سلك هي:		
أ	$F_{12} = 4F_{21}$	ب	$F_{21} = 4F_{12}$
ج	$F_{12} = F_{21}$	د	$F_{12} = 16F_{21}$

الفصل الدراسي الثاني

حصة رقم 20: التدفق المغناطيسي والحث الكهرومغناطيسي وقانون لenz

أكاديمية

401	يقاس التدفق المغناطيسي بوحدة (Wb) وهي تكافئ:		
أ	$T^2 \cdot m$	ب	$T \cdot m$
ج	$T \cdot m^2$	د	$T \cdot s^2$

402	مقدار التدفق المغناطيسي على سطح مساحته $1m^2$ ويتأثر بمجال مغناطيسي مقداره $1T$ يخترق السطح باتجاه عمودي عليه.		
أ	هنري	ب	الديوبتر
ج	فاراد	د	ويبر

403	كلما زاد مقدار الزاوية بين اتجاه خطوط المجال المغناطيسي ومستوى سطح الملف من $(\theta = 0^\circ)$ إلى $(\theta = 90^\circ)$ فإن قيمة التدفق المغناطيسي:		
أ	تزداد	ب	تبقى ثابتة
ج	تقل	د	لا يمكن التنبؤ

404	ملف مستطيل الشكل يتكون من لفة واحدة ومساحة سطحه (A) ، مغمور في مجال مغناطيسي (B) ، بحيث تكون الزاوية بين مستوى الملف وخطوط المجال (30°) ، إذا تضاعف مقدار المجال المغناطيسي خلال مدة زمنية مقدارها (Δt) ، فإن التغير في التدفق المغناطيسي الذي يخترق الملف خلال تلك المدة يساوي:		
أ	$AB \cos 30^\circ$	ب	$2AB \cos 30^\circ$
ج	$AB \cos 60^\circ$	د	$2AB \cos 60^\circ$

405	يمر مجال مغناطيسي $4.5T$ بشكل عمودي عبر مستوى حلقة سلكية مساحتها $0.1m^2$. ما التدفق الذي يمر عبر الحلقة؟		
أ	$5.0T.m^2$	ب	$0.45T.m^2$
ج	$0.25T.m^2$	د	$0.135T.m^2$

406	الملف المغمور في مجال مغناطيسي ينتج تدفق قدره $0.4T.m^2$ عندما تكون الزاوية بين متجه المساحة للملف واتجاه المجال المغناطيسي 60° ما التدفق الذي يمر عبر الملف إذا تغيرت الزاوية إلى 30° ؟		
أ	$0.8\sqrt{3}T.m^2$	ب	$0.4\sqrt{3}T.m^2$
ج	$\frac{0.8}{\sqrt{3}}T.m^2$	د	$\frac{0.4}{\sqrt{3}}T.m^2$

الحث الكهرومغناطيسي

407	الكمية الفيزيائية التي تقاس بوحدة (Wb/s) هي:		
أ	التيار الحثي	ب	القوة الدافعة الكهربائية الحثية
ج	المجال المغناطيسي	د	معامل الحث الذاتي

408	في أي الأشكال التالية لا يتولد تيار حثي في السلك		
أ		ب	
ج		د	

إن أجمل لحظة هي، أن يتحقق في النهاية ماتعبت لأجله، اللهم هذه اللحظة وهذا الشعور



	<p>409 موصل مستقيم يمر فيه تيار كهربائي بالاتجاه المبين في الشكل، عند تحريك الحلقة لجهة اليمين، فإن التيار الكهربائي الحثي المتولد فيها يكون:</p>	<p>أ</p>
<p>باتجاه حركة عقارب الساعة، لمقاومة الزيادة في التدفق</p>		
<p>ب عكس اتجاه حركة عقارب الساعة، لمقاومة النقصان في التدفق</p>		
<p>ج باتجاه حركة عقارب الساعة، لمقاومة النقصان في التدفق.</p>		
<p>د عكس اتجاه حركة عقارب الساعة، لمقاومة الزيادة في التدفق.</p>		

	<p>410 في أثناء دخول الحلقة المبينة في الشكل إلى منطقة مجال مغناطيسي منتظم (B) يتولد في الحلقة تيار كهربائي حثي بالاتجاه المبين في الشكل، فيكون المجال المغناطيسي (B) باتجاه محور:</p>	<p>أ</p>
<p>$-z$</p>	<p>ب $+z$</p>	<p>ب</p>
<p>$-x$</p>	<p>د $+x$</p>	<p>ج</p>

<p>411 يبين الشكل المجاور حلقة تتصل ببطارية، ونصفها السفلي موضوع في مجال مغناطيسي منتظم؛ اتجاهه قد يكون عمودياً على الصفحة للداخل أو للخارج، ومقداره قد يتزايد أو يتناقص في أي الحالات الثلاث يكون اتجاه القوة الدافعة الكهربائية الحثية المتولدة في الحلقة باتجاه القوة الدافعة الكهربائية للبطارية؟</p>			<p>أ</p>
			<p>ج</p>
<p>(c) فقط</p>	<p>ب</p>	<p>أ</p>	
<p>(b) و (c)</p>	<p>د</p>	<p>ج</p>	

<p>412 مقدار القوة الدافعة الكهربائية الحثية والتيار الكهربائي الحثي المتولدين في ملف مقاومته 50Ω عندما يتغير التدفق المغناطيسي من $0.5T \cdot m^2$ إلى $0.2T \cdot m^2$ خلال فترة زمنية قدرها $2ms$:</p>			<p>أ</p>
<p>15V, 15A</p>	<p>ب</p>	<p>أ</p>	
<p>150V, 3A</p>	<p>د</p>	<p>ج</p>	

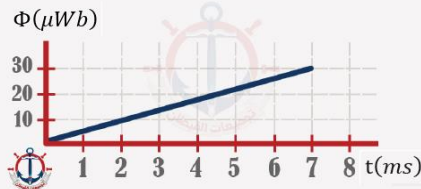
ملف مربع طول ضلعه 2.0cm ، ملفوف بـ 2500 لفة من الأسلاك. يتم تشغيل المجال المغناطيسي المنتظم العمودي على مستواه ويزيد إلى 0.25T خلال فاصل زمني 1.0s . ما مقدار القوة الدافعة الكهربية في الملف؟	413		
أ	-0.25V	ب	-0.12V
ج	-2.0V	د	-2.5V

يتم غمر ملف مربع الشكل عدد لفاته 10 لفات بمساحة 0.036m^2 وملف دائري 20 لفة بشكل عمودي في نفس المجال المغناطيسي المتغير. القوة الدافعة الكهربية الحثية في كل ملف متساوية. ما هي مساحة الملف الدائري؟	414		
أ	0.072m^2	ب	0.060m^2
ج	0.036m^2	د	0.018m^2

ملف مربع الشكل طول ضلعه 10cm عدد لفاته 100 لفة ومقاومته 10Ω ، موضوع في مجال مغناطيسي بحيث يكون مستواه عموديا على اتجاه خطوط المجال، فإن قيمة المعدل الزمني للتغير في المجال المغناطيسي اللازم لإنشاء تيار كهربائي حثي في الملف قدره 0.1A هو:	415		
أ	0.5T/s	ب	0.75T/s
ج	1.0T/s	د	1.5T/s

ملف مستطيل أبعاده $(0.2\text{m}, 0.1\text{m})$ مكون من لفة واحدة، وضع بشكل رأسي يتعامد مع مجال مغناطيسي شدته 0.6T ويؤثر باتجاه أفقي. إذا دار الملف من الوضع الرأسي إلى الوضع الأفقي خلال زمن قدره 0.4s فإن متوسط القوة الدافعة الكهربية الحثية المتولدة فيه هي:	416		
أ	-0.06V	ب	0.04V
ج	-0.03V	د	0.02V

يتغير التدفق المغناطيسي خلال ملف عدد لفاته 500 لفة، حسب المنحنى البياني المجاور، أوجد متوسط القوة الدافعة الكهربية الحثية.	417		
أ	$+5\text{V}$	ب	-5V
ج	$+2.5\text{V}$	د	-2.5V



	<p>الرسم البياني المجاور يوضح العلاقة بين القوة الدافعة الكهربية الحثية والزمن لملف عدد لفاته 500 لفة، أوجد التغير في التدفق المغناطيسي لسطح الملف.</p>	418	
$4 \times 10^{-4} Wb$	ب	$2 \times 10^{-4} Wb$	أ
$4 \times 10^{-2} Wb$	د	$2 \times 10^{-2} Wb$	ج

	<p>موصل مستقيم طوله (l) مغمور داخل مجال مغناطيسي منتظم. عند سحب الموصل بسرعة ثابتة مقدارها (v) على مجرى فلزي باتجاه محور ($+x$)، يمر في المقاومة (R) تيار كهربائي حثي (I) بالاتجاه المبين في الشكل. إن مقدار المجال المغناطيسي واتجاهه</p>	419	
$\frac{IR}{lv}$ ، باتجاه ($+z$)	ب	$\frac{lv}{IR}$ ، باتجاه ($+z$)	أ
$\frac{IR}{lv}$ ، باتجاه ($-z$)	د	$\frac{lv}{IR}$ ، باتجاه ($-z$)	ج

<p>تحرك سلك منتظم طوله $0.5m$ في مجال مغناطيسي منتظم شدته $0.2T$ بشكل عمودي للمجال بسرعة $2m/s$ ، القوة الدافعة الكهربية الحثية المتولدة في السلك هي:</p>	420		
$0.1V$	ب	$0V$	أ
$0.6V$	د	$0.2V$	ج

<p>طائرة الخطوط الملكية تطير من عمان إلى بغداد بسرعة $720km/h$ مخترقة خطوط المجال المغناطيسي الأرضي بشكل متعامد ($B_{earth} = 4 \times 10^{-4}T$) فإن القوة الدافعة الكهربية الحثية المتولدة في جناحي الطائرة حيث يبلغ طولهما $60m$ هي:</p>	421		
$4.8V$	ب	$0.48V$	أ
$480V$	د	$48V$	ج



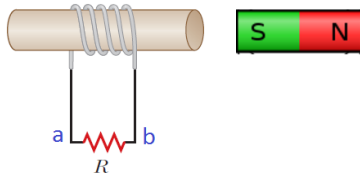
سر النجاح
هو في إكمال
المهمة حتى
النهاية .

قانون لنز

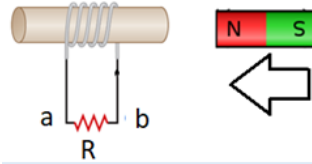
422	اتجاه التيار الحثي يكون بحيث يعاكس المجال المغناطيسي الناشئ عن التغير في المجال المغناطيسي المسبب له:		
a	قانون فاراداي	c	قانون كولوم
b	قانون لنز	d	قانون هنري

423	عند تقريب قطب شمالي من ملف لولبي يحدث الآتي:
أ	الملف يكون قطب شمالي فقط
ب	الملف يكون قطب جنوبي فقط
ج	الملف يكون مغناطيس يتجاذب مع القطب الشمالي
د	الملف يكون مغناطيس يتنافر مع القطب الشمالي.

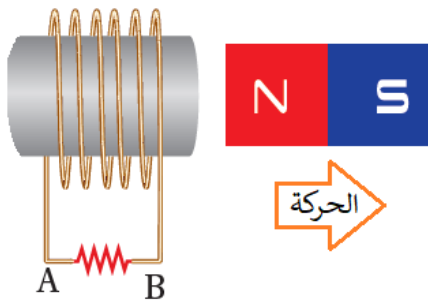
424	الشكل المجاور يمثل اقتراب مغناطيس من ملف لولبي أي العبارات التالية صحيحة لما يحدث:
أ	ينشأ تيار حثي في المقاومة من b إلى a
ب	ينشأ تيار حثي في المقاومة من a إلى b
ج	لا ينشأ تيار حثي في الملف
د	المعطيات غير كافية لفهم ما يحدث



425	الشكل المجاور يمثل اقتراب مغناطيس من ملف لولبي أي العبارات التالية صحيحة لما يحدث:
أ	ينشأ تيار حثي في المقاومة من a إلى b
ب	ينشأ تيار حثي في المقاومة من b إلى a
ج	لا ينشأ تيار حثي في الملف
د	المعطيات غير كافية لفهم ما يحدث



426	الشكل المجاور يمثل ابتعاد مغناطيس من ملف لولبي أي العبارات التالية صحيحة لما يحدث:
أ	ينشأ تيار حثي في المقاومة من B إلى A
ب	ينشأ تيار حثي في المقاومة من A إلى B
ج	لا ينشأ تيار حثي في الملف
د	المعطيات غير كافية لفهم ما يحدث

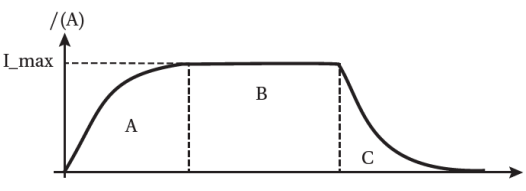


حصة رقم 21: الحث المتبادل والمحول الكهربائي

427	وحدة قياس معامل الحث الذاتي هنري $\langle H \rangle$ وهي تكافئ :		
أ	$V \cdot A \cdot s$	ب	$V \cdot s/A$
ج	$A \cdot s/V$	د	$V \cdot A/s$

428	تزداد محاثة المحث اللولبي عندما يقل أو تقل :		
أ	طولها	ب	مساحة مقطعه
ج	عدد اللفات	د	النفاذية المغناطيسية

429	ملف لولبي عدد لفاته N ومحاثته L هنري إذا زيد عدد لفاته في نفس اتجاه اللف ليصبح $2N$ مع بقاء طولها ثابتاً فإن محاثته يصبح مقدارها:		
أ	$4L$	ب	L
ج	$2L$	د	$\frac{1}{2}L$

430	<p>يبين الشكل التمثيل البياني لعلاقة التيار الكهربائي والزمن لدارة تتكون من محث ومقاومة وبطارية. العبارة الصحيحة التي تصف التدفق المغناطيسي (Φ)، والقوة الدافعة الحثية (\mathcal{E}) في الفترة (B):</p> 		
أ	التدفق (Φ) يساوي صفر، والقوة الدافعة (B) تساوي صفر.		
ب	يكون للتدفق (Φ) قيمة عظمى، و القوة الدافعة (B) تساوي صفر.		
ج	يكون للتدفق (Φ) قيمة عظمى، و القوة الدافعة (B) قيمة عظمى.		
د	التدفق (Φ) يساوي صفر، و القوة الدافعة (B) لها قيمة عظمى		

431	ملف لولبي مقاومته 100Ω معامل حثه الذاتي $0.6H$ ، تغير فيه التيار من $0.2A$ إلى $0.8A$ خلال زمن قدره $0.30s$ ، فإن التيار الحثي المتولد فيه يساوي:		
أ	$12A$	ب	$1.2A$
ج	$0.12A$	د	$0.012A$

ملف لولبي طوله $0.04m$ وعدد لفاته 100 لفة ومساحة مقطعه $5 \times 10^{-4}m^2$ ، فإن قيمة محاثته:	432
أ	$4.02 \times 10^{-4}H$
ب	$2.04 \times 10^{-4}H$
ج	$1.57 \times 10^{-4}H$
د	$1.05 \times 10^{-4}H$

إذا تغيرت قيمة التيار الكهربائي في الملف اللولبي في السؤال السابق من 60A إلى 10A خلال وحدة الزمن فإن القوة الدافعة الكهربائية الحثية هي:	433
أ	$2.01 \times 10^{-3}V$
ب	$1.02 \times 10^{-3}V$
ج	$7.85 \times 10^{-3}V$
د	$5.05 \times 10^{-3}V$

ملف لولبي عدد لفاته 100 لفة وطوله 0.6m يمر به تيار كهربائي مقداره 5A ، وضع داخله حلقة دائرية مقاومتها 4Ω نصف قطرها $\frac{3}{\pi}m$ بحيث تكون معرضة للمجال المغناطيسي الناشئ عن الملف اللولبي ، إذا تناقصت قيمة التيار في الملف حتى تلاشت خلال زمن قدره 0.001s ، فإن التيار الكهربائي الحثي المتولد في الحلقة الدائرية يساوي:	434
أ	$0.90A$
ب	$0.75A$
ج	$0.25A$
د	$0.15A$

المحول الكهربائي والمولد الكهربائي أمثلة تطبيقية على ظاهرة:	435
أ	الحث الكهربائي
ب	الحث المغناطيسي
ج	الحث الكهرومغناطيسي
د	الحث الكومي

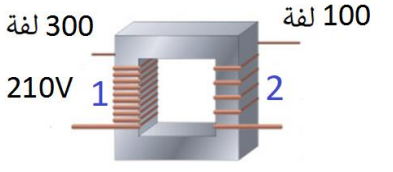
يمكن للمحول الرافع للجهد في الدوائر الكهربائية أن يرفع	436
أ	الجهد
ب	التيار
ج	الطاقة
د	القدرة

في المحول المثالي القدرة المعطاة إلى الملف الابتدائي القدرة الناتجة من الملف الثانوي:	437
أ	ربع
ب	نصف
ج	تساوي
د	ضعف

المحول الخافض للجهد يكون فيه : حيث تُشير الأرقام إلى: ملف ابتدائي (1) وملف ثانوي (2)	438
أ	$V_2 > P_1$
ب	$P_2 > P_1$
ج	$I_2 < I_1$
د	$I_2 > I_1$

المحول الرافع للجهد يكون فيه: حيث تُشير الأرقام إلى: ملف ابتدائي (1) وملف ثانوي (2)	439
أ	$I_2 > I_1$
ب	$V_1 > V_2$
ج	$N_2 > N_1$
د	$N_1 > N_2$

440	لنقل الطاقة الكهربائية لمسافات طويلة عبر خطوط الضغط العالي نستخدم		
أ	تيارات وفروق جهد كبيرة جدا	ب	تيارات كبيرة جدا وفروق جهد صغيرة
ج	تيارات وفروق جهد صغيرة	د	تيارات صغيرة وفروق جهد كبيرة جدا

441	الشكل المجاور يمثل محوّلًا مثاليًا، أوجد جهد الملف الثانوي.		
			
أ	210V	ب	140V
ج	70V	د	630V

442	محول كهربائي مثالي رافع للجهد يتصل ملفّه الابتدائي بمصدر فرق جهد (20V)، ويتصل ملفّه الثانوي بمصباح كهربائي مقاومته (50Ω)، وعدد لفات الملف الابتدائي (120) لفة، ولفات الملف الثانوي (600) لفة. مقدار التيار الكهربائي في ملفه الابتدائي يساوي:		
أ	50A	ب	10A
ج	5A	د	2A

443	محول كهربائي خافض للجهد، نسبة عدد لفات الملف الثانوي إلى الابتدائي (1: 10)، وفرق الجهد بين طرفي ملفه الابتدائي 400V، فإن فرق الجهد بين طرفي ملفه الثانوي هو:		
أ	4000V	ب	400V
ج	40V	د	4V

حصّة رقم 22: التيار الكهربائي المتردد ودارات التيار الكهربائي المتردد البسيطة

444	جهاز يحول الطاقة الحركية إلى طاقة كهربائية ويولد تيار متردد.		
أ	المحرك الكهربائي	ب	المولد الكهربائي
ج	المحول الكهربائي	د	مطياف الكتلة

445	التيار المتردد الذي يتولد في المولد الكهربائي المتردد يغير اتجاه سريره كل:		
أ	دورة	ب	نصف دورة
ج	رُبع دورة	د	سُدس دورة

446	كلما زادت مساحة مقطع الملف في المولد الكهربائي المتردد فإن مقدار فرق الجهد فيه:		
أ	يزداد.	ب	يبقى ثابت.
ج	يقل.	د	لا يمكن التنبؤ.

447	مصدر فرق جهد متردد الزمن الدوري له $0.02s$ ، فإن التردد الزاوي له بوحدة (rad/s) يساوي:		
أ	3.14	ب	31.4
ج	314	د	3140


448	مولد يزودنا بفرق جهد متردد معادلته $\Delta v = 240 \sin 120\pi t$ ، فإن قيمة الجهد الأعظم وتردده هما:		
أ	240V ، 120Hz	ب	240V ، 60Hz
ج	168V ، 120Hz	د	168V ، 60Hz

449	مقدار فرق الجهد عند اللحظة $(t = \frac{1}{240} s)$ في السؤال السابق هي:		
أ	60V	ب	120V
ج	240V	د	480V

450	يُعبّر عن فرق الجهد المتردد بالعلاقة $(\Delta v = V_{max} \sin 3 \pi t)$. عند أي لحظة زمنية تكون القيمة اللحظية لفرق الجهد المتردد مساوية لنصف قيمته العظمى؟		
أ	$\frac{1}{18} s$	ب	$\frac{2}{18} s$
ج	$\frac{3}{18} s$	د	$\frac{6}{18} s$

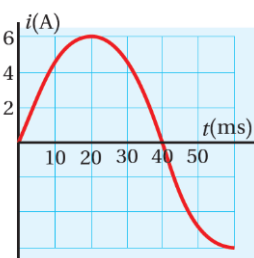


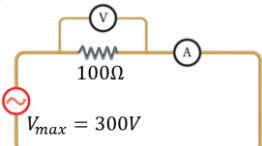
لا تنتظر الفرصة، بل اصنعها لنفسك.

		الرسم المجاور يبين علاقة التيار المتردد بالزمن في دائرة كهربائية تحتوي على مقاومة كهربائية 100Ω فإن معادلة فرق الجهد المتردد التي تمثل الرسم البياني هي:	
$V = 500 \sin 100\pi t$	ب	$V = 50 \sin 100\pi t$	أ
$V = 500 \sin 10\pi t$	د	$V = 50 \sin 10\pi t$	ج

دارات التيار الكهربائي المتردد البسيطة

جهاز يستخدم للحصول على منحنى (فرق الجهد المتردد - الزمن)		452	
الفولتميتر	ب	الأميتر	أ
المطياف	د	رأسم الذبذبات	ج

		الشكل البياني المجاور يمثل تغير التيار المتردد بالنسبة إلى الزمن، إن التيار اللحظي يُعبر عنه بالعلاقة الآتية:	
$i = 6 \sin 40 \pi t$	ب	$i = 6 \sin 40 t$	أ
$i = 6 \sin 25 \pi t$	د	$i = 6 \sin 12.5 \pi t$	ج

		أوجد قراءة كلا من الأميتر والفولتميتر في الشكل المجاور	
2.13A , 213V	ب	2.13A , 283V	أ
1.06A , 213V	د	1.06A , 283V	ج

جهاز كهربائي مقاومته 100Ω وصل بمصدر جهد متردد، إذا علمت أن القيمة العظمى لفرق الجهد المتردد بين طرفيه $200V$ وتردده $50Hz$ ، فإن القيمة العظمى للتيار المتردد الذي يسري في الجهاز هي:		455
أ	$20A$	ب
ج	$4.0A$	د
	$10A$	
	$2.0A$	

من معلومات السؤال 555 المعادلة التي تعبر عن التيار المتردد المار في المقاومة بدلالة الزمن هي:		456
أ	$i_R = 200 \sin 100\pi t$	ب
ج	$i_R = 2 \sin 100t$	د
	$i_R = 100 \sin 100\pi t$	
	$i_R = 2 \sin 100\pi t$	

دائرة كهربائية تحتوي على مقاومة 10Ω يمر بها تيار متردد قيمته العظمى $10A$ فإن القدرة المتوسطة المستهلكة في المقاومة.		457
أ	$1000W$	ب
ج	$504W$	د
	$750W$	
	$70W$	

الرسم المجاور يبين علاقة فرق الجهد المتردد بالزمن في دائرة كهربائية تحتوي على مقاومة كهربائية 100Ω فإن معادلة فرق الجهد المتردد التي تمثل الرسم البياني هي:		458
أ	$V = 100 \sin 100\pi t$	ب
ج	$V = 200 \sin 10\pi t$	د
	$V = 200 \sin 100\pi t$	
	$V = 142 \sin 10\pi t$	

مستخدماً بيانات السؤال 558 أوجد قيمة كلا من التيار الفعال وتردد مصدر فرق الجهد المتردد		459
أ	$I_{rms} = 1.42A$ ، $f = 50Hz$	ب
ج	$I_{rms} = 1.42A$ ، $f = 100Hz$	د
	$I_{rms} = 2.00A$ ، $f = 50Hz$	
	$I_{rms} = 2.00A$ ، $f = 100Hz$	

مقدار القدرة المتوسطة المستهلكة في المقاومة في الدارة في السؤال 558 هي:		460
أ	$201.6W$	ب
ج	$403.2W$	د
	$400W$	
	$800W$	

جهاز كهربائي مقاومته (71Ω)، وصل بمصدر فرق جهد متردد، إذا علمت أن القيمة العظمى لفرق الجهد المتردد بين طرفيه ($200V$) وتردده ($40Hz$) فأى الرسوم الآتية تعبر عن العلاقة بين التيار المتردد المار في المقاومة والزمن.		461
--	--	-----

	ب		أ
	د		ج

حصة رقم 23: المعاوقة

دائرة (RLC) مصدر جهدها متردد قيمته الفعالة $100V$ وتردده $50Hz$ ، فيها $R = 10\Omega$ ، $L =$ ، $C = 5\mu F$ ، $2H$ ، استخدم بيانات الدائرة للإجابة عن الأسئلة من 465 إلى 462:

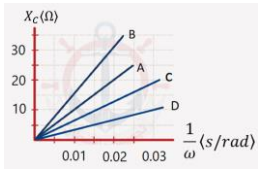
		مقدار المعاوقة الحثية:	462
$X_L = 341\Omega$	ب	$X_L = 628\Omega$	أ
$X_L = 34.1\Omega$	د	$X_L = 62.8\Omega$	ج

		مقدار المعاوقة المواسعية:	463
$X_C = 318.5\Omega$	ب	$X_C = 637\Omega$	أ
$X_C = 31.8\Omega$	د	$X_C = 62.8\Omega$	ج

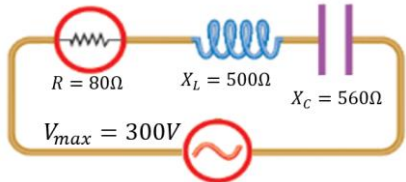
		مقدار المعاوقة الكلية لدائرة:	464
$Z = 67.25\Omega$	ب	$Z = 134.5\Omega$	أ
$Z = 6.72\Omega$	د	$Z = 13.45\Omega$	ج

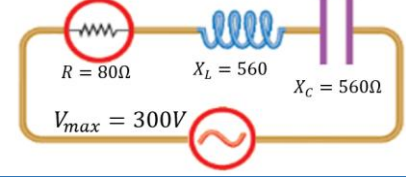
		مقدار التيار الفعال المتردد المار في الدائرة:	465
$I_{rms} = 37.5A$	ب	$I_{rms} = 74A$	أ
$I_{rms} = 0.74A$	د	$I_{rms} = 7.4A$	ج

466	دائرة (RLC) ماذا يحدث لكل من المعاوقة المحثية والمعاوقة المواسعية إذا زاد تردد مصدر فرق الجهد المتردد في الدائرة.		
أ	يزداد كلاهما.	ب	تزداد معاوقة المحث وتقل معاوقة المواسع.
ج	تقل معاوقة المحث وتزداد معاوقة المواسع.	د	يقل كلاهما.

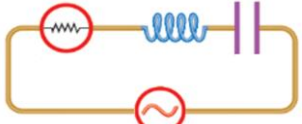
467	قام زيدان بإجراء تجربة لإيجاد قيمة مواسعة مجموعة من المواسعات (A, B, C, D) وبعد تحليل النتائج حصل على الرسم البياني الآتي الذي يمثل المعاوقة المواسعية مع مقلوب التردد الزاوي، أي الخيارات التالية هي الصحيحة فيما استنتجه زيدان من التجربة.		
			
أ	$C_D < C_C < C_A < C_B$	ب	$C_B < C_A < C_C < C_D$
ج	$C_A = C_B = C_C = C_D$	د	$C_A < C_C < C_D < C_B$

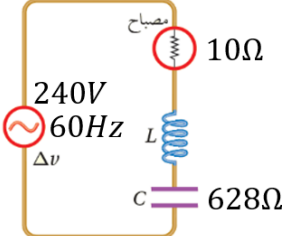
468	دائرة كهربائية يتصل فيها محث ومصباح بمصدر فرق جهد متردد، عند زيادة تردد المصدر مع بقاء القيمة العظمى لفرق الجهد ثابتة فإن كلا من معاوقة المحث وإضاءة المصباح:		
أ	تزداد المعاوقة - تزداد الإضاءة	ب	تقل المعاوقة - تقل الإضاءة
ج	تزداد المعاوقة - تقل الإضاءة	د	تقل المعاوقة - تزداد الإضاءة

469	مستخدماً البيانات في الرسم المجاور الذي يمثل دائرة كهربائية مكونة من مقاومة ومحث ومواسع موصولة معاً على التوالي، فإن المعاوقة الكلية للدائرة الكهربائية هي:		
			
أ	$Z = 140\Omega$	ب	$Z = 100\Omega$
ج	$Z = 80\Omega$	د	$Z = 20\Omega$

470	مقدار قيمة التيار الفعال المار في المقاومة في الدائرة المجاورة هو:		
			
أ	2.7A	ب	3.8A
ج	5.1A	د	9.5A



		أي الخيارات الآتية تجعل إضاءة المصباح في الدارة في الشكل المجاور أكبر ما يمكن.	471
$X_L = X_C$	ب	$L = C$	أ
$\omega_o = \sqrt{LC}$	د	$X_L \neq X_C$	ج

		من البيانات في الشكل المجاور فإن قيمة محاثته المحث التي تجعل المصباح يضيء بأكبر شدة ممكنة هي:	472
1.66Ω	ب	$1.66H$	أ
2.88Ω	د	$2.88H$	ج

تتكون دارة استقبال (RLC) في جهاز مذياع من مقاومة ومحث محاثته ($4mH$) ومواسع. أجد مواسعة المواسع المستخدم لضبط المذياع على استقبال موجات محطة إذاعية (FM) وترددتها ($80MHz$)		473	
$9.9 \times 10^{-14}F$	ب	$9.9 \times 10^{-16}F$	أ
$4.9 \times 10^{-14}F$	د	$4.9 \times 10^{-16}F$	ج

تتكون دارة (RLC) استقبال في جهاز المذياع مكونة من مقاومة ومحث محاثته $4\mu H$ ومواسع مواسعته $5nF$ فإن تردد الرنين لموجات المحطة الإذاعية التي يستقبلها المذياع هي:		474	
$7.07kHz$	ب	$7.07mHz$	أ
$7.07GHz$	د	$7.07MHz$	ج



لكي ننجح علينا أولاً أن نؤمن أنه بمقدورنا

تحقيق النجاح

حصة رقم 24: المواد الموصلة والعازلة وشبه الموصلة والدايود والترانزستور

475	المواد النقية التي لها العدد الأكبر من الإلكترونات الحرة هي:		
أ	المواد العازلة	ب	المواد الموصلة
ج	المواد شبه الموصلة.	د	بلورة من النوع (p)

476	من أمثلة أشباه الموصلات التي تستخدم في التطبيقات الإلكترونية		
أ	السيليكون	ب	النحاس
ج	الكالسيوم	د	الألمنيوم

477	عند الصفر..... تصبح عندها جميع إلكترونات التكافؤ للسيلكون النقي مقيدة نتيجة للروابط التساهمية ولا يوجد إلكترونات حرة		
أ	سليزيوس	ب	مطلق
ج	رانكن	د	فهرنهايت

478	الوصف الأفضل لسلوك أشباه الموصلات النقية (سيلكون نقي) عند زيادة درجة الحرارة		
أ	تزداد الموصلية وتزداد المقاومة	ب	تقل الموصلية وتزداد المقاومة
ج	تزداد الموصلية وتقل المقاومة	د	تقل الموصلية وتقل المقاومة

479	لإنتاج بلوة من أشباه الموصلات من النوع السالب (n) تضاف مادة..... التكافؤ		
أ	ثنائية	ب	رباعية
ج	ثلاثية	د	خماسية

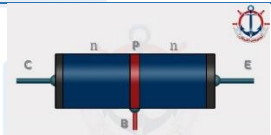
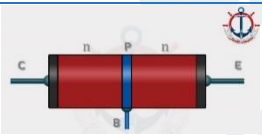


480	ناقلات الشحنة في أشباه الموصلات من النوع السالب :		
أ	الإلكترونات	ب	الأيونات السالبة
ج	الفجوات	د	الأيونات الموجبة

481	في أشباه الموصلات من النوع السالب (n) تكون البلورة:		
أ	موجبة الشحنة	ب	سالبة الشحنة
ج	متعادلة كهربائياً	د	لا يمكن التنبؤ

482	عند معالجة السيلكون أو الجرمانيوم بمادة ثلاثية التكافؤ ينتج بلورة من النوع:		
أ	n	ب	np
ج	p	د	nnp

483	عند إشابة بلورة السليكون بعنصر خماسي التكافؤ ينتج:		
أ	بلورة من نوع (p)	ب	بلورة من نوع (n)
ج	ثنائي بلوري	د	ترانزستور

الثنائي البلوري "الدايود"

484	الرمز الذي يمثل الدايدود من الرموز التالية هو:		
a		c	
b		d	

485	يتكون الثنائي من بلورة شائبة من النوع الموجب (p) وبلورة شائبة من النوع السالب (n). أي العبارات الآتية تعتبر صحيحة في عملية الإشابة:		
أ	يضاف عنصر السليكون والجرمانيوم للبلورة النقية عند الإشابة لصنع الثنائي.		
ب	يضاف عنصر خماسي التكافؤ عند صناعة البلورة السالبة.		
ج	يضاف عنصر خماسي التكافؤ عند صناعة البلورة الموجبة.		
د	يضاف عنصر ثلاثي التكافؤ عند صناعة البلورة السالبة.		

486	شبه موصل بسيط يوصل الشحنات باتجاه واحد ، ويتكون من قطعة نوعها p موصولة بقطعة نوعها n :		
أ	المكثف	ب	الدايود
ج	الترانزستور	د	الرقاقة الميكروية

487	كل مما يلي من وظائف الدايمودات ما عدا :		
أ	بعث الضوء	ب	الكشف عن الحرارة
ج	تقويم التيار	د	تضخيم الجهد

488	في الدايمود المجاور إلى أين تتجه كل من a و b ؟ حيث a تمثل إلكترون توصيل و b تمثل فجوة.		
أ	تتجه a ناحية اليمين و b ناحية اليسار	ب	تتجه a ناحية اليسار و b ناحية اليمين
ج	تتجه a و b ناحية اليمين	د	تتجه a و b ناحية اليسار

489	يطلق على الدايمود اسم مقوم عندما:		
أ	يكشف عن الحرارة	ب	يبعث الضوء
ج	يحول التيار من AC إلى DC	د	يضخم الجهد

490	حتى يكون الثنائي البلوري في حالة انحياز أمامي، يجب أن :		
أ	يُطبق فرق جهد خارجي موجب على مصعده، وآخر سالب على مهبطه		
ب	يُطبق فرق جهد خارجي سالب على مصعده، وآخر موجب على مهبطه.		
ج	يكون جهد مصعده أقل من جهد مهبطه		
د	يكون جهد مصعد أكبر من جهد مهبطه بما لا يزيد على (0.1V)		

491	مقاومة الثنائي في حالة الانحياز الأمامي تُعد مقاومة:		
أ	أومية.	ب	لا أومية.
ج	كبيرة جدا.	د	فلزية

492	معتمدا على الشكل المجاور أي المصابيح يضيء وأيها لا يضيء؟		
أ	جميعها يضيء	ب	جميعها لا يضيء
ج	1 و 3 فقط يضيء	د	2 فقط يضيء

	<p>493 مستعينا بالرسم المجاور أي الخيارات الآتية تمثل الإشارة الناتجة من مرور فرق الجهد المتردد من خلالها.</p>	<p>أ</p>
	<p>ب</p>	<p>ب</p>
	<p>د</p>	<p>ج</p>

<p>494 ما جهد البطارية بوحدة الفولت اللازم لتوليد تيار كهربائي مقداره $0.003 A$ في دايود موصول بمقاوم مقداره 500Ω علماً بأن الهبوط في جهد الدايود $0.7 V$ ؟</p>		<p>أ</p>
<p>$0.8 V$</p>	<p>ب</p>	<p>$0.7 V$</p>
<p>$2.2 V$</p>	<p>د</p>	<p>ج</p>

<p>495 الهبوط في الجهد للدايود الجرمانيوم $0.3 V$ عند مرور تيار كهربائي مقداره $1.2 mA$ خلاله فإذا وصل بمقاومة قدرها $1 K\Omega$ على التوالي مع الدايود فما جهد البطارية بالفولت:</p>		<p>أ</p>
<p>1.2</p>	<p>ب</p>	<p>12.4</p>
<p>1.5</p>	<p>د</p>	<p>ج</p>

	<p>496 اعتماداً على الشكل المجاور وعلماً أن الثنائي 1 مصنوع من السليكون والثنائي 2 مصنوع من الجرمانيوم، فإن فرق الجهد بين طرفي المقاومة والتيار الكهربائي المار في الدارة هما على الترتيب:</p>	<p>أ</p>
<p>$V = 9.3V, I = 0.26A$</p>	<p>ب</p>	<p>$V = 9V, I = 0.25A$</p>
<p>$V = 10V, I = 0.28A$</p>	<p>د</p>	<p>ج</p>

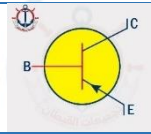
الترانزستور

497	أداة بسيطة مصنوعة من مادة شبه موصلة معالجة بالشوائب تعمل على تقوية الإشارات الضعيفة وتضخيمها أو " أداة مصنوعة من مادة شبه موصلة وتتكون من طبقتين من مادة شبه موصلة من النوع نفسه على طرفي طبقة رقيقة من مادة شبه موصلة تختلف عنهما في النوع"
أ	الدايود
ب	الصمامات المفرغة
ج	الترانزستور
د	المقاومات

498	أي مما يأتي لا يعتبر من وظائف الترانزستور
أ	مضخم للتيار الكهربائي
ب	مضخم للقدره الكهربائيه
ج	مضخم للجهد الكهربائي
د	مضخم للمقاومة الكهربائيه

499	دارات إلكترونية يُستخدم فيها الترانزستور بوصفه مفتاحاً سريع الفتح والإغلاق هي:
أ	دارات متكاملة.
ب	دارات الانحياز الأمامي.
ج	دارات تضخيم ترانزستور.
د	بوابات منطقية.

500	الشكل المجاور يمثل ترانزستور من النوع:
أ	nnp
ب	pnp
ج	pnn
د	ppn



للتعليم والتدريب
الإلكتروني



حصة رقم 25: الحاجة إلى الفيزياء الحديثة

501	شدة الطاقة المنبعثة من جسم أسود درجة حرارته مقارنة لدرجة حرارة الشمس تكون	
أ	أكبر ما يمكن عند الأطوال الموجية الكبيرة جدا للإشعاع	
ب	أكبر ما يمكن عند الأطوال الموجية القصيرة جدا للإشعاع..	
ج	أكبر ما يمكن في منطقة الأطوال الموجية للضوء المرئي.	
د	متساوية عند جميع الأطوال الموجية للإشعاع.	

502	عند تسخين سلك فلزي في غرفة مظلمة أي الألوان الآتية يتوهج به السلك أولا.	
أ	ب	الأبيض
ج	د	الأخضر
		الأزرق
		الأحمر

503	إلى مما يأتي يمثل الترتيب الصحيح للون توقع سلك فلزي عند تسخينه ؟	
أ	ب	الأبيض ثم الأزرق ثم الأصفر ثم الأحمر
ج	د	الأحمر ثم الأصفر ثم الأزرق ثم الأبيض.
		الأزرق ثم الأبيض ثم الأصفر ثم الأحمر

504	في أي مناطق الطيف لم ينجح نموذج رايلي-جينز في تفسير إشعاع الجسم الأسود؟	
أ	ب	الأطوال الموجية الكبيرة.
ج	د	الأطوال الموجية التي تؤول للصفير.
		جميع الطيف الكهرومغناطيسي.
		الأطوال الموجية المرئية.

505	لم يتطابق نموذج رايلي - جينز مع النتائج التجريبية لإشعاع الجسم الأسود في منطقة:	
أ	ب	الأطوال الموجية الكبيرة.
ج	د	الترددات الصغيرة
		الأطوال الموجية القصيرة.
		الأطوال الموجية جميعها للإشعاع.

506	حسب مبدأ بلانك: الطاقة التي تحملها الموجة الكهرومغناطيسية تتناسب طرديا مع:	
أ	ب	سرعتها
ج	د	ترددتها
		سعتها
		جميع ما ذكر صحيح.

507	كلما زاد طول الموجة الكهرومغناطيسية فإن :		
أ	ترددتها يزداد	ب	سرعتها تقل
ج	طاقاتها تزداد	د	ترددتها يقل

508	موجة كهرومغناطيسية طولها $6\mu m$ فما مقدار ترددتها، سرعة الضوء $c = 3 \times 10^8 m/s$		
أ	$0.5 \times 10^{14} Hz$	ب	$500 GHz$
ج	$5 MHz$	د	$0.5 KHz$

509	موجة كهرومغناطيسية طولها الموجي ($550 nm$) ما مقدار طاقة الكمية الواحدة من هذا الشعاع؟		
أ	$2.00 eV$	ب	$2.25 eV$
ج	$2.75 eV$	د	$2.95 eV$

510	موجة كهرومغناطيسية طولها الموجي $100 nm$ ، ما مقدار طاقة الفوتون من هذا الشعاع؟		
أ	$19.9 \times 10^{-19} J$	ب	$19.9 \times 10^{-18} J$
ج	$12.4 \times 10^{-19} J$	د	$12.4 \times 10^{-18} J$

511	فوتونان لهما نفس التردد، مجموع طاقتهما تساوي		
أ	hf	ب	$1.5hf$
ج	$2hf$	د	$0.5hf$

512	إذا تضاعف الطول الموجي للفوتون مرتين فإن :		
أ	طاقته تقل إلى النصف، وكذلك زخمه الخطي.	ب	طاقته تبقى ثابتة ويقل زخمه الخطي إلى النصف.
ج	طاقته تتضاعف مرتين ويبقى زخمه الخطي ثابتاً.	د	طاقته تبقى ثابتة ويبقى زخمه الخطي ثابتاً.

513	تردد موجة ضوء يساوي ($5.2 \times 10^{14} Hz$). فإن طاقة الكمية الواحدة له.		
أ	$1.15 eV$	ب	$2.15 eV$
ج	$2.51 eV$	د	$3.51 eV$

514	جهاز إرسال راديو FM ينتج في كل ثانية طاقة مقدارها ($130 kW$) ليثبت موجات كهرومغناطيسية ترددها ($99.7 MHz$)، عدد الفوتونات التي يبثها جهاز الإرسال في الثانية الواحدة هي:		
أ	$1.97 \times 10^{30} \text{ Poton}$	ب	$2.97 \times 10^{30} \text{ Poton}$
ج	$3.97 \times 10^{30} \text{ Poton}$	د	$4.97 \times 10^{30} \text{ Poton}$

حصة رقم 26: الظاهرة الكهروضوئية

515	وفقاً لتصوّر الفيزياء الكلاسيكية للظاهرة الكهروضوئية :
أ	أن تتحرر الإلكترونات تحرراً فورياً.
ب	تزداد الطاقة الحركية العظمى للإلكترونات المتحررة بزيادة تردد الضوء الساقط.
ج	يستغرق تحرر الإلكترونات بعض الوقت حتى تتمكن من اكتساب الطاقة اللازمة للتحرر.
د	لا تتحرر الإلكترونات من سطح الفلز عند الترددات العالية للضوء.

516	عندما تتفاعل الفوتونات مع الإلكترونات على نحو ما هو في الظاهرة الكهروضوئية، فأى العبارات الآتية صحيحة ؟
أ	يفقد الفوتون جزءاً من طاقته، ويزداد تردده.
ب	يفقد الفوتون جزءاً من طاقته، ويقل طول موجته.
ج	يمتص الإلكترون طاقة الفوتون كلها.
د	يفقد الفوتون جزءاً من طاقته، ويبقى تردده ثابتاً

517	الظاهرة الكهروضوئية تم تفسيرها باعتبار الضوء ذو طبيعة
أ	موجية
ب	مادية
ج	مزدوجة
د	طيفية

518	عند سقوط أشعة فوق بنفسجية على لوح من الخارصين متعادل يحدث:
أ	تقل الشحنة الموجبة
ب	يصبح موجب الشحنة
ج	يصبح سالب الشحنة
د	لا يحدث شيء

519	كلما زادت شدة الضوء الساقط على باعث خلية كهروضوئية يزداد:
أ	جهد الإيقاف
ب	طاقة حركة الإلكترونات المنبعثة
ج	شدة التيار الكهربائي المار في الخلية
د	مقاومة الأسلاك

520	الدقائق المنبعثة من سطح معدن نتيجة سقوط ضوء تردده مناسب مثل الأشعة فوق البنفسجية هي:
أ	جسيمات ألفا
ب	فوتونات
ج	إلكترونات
د	أشعة X

521	يعمل الضوء الساقط على سطح معدن ما، إذا كان تردده أكبر من تردد العتبة للمعدن على:		
أ	انبعاث إلكترونات فقط	ب	عدم انبعاث إلكترونات
ج	زيادة عدد الإلكترونات المنبعثة	د	انبعاث إلكترونات وإكسابها طاقة حركية.

522	عند تسليط ضوء أحمر على صفيحة خارصين لا تنبعث إلكترونات من سطحه، أما إذا زادت شدة الضوء الأحمر، ف:		
أ	تنبعث إلكترونات من سطح الخارصين بعدد قليل فورا.		
ب	لا تنبعث إلكترونات من سطح الخارصين		
ج	تنبعث إلكترونات من سطح الخارصين بعدد كبير فورا		
د	تنبعث إلكترونات من سطح الخارصين بعد مدة كافية من الزمن.		

523	عند تسليط أشعة فوق بنفسجية بشدة منخفضة على سطح الخارصين انبعثت الإلكترونات من سطحه، ماذا يحدث عند زيادة شدة الضوء الساقط؟		
أ	يزداد مقدار جهد القطع	ب	لا يتغير عدد الإلكترونات المنبعثة.
ج	تزداد طاقة الطاقة الحركية للإلكترونات المنبعثة.	د	يزداد عدد الإلكترونات المنبعثة

524	يزداد عدد الإلكترونات المتحررة من سطح فلز عند سقوط ضوء عليه بزيادة:		
أ	شدة الضوء	ب	تردد الضوء
ج	طول موجة الضوء	د	طاقة الضوء

525	أي مما يأتي يؤدي إلى زيادة الطاقة الحركية العظمى للإلكترونات المتحررة من سطح فلز؟		
أ	زيادة شدة الضوء الساقط على الفلز	ب	تقليل شدة الضوء الساقط على الفلز
ج	زيادة تردد الضوء الساقط على الفلز	د	تقليل تردد الضوء الساقط على الفلز

526	أسقط فوتونان مختلفان في التردد على الفلز نفسه، فانطلق إلكترونان متساويان في الطاقة الحركية، فإن ذلك يعود إلى:		
أ	أن الإلكترونين انطلقا من عمقين مختلفين من الفلز	ب	اختلاف اقتران الشغل.
ج	اختلاف طاقة الفوتونين	د	اختلاف شدة الضوء



لتكون ناجحًا عليك أنت تكون مختلفًا، وهذا يعني أن تكون نفسك! فكل منا له بصمته التي لا تشبه سوى نفسها.

يسقط فوتون طاقته $6eV$ على سطح معدن اقتران الشغل له $2eV$ أي من الحالات الآتية هي الصحيحة.	527
يححر الفوتون ثلاثة إلكترونات دون امتلاكها لطاقة حركية	أ
يححر الفوتون إلكترونين وكل إلكترون يملك طاقة حركية قدرها $1eV$	ب
يححر الفوتون إلكترونًا واحدًا فقط دون امتلاكه طاقة حركية	ج
يححر الفوتون إلكترونًا واحدًا فقط مع امتلاكه طاقة حركية قدرها $4eV$	د

يسقط فوتون طاقته $15eV$ على سطح فلز اقتران الشغل له $5eV$ أي من الحالات الآتية هي الصحيحة.	528
يححر الفوتون ثلاثة إلكترونات دون امتلاكها لطاقة حركية	أ
يححر الفوتون إلكترونين وكل إلكترون يملك طاقة حركية قدرها $2.5eV$	ب
يححر الفوتون إلكترونًا واحدًا فقط يملك طاقة حركية قدرها $10eV$	ج
لا يححر الفوتون أي إلكترون من سطح الفلز	د

تسقط 10 فوتونات طاقة كل منها $2eV$ على سطح فلز اقتران الشغل له $5eV$ أي من الحالات الآتية هي الصحيحة.	529
تحرر الفوتونات أربعة إلكترونات دون امتلاكها لطاقة حركية	أ
تحرر الفوتونات إلكترونين وكل إلكترون يملك طاقة حركية قدرها $5eV$	ب
تحرر الفوتونان إلكترونًا واحدًا فقط دون امتلاكه طاقة حركية	ج
لا تحرر الفوتونات أي إلكترون	د

أقل تردد للفوتون بوحدة Hz اللازم لتحرير الإلكترون من سطح فلز اقتران الشغل له $2.9eV$.	530		
$\frac{2.9e}{h}$	ب	$\frac{2.9}{h}$	أ
$2.9h$	د	$\frac{2.9}{he}$	ج

إذا كان جهد الإيقاف لخلية كهروضوئية V فإن السرعة العظمى للإلكترونات المتحررة من سطح الفلز	531		
$\sqrt{\frac{eV}{m}}$	ب	$\sqrt{2eV}$	أ
$\sqrt{\frac{V}{m}}$	د	$\sqrt{\frac{2eV}{m}}$	ج

532	سقط شعاع ضوئي طول موجة فوتونه $1\mu m$ على سطح فلز تردد العتبة له $3 \times 10^{14} Hz$ ، ما هو المتوقع حدوثه؟	
أ	لا يحدث شيء	ب
ج	يتحرر الإلكترون ويتحرك بطاقة حركية	د
	يتحرر الإلكترون ويبقى ساكن	
	يتحرر ثلاثة إلكترونات وتبقى ساكنة	

533	الطاقة الحركية العظمى للإلكترونات المتحررة من سطح النحاس تساوي $(25.5 eV)$ عند سقوط أشعة فوق بنفسجية طولها الموجي $(41 nm)$ على سطحه أجد اقتران الشغل للنحاس بوحدة (eV) .	
أ	$4.2 eV$	ب
ج	$7.2 eV$	د
	$4.7 eV$	
	$7.4 eV$	

534	في تجربة الظاهرة الكهروضوئية تم استخدمت أشعة كهرمغناطيسية طول موجتها $(250 nm)$ ، ووجدت أن التيار الكهروضوئي يصبح صفراً عند فرق جهد $(3.06 V)$ ، أجد تردد العتبة للفلز.	
أ	$2.2 \times 10^{14} Hz$	ب
ج	$4.5 \times 10^{14} Hz$	د
	$4.2 \times 10^{14} Hz$	
	$5.2 \times 10^{14} Hz$	

535	سقط إشعاع كهرمغناطيسي طول موجته $(124 nm)$ على سطح فلز اقتران الشغل له $(4.0 eV)$ ، جد أكبر طاقة حركية للإلكترونات المتحررة من سطح الفلز .	
أ	$9.6 \times 10^{-19} J$	ب
ج	$14.0 eV$	د
	$20.16 \times 10^{-19} J$	
	$2.50 eV$	

536	استخدمت حنين في تجربة كهروضوئية مصدر ضوئي ينبعث منه (10^{10}) فوتون في الثانية الواحدة وطاقة كل فوتون $(7.2 eV)$ على فلز اقتران الشغل له $(3.4 eV)$ ، إن أكبر عدد ممكن من الإلكترونات المتحررة التي تصل الجامع في وحدة الزمن	
أ	10^{12}	ب
ج	10^2	د
	10^{13}	
	10^{10}	

537	إذا كان تردد العتبة لفلز ما $3 \times 10^{13} Hz$ وسقط شعاع تردده $12 \times 10^{13} Hz$ فما الطاقة الحركية للإلكترون المتحرر بدلالة ثابت بلانك h	
أ	$4 \times 10^{13} h$	ب
ج	$9 \times 10^{13} h$	د
	$15 \times 10^{13} h$	
	$36 \times 10^{13} h$	

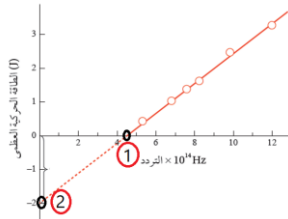


538	إذا كان اقتران الشغل لفلز ($2.0eV$)، وسقط على سطحه إشعاع كهر مغناطيسي طاقة الفوتون الواحد منه ($6.0eV$)، فإن تردد العتبة للفلز هو:	أ	$4.8 \times 10^{-14} Hz$	ب	$4.8 \times 10^{14} Hz$
		ج	$1.4 \times 10^{-15} Hz$	د	$1.4 \times 10^{15} Hz$

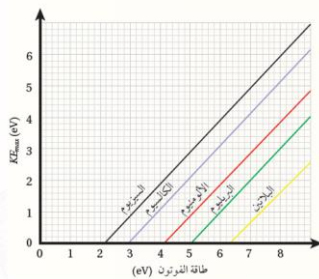
539	إذا كان اقتران الشغل لفلز ($2.0eV$)، وسقط على سطحه إشعاع كهر مغناطيسي طاقة الفوتون الواحد منه ($6.0eV$)، فإن الطاقة الحركية العظمى للإلكترونات المنطلقة من سطح الفلز.	أ	$4J$	ب	$4eV$
		ج	$6.5 \times 10^{19} J$	د	$6.5 \times 10^{-19} eV$

540	الطاقة الحركية العظمى للإلكترونات المتحررة من سطح النحاس تساوي ($22.6eV$) عند سقوط أشعة فوق بنفسجية ترددها ($6.60 \times 10^{15} Hz$) على سطحه فإن اقتران الشغل للنحاس بوحدة (eV).	أ	$4.00eV$	ب	$4.25eV$
		ج	$4.75eV$	د	$5.00eV$

541	ماذا يمثل كلا من: ميل الخط المستقيم والقيم ($1, 2$) في الرسم البياني المجاور	أ	الميل : ثابت بلانك ، القيمة (1) : تردد العتبة ، القيمة (2) : اقتران الشغل لسطح الفلز
		ب	الميل : مقلوب ثابت بلانك ، القيمة (1) : تردد العتبة ، القيمة (2) : اقتران الشغل لسطح الفلز
		ج	الميل : ثابت بلانك ، القيمة (1) : اقتران الشغل لسطح الفلز ، القيمة (2) : تردد العتبة
		د	الميل : ثابت بلانك في شحنة الإلكترون ، القيمة (1) : تردد العتبة ، القيمة (2) : اقتران الشغل لسطح الفلز



542	يمثل الرسم البياني المجاور العلاقة بين الطاقة الحركية العظمى للإلكترونات المتحررة من سطح الفلز وطاقة فوتون الإشعاع الكهرمغناطيسي الساقط على سطح الفلز، وذلك لفلزات عدة. إذا سقط ضوء طاقته ($10eV$) على السيزيوم، أجد الطاقة الحركية العظمى للإلكترونات المتحررة منه.	أ	$10eV$	ب	$6eV$
		ج	$7eV$	د	$8eV$



543	معتمدا على بيانات السؤال السابق ، إذا سقط ضوء طول موجته (350nm) ، فإنه يححر إلكترونات من سطح :	
أ	البلاتين فقط	ب
ج	البلاتين والبريليوم فقط	د
	السيزيوم فقط	
	السيزيوم والكالسيوم فقط	

544	يوضح الشكل المجاور العلاقة بين تردد الضوء الساقط على سطح فلزين مختلفين (X,Y) والطاقة الحركية العظمى للإلكترونات المتحررة من الفلزين. إذا سقط على الفلزين ضوء له التردد نفسه وأكبر من تردد العتبة لهما، فإن الطاقة الحركية العظمى للإلكترونات المتحررة من الفلز (X)	
أ	أكبر منها للفلز (Y) ؛ لأن اقتران الشغل للفلز (Y) أكبر	
ب	أقل منها للفلز (Y) ؛ لأن اقتران الشغل للفلز (Y) أكبر.	
ج	أكبر منها للفلز (Y) ؛ لأن اقتران الشغل للفلز (Y) أصغر.	
د	أصغر منها للفلز (Y) ؛ لأن اقتران الشغل للفلز (Y) أصغر.	

545	في السؤال السابق إذا سقط ضوء طول موجته (225nm) فمن أي الفلزات لا يستطيع تحرير إلكترونات ؟	
أ	البريليوم - البلاتين	ب
ج	السيزيوم	د
	البلاتين	
	الكالسيوم - السيزيوم	

546	الرسم المقابل يمثل العلاقة بين جهد الإيقاف وتردد الإشعاع الساقط على باعث خلية كهروضوئية فإن $(\tan\theta)$ يمثل:	
أ	ثابت بلانك	
ب	النسبة بين ثابت بلانك وشحنة الإلكترون المنطلق	
ج	النسبة بين ثابت بلانك وشحنة الفوتون الساقط	
د	النسبة بين شحنة الإلكترون المنطلق وثابت بلانك	



لكي ننجح علينا أولاً أن
نؤمن أنه بمقدورنا تحقيق
النجاح.

	<p>يمثل الرسم البياني المجاور العلاقة بين جهد الإيقاف وتردد الضوء الساقط في الخلية الكهرضوئية، ميل هذه العلاقة هو:</p>	547
$\frac{e}{h}$	ب	أ
$\frac{\phi}{h}$	د	ج

	<p>يمثل الرسم البياني في الشكل المجاور العلاقة بين جهد الإيقاف وتردد الفوتونات الساقطة على مهبط خلية كهرضوئية مستعينا بالبيانات المبينة على الرسم، مقدار ثابت بلانك هو:</p>	548
$6.63 \times 10^{-34} J \cdot s$	ب	أ
$7.01 \times 10^{-34} J \cdot s$	د	ج

<p>من بيانات السؤال السابق فإن اقتران الشغل لمهبط الخلية يساوي:</p>	549	
$1.85 eV$	ب	أ
$1.25 eV$	د	ج

<p>من بيانات السؤال السابق الطاقة الحركية العظمى (eV) للإلكترونات المنبعثة عند إسقاط أشعة ترددها ($12 \times 10^{14} Hz$) على مهبط الخلية.</p>	550	
$3.67 eV$	ب	أ
$3.18 eV$	د	ج

لا تخف من أن تتقدم
نحو النجاح، فالنجاح
أمامك



حصّة رقم 27: ظاهرة كومبتون

551	الظاهرة التي أثبتت أن للفوتون زخمًا هي:	
أ	حيود الإلكترونات	ب
ج	الأطياف الذرية	د
	شقي يونج	
	تأثير كومبتون	

552	العلاقة الرياضية التي تصف زخم الفوتون هي:	
أ	$P = h\lambda$	ب
ج	$P = \frac{h}{\lambda}$	د
	$P = h\lambda$	
	$P = \frac{h}{\lambda}$	

553	يُحسب الزخم الخطي للفوتون من العلاقة:	
أ	mv	ب
ج	$\frac{E}{c}$	د
	Ec	
	$\frac{h}{f}$	

554	الطول الموجي والتردد للأشعة المنتشرة في تجربة كومبتون مقارنة بالأشعة الساقطة	
أ	الطول الموجي يقل والتردد يقل	ب
ج	الطول الموجي يزداد والتردد يقل	د
	الطول الموجي يقل والتردد يزداد	
	الطول الموجي يزداد والتردد يزداد	

555	طبقا لظاهرة كومبتون، فإن :	
أ	سرعة الفوتونات الساقطة وترددها أكبر من سرعة وتردد الفوتونات المشتتة	
ب	تردد الفوتونات المشتتة أكبر من تردد الفوتونات الساقطة.	
ج	طول موجة الفوتونات المشتتة أكبر من طول موجة الفوتونات الساقطة.	
د	طاقة الفوتونات المشتتة أكبر من طاقة الفوتونات الساقطة.	

556	زخم الفوتون بوحدة $Kg. m/s$ الذي طول موجته $300nm$ هو:		
أ	2.21×10^{-34}	ب	19.89×10^{-27}
ج	2.21×10^{-27}	د	19.89×10^{-34}

557	الطول الموجي لفوتون مقدارزخمه الخطي ($6.63 \times 10^{-26} kg. m/s$)		
أ	$10nm$	ب	$100nm$
ج	$150nm$	د	$185nm$

558	فوتون أشعة سينية تردده ($2.5 \times 10^{18} Hz$) ، فإن مقدارزخمه الخطي يساوي:		
أ	$2.5 \times 10^{-24} kg. m/s$	ب	$3.5 \times 10^{-24} kg. m/s$
ج	$4.5 \times 10^{-24} kg. m/s$	د	$5.5 \times 10^{-24} kg. m/s$

559	فوتون طاقته $20eV$ ، فإن طول الموجي وزخمه الخطي على التوالي		
أ	$\lambda = 62nm$, $p = 1.07 \times 10^{-26} kg. m/s$	ب	$\lambda = 82nm$, $p = 1.07 \times 10^{-26} kg. m/s$
ج	$\lambda = 94nm$, $p = 3.07 \times 10^{-26} kg. m/s$	د	$\lambda = 62nm$, $p = 2.07 \times 10^{-26} kg. m/s$

560	سقط فوتون أشعة غاما طاقته ($550keV$) على إلكترون ساكن، فاكسب الإلكترون طاقة مقدارها ($50keV$) ، فإن طاقة الفوتون المنتشت هي:		
أ	$600keV$	ب	$550keV$
ج	$500keV$	د	$50keV$

561	سقط فوتون أشعة غاما طاقته ($600keV$) على إلكترون ساكن، فاكسب الإلكترون طاقة مقدارها ($50keV$) مقدار التغير في الطول الموجي للفوتون.		
أ	$0.19nm$	ب	$0.19pm$
ج	$0.29nm$	د	$0.29pm$

562	سقط فوتون أشعة سينية مقدارزخمه الخطي ($4.3 \times 10^{-23} kg. m/s$) على إلكترون حر، فكان مقدار الزخم الخطي للفوتون بعد تشتته ($3.2 \times 10^{-23} kg. m/s$)، الطاقة التي اكتسبها الإلكترون بوحدة (eV).		
أ	$21.9keV$	ب	$21.6keV$
ج	$20.9keV$	د	$20.6keV$

حصه رقم 28: نموذج بور لذرة الهيدروجين والأطياف الذرية

563	لا تشع الإلكترونات طاقة وهي في مدارها (مدار الاستقرار) رغم أنها تتسارع نموذج :		
أ	تومسون	ب	بور
ج	رذرفورد	د	شروندجر

564	تحتوي طاقة الربط للمدار في نموذج بور لذرة الهيدروجين على إشارة سالبة لأنها طاقة:		
أ	إشعاعية	ب	ربط
ج	ممتصة	د	تنشيطية

565	عند انتقال الإلكترون من مدار قريب من النواة إلى مدار بعيد عن النواة فإنه :		
أ	يشع طاقة	ب	لا يشع ولا يمتص طاقة
ج	يكتسب طاقة	د	يستقر

566	تناسب القيمة المطلقة لطاقة المدار تناسباً طردياً مع		
أ	رقم المدار	ب	مقلوب رقم المدار
ج	مربع مقلوب رقم المدار	د	مربع رقم المدار

567	تبلغ طاقة المستوى الثالث في ذرة الهيدروجين :		
أ	4.53 eV	ب	-4.53 eV
ج	1.51 eV	د	-1.51 eV

568	قيم الزخم الزاوي للإلكترون في ذرة الهيدروجين هو مضاعفات صحيحة للمقدار:		
أ	$h/4\pi$	ب	$h/2\pi$
ج	h/π	د	$2\pi/h$

569 الزخم الزاوي للإلكترون في المدار الرابع هو		
أ	h/π	ب
ب	$h/2\pi$	ج
ج	$2h/\pi$	د
د	π/h	

570 إذا انتقل إلكترون من مستوى الطاقة الرابع إلى مستوى الطاقة الثاني في ذرة الهيدروجين، فإن الفرق في الزخم الزاوي للإلكترون حسب نموذج بور هو:		
أ	$2\hbar$	ب
ب	$3\hbar$	ج
ج	\hbar	د
د	$4\hbar$	

571 الإلكترون في مستوى الطاقة الثاني لذرة الهيدروجين، الزخم الزاوي له هو:		
أ	$6.63 \times 10^{-34} J.s$	ب
ب	$4.65 \times 10^{-34} J.s$	ج
ج	$3.14 \times 10^{-34} J.s$	د
د	$2.11 \times 10^{-34} J.s$	

572 تسقط طاقة ذرة الزئبق من مستوى الطاقة $8.82eV$ إلى مستوى الطاقة $6.67eV$ مقدار طاقة الفوتون المُشع:		
أ	$2.15eV$	ب
ب	$6.67eV$	ج
ج	$8.82eV$	د
د	$15.49eV$	

573 انتقل إلكترون في ذرة الهيدروجين من المستوى الأول إلى المستوى الثاني، احسب مقدار الطاقة الممتصة بواسطة الذرة:		
أ	$1.02eV$	ب
ب	$102.0eV$	ج
ج	$10.2eV$	د
د	$1020eV$	

574 انتقل إلكترون في ذرة الهيدروجين من المستوى الرابع إلى المستوى الثاني، احسب مقدار الطول الموجي والتردد للفوتون المُشع.		
أ	$\lambda = 486nm, f = 6.2 \times 10^{14}Hz$	ب
ب	$\lambda = 486nm, f = 4.2 \times 10^{14}Hz$	ج
ج	$\lambda = 684nm, f = 6.2 \times 10^{14}Hz$	د
د	$\lambda = 684nm, f = 4.2 \times 10^{14}Hz$	

575 طول موجة الفوتون الناتج عن عودة إلكترون ذرة الهيدروجين من المستوى الثالث إلى المستوى الثاني هي:		
أ	$356nm$	ب
ب	$656nm$	ج
ج	$565nm$	د
د	$757nm$	



حدودك هي فقط خيالك

576	طاقة الفوتون المنبعث عند انتقال الإلكترون في ذرة الهيدروجين من مستوى الطاقة الرابع إلى مستوى الطاقة الأول "مستوى الاستقرار"		
أ	10.20eV	ب	13.06eV
ج	3.4eV	د	12.75eV

577	تردد الفوتون اللازم لنقل إلكترون في ذرة الهيدروجين من مستوى الطاقة الأول إلى مستوى الطاقة الخامس.		
أ	$3.16 \times 10^{14} \text{ Hz}$	ب	$3.16 \times 10^{15} \text{ Hz}$
ج	$3.16 \times 10^{18} \text{ Hz}$	د	$5.4 \times 10^{14} \text{ Hz}$

578	انتقل إلكترون ذرة الهيدروجين من مستوى الطاقة (n_i) إلى مستوى الطاقة الثاني، فانبعث فوتون بطاقة ($4.08 \times 10^{-19} \text{ J}$) أجد قيمة رقم مستوى الطاقة (n_i).		
أ	3	ب	4
ج	5	د	6

الأطياف الذرية

579	أي العبارات التالية صحيحة؟		
أ	الغازات الباردة تبعث الأطوال الموجية نفسها التي تبعثها عندما تثار		
ب	الغازات الباردة تؤين الأطوال الموجية عندما تثار		
ج	الغازات الباردة تثير الأطوال الموجية التي تثيرها عندما تثار		
د	الغازات الباردة تمتص الأطوال الموجية التي تبعثها عندما تثار		





580	خاصية تميزها نوع الغاز "بصمة الغاز المميزة له"...		
أ	طيف الانبعاث الذري	ب	الطيف المغناطيسي
ج	طاقة الكم	د	طاقة الفوتون

581	خطوط مضئنة يمثل كل خط منها تردد وطول موجي مميز ناتج عن إنتقال الإلكترون بين مستويات الذرة		
أ	الطيف الكهرومغناطيسي	ب	طيف الانبعاث الخطي
ج	طيف الامتصاص الخطي	د	الطيف الذري

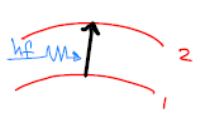
582	يعزى طيف انبعاث الهيدروجين إلى ...		
أ	انتظام طاقة الإلكترون في مدار ثابت	ب	انتقال الإلكترون إلى مدارات ذات طاقة أعلى
ج	انتقال الإلكترون إلى مدارات ذات طاقة أدنى	د	انتظام سرعة الإلكترون في مدار ثابت

583	في أي من انتقالات الإلكترون التالية بين مستويات الطاقة في ذرة الهيدروجين ينبعث فوتونات بأعلى قيمة تردد:		
أ	$E_2 \leftarrow E_3$	ب	$E_2 \leftarrow E_5$
ج	$E_2 \leftarrow E_4$	د	$E_2 \leftarrow E_6$

584	أي تحول مما يأتي مسؤول عن انبعاث ضوء بأكبر تردد وأقل طول موجي:		
أ	$E_2 \rightarrow E_1$	ب	$E_4 \rightarrow E_1$
ج	$E_3 \rightarrow E_1$	د	$E_5 \rightarrow E_1$

585	الحالة التي تصف انتقال إلكترون من مستوى طاقة أعلى إلى مستوى طاقة أقل ...		
أ		ب	
ج		د	

586	في الشكل المجاور: عند مقارنة التغير في طاقة الفوتونات في ذرة الهيدروجين فإن ..		
أ	$\Delta E_3 > \Delta E_1$	ب	$\Delta E_3 < \Delta E_1$
ج	$\Delta E_2 < \Delta E_1$	د	$\Delta E_3 = \Delta E_2 = \Delta E_1$

587	عند انبعاث فوتون من مستويات طاقة الذرة فأي الرسومات التالية يكون للفوتون فيها أكبر طول موجي		
أ		ب	
ج		د	

588	طول موجة الفوتون المنبعث عند انتقال إلكترون ذرة الهيدروجين من مستوى الطاقة الثالث إلى مستوى الطاقة الأول.		
أ	102nm	ب	450nm
ج	631nm	د	780nm

589	ظهر في طيف الانبعاث الخطي لذرة الهيدروجين الطول الموجي (434.0nm) ، هذا الطول الموجي ناتج عن انتقال الإلكترون بين مستويي الطاقة:		
أ	$n_3 \rightarrow n_2$	ب	$n_5 \rightarrow n_2$
ج	$n_3 \rightarrow n_1$	د	$n_5 \rightarrow n_1$

590	رصد علماء الفلك خطوط الطيف لضوء قادم من مجرة بعيدة لذرة جديدة أحادية الإلكترون فكانت على نحو ما هو موضح في الشكل المجاور، فإن طاقة المستوى الثاني تساوي:		
أ	-8.16eV	ب	-2.04eV
ج	-0.91eV	د	-0.42eV

حصة رقم 29: الطبيعة الموجية - الجسيمية

591	التداخل - الحيود : ظواهر تثبت أن الضوء ذو طبيعة		
أ	مادية	ب	موجية
ج	مزدوجة	د	لا شيء مما سبق

592	الظاهرة التي تثبت أن لجسيمات المادة المتحركة خصائص موجية:		
أ	حيود الضوء	ب	تأثير كومبتون
ج	حيود الإلكترونات	د	حيود الفوتونات

593	يزداد طول موجة دي بروي المصاحبة لجسيم إذا :		
أ	زادت طاقته الحركية	ب	زادت كتلته
ج	زادت سرعته	د	قل زخمه الخطي

594	كرة معدنية كتلتها $5Kg$ وسرعتها $4m/s$ أوجد الطول الموجي المصاحب لها بدلالة ثابت بلانك .		
أ	$h/5$	ب	$0.05h$
ج	$h/4$	د	$0.04h$

595	عند زيادة جهد التسريع للإلكترون فإن طول موجة دي بروي المصاحبة له:		
أ	يزداد	ب	يبقى ثابت
ج	يقل	د	لا يمكن التنبؤ

596	تسارع بروتون ($m_p = 1.67 \times 10^{-27} kg$) من السكون بفرق جهد مقداره ($20kV$) ، أوجد طول موجة دي بروي المصاحبة له عند نهاية مدة تسارعه		
أ	$1.04 \times 10^{-13}m$	ب	$1.50 \times 10^{-13}m$
ج	$2.03 \times 10^{-13}m$	د	$2.30 \times 10^{-13}m$

597	أوجد طول موجة دي بروي المصاحبة لإلكترون سرعته ($2.00 \times 10^8 m/s$) علما أن كتلة الإلكترون تساوي ($m_e = 9.11 \times 10^{-31} kg$)		
أ	$3.64 \times 10^{-13}m$	ب	$3.64 \times 10^{-12}m$
ج	$2.03 \times 10^{-13}m$	د	$2.03 \times 10^{-12}m$

598	طول موجة دي بروي لحزمة من الإلكترونات ($2.00 \times 10^{-10}m$) ، أوجد فرق الجهد المستخدم في تسريع الإلكترونات ($m_e = 9.11 \times 10^{-31} kg$) .		
أ	38V	ب	84V
ج	113V	د	129V

599	بروتون طاقته الحركية ($500keV$) ، أجد طول موجة دي بروي المصاحبة له حيث كتلة البروتون . ($1.67 \times 10^{-27} kg$)		
أ	$4.0 \times 10^{-14}m$	ب	$4.0 \times 10^{-15}m$
ج	$2.0 \times 10^{-14}m$	د	$2.0 \times 10^{-15}m$

600	تسارع إلكترون من السكون بفرق جهد مقداره ($10keV$) ، فإن طول موجة دي بروي المصاحبة له عند نهاية مدة تسارعه هي: ($e = 1.6 \times 10^{-19} C$) ، ($m_e = 9.11 \times 10^{-31} kg$)		
أ	12.3nm	ب	12.3pm
ج	1.23nm	د	1.23pm

حصه رقم 30: بنية الذرة ونطاق الاستقرار

601	نواة الحديد رمزها (${}^{56}_{26}\text{Fe}$) ما عدد نيوترونها :		
أ	26	ب	56
ج	30	د	82

602	ما مقدار شحنة نواة الحديد: (${}^{56}_{26}\text{Fe}$)		
أ	$26e$	ب	$56e$
ج	$30e$	د	$82e$

603	ما مقدار كتلة نواة الحديد: (${}^{56}_{26}\text{Fe}$)		
أ	26amu	ب	56amu
ج	30amu	د	82amu

604	ما عدد نيوترونات نظير الزئبق ${}^{200}_{80}\text{Hg}$		
أ	80	ب	120
ج	200	د	280

605	نواة X تحوي 10 بروتونات و 12 نيوترون إن الرمز الصحيح لهذه النواة ...		
أ	${}^{12}_{10}\text{X}$	ب	${}^{22}_{10}\text{X}$
ج	${}^{10}_{12}\text{X}$	د	${}^{10}_{22}\text{X}$

606	الذرات التي لها عدد البروتونات نفسه ، والمختلفة في عدد النيوترونات تسمى :		
أ	البدائل	ب	النيوكليونات
ج	النظائر	د	الكواركات

607	النظائر هي ذرات عنصر واحد تتساوى في ...		
أ	عدد الإلكترونات	ب	عدد النيوترونات
ج	العدد الكتلي	د	الحجم الذري

608	نسبة نصف قطر النواة $Z_1^A X$ إلى نصف قطر النواة $Z_2^{27A} X$	
أ	ب	$\frac{1}{2}$
ج	د	$\frac{2}{1}$
		$\frac{1}{3}$
		$\frac{3}{1}$

609	إن حجم النواة يتناسب:	
أ	ب	طردياً مع عددها الكتلي
ج	د	طردياً مع مكعب عددها الكتلي
		عكسياً مع عددها الكتلي
		طردياً مع الجذر التكعيبي لعددها الكتلي

610	النواة X لها 27 ضعف العدد الكتلي لنواة Y ، فإن حجم النواة X إلى حجم النواة Y هو	
أ	ب	27 ضعف
ج	د	$\frac{1}{27}$
		3 أضعاف
		$\frac{1}{3}$

611	أحسب حجم نواة نظير الأكسجين ($^{16}_8O$) حيث $r_o = 1.2 \times 10^{-15} m$	
أ	ب	$5.79 \times 10^{-44} m^3$
ج	د	$1.16 \times 10^{-43} m^3$
		$2.33 \times 10^{-44} m^3$
		$1.73 \times 10^{-43} m^3$

612	نسبة نصف قطر النواة ($^{27}_{13}Al$) إلى نصف قطر النواة ($^{64}_{29}Cu$) تساوي:	
أ	ب	$\frac{3}{4}$
ج	د	$\frac{8}{3}$
		$\frac{27}{64}$
		$\frac{64}{27}$

613	نسبة حجم النواة ($^{27}_{13}Al$) إلى حجم النواة ($^{64}_{29}Cu$) تساوي	
أ	ب	$\frac{3}{8}$
ج	د	$\frac{8}{3}$
		$\frac{27}{64}$
		$\frac{64}{27}$

614	عند زيادة العدد الذري لنواة العنصر فإن كثافتها:	
أ	ب	تزداد
ج	د	تقل
		تبقى ثابتة
		المعطيات ناقصة للحكم على السؤال

نطاق الاستقرار

615	الجسيمات الموجودة في نواة الذرة هي ...		
أ	الإلكترونات والبروتونات	ب	البروتونات والنيوترونات
ج	الإلكترونات والنيوترونات	د	البروتونات فقط

616	العامل الرئيس في تحديد استقرار الذرة هو نسبة ..		
أ	النيوترونات إلى البروتونات	ب	البروتونات إلى الإلكترونات
ج	النيوترونات إلى الإلكترونات	د	الإلكترونات إلى النيوترونات

617	عدد النيوترونات في النوى المستقرة الثقيلة يكون:		
أ	مساويا لعدد البروتونات	ب	أقل من عدد البروتونات
ج	أقل بكثير من عدد البروتونات	د	أكبر من عدد البروتونات

618	الأنوية المستقرة هي أنوية:		
أ	نصف قطرها أكبر من $3 \times 10^{-15} m$	ب	لا تصدر إشعاعات نووية
ج	بروتوناتها أكبر من نيوتروناتها	د	لديها فائض من الطاقة

619	تكون النوى مستقرة عندما تكون، قوى التجاذب النووي من قوى التنافر الكهربائي.		
أ	أكبر	ب	تساوي
ج	أقل	د	المعطيات غير كافية للحكم على السؤال

620	ما نسبة $\frac{N}{Z}$ التي تستقر عندها النوى التي يقل عددها الذري عن 20		
أ	1.75	ب	1.25
ج	1.00	د	0.75

621	نواة مستقرة عددها الذري 82 تم إضافة بروتون واحد ونيوترون واحد فإنها:		
أ	تبقى مستقرة.		
ج	تصبح غير مستقرة.		
ب	قوى التجاذب النووي لها أكبر من قوى التنافر الكهربائي لها.		
د	قوى التجاذب النووي لها تساوي قوى التنافر الكهربائي لها.		

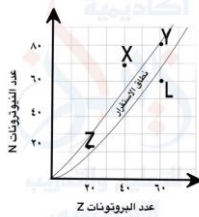


كونوا دائماً أقوياء ، وواجهوا العقبات
بكل ثقة لأنكم تستطيعون الفوز

622	تتعدم القوى النووية إذا زادت المسافة بين نيوكليوناتها عن		
أ	1 fermi	ب	1.5 fermi
ج	2 fermi	د	3 fermi

623	العنصر الذي يقع أحد نظائره أعلى منحى الاستقرار		
أ	يكون مستقرا	ب	يكون مشعا لجسيمات بيتا
ج	يكون مشعا لجسيمات ألفا	د	يكون مشعا لجسيمات بيتا وأشعة غاما

624	يمثل الرسم البياني المجاور العلاقة بين عدد البروتونات وعدد النيوترونات لنوى ذرات مختلفة والنقاط (X, Y, Z, L) تمثل بعض هذه النوى، النواتان المستقرتان هما:			
	أ	X, Y	ب	Z, L
	ج	Y, Z	د	X, L



حصة رقم 31: طاقة الربط النووية

625	لماذا لا تتباعد البروتونات داخل النواة رغم أنها تتنافر.		
أ	بسبب شحنتها الموجبة	ب	لأنها غير مشحونة
ج	بسبب قوى التجاذب النووية القوية	د	بسبب القوى الكهرومغناطيسية

626	الطاقة المكافئة لنقص كتلة النواة هي: النووية		
أ	طاقة الانبعاث	ب	طاقة الربط
ج	طاقة الامتصاص	د	طاقة التذبذب

627	طاقة الربط النووية هي الطاقة اللازمة لـ:		
أ	فصل مكونات النواة لتكون بعيدة بعضها عن بعض	ب	فصل الإلكترونات عن النواة.
ج	فصل بروتون واحد عن النواة	د	فصل نيوترون واحد عن النواة.

628	طاقة الربط النووي تحسب من علاقة تكافؤ (الكتلة - الطاقة) والصيغة الرياضية لها هي: ..		
أ	Δmc	ب	Δmc^2
ج	$\Delta m/c$	د	$\Delta m/c^2$

629	القوى النووية القوية تعتمد على:		
أ	عدد البروتونات فقط	ب	شحنة البروتونات فقط
ج	عدد النيوترونات فقط	د	عدد النيوكليونات

630	الطاقة المتحررة من تحول كتلة 1amu تساوي 931.5 MeV فما مقدار الطاقة الناتجة عند تحول $3u$ بوحدة MeV		
أ	931.5	ب	5589.5
ج	2794.5	د	9315

631	أحسب طاقة الربط النووية لنواة ${}^{56}_{26}\text{Fe}$ حيث كتلة نواة الحديد تساوي $m_{\text{Fe}} = 55.92066\text{amu}$		
أ	985.0MeV	ب	492.5MeV
ج	17.59MeV	د	8.79MeV

632	أحسب طاقة الربط النووية لكل نيوكليون لنواة ${}^4_2\text{He}$ ، حيث $m_{\text{He}} = 4.0026\text{amu}$		
أ	7.2MeV	ب	6.8MeV
ج	5.4MeV	د	2.3MeV

633	إذا كانت كتلة نواة نظير الليثيوم (${}^7_3\text{Li}$) تقل بمقدار (0.0042amu) عن مجموع كتل مكوناتها، فإن متوسط طاقة الربط النووية لكل نيوكليون (MeV) لها تساوي:		
أ	3.91	ب	0.559
ج	0.014	د	7.12

634	إذا كانت طاقة الربط النووية لكل نيوكليون في نواة (${}^{90}_{40}\text{Ze}$) تساوي 8.7MeV ، فإن طاقة الربط النووية بوحدة MeV لهذه النواة تساوي:		
أ	348	ب	1435
ج	783	د	1131



ثقتك بنفسك هي اهم عوامل النجاح

635	طاقة الربط النووية لنواة ${}^{62}_{28}\text{Ni}$ تساوي 545.5MeV ، مقدار طاقة الربط النووية لنيوكليونات نواة ${}^{62}_{28}\text{Ni}$ هي:		
أ	545.5MeV	ب	17.60MeV
ج	8.79MeV	د	4.40MeV

إذا كانت طاقات الربط النووية للأنوية التالية مقدره بوحدة Mev هي كما يأتي:						
636	النواة	${}^2_1\text{H}$	${}^4_2\text{He}$	${}^7_3\text{Li}$	${}^9_4\text{Be}$	فإن أكثرها استقرارا هي:
	الطاقة	2.2	28	35	54	
أ	${}^2_1\text{H}$	ب	${}^4_2\text{He}$			
ج	${}^7_3\text{Li}$	د	${}^9_4\text{Be}$			

الجدول الآتي يمثل طاقة الربط النووية والعدد الكتلي لبعض النوى، أيها أكثر استقرارا:					
637	النواة	X	Y	Z	L
	طاقة الربط النووية (MeV)	1600	1623	39.3	545
	العدد الكتلي	200	206	7	62
أ	X	ب	Y		
ج	Z	د	L		

638	النيوكليون الموجود على سطح نواة ثقيلة يرتبط مع النواة بطاقة ربط	
أ	أكبر من النيوكليون الموجود قرب مركز النواة	ب
ج	مساوية للنيوكليون الموجود قرب مركز النواة	د
	تحتاج المعلومات إضافية للإجابة	

639	أي العبارات الآتية صحيحة للنواتين ${}^{15}_8\text{O}$, ${}^{15}_7\text{N}$	
أ	لهما نفس طاقة الربط النووية وطاقة التنافر الكهربائي.	
ب	طاقة الربط النووية لنواة ${}^{15}_7\text{N}$ أكبر منها لنواة ${}^{15}_8\text{O}$	
ج	طاقة التنافر الكهربائي وطاقة الربط النووية لنواة ${}^{15}_8\text{O}$ أكبر منها لنواة ${}^{15}_7\text{N}$	
د	طاقة الربط النووية لنواة ${}^{15}_8\text{O}$ أكبر منها لنواة ${}^{15}_7\text{N}$	

640	إن طاقة الربط النووية لكل نيوكليون تتغير بمقدار قليل مع زيادة العدد الكتلي للنوى التي عددها الكتلي ($A > 50$) ويعزى ذلك إلى ضعف مدى القوى النووية القوية وهذا يعرف بـ	
أ	فوق الإشباع للقوى النووية القوية	ب
ج	تحت الإشباع للقوى النووية القوية	د
	إشباع القوى النووية القوية	
	إشباع القوى النووية الضعيفة	

حصة رقم 32: الاضمحلال النووي

641	شحنة نواة الهيليوم أو شحنة جسيم ألفا		
أ	$1.6 \times 10^{-19} C$	ب	$4.8 \times 10^{-19} C$
ج	$3.2 \times 10^{-19} C$	د	$6.4 \times 10^{-19} C$
642	ما نوع الأشعة الناتجة من التفاعل النووي التالي؟ ${}_{92}^{238}U \rightarrow {}_{90}^{234}Th + \dots$		
أ	ألفا	ب	جاما
ج	بيتا	د	سينية
643	ما مقدار Z, A اللذان يجعلان المعادلة التالية صحيحة؟ ${}_{92}^{238}U \rightarrow a + {}_Z^A Th$		
أ	$Z = 94, A = 242$	ب	$Z = 90, A = 238$
ج	$Z = 92, A = 238$	د	$Z = 90, A = 234$
644	في التفاعل: ${}_{90}^{234}Th \rightarrow {}_{91}^{234}Pa + \dots$ يحدث اضمحلال		
أ	ألفا	ب	جاما
ج	بيتا	د	بروتون
645	الرمز الصحيح لنواة X في التفاعل التالي: ${}_{83}^{210}Bi \rightarrow X + {}_{-1}^0e$		
أ	${}_{83}^{210}X$	ب	${}_{84}^{211}X$
ج	${}_{84}^{210}X$	د	${}_{83}^{209}X$
646	أحسب قيمة r في المعادلة: ${}_{90}^{234}X \rightarrow {}_r^{234}Pa + {}_{-1}^0e + {}_0^0\bar{\nu}$		
أ	89	ب	91
ج	90	د	92

647	أكمل المعادلة النووية التالية...: ${}^{14}_7N + {}^1_0n \rightarrow {}^{14}_6C + \dots$		
أ	1_1H	ب	3_1H
ج	2_1H	د	3_2H

648	عندما يشع الجسم A_ZX إشعاع ألفا، فإن العدد الذري والكتلي للعنصر الجديد		
أ	${}^{A-1}_{Z-2}X$	ب	${}^A_{Z-1}X$
ج	${}^{A-4}_{Z-2}X$	د	${}^{A-4}_Z X$

649	اضمحلال بيتا الموجبة يؤدي إلى ...		
أ	زيادة العدد الذري	ب	زيادة العدد الكتلي
ج	نقص العدد الذري	د	نقص العدد الكتلي

650	اضمحلال جاما يؤدي إلى		
أ	تحرر إلكترونات	ب	إعادة توزيع الطاقة في النواة
ج	انبعاث نواة هيليوم	د	فقدان بروتونات

651	أي من أنواع الإضمحلال الإشعاعي لا يغير عدد البروتونات أو عدد النيوترونات بالنواة: إضمحلال		
أ	ألفا	ب	جاما
ج	بيتا	د	جميع ما سبق

652	أي الإشعاعات التالية لا يتأثر بالمجال الكهربائي ولا بالمجال المغناطيسي		
أ	جاما	ب	بيتا السالبة
ج	بيتا الموجبة	د	ألفا

653	أي من الإشعاعات التالية له أكبر قدرة على النفاذية		
أ	ألفا	ب	بيتا
ج	جاما	د	ميزون

654	أي الجسيمات التالية لها أكبر أثر في تأين خلايا الكائن الحي عندما يكون لها نفس الطاقة:		
أ	ألفا	ب	بروتون
ج	بيتا	د	نيوترون

655	ترتب نواتج الإشعاع الثلاثة المتساوية في الطاقة من حيث قدرتها على تأيين الوسط المادي ترتيبا تنازليا على النحو الآتي:		
أ	$\alpha > \beta > \gamma$	ب	$\alpha > \gamma > \beta$
ج	$\gamma > \beta > \alpha$	د	$\beta > \alpha > \gamma$

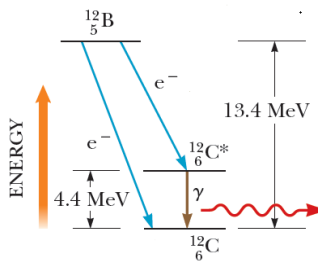
656	عند تحول نيوترون إلى بروتون فسوف ينطلق		
أ	جسيم ألفا	ب	أشعة جاما
ج	إلكترون	د	بوزترون

657	إذا تحول بروتون إلى نيوترون داخل ذرة فسوف ينتج		
أ	بوزترون	ب	جرافيتون
ج	إلكترون	د	ميزون

658	النيوترينو جسيم ينتج عن عملية:		
أ	تحلل البروتون إلى نيوترون وبوزيترون.	ب	تحلل النيوترون إلى بروتون وإلكترون
ج	اضمحلال غاما	د	خروج جسيم ألفا من النواة.

659	النواة غير المستقرة تتحول تلقائيا إلى نواة ذات كتلة:		
أ	أقل طاقة ربط أعلى لكل نيوكليون	ب	أكبر طاقة ربط أقل لكل نيوكليون
ج	أكبر طاقة ربط أعلى لكل نيوكليون	د	أقل طاقة ربط أقل لكل نيوكليون

660	الشكل المجاور يبين سلسلة اضمحلال $^{12}_5B$ ليصبح $^{12}_6C$ ، استعن به واحسب مقدار الطاقة بوحدة MeV التي فقدتها نواة $^{12}_5B$ لتتحول إلى نواة $^{12}_6C^*$		
أ	4.4	ب	13.4
ج	9.0	د	17.8



لا تجعل كلام الآخرين يؤثر على ثقتك بنفسك وقدراتك .



حصّة رقم 33: النشاطية الإشعاعية

661	عدد انحلالات الجسم المشعة كل ثانية ...		
أ	الانشطار النووي	ب	الاندماج النووي
ج	النشاط الإشعاعي	د	القوة النووية

662	النشاطية الإشعاعية لعنصر مشع عدد أنويته في لحظة ما 10^{28} نواة وثابت الانحلال له $10^{-14} /s$		
أ	10^{14}	ب	10^2
ج	10^{-14}	د	$10^{0.5}$

663	تولدت عينة تريتيوم وكتلتها $1.0 g$ ما الكتلة بالجرام للتريتيوم التي تبقى بعد مرور 24.6 سنة علماً بأن عمر النصف لتريتيوم يساوي 12.3 سنة		
أ	0.5	ب	0.25
ج	125	د	1

664	مادة مشعة كانت كتلتها $80 g$ وأصبحت $10 g$ بعد مرور 72 يوماً إن عمر النصف لهذا المادة بوحدة اليوم ...		
أ	24	ب	30
ج	12	د	60

665	عينة من عنصر مشع عمر النصف لها 7.0 يوم، فيكون ثابت الانحلال لهذه العينة من العنصر تساوي:		
أ	$10/day$	ب	$0.1/day$
ج	$1/day$	د	$0.01/day$

666	إذا كان عمر النصف لمادة 1620 سنة فإذا كانت النسبة بين الأنوية المنحلة والأنوية الأصلية هي $\frac{1}{8}$ فإن الزمن الكلي اللازم لهذا الانحلال هو:		
أ	1620	ب	4860
ج	3240	د	6480

667	عنصر مشع عمر نصفه 8 أيام ، فإذا كانت كتلته يوم السبت 10 g فكم تكون كتلته بالجرام يوم الأحد من الأسبوع التالي؟		
أ	10	ب	2.5
ج	5	د	1.25

668	عينة مشعة كتلتها 8 g يوم السبت وعمر النصف لها 4 أيام إن كتلتها بالجرام يوم الأحد من الأسبوع القادم ستصبح ...		
أ	$\frac{1}{2}$	ب	$\frac{1}{4}$
ج	2	د	4

669	عينة من عنصر مشع كتلتها (m) وعمر النصف لها يوم واحد ، يكون المتبقي منها بعد مرور 4 أيام هو:		
أ	$4m$	ب	$m/4$
ج	$16m$	د	$m/16$

670	مستعيناً بالرسم المجاور مقدار عمر النصف لعنصر الراديوم $^{226}_{88}\text{Ra}$ بوحدة (years) هو:		
أ	100	ب	1600
ج	50	د	3200

671	يُستخدم اليود المشع في علاج سرطان الغدة الدرقية، فإذا كان عمر النصف له (8 days) تقريباً، الزمن اللازم حتى يضمحل (75%) منه هو:		
أ	8 days	ب	16 days
ج	24 days	د	32 days

672	يستخدم الغاليوم - 67 في التشخيص الطبي. إذا علمت أن ثابت الاضمحلال له ($2.4 \times 10^{-6}\text{ s}^{-1}$)، وقسّت النشاطية الإشعاعية لعينة منه فكانت (4680 Bq)، فأجد الزمن اللازم حتى تصبح النشاطية الإشعاعية (1170 Bq).		
أ	$5.8 \times 10^{-5}\text{ s}$	ب	$5.8 \times 10^5\text{ s}$
ج	$11.6 \times 10^{-5}\text{ s}$	د	$11.6 \times 10^5\text{ s}$

673	نظير مشع نشاطيته الإشعاعية الآن (800 Bq) ، وثابت الاضمحلال له ($4 \ln(2) \text{ days}^{-1}$) ، فإن المدة الزمنية اللازمة حتى تصبح نشاطيته الإشعاعية (100 Bq)		
أ	1.25 day	ب	1.00 day
ج	0.75 day	د	0.50 day

674	إذا كان عمر النصف للنظير (X) ضعفي عمر النصف للنظير (Y) ، فإن ثابت الاضمحلال للنظير (X) يساوي:		
أ	ضعفي ثابت الاضمحلال للنظير (Y)	ب	ثابت الاضمحلال للنظير (Y)
ج	ثلاثة أضعاف ثابت الاضمحلال للنظير (Y)	د	نصف ثابت الاضمحلال للنظير (Y)

675	إذا مر زمن مقداره ضعفي عمر النصف لعينة مشعة ، فإن نشاطيتها الإشعاعية:		
أ	تضاعف أربع مرات	ب	تقل للربع
ج	تضاعف مرتين	د	تقل للنصف

676	سلسلة الاضمحلال الإشعاعي الطبيعي التي تبدأ بنظير $^{235}_{92}\text{U}$		
أ	اليورانيوم	ب	الثوريوم
ج	الأكتينيوم	د	البروتكتينيوم

677	$^A_Z X$ نواة نظير عنصر غير مستقرة ، تقع ضمن سلسلة اضمحلال ، بعد سلسلة من التحولات أطلقت أربعة جسيمات بيتا السالبة وجسيم ألفا واحدا ، فإن النواة الناتجة تكون:		
أ	$\frac{A-4}{Z+2} Y$	ب	$\frac{A-2}{Z-4} Y$
ج	$\frac{A+2}{Z+4} Y$	د	$\frac{A+4}{Z-2} Y$

378	تمر نواة الراديوم ($^{226}_{88}\text{Ra}$) بسلسلة إشعاعات باعثة (4) دقائق ألفا و (4) دقائق بيتا. القيم الصحيحة لكل من العدد الذري والعدد الكتلي لنواة الناتجة على الترتيب:		
أ	$Z = 84 , A = 214$	ب	$Z = 84 , A = 210$
ج	$Z = 88 , A = 210$	د	$Z = 88 , A = 214$

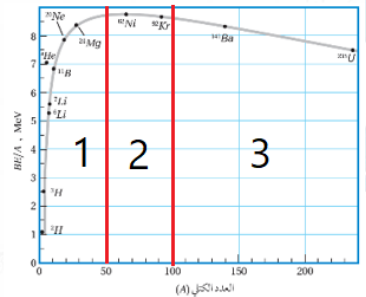
679	عدد جسيمات ألفا وبيتا السالبة المنبعثة من سلسلة تحولات تضمحل خلالها نواة ($^{238}_{92}\text{U}$) إلى نواة ($^{226}_{88}\text{X}$) على الترتيب هي:		
أ	2 ألفا ، 3 بيتا	ب	3 ألفا ، 4 بيتا
ج	2 ألفا ، 2 بيتا	د	3 ألفا ، 2 بيتا

يمكن التعبير عن سلسلة اضمحلال الثوريوم بالمعادلة:			680
${}^{232}_{90}\text{Th} \rightarrow {}^{208}_{82}\text{Pb} + n {}^4_2\text{He} + m {}^0_{-1}\text{e} + m \bar{\nu}$			
عدد جسيمات بيتا السالبة (m)، وعدد جسيمات ألفا (n) في المعادلة السابقة هي.			
أ	4 ألفا ، 4 بيتا	ب	6 ألفا ، 6 بيتا
ج	6 ألفا ، 4 بيتا	د	4 ألفا ، 6 بيتا

حصة رقم 24: التفاعل النووي والمفاعل النووي

عملية تنقسم فيها النواة إلى نواتين أو أكثر وتحرر طاقة : النووي			681
أ	الانشطار	ب	الإنحلال
ج	الاندماج	د	الإضمحلال

أي من القذائف النووية التالية لا يحتاج طاقة عالية لاصطدامه بالهدف			682
أ	جسيم ألفا	ب	البروتون
ج	النيوترون	د	الديتيريوم

			683
الشكل المجاور يمثل تغير طاقة الربط النووية لكل نيوكلون مع العدد الكتلي، أي المناطق على الشكل تمثل نوى قابلة للإنشطار النووي			
أ	1	ب	2
ج	3	د	1, 3

عند تحول 3g من مادة إلى طاقة، مقدار الطاقة المتولدة هي:			684
أ	2793MeV	ب	2.793MeV
ج	27 × 10 ¹⁶ J	د	27 × 10 ¹³ J

685	في المعادلة النووية التالية: $a + {}^{235}_{92}\text{U} \rightarrow {}^{141}_{56}\text{Ba} + {}^{92}_{36}\text{Kr} + 3{}_0^1\text{n}$ يعبر الرمز (a) عن :		
أ	نيوترون سريع	ب	بروتون سريع
ج	نيوترون بطيء	د	بروتون بطيء

686	في تفاعل انشطاري نووي كانت كتلة المواد المتفاعلة 236.002amu وكتلة المواد الناتجة 235.816amu فإن الطاقة المتحررة من التفاعل بوحدة MeV تساوي:		
أ	245.24MeV	ب	172.88MeV
ج	125.36MeV	د	32.58MeV

687	الطاقة الناتجة من تفاعل انشطاري نووي تساوي 172.88MeV ، فإن مقدار الفرق بين كتلة المواد المتفاعلة والمواد الناتجة في التفاعل هي:		
أ	0.18559amu	ب	161037.72amu
ج	0.09224amu	د	80518.86amu

688	فرق الكتلة في تفاعل اندماج الهيدروجين ونظيره لتكوين نواة الهليوم ($6.0 \times 10^{-3}\text{amu}$) فإن الطاقة الناتجة عن هذا التفاعل هي:		
أ	6.0MeV	ب	5.6MeV
ج	3.5MeV	د	2.6MeV

689	لديك معادلة الاندماج النووي (طاقة + ${}_0^1\text{n} + {}^4_2\text{He} \rightarrow {}^3_1\text{H} + {}^2_1\text{H}$) احسب الطاقة المتولدة لكل نواة من التفاعل بوحدة MeV (${}^3_1\text{H} = 3.01605u$ ، ${}^2_1\text{H} = 2.01410u$ ، ${}_0^1\text{n} = 1.008665u$ ، ${}^4_2\text{He} = 4.00260u$)		
أ	0.0188	ب	3.5
ج	17.6	د	157

690	أحسب الطاقة Q الناتجة من تفاعل الانشطار الآتي بوحدة MeV : ${}_0^1\text{n} + {}^{235}_{92}\text{U} \rightarrow {}^{236}_{92}\text{U}^* \rightarrow {}^{141}_{56}\text{Ba} + {}^{92}_{36}\text{Kr} + 3{}_0^1\text{n}$ (${}_0^1\text{n} = 1.0087u$ ، ${}^{235}_{92}\text{U} = 234.9934u$ ، ${}^{141}_{56}\text{Ba} = 140.8840u$ ، ${}^{92}_{36}\text{Kr} = 91.9064u$)		
أ	0.0188	ب	3.5
ج	17.6	د	157

691	محطات الطاقة النووية تعمل على تحويل الطاقة الحرارية المتحررة من التفاعلات النووية إلى طاقة:		
أ	كيميائية	ب	كهربائية
ج	ضوئية	د	صوتية

المسؤول عن تبطئة النيوترونات السريعة في المفاعل النووي حتى تتم عملية الانشطار المتسلسل	692
أ	قضبان الكادميوم
ب	الصوديوم المنصهر
ج	الماء الثقيل
د	الهيدروجين

تهدف عملية تخصيب اليورانيوم إلى إنتاج وقود نووي يحتوي على نسبة عالية من:	693
أ	${}_{92}^{238}U$
ب	${}_{92}^{234}U$
ج	${}_{92}^{232}U$
د	${}_{92}^{235}U$

الوقود المستخدم في المفاعل النووي هو	694
أ	قضبان الكادميوم
ب	قضبان الجرافيت
ج	أنوية اليورانيوم ${}_{92}^{235}U$
د	أنوية اليورانيوم ${}_{92}^{238}U$

يتم بواسطتها التحكم في معدل التفاعل الانشطاري المتسلسل:	695
أ	قضبان اليورانيوم
ب	النيوكليونات
ج	قضبان الكادميوم
د	الكواركات

تنشطر نواة اليورانيوم-235 عند قذفها بنيوترون بطيء بأكثر من طريقة مختلفة، فأحياناً ينتج من انشطارها نيوترونان، وأحياناً ثلاثة نيوترونات فأَيّ العبارات الآتية صحيحة فيما يتعلق بمعدل انشطار ذرات اليورانيوم في قلب المفاعل؟	696
أ	التفاعل الذي ينتج نيوترونين
ب	التفاعل الذي ينتج ثلاثة نيوترونات
ج	كلاهما يؤدي إلى نفس معدل انشطار اليورانيوم في قلب المفاعل.
د	لا يمكن التحكم بمعدل انشطار اليورانيوم في قلب المفاعل.

المعادلة النووية التالية تمثل: ${}_{1}^{1}H + {}_{1}^{1}H \rightarrow {}_{1}^{2}H + {}_{+1}^{0}e + {}_{0}^{0}\nu$	697
أ	انشطار
ب	انحلال
ج	اندماج
د	اضمحلال

الجسيم الناتج من الاندماج النووي التالي هو: ${}_{1}^{1}H + {}_{1}^{2}H \rightarrow \dots + {}_{0}^{0}\gamma + energy$	698
أ	${}_{2}^{4}H$
ب	${}_{2}^{3}H$
ج	${}_{2}^{4}He$
د	${}_{2}^{3}He$



	يمثل الشكل المجاور رسماً تخطيطياً لأحد تفاعلات الاندماج النووي المعادلة النووية الصحيحة التي تعبر عن هذا التفاعل هو:		699
	$\frac{4}{2}\text{He} + \frac{1}{0}\text{n} \rightarrow \frac{2}{1}\text{H} + \frac{3}{1}\text{H}$	ب	$\frac{2}{1}\text{H} + \frac{3}{1}\text{H} \rightarrow \frac{4}{2}\text{He} + \frac{1}{0}\text{n}$
$\frac{2}{2}\text{He} + \frac{1}{0}\text{n} \rightarrow \frac{1}{1}\text{H} + \frac{2}{1}\text{H}$	د	$\frac{1}{1}\text{H} + \frac{2}{1}\text{H} \rightarrow \frac{2}{2}\text{He} + \frac{1}{0}\text{n}$	ج

النظير المستخدم في الكشف عن خلل في عملية الغدة الدرقية			700
الكوبلت - 60	ب	اليود - 131	أ
اليورانيوم - 238	د	اليورانيوم - 235	ج

التعليم والتدريب الإلكتروني

تمت بحمد الله وفضله ولا تنسوني من دعائكم

اخوكم زيدان محمود

انتظرونا في الاختبارات النهائية للفصل الدراسي الأول والثاني وكامل المنهج (150 سؤال).



لازمها!!!



200/2000



700 سؤال
منه دائرة

4 اختبارات
نهائية



خرائط ذهنية



أكاديمية

أبواب

للتعليم والتدريب
الإلكتروني