

"مكتف التكامل"

AWA2EL
LEARN 2 BE



SHEFA' AL HERSH
أ.محمّد عوّاد

الدرس الأول

③ قيمة $\int 3x^2 dx$ هو :

a) $5x^3 + c$ b) $x^3 + c$ c) $6x + c$

قواعد التكامل (المحرمات)

قاعدة الجذر

$$\int \sqrt{\quad} dx \rightarrow \int \left(\begin{array}{c} \text{داخل} \\ \text{خارج} \end{array} \right)$$

$\int \sqrt{x} dx$	$\int \sqrt[3]{x} dx$	$\int (3\sqrt{x}) dx$
--------------------	-----------------------	-----------------------

④ قيمة $\int \sqrt[5]{x^2} dx$ هو :

a) $\frac{5}{7} \sqrt[5]{x^7} + c$

b) $\sqrt[5]{x^2} + c$

c) $\sqrt[5]{x^3} + c$

قاعدة الضرب

$$\int \left(\begin{array}{c} \text{ } \\ \text{ } \end{array} \right) \left(\begin{array}{c} \text{ } \\ \text{ } \end{array} \right) dx$$

$$\int x(x^3 - 7) dx$$

$$\int (3x + 2)(x - 1) dx$$

$$\int \sqrt{x}(x - 1) dx$$

$$\int (x - 1)^2 dx$$

قواعد التكامل :

$$\int \text{عدد} dx \Rightarrow \text{عدد} x + v$$

$$\int x^n dx \Rightarrow \frac{x^{n+1}}{n+1} + c$$

$$\int \text{عدد} x^n dx \Rightarrow \frac{\text{عدد} x^{n+1}}{n+1} + c$$

سؤال 1

$$f(x) = -2x^6$$

جد اقتراحاً أصلياً

$$\int (10x^4 + 8x^{-3}) dx$$

$$\int \left(3x^{-2} + 6x^{-\frac{1}{2}} + x - 4 \right) dx$$

① أوجد الاقتران الأصلي للاقتران :

$$f(x) = -3x^{-4}$$

a) $g(x) = x^{-3} + c$

b) $g(x) = x^{-4} + c$

c) $g(x) = -12x^{-5} + c$

② احسب اقتران أصلي للاقتران :

$$f(x) = -9x^{10}$$

a) $g(x) = x^{-9} + c$

b) $g(x) = 90x^{11} + c$

c) $g(x) = x^8 + c$

الوحدة
الرابعة

④ $\int \frac{\text{معادلة كبيرة}}{\text{معادلة صغيرة}} dx$

① $\int \frac{x^2 - 1}{x - 1} dx$

② $\int \frac{4 - x^2}{2 + x} dx$

③ $\int \frac{x^2 - 25}{x - 5} dx$

④ $\int \frac{x^2 - x - 6}{x - 3} dx$

⑤ $\int \frac{x^2 + 2x + 1}{x + 1} dx$

⑥ $\int \frac{x^2 + 3x - 4}{x + 4} dx$

⑦ $\int \frac{x^3 + 8}{x + 2} dx$

⑧ $\int \frac{x^3 - 8}{x - 2} dx$

⑨ $\int \frac{x^3 + 27}{x + 3} dx$

⑩ $\int \frac{x^2 + 2x}{x + 2} dx$

⑪ $\int \frac{2x^3 + 2}{x + 1} dx$

⑫ $\int \frac{2x^2 - 2}{x - 1} dx$

$$\int x(x + 1)^2 dx$$

$$\int (x - 1)(x - 3)(x + 5) dx$$

⑤ قيمة $\int (3x - 4)^2 dx$ تساوي :

a) $3x^3 - 12x^2 + 16x + c$

b) $x^2 - 4x + 8 + c$

c) $x^3 + x^2 - 4x + c$

d) $x^3 - 4x + c$



"قسمة"

① $\int \frac{\text{عدد}}{x^n} dx = \int \text{عدد } x^{-n} dx$

$$\int \left(\frac{1}{x^2} - \frac{1}{x^3} \right) dx$$

$$\int \frac{10}{\sqrt{x}} dx$$

$$\int \left(\frac{x^2}{3} + \frac{3}{x^2} \right) dx$$

③ $\int \frac{ax^m + b}{x^n} dx \Rightarrow \int \frac{ax^m}{x^n} + \frac{b}{x^n} dx$

2. $\int \frac{8x^3 + 5x}{x} dx$

3. $\int \frac{4x^3 - 2}{x^3} dx$

4. $\int \frac{x^4 - 8x^3}{x^2} dx$

$$\textcircled{13} \int \frac{x^2 - 2x - 15}{x - 5} dx$$

$$\textcircled{14} \int \frac{x^3 - 8}{x - 2} dx$$

$$\textcircled{15} \int (x + 2)(x - 1)(x + 3) dx$$

①⑥

إذا كانت :

$$\int ax^2 + bx + c dx = \frac{x^3}{3} + \frac{5x^2}{2} - 4x + c$$

فما قيم a, b, c ؟

سؤال 2

تبرير : إذا كان : $\int (\frac{P}{2x^2} + Q) dx = \frac{2}{x} +$
 $10x + c$, فجد قيمة كل من الثابت P
والثابت Q

■ واجب بيتي :

احسب قيمة التكاملات التالية :

$$\textcircled{1} \int x^2 + 5x - 7 dx$$

$$\textcircled{2} \int 5x^4 + 8x^3 - 6x^2 + 4x - 3 dx$$

$$\textcircled{3} \int \sqrt[3]{x^2} + \frac{7}{x^2} dx$$

$$\textcircled{4} \int (2x + 3)(x^2 - 4) dx$$

$$\textcircled{5} \int x^2 \left(1 + \frac{1}{x^2}\right) dx$$

$$\textcircled{6} \int \sqrt{x} \left(1 + \frac{1}{\sqrt{x}}\right) dx$$

$$\textcircled{7} \int (3x + 3)^2 dx$$

$$\textcircled{8} \int \frac{x^2 + 5}{x^2} dx$$

$$\textcircled{9} \int \frac{x^3 + 4x^2 + 6}{x^2} dx$$

$$\textcircled{10} \int \frac{(x^2 + 1)^2}{x^4} dx$$

$$\textcircled{11} \int \frac{x^2 - 9}{x - 3} dx$$

$$\textcircled{12} \int \frac{x^2 + 4x + 4}{x + 2} dx$$

④ إذا كان $f(x) = -3x^{-4}$ فإن أي اقتران

أصلي للاقتران $f(x)$ يكتب على الصورة:

a) $G(x) = \frac{1}{x^3} + c$

b) $G(x) = -\frac{1}{x^3} + c$

c) $G(x) = 3x^{-3} + c$

d) $G(x) = -3x^{-3} + c$

هو $\int \frac{7x - 2x^2}{x} . dx$ ⑤

a) $7x - 2x^2 + c$

b) $7x - x^2 + c$

c) $\frac{7}{2}x^2 - \frac{2}{3}x^3 + c$

d) $\frac{7}{2}x - \frac{2}{3}x^2 + c$

هو $\int x(x^4 - 3) . dx$ ⑥

a) $\frac{1}{5}x^5 - 3x + c$

b) $\frac{1}{5}x^5 - \frac{3}{2}x^2 + c$

c) $\frac{1}{6}x^6 - \frac{3}{2}x^2 + c$

d) $\frac{1}{6}x^6 - 3x + c$

أسئلة وزارية

① إذا كان $f(x) = -7x^{-8}$ فإن أي اقتران

أصلي للاقتران $f(x)$ يكتب على الصورة:

a) $G(x) = -8x^{-7} + c$

b) $G(x) = x^{-8} + c$

c) $G(x) = -8x^{-9} + c$

d) $G(x) = x^{-7} + c$

هو $\int \frac{2}{\sqrt[3]{x}} . dx$ ②

a) $3\sqrt[3]{x^2} + c$

b) $\sqrt[3]{x^2} + c$

c) $\frac{4}{3}\sqrt[3]{x^2} + c$

d) $\frac{2}{3}\sqrt[3]{x^2} + c$

هو $\int \frac{x^2 - 4}{x - 2} . dx$ ③

a) $x^2 - 2x + c$

b) $x^2 + 2x + c$

c) $\frac{1}{2}x^2 + 2x + c$

d) $\frac{1}{2}x^2 - 2x + c$



مكتف الدرس الثاني

الضبطي

مشتقة الاقتران $f'(x), \frac{dy}{dx}$

أو معدل التغير أو ميل المنحنى

(كلها اسماء مختلفة تدل على المشتقة)

المطلوب

قاعدة الاقتران

$h(x), f(x), g(x), \dots$

(كلها أشكال ممكنة لقاعدة الاقتران)



الشرط الأولي \Leftarrow نقطة يمر بها المنحنى (x, y)

$$f(x) = y$$

سؤال 2

أجد قاعدة الاقتران $f(x)$ إذا كان $f'(x) = 6x^2 + 5$ ومر منحناه بالنقطة $(1, 9)$

كامل

أوجد C

نقطة أولى + قيمة C

طريقة الحل

سؤال 1

أجد قاعدة الاقتران $f(x)$ إذا كان $f'(x) = 3x^2 + 4x - 3$ ومر منحناه بالنقطة $(2, 4)$

سؤال 3

إذا كان ميل المماس لمنحنى العلاقة y هو:

$$\frac{dy}{dx} = 3x^2 - 12x + 8$$

بنقطة الأصل، فأجد الإحداثي x لجميع نقاط

تقاطع منحنى العلاقة مع المحور x ، فبررًا

إجابتي.

سؤال 7

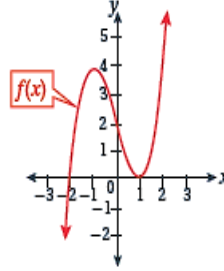
يتحرك جسيم في مسار مستقيم، وتعطى سرعته المتجهة بالاقتران: $v(t) = 3t^2 - 11t + 11$ ، حيث t الزمن بالثواني، و v سرعته المتجهة بالمتري لكل ثانية. إذا بدأ الجسيم حركته من نقطة الأصل، فأجد موقعه بعد ثنيتين من بدء الحركة.

سؤال 8

يتحرك جسيم في مسار مستقيم، ويُعطى تسارعه بالاقتران $a(t) = 4t - 4$ حيث t الزمن بالثواني، و a تسارعه بالمتري لكل ثانية تربيع، إذا بدأ الجسيم حركته من نقطة الأصل بسرعة متجهة مقدارها 5 m/s ، فأجد موقعه بعد 3 ثوانٍ من بدء الحركة.

سؤال 4

يُبين الشكل المجاور منحنى الاقتران $f(x)$ ، حيث: $f'(x) = 3x^2 - 3$ ، أجد قاعدة الاقتران $f(x)$



سؤال 5

يُمثل الاقتران: $S(t) = 500\sqrt[4]{t}$ فُعدّل تغيّر المبيعات الشهرية لهاتف جديد، حيث t عدد الأشهر منذ طرح الهاتف في الأسواق، و $S(t)$ عدد الهواتف المباعة شهرياً. أجد $S(0)$ ، علماً بأن $S(0) = 0$

سؤال 6

يمثل الاقتران $C'(x) = 0.3x^2 + 2x$ التكلفة الحدية (بالدينار) لكل قطعة تُنتج في إحدى الشركات، حيث x عدد القطع المنتجة، و $C(x)$ تكلفة إنتاج x قطعة بالدينار، أجد اقتران التكلفة $C(x)$ علماً بأن تكلفة إنتاج 10 قطع هي JD 2200



④ إذا كان ميل المماس لمنحنى الاقتران $f(x)$ هو $f'(x) = 4\sqrt[3]{x} - 2x$ ، فما قاعدة الاقتران $f(x)$ علما بأن منحناه يمر بالنقطة $(1, 12)$ ؟

أسئلة وزارية

① إذا كان $f'(x) = 12x^2 + 4x$ ، فإن قاعدة الاقتران $f(x)$ الذي يمر منحناه بالنقطة $(1, 9)$ هي :

a) $f(x) = 12x^3 + 4x^2 + 5$

b) $f(x) = 12x^3 + 4x^2 - 5$

c) $f(x) = 4x^3 + 2x^2 - 3$

d) $f(x) = 4x^3 + 2x^2 + 3$

② يتحرك جسيم في مسار مستقيم وتعطى سرعته المتجهة بالاقتران :

$v(t) = 6t^2 - 4$ ، حيث t الزمن بالثواني ، و v سرعته المتجهة بالمتري لكل ثانية ،

إذا كان الموقع الابتدائي للجسيم هو $4m$ ، فجد موقع الجسيم بعد ثانيتين من بدء الحركة

③ إذا كان $f'(x) = 3x^2 - 4$ ، فإن قاعدة الاقتران $f(x)$ الذي يمر منحناه بالنقطة $(1, 0)$ هي :

a) $f(x) = x^3 - 4x + 3$

b) $f(x) = x^3 - 4x - 3$

c) $f(x) = x^3 - 4x + 1$

d) $f(x) = x^3 - 4x - 1$

مكثف الدرس الثالث

← **تلوث** : يُلوث مصنع بحيرة بفضائل

يُمكن نمذجته بالاقتران: $N'(t) = 280t^{3/2}$ ، حيث t عدد الأشهر منذ الآن، و $N(t)$ عدد الكيلوغرامات من الطلوثات التي يطررها المصنع في البحيرة. كم كيلوغراماً من الطلوثات يدخل البحيرة منذ الآن حتى 4 أشهر؟

سؤال 2

إذا كان $\int_1^m (2x + 3) dx = 6$ فأجد قيمة m الثابت

سؤال 3

إذا كان $\int_1^k \frac{1}{\sqrt{x}} dx = 3$ فأجد قيمة k الثابت

سؤال 4

إذا كان: $\int_1^m (6x - 10) dx = 4$ ، فأجد قيمة الثابت m .

سؤال 1

$$\int_0^1 (2x - 5) dx$$

$$\int_1^9 \left(\sqrt{x} - \frac{4}{\sqrt{x}} \right) dx$$

$$\int_0^6 x(6 - x) dx$$

$$\int_1^6 \left(6x - \frac{12}{x^4} + 3 \right) dx$$

$$\int_1^2 \frac{x^2 + x^3}{x} dx$$



← **تغير التكلفة** : يُمثل الاقتران:

$C'(x) = 6x + 1$ التكلفة الحدية (بالدينار) لكل قطعة تُنتجها إحدى الشركات، حيث x عدد القطع المُنتجة، و $C(x)$ تكلفة إنتاج x قطعة بالدينار. أجد مقدار التغير في التكلفة عند زيادة الشركة إنتاجها من 10 قطع إلى 20 قطعة شهرياً.

الوحدة
الرابعة

فأجد قيمة كل مما يأتي :

1) $\int_2^2 g(x) dx$

2) $\int_5^1 (g(x) - 2) dx$

3) $\int_1^2 (3f(x) + x) dx$

4) $\int_2^5 f(x) dx$

5) $\int_1^5 (f(x) - g(x)) dx$

سؤال 9

إذا كان :

$$f(x) = \begin{cases} 12 & , x < 2 \\ 3x^2 & , x \geq 2 \end{cases}$$

فأجد قيمة $\int_1^4 f(x) dx$

سؤال 10

(a) إذا كان $f(x) = |x - 3|$ فأجد قيمة

$$\int_{-1}^4 f(x) dx$$

سؤال 5

إذا كان: $\int_1^5 (2ax + 7) dx = 4a^2$ ، فأجد
قيمة الثابت a



سؤال 6

إذا كان $\int_3^1 g(x) dx = 8$
 $\int_5^3 g(x) dx = 7$ ، فأوجد $\int_5^3 g(x) dx$

سؤال 7

إذا كان $\int_0^5 2f(x) dx = 10$
فأوجد $\int_5^7 f(x) dx$ ، $\int_0^7 \frac{f(x)}{3} dx = -4$

سؤال 8

$$\int_1^2 f(x) dx = -4$$

$$\int_1^5 f(x) dx = 6$$

$$\int_1^5 g(x) dx = 8$$

واجب

ضع دائرة حول رمز الإجابة الصحيحة :

$$\textcircled{1} \int_1^3 x^3 dx \text{ تساوي}$$

- a) 10 b) 20 c) 15

$$\textcircled{2} \int_{-2}^5 9 - 2x dx \text{ تساوي}$$

- a) 42 b) 41 c) 10

$$\textcircled{3} \int_0^1 x^2(6x^3 + 3) dx$$

- a) 1 b) 2 c) 3

$$\textcircled{4} \int_2^3 3x^2 - 6x + 7 dx$$

- a) 10 b) -10 c) 11

$$\textcircled{5} \int_1^3 \frac{8}{x^3} dx$$

- a) 8 b) 9 c) -8

$$\textcircled{6} \int_1^9 \frac{5}{\sqrt{x}} dx$$

- a) 20 b) -3 c) 3

$$\int_0^3 |2 - x| dx$$

$$\int_0^7 |2x - 1| dx$$

$$\int_{-3}^4 |x| dx$$

$$\int_0^5 (|x + 3| - 5) dx$$



$$\textcircled{14} \int_4^{-2} f(x) dx = -7 \quad \text{إذا كانت}$$

فإن قيمة $\int_{-2}^4 f(x) dx$ تساوي :

a) 4 b) 7 c) - 2

$$\textcircled{15} \int_1^4 f(x) dx = 15 \quad \text{إذا كانت}$$

فإن قيمة $\int_1^4 \frac{f(x)}{3} dx$ تساوي :

a) 5 b) 1 c) - 2

$$\textcircled{16} \int_1^5 f(x) dx = 10 \quad \text{إذا كانت}$$

$$\int_1^5 g(x) dx = -8$$

فإن قيمة $\int_5^1 g(x) + f(x) dx$ تساوي :

a) 2 b) - 2 c) 18

$$\textcircled{17} \int_1^4 3f(x) + 2x dx = 33 \quad \text{إذا كانت}$$

فإن قيمة $\int_1^4 2f(x) dx$ تساوي :

a) 27 b) 12 c) 3

$$\textcircled{18} \int_1^5 f(x) dx = 11, \int_1^7 f(x) dx = 20$$

احسب $\int_5^7 f(x) dx$

a) 7 b) 3 c) 9

$$\textcircled{7} \int_1^3 \frac{4x^3 + 5x^2 - 6}{x^2} dx$$

a) 20 b) 21 c) 22

$$\textcircled{8} \int_0^2 \frac{x^2 - 4}{x - 2} dx$$

a) - 6 b) 6 c) 7

$$\textcircled{9} \int_1^a 3x^2 dx = 26$$

فما قيم a تساوي :

a) 3 b) - 3 c) 2

$$\textcircled{10} \int_1^b 2x dx = 15$$

فإن قيمة b تساوي :

a) 4 b) - 4 c) 4, -4

$$\textcircled{11} \int_1^b \frac{7}{\sqrt{x}} dx = 42$$

فإن قيمة b تساوي :

a) 16 b) 6 c) - 16

$$\textcircled{12} \int_1^a 2x + 5 dx = 18$$

فما قيم a تساوي :

a) 3 b) - 8 c) 3, -8

$$\textcircled{13} \int_{b^3-1}^7 f(x) dx = 0$$

فإن قيمة b تساوي :

a) 2 b) - 2 c) - 1

أسئلة وزارية

• إذا كان $\int_{-3}^2 f(x) dx = 2$ فاجب عن

$\int_{-3}^2 g(x) dx = 2$, -5 , فاجب عن

الفقرتين 1 , 2 الآتيين :

1. قيمة $\int_{-3}^2 (f(x) - 2g(x)) dx$ تساوي :

- a) - 1 b) 1
c) - 9 d) 9

2. قيمة $\int_2^{-3} (f(x) + 4) dx$ تساوي :

- a) - 25 b) 25
c) 15 d) - 15

3) إذا كان $\int_0^k 6x^2 dx = 16$, فإن قيمة

الثابت k تساوي :

- a) - 2 b) 2
c) - 4 d) 4

4) إذا كان $f(x) = |x - 5|$, فجد

$\int_0^6 f(x) dx$

19) $\int_1^3 2f(x) dx = 10$, $\int_3^5 \frac{f(x)}{2} dx = 4$

احسب $\int_1^5 2f(x) + 6 dx$

- a) 18 b) 22 c) - 31

20) $f = \begin{cases} 3x^2 & , x < 2 \\ 2x + 8 & , x > 2 \end{cases}$

فإن $\int_0^5 f(x) dx$ يساوي :

- a) 18 b) 51 c) 53

21. $\int_0^6 |2x - 4| dx$

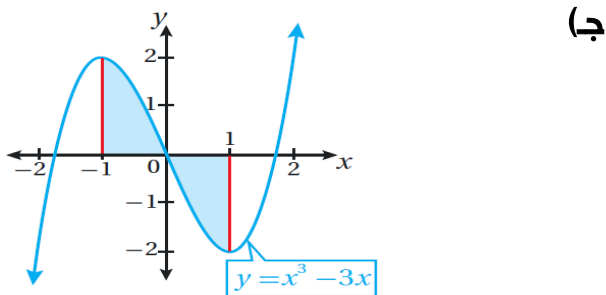
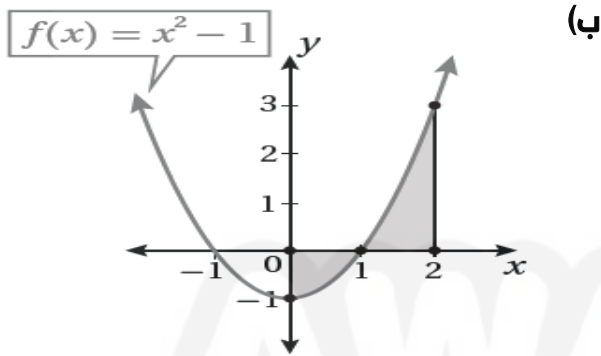
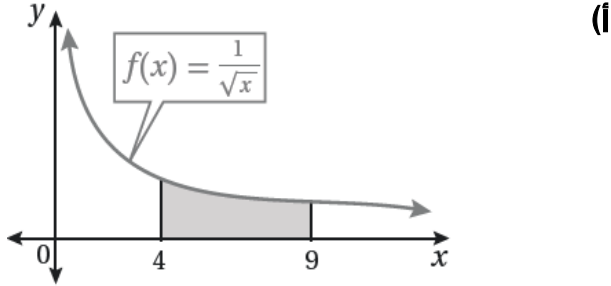
- a) 20 b) 31 c) - 4

22. $\int_{-1}^4 |3x - 6| dx$

- a) $\frac{39}{2}$ b) 39 c) 2

سؤال 6

أجد مساحة المنطقة المظللة في كل من التمثيلات البيانية الآتية:



سؤال 3

أجد مساحة المنطقة المحصورة بين منحنى الاقتران: $f(x) = x^2(2 - x)$ ، والمحور x .



سؤال 4

أجد مساحة المنطقة المحصورة بين منحنى الاقتران: $f(x) = (x + 1)(x - 4)$ ، والمحور x .



سؤال 5

أجد مساحة المنطقة المحصورة بين منحنى الاقتران $f(x) = x^3 - x$ والمحور x .

■ السؤال الرابع :

احسب المساحة المحصورة بين $f(x) = x^2 - 2x$ ومحور x

■ السؤال الخامس :

احسب المساحة المحصورة بين $f(x) = x^3 - 4x$ ومحور x

■ السؤال السادس :

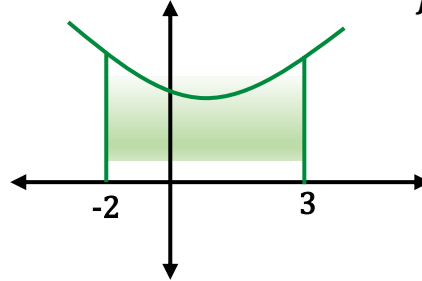
احسب المساحة المحصورة بين $f(x) = x^2 - 1$ ومحور x والمستقيم $x = 2$ ، $x = 4$

واجب بيتي :

■ السؤال الأول :

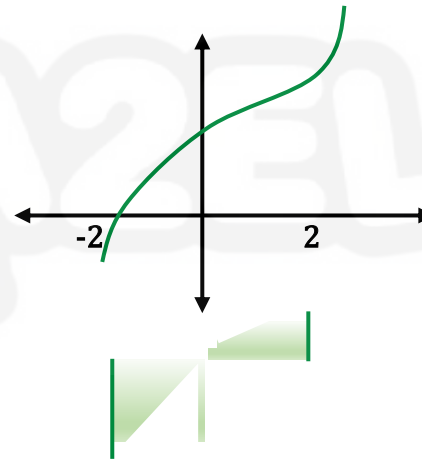
احسب المساحة المظلة في الشكل :

$$f(x) = x^2 + 3$$

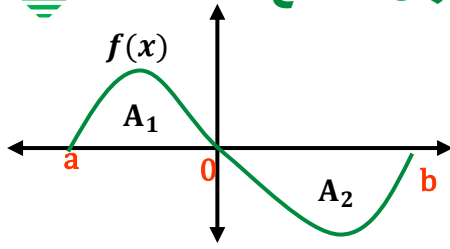


■ السؤال الثاني :

احسب المساحة المظلة في الشكل : $f(x) = x^3$



■ السؤال التاسع :



إذا كانت $\int_a^b f(x) dx = 4$, $A_1 = 9$ احسب
قيمة المساحة A_2

أسئلة وزارية

① التكامل المحدود الذي قيمته تساوي

مساحة المنطقة المحصورة بين منحنى الاقتران

: هو $f(x) = (x + 1)(x - 2)$ والمحور x هو :

a) $\int_{-1}^2 f(x). dx$ b) $\int_{-1}^{-2} f(x). dx$

c) $\int_1^2 f(x). dx$ d) $\int_1^{-2} f(x). dx$

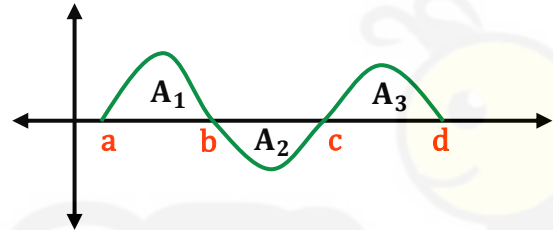
■ السؤال السابع :

احسب المساحة المحصورة بين

$f(x) = 2x - 4$ ومحور x والمستقيم

$x = 5$, $x = -2$

■ السؤال الثامن :



وكانت $A_1 = 5$, $A_2 = 13$, $A_3 = 6$

احسب ما يلي :

① $\int_a^b f(x) dx =$

② $\int_b^c f(x) dx =$

③ $\int_a^d f(x) dx =$

④ $\int_d^a f(x) dx =$

⑤ المساحة الكلية =

⑤ التكامل المحدود الذي قيمته

تساوي مساحة المنطقة المحصورة بين منحنى

الاقتران $f(x) = 9x - x^2$ والمحور x هو :

a) $\int_0^9 (9x - x^2). dx$ b) $\int_9^0 (9x - x^2). dx$

c) $\int_0^3 (9x - x^2). dx$ d) $\int_3^0 (9x - x^2). dx$

⑥ جد مساحة المنطقة المحصورة بين منحنى

الاقتران $f(x) = x^3 - 16x$ والمحور x

مكثف الدرس الخامس

سؤال 1

أجد كلاً من التكاملات الآتية :

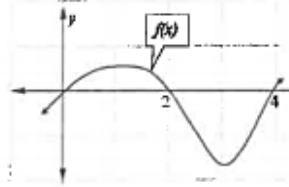
1) $\int (7x - 5)^6 dx$

2) $\int \sqrt{2x + 1} dx$

3) $\int 4 \cos(3x - 7) dx$

② بين الشكل الآتي منحنى الاقتران $f(x)$ ،

إذا كان $\int_0^2 f(x). dx = 5$ وكانت مساحة المنطقة المحصورة بين منحنى $f(x)$ ومحور x تساوي 12 وحدة مساحة ،



فإن قيمة $\int_2^4 f(x). dx$ تساوي :

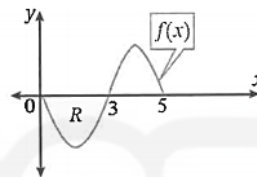
a) $\int_{-1}^2 f(x). dx$ b) $\int_{-1}^{-2} f(x). dx$

c) $\int_1^2 f(x). dx$ d) $\int_1^{-2} f(x). dx$

③ بين الشكل الآتي منحنى الاقتران $f(x)$ ،

إذا كانت مساحة المنطقة R تساوي 5 وحدات

مربعة ، وكان $\int_0^5 f(x). dx = -3$ ،



فإن قيمة $\int_3^5 f(x). dx$ تساوي :

a) - 8 b) 8

c) - 2 d) 2

④ جد مساحة المنطقة المحصورة بين منحنى

الاقتران $f(x) = 2x - x^2$ والمحور x

والمستقيمين $x = 3$ و $x = 1$



سؤال 3

أشارت دراسة إلى أن عدد السكان في إحدى القرى يزداد سنويا بمعدل يمكن نمذجته بالاقتران:

$$P'(t) = 105e^{0.03t} \text{ حيث } P(t) \text{ عدد}$$

السنوات منذ عام 2010 م، و $P(t)$ عدد السكان. أجد عدد سكان القرية عام 2020 م، علما بأن عدد سكانها عام 2010 م هو 3500 شخص.

$$4) \int (\sin 5x + e^{2x}) dx$$

$$5) \int (6x^2 - 3e^{7x+1}) dx$$

$$6) \int \frac{5}{3x+2} dx$$

$$7) \int_0^1 (6e^{-3x} + 12x^3) dx$$

$$8) \int_{-1}^2 (x+1)^3 dx$$

$$9) \int_2^3 \frac{1}{7-2x} dx$$

سؤال 4

يتحرك جسيم في مسار مستقيم، وتعطى سرعته المتجهة بالاقتران: $v(t) = e^{-2t}$ ، حيث t الزمن بالثواني، و v سرعته المتجهة بالمتري لكل ثانية. إذا كان الموقع الابتدائي للجسيم m 2، فأجد موقع الجسيم بعد t ثانية من بدء الحركة.

سؤال 2

في دراسة أجرتها شركة نفطية، تبين أن معدل إنتاج إحدى الآبار النفطية يُنمذج بالاقتران:

$$R'(t) = \frac{100}{t+1} + 5 \text{ حيث } R(t) \text{ عدد البراميل}$$

المنتجة (بالآلاف) في السنة، و t عدد السنوات منذ بدء ضخ النفط من البئر. أجد عدد براميل النفط المنتجة بعد 9 سنوات من بدء عملية

$$\text{الضخ من البئر، علما بأن } R(0) = 0$$

$$\textcircled{9} \int (5x + 2)^6 dx$$

$$\textcircled{10} \int 8(3 - 4x)^3 dx$$

$$\textcircled{11} \int \sqrt{5x + 2} dx$$

$$\textcircled{12} \int \frac{6}{(3x - 2)^4} dx$$

$$\textcircled{13} \int (x^2 + 4x + 4)^3 dx$$

$$\textcircled{14} \int e^{8x+2} dx$$

$$\textcircled{15} \int 6e^{7-2x} dx$$

$$\textcircled{16} \int (e^{2x+3})^2 dx$$

$$\textcircled{17} \int \sqrt{e^x} dx$$

$$\textcircled{18} \int \frac{e^{3x} + 3}{e^x} dx$$

$$\textcircled{19} \int \sin 4x + \cos 3x dx$$

$$\textcircled{20} \int 5\cos(2x + 3) dx$$

$$\textcircled{21} \int 3\cos 5x + \frac{7}{x} dx$$

$$\textcircled{22} \int \frac{1}{3x - 4} dx$$

$$\textcircled{23} \int \frac{5}{7 - 5x} dx$$

$$\textcircled{24} \int \frac{4x}{2x^2 + 5} dx$$

سؤال 5

في كلِّ مَما يأتي المشتقة الأولى للاقتران
 $f(x)$ ، ونقطة يمرُّ بها منحنى $y = f(x)$.
 أستعمل المعلومات المعطاة لإيجاد قاعدة
 الاقتران $f(x)$:

$$1) f'(x) = 5e^x ; \left(0, \frac{1}{2}\right)$$

$$2) f'(x) = \frac{2}{x} - \frac{1}{x^2} ; (1, -1)$$

$$3) f'(x) = e^{-x} + x^2 ; (0, 4)$$

واجب بيتي :

احسب قيمة التكاملات التالية :

$$\textcircled{1} \int 4e^x + 6x dx$$

$$\textcircled{2} \int 2\sin x + \frac{4}{x^3} dx$$

$$\textcircled{3} \int 3\cos x + \sqrt{x} dx$$

$$\textcircled{4} \int 3e^x + 5\sin x - 6\cos x dx$$

$$\textcircled{5} \int 3x + \frac{1}{x} dx$$

$$\textcircled{6} \int \frac{2}{x} + 3e^x + 8 dx$$

$$\textcircled{7} \int \frac{x^2 + 3}{x} dx$$

$$\textcircled{8} \int 4\cos x - \frac{6}{x} dx$$

أسئلة وزارية

$$\text{هو } \int 3\sin(2 - 3x). dx \text{ ①}$$

- a) $3\cos(2 - 3x) + c$
 b) $-3\cos(2 - 3x) + c$
 c) $\cos(2 - 3x) + c$
 d) $-\cos(2 - 3x) + c$

$$\text{هو } \int (9e^{-3x} + 4e^2). dx \text{ ②}$$

- a) $-3e^{-3x} + 2e^2 + c$
 b) $-3e^{-3x} + 4e^2x + c$
 c) $-18e^{-3x} + 8e^2 + c$
 d) $-18e^{-3x} + 4e^2x + c$

$$\text{هو } \int \frac{4}{(3-2x)^3}. dx \text{ ③}$$

- a) $\frac{-12}{(3-2x)^4} + c$
 b) $\frac{24}{(3-2x)^4} + c$
 c) $\frac{-2}{(3-2x)^2} + c$
 d) $\frac{1}{(3-2x)^2} + c$

$$\text{قيمة } \int_3^4 \frac{1}{9-2x}. dx \text{ هي ④}$$

- a) $-\frac{1}{2} \ln 3$ b) $\frac{1}{2} \ln 3$
 c) $-2 \ln 3$ d) $2 \ln 3$

$$\text{جد قيمة } \int (5\cos(x+1) + \frac{2x+3}{x^2+3x}). dx \text{ ⑤}$$

$$25. \int \frac{3x^2 + 4}{x^3 + 4x + 5} dx$$

$$26. \int \frac{e^x}{e^x + 3} dx$$

$$27. \int \frac{\cos x}{\sin x} dx$$

$$28. \int \frac{5x}{3x^2 + 4} dx$$

$$29. \int \frac{x^2 + 2}{x^3 + 6x} dx$$

$$30. \int \frac{x + 2}{x^2 + 4x + 3} dx$$

$$31. \int \frac{5e^{2x}}{3e^{2x} + 7} dx$$

$$32. \int_0^3 \frac{5}{2x + 1} dx$$

$$33. \int_0^2 \frac{2x}{x^2 + 1} dx$$

$$34. \int_2^3 \frac{5}{7 - 2x} dx$$

$$35. \int_1^2 8(2x - 1)^3 dx$$



مكتف الدرس السادس

سؤال 1

أجد كلاً من التكاملات الآتية :

- 1) $\int 6x^2(2x^3 - 3)^4 dx$
- 2) $\int xe^{x^2+1} dx$
- 3) $\int \frac{4x + 8}{\sqrt{2x^2 + 8x}} dx$
- 4) $\int \frac{(\ln x)^2}{x} dx$
- 5) $\int x^3 \cos(x^4 - 5) dx$
- 6) $\int \cos^4 x \sin x dx$

سؤال 2

أسعار: يمثل الاقتران $P(x)$ سعر حذاء رياضي بالدينار، حيث x عدد الأحذية المباعة بالمئات، إذا كان:

$$P'(x) = \frac{-136x}{\sqrt{9+x^2}}$$

الحذاء، فأجد $P(x)$ ، علماً بأن سعر الحذاء الواحد JD 30 عندما يكون عدد الأحذية المباعة 400 حذاء.

$$\textcircled{6} \int 24 \sin(2x + 6) \cdot dx \text{ هو :}$$

- a) $-24 \cos(2x + 6) + c$
- b) $24 \cos(2x + 6) + c$
- c) $-12 \cos(2x + 6) + c$
- d) $12 \cos(2x + 6) + c$

$$\textcircled{7} \int e^{-x}(4 + 2e^x) \cdot dx \text{ هو :}$$

- a) $-4e^{-x} + c$
- b) $4e^{-x} + c$
- c) $4e^{-x} + 2x + c$
- d) $-4e^{-x} + 2x + c$

$$\textcircled{8} \int \frac{13x}{4-x^2} \cdot dx \text{ هو :}$$

- a) $4 \ln|4 - x^2| + c$
- b) $-4 \ln|4 - x^2| + c$
- c) $8 \ln|4 - x^2| + c$
- d) $-8 \ln|4 - x^2| + c$

$$\textcircled{9} \text{ قيمة } \int_0^1 12(x - 1)^5 \cdot dx \text{ هو :}$$

- a) 2
- b) -2
- c) 4
- d) -4

$$\textcircled{10} \text{ جد قيمة } \int \left(8 \cos x + \frac{3}{x} - \frac{1}{\sqrt{x}}\right) \cdot dx$$

سؤال 5

يُمثّل الاقتران $C(t)$ تركيز دواء في الدم بعد t دقيقة من حقنه في جسم مريض، حيث C مقيسة بالمليغرام لكل سنتيمتر مكعب (mg/cm^3) إذا كان تركيز الدواء في دم المريض يتغير بضدّل: $C'(t) = \frac{0.3t}{\sqrt{t^2+16}}$ ، فأجد مقدار التغير في تركيز الدواء بالدم خلال الساعات الثلاث الأولى التي تلت حقنه في جسم المريض.

سؤال 3

يمثل الاقتران $P(x)$ سعر القطعة الواحدة (بالدينار) من منتج معين، حيث x عدد القطع المباعة (بالمئات) من المنتج، إذا كان: $P'(x) = \frac{-300x}{\sqrt{(9+x^2)^3}}$ هو معدل التغير في سعر القطعة الواحدة من المنتج، فأجد $P(x)$ ، علماً بأن سعر القطعة الواحدة JD 75 عندما يكون عدد القطع المباعة 800 قطعة.

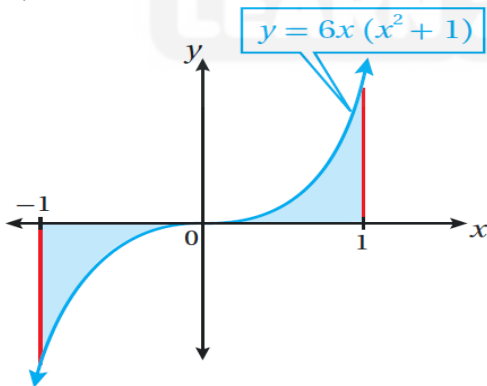
سؤال 4

يتحرك جسّيم في مسار مستقيم، وتعطى سرعته المتجهة بالاقتران: $v(t) = \frac{t}{\sqrt{t^2+1}}$ ، حيث t الزمن بالثواني، و v سرعته المتجهة بالمتري لكل ثانية. إذا بدأ الجسيم حركته من نقطة الأصل. فأجد موقعه بعد t ثانية من بدء الحركة.

سؤال 6

أجد مساحة المنطقة المظللة في كل من التمثيلين البيانيين الآتيين:

1)



واجب بيتي :

احسب قيمة التكاملات التالية :

① $\int (3x^2 + 5)(x^3 + 5x + 2)^7 dx$

② $\int \frac{2x - 3}{(x^2 - 3x + 5)^4} dx$

③ $\int (x^2 + 2)(x^3 + 6x + 2)^4 dx$

④ $\int 5x\sqrt{x^2 + 3} dx$

⑤ $\int_0^4 \frac{6x}{\sqrt{x^2 + 9}} dx$

⑥ $\int_0^2 4xe^{x^2+3} dx$

⑦ $\int_0^1 6x(x^2 + 1)^3 dx$

⑧ $\int 8x(x - 1)^3 dx$

أسئلة وزارية

① $\int \cos^5 x \sin x dx$ هو :

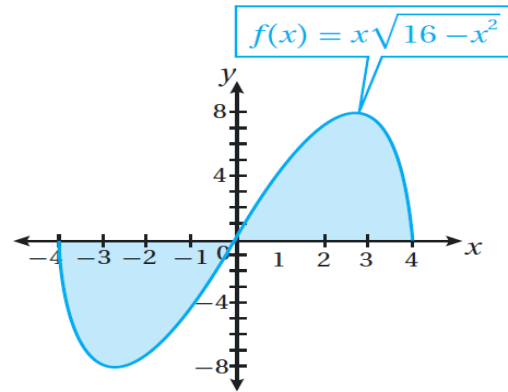
a) $-\frac{1}{6} \sin^6 x + c$

b) $\frac{1}{6} \sin^6 x + c$

c) $-\frac{1}{6} \cos^6 x + c$

d) $\frac{1}{6} \cos^6 x + c$

2)

**سؤال 7**

يتحرك جسيم في مسار مستقيم، وتعطى

سرعته المتجهة بالاقتران: $v(t) = \frac{-2t}{\sqrt{(1+t^2)^3}}$

، حيث t الزمن بالثواني، و v سرعتها المتجهة

بالمتر لكل ثانية. إذا كان الموقع الابتدائي

للجسيم $4 m$ ، فأجد موقع الجسيم بعد t ثانية

من بدء الحركة.

$$\int_0^1 (x^3 + 1)\sqrt{x^4 + 4x + 4} \cdot dx \quad \text{جد } \textcircled{2}$$

$$\int_1^2 \frac{3x^2}{\sqrt{x^3+8}} \cdot dx \quad \text{جد } \textcircled{3}$$

AWAZEL
LEARN 2 BE

