

البوصلة في الرياضيات

الوحدة الخامسة

الإحصاء والاحتمالات

الفرع الأدبي

أ.محمد العلي

2007

الدرس الاول : التوزيع الهندسي

التجربة الاحتمالية الهندسية

(مفهوم أساسي)

إذا توافرت الشروط الأربعة الآتية في تجربة عشوائية

ما، فإنها تُعدُّ تجربة احتمالية هندسية:

① اشتغال التجربة على محاولات مستقلة ومُتكررة.

② فرز النتائج المُمكنة في كل محاولة إلى نجاح أو فشل

③ ثبات احتمال النجاح في كل محاولة.

④ التوقف عند أول نجاح.

مثال 1

أبَّين إذا كانت التجربة العشوائية تُمثِّل تجربة احتمالية

هندسية في كلِّ ممَّا يأتي:

① تدوير سلمي المُتكرر لمُؤمَّر القرص الذي ينقسم إلى

4 قطاعات مُتطابقة، ثم توقُّفها عند استقرار رأس السهم



على اللون الأحمر.

②

سحب كمال 3 كرات على التوالي من دون إرجاع

من صندوق فيه 4 كرات حمراء، و 5 كرات خضراء،

ثم كتابة عدد الكرات الحمراء المسحوبة.

③

إلقاء ريان حجر نرد منتظمًا 4 مرّات، ثم كتابة

الأعداد الظاهرة.

④

إلقاء حنان قطعة نقد متظمة بشكل مُتكرر، ثم التوقف

عند ظهور الصورة.

مثال 3

إذا كان: $X \sim Geo(0.4)$ ، فأجد كلاً مما يأتي:

① $P(X = 2)$

② $P(X \leq 3)$

③ $P(X > 4)$

مثال 4

إذا كان: $X \sim Geo\left(\frac{1}{8}\right)$ ، فأجد كلاً مما يأتي، مُقرَّباً

إجابتي إلى أقرب 3 منازل عشرية:

① $P(X = 4)$

المتغير العشوائي الهندسي، وتوزيعه الاحتمالي

(مفهوم أساسي)

إذا كان: $X \sim Geo(p)$ ، فإن: $x \in \{1, 2, 3, \dots\}$ ، ويعطى

التوزيع الاحتمالي للمتغير العشوائي X بالتعبئة الآتية:

$$P(X = x) = p(1-p)^{x-1}$$

حيث: x : عدد المحاولات وصولاً إلى أول نجاح.

p : احتمال النجاح في كل محاولة.

مثال 2

إذا كان: $X \sim Geo(0.8)$ ، فأجد كلاً مما يأتي:

① $P(X = 3)$

② $P(X \leq 2)$

③ $P(X > 3)$

مثال 5

② $P(3 \leq X < 5)$

يكرّر أحمد محاولة تدوير مقبض الاشتعال في فرن مطبخه

بعد حدوث عطل فيه حتى يتمكن من تشغيل الفرن

لطهي الطعام. إذا كان احتمال اشتعال الفرن في كل محاولة

هو $\frac{1}{3}$ ، ومثل X عدد محاولات أحمد حتى يشتعل الفرن،

فأجد كلاً مما يأتي:

① احتمال أن يتمكن أحمد من إشعال الفرن في المحاولة الرابعة.

② احتمال أن يحاول أحمد إشعال الفرن أكثر من 4 مرّات.

③ $P(1 < X < 3)$

④ $P(X \leq 4)$

⑤ $P(X < 2)$

⑥ $P(4 < X \leq 6)$

⑦ $P(X \geq 2)$

⑧ $P(X > 5)$

⑨ $P(2 < X \leq 4)$

التوقع للمتغير العشوائي الهندسي

(مفهوم أساسي)

إذا كان: $X \sim \text{Geo}(p)$ ، فإن التوقع للمتغير العشوائي

$$E(X) = \frac{1}{p}$$

X يعطى بالقاعدة الآتية:

حيث p احتمال النجاح في كل محاولة.

مثال 7

تندرب لنا على مسابقة رمي السهام. إذا كان

احتمال إصابتها الهدف هو 0.2، فكم سهمًا يتوقع أن

تطلق لنا حتى تصيب الهدف أول مرة؟

مثال 8

قرر ريان إلقاء حجر نرد منتظم بشكل مُتكرّر، والتوقف عند

ظهور العدد 4. كم مرة يتوقع أن يرمي ريان حجر النرد؟

في دراسة لقسم الجودة في مصنع للأواني الفخارية، تبين أن

في 10% من الأواني الفخارية عيبًا مصنعيًا. إذا مثل X عدد الأواني

الفخارية التي سيفحصها مُراقب الجودة حتى إيجاد أول إناء معيب،

فأجد كلاً مما يأتي:

① احتمال أن يكون الإناء العاشر هو أول إناء معيب يجده

مُراقب الجودة.

② احتمال أن يفحص مُراقب الجودة أكثر من 3 أوانٍ حتى

إيجاد أول إناء معيب.

أجد التوقع لكل من المتغيرات العشوائية الآتية:

$$\textcircled{1} X \sim \text{Geo}(0.8)$$

$$\textcircled{2} X \sim \text{Geo}(0.1)$$

$$\textcircled{3} X \sim \text{Geo}(0.75)$$

أطلق عماد رصاصة نحو هدف بصورة مُتكررة، ثم توقف

عند إصابته الهدف أول مرة. إذا كان احتمال إصابته الهدف

في كل مرة هو 0.7، فأجد كلاً مما يأتي:

\textcircled{1} احتمال أن يصيب الهدف أول مرة في المحاولة العاشرة.

\textcircled{2} احتمال أن يُطلق رصاصتين على الأقل حتى يصيب الهدف

أول مرة.

\textcircled{3} العدد المُتوقع من الرصاصات التي سيطلقها عماد حتى

يصيب الهدف أول مرة.

دوّرت هديل مؤشّر قرص بشكل مُتكرّر، وكان القرص مُقسّمًا إلى 4 قطاعات مُتطابقة ومُلوّنة بالأحمر، والأخضر، والأزرق، والأصفر. إذا دلّ المُتغيّر العشوائي X على عدد مرّات تدوير مؤشّر القرص حتى توقّفه عند اللون الأصفر أوّل مرّة، فأجد كلاً ممّا يأتي:

$$\textcircled{1} P(X = 1)$$

إذا دلّ المُتغيّر العشوائي X على عدد مرّات تدوير مؤشّر القرص حتى توقّفه عند اللون الأصفر أوّل مرّة، فأجد كلاً ممّا يأتي:

\textcircled{1} احتمال أن تكون المرّة الثالثة هي أوّل مرّة يتوقّف فيها مؤشّر القرص عند اللون الأصفر.

\textcircled{2} احتمال أن تُدوّر هديل مؤشّر القرص أكثر من 4 مرّات حتى يتوقّف المؤشّر عند اللون الأصفر أوّل مرّة.

$$\textcircled{2} P(X > 3)$$

21 اكتشف الخطأ: أرادت لانا حلّ السؤال الآتي:

' عند إلقاء قطعة نقد غير منتظمة، كان احتمال ظهور الصورة هو $\frac{2}{5}$. إذا أُلقيت قطعة النقد بصورة مُتكررة حتى تظهر الصورة أوّل مرّة، فما احتمال ظهور الصورة أوّل مرّة عند إلقاء قطعة النقد في المرّة الثانية؟'. وكان حلّها على النحو الآتي:

$$P(X=2) = \frac{2}{5} \left(1 - \frac{2}{5}\right)^2 = \frac{18}{125}$$

اكتشف الخطأ في حلّ لانا، ثم أصحّحه، مُبرِّراً إجابتي.

22 تبرير: إذا كان: $X \sim Geo(p)$ ، وكان: $P(X \leq 3) = \frac{819}{1331}$ ، فأجد $P(X > 3)$ ، مُبرِّراً إجابتي.

23 تحدّد: إذا كان: $X \sim Geo(p)$ ، وكان: $P(X = 1) = 0.2$ ، فأجد التوقُّع $E(X)$.

الدرس الثاني : توزيع ذي الحدين

التجربة الاحتمالية ذات الحدين

(مفهوم أساسي)

إذا توافرت الشروط الأربعة الآتية في تجربة عشوائية ما، فإنها تُعدُّ

تجربة احتمالية ذات حدين :

① اشتمال التجربة على محاولات مستقلة ومُتكررة.

② فرز النتائج المُمكنة في كل محاولة إلى نجاح أو فشل.

③ ثبات احتمال النجاح في كل محاولة.

④ وجود عدد محدد من المحاولات في التجربة.

مثال 1

أبَّين إذا كانت التجربة العشوائية تُمثَّل تجربة احتمالية ذات

حدين في كلِّ ممَّا يأتي :

① إلقاء 10 قطع نقدية منتظمة ومتمايزة، ثم كتابة عدد

الصور التي ظهرت.

②

إلقاء حجر نرد منتظم 20 مرَّة، ثم كتابة عدد المَـسَـرات

التي يظهر فيها العدد 1 على الوجه العلوي لحجر النرد.

③

إلقاء حجر نرد منتظم 20 مرَّة، ثم كتابة عدد المَـسَـرات

التي يظهر فيها العدد 1 على الوجه العلوي لحجر النرد.

④

اختيار 7 طلبة عشوائياً من صف روضة فيه 15 ولداً و10

بنات، ثم كتابة عدد البنات اللاتي وقع عليهن الاختيار.

المتغير العشوائي ذو الحدين، وتوزيعه الاحتمالي

(مفهوم أساسي)

إذا كان: $X \sim B(n, p)$ ، فإن: $x \in \{0, 1, 2, \dots, n\}$

ويعطى التوزيع الاحتمالي للمتغير العشوائي X

بالقاعدة الآتية: $P(X=r) = \binom{n}{r} p^r (1-p)^{n-r}$

حيث:

n : عدد المحاولات في التجربة.

p : احتمال النجاح في كل محاولة.

r : عدد المحاولات الناجحة من بين n من المحاولات.

مثال 2

إذا كان: $X \sim B(4, 0.3)$ ، فأجد كلاً مما يأتي:

① $P(X=2)$

② $P(X>2)$

مثال 3

إذا كان: $X \sim B(5, 0.1)$ ، فأجد كلاً مما يأتي:

① $P(X=4)$

② $P(X \leq 2)$

③ $P(X > 2)$

مثال 4

① احتمال رضا 4 زبائن فقط عن خدمات الشركة.

إذا كان: $X \sim B(20, \frac{1}{8})$ فأجد كلاً مما يأتي:

① $P(X = 18)$

② احتمال رضا 3 زبائن على الأقل عن خدمات الشركة.

② $P(X \leq 3)$

مثال 6

في دراسة تناولت حالة الطقس مدّة طويلة في إحدى المدن، تبين أن

احتمال أن يكون أيّ يوم فيها ماطرًا هو $\frac{2}{7}$. إذا اختيرت 5 أيام

عشوائيًا، فأجد كلاً مما يأتي:

③ $P(1 < X \leq 3)$

① احتمال أن تكون 3 أيام فقط من هذه الأيام ماطرة.

مثال 5

وفقًا لنموذج تقسيم الخدمة الإلكتروني في إحدى شركات

صيانة الأجهزة الكهربائية المنزلية، تبين رضا 75% من

الزبائن عن خدمات الشركة. إذا قدّمت الشركة خدماتها لـ

10 زبائن في أحد الأيام، فأجد كلاً مما يأتي:

يُمثَّل الشكل المجاور قرصًا على شكل خماسي منتظم. إذا

دُور مؤشر القرص 10 مرّات، ودلّ المتغيّر العشوائي X على عدد

مرّات توقّف المؤشر على الحرف A ، فأجد كلاً ممّا يأتي:

① احتمال أن يتوقّف المؤشر على الحرف A ثلاث مرّات فقط.

② احتمال أن يتوقّف المؤشر على الحرف A ثلاث مرّات على الأقل.

③ احتمال ألا يتوقّف المؤشر على الحرف A نهائيًا.

يراجه الطيارون صعوبة في الرؤية باحتمال 0.25 عند الهبوط

بالبطائرات في أحد المطارات خلال فصل الشتاء بسبب سوء

الأحوال الجوية. إذا هبط طيار 20 مرّة في هذا المطار شتاءً

فأجد كلاً ممّا يأتي:

① احتمال أن يراجه الطيار صعوبة في الرؤية خلال الهبوط في ثلاث مرّات فقط.

② احتمال أن يراجه الطيار صعوبة في الرؤية خلال الهبوط في ثلاث مرّات على الأقل.

③ احتمال أن يراجه الطيار صعوبة في الرؤية خلال الهبوط في الثمّرات جميعها.

④ العدد المتوقّع من الثمّرات التي سيواجه فيها الطيار صعوبة في الرؤية خلال الهبوط.

التوقع للمتغير العشوائي ذي الحدين

(مفهوم أساسي)

إذا كان: $X \sim B(n, p)$ ، فإن: $x \in \{0, 1, 2, \dots, n\}$

ويعطى التوقع للمتغير العشوائي X بالقاعدة الآتية:

$$E(X) = np$$

حيث:

n : عدد المحاولات في التجربة.

p : احتمال النجاح في كل محاولة.

مثال 9

بعد إجراء مسح لمنتج صنعه إحدى الشركات، تبين أن نسبة

القطع المعيبة في هذا المنتج هي 8% إذا اختارت لجنة الرقابة

الحكومية 50 قطعة من هذا المنتج عشوائيًا، فأجد عدد القطع

التي يُتوقع أن تكون معيبة من هذه العينة.

مثال 11

وفقًا لدراسة طبية، فإن 9% من البالغين حول العالم مصابون

بمرض السكري. إذا اختيرت عينة عشوائية من البالغين تضم

12000 شخص، فما العدد المتوقع من المصابين بمرض

السكري في هذه العينة؟

$$\textcircled{3} X \sim B(40, 0.2)$$

$$\textcircled{4} X \sim B(280, 0.4)$$

$$\textcircled{5} X \sim B\left(48, \frac{1}{6}\right)$$

التباين للمتغير العشوائي ذي الحدين

(مفهوم أساسي)

إذا كان: $X \sim B(n, p)$ فإن: $x \in \{0, 1, 2, \dots, n\}$

ويعطى التباين للمتغير العشوائي X بالقاعدة الآتية:

$$\text{Var}(X) = \sigma^2 = np(1-p)$$

حيث: n : عدد المحاولات في التجربة.

p : احتمال النجاح في كل محاولة.

مثال 12


أجد التوقع والتباين لكل من المتغيرات العشوائية الآتية:

$$\textcircled{1} X \sim B(20, 0.7)$$

$$\textcircled{2} X \sim B\left(400, \frac{3}{8}\right)$$

19 تبرير: إذا كان: $X \sim B(3, p)$ ، وكان: $P(X \geq 1) = \frac{215}{216}$ ، فأجد $P(X = 2)$ ، مُبرِّراً إجابتي.

20 تبرير: إذا كان: $X \sim B(100, p)$ ، وكان التباين للمتغير العشوائي X هو 24، فأجد قيمة p ، مُبرِّراً إجابتي.



21 تحدّد: يتألف اختبار لمبحث الجغرافيا من 25 سؤالاً، جميعها من نوع الاختيار من مُتعدّد، ولكلّ منها 4 بدائل، واحد منها فقط صحيح، ولكل فقرة 4 علامات. إذا أجاب رامي عن هذه الأسئلة جميعها بصورة عشوائية، فما احتمال أن يحصل على علامة 76 من 100؟

الدرس الثالث : التوزيع الطبيعي

المنحنى الطبيعي

(مفهوم أساسي)

يمتاز المنحنى الطبيعي بالخصائص الآتية:

- 68% من البيانات تقريباً تقع بين $\mu - \sigma$ و $\mu + \sigma$ ؛ أي إن 68% من البيانات لا يزيد البُعد بينهما وبين الوسط الحسابي على قيمة الانحراف المعياري.
- 95% من البيانات تقريباً تقع بين $\mu - 2\sigma$ و $\mu + 2\sigma$ ؛ أي إن 95% من البيانات لا يزيد البُعد بينهما وبين الوسط الحسابي على مثلتي قيمة الانحراف المعياري.
- 99.7% من البيانات تقريباً تقع بين $\mu - 3\sigma$ و $\mu + 3\sigma$ ؛ أي إن 99.7% من البيانات لا يزيد البُعد بينهما وبين الوسط الحسابي على ثلاثة أمثال قيمة الانحراف المعياري.

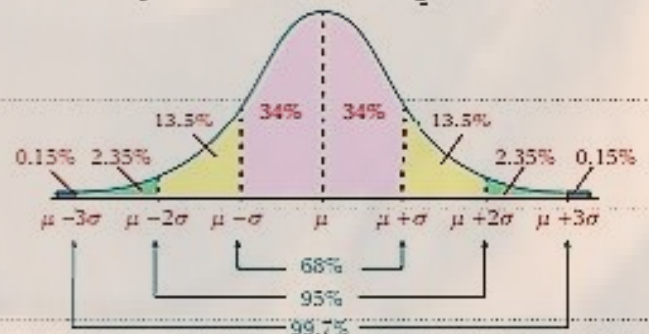
- منحنى متصل له شكل الجرس.
- تطابق الوسط الحسابي والوسيط والمتوال، وتوسط البيانات في كل منها.
- تماثل البيانات حول الوسط الحسابي.
- اقتراب المنحنى عند طرفيه من المحور x من دون أن يمسه.
- المساحة الكلية أسفل المنحنى هي 1.

القاعدة التجريبية

(مفهوم أساسي)

إذا اتخذت مجموعة من البيانات شكل المنحنى الطبيعي،

وكان وسطها الحسابي μ ، وانحرافها المعياري σ ، فإن:



إذا اتخذت كتل مجموعة من طلبة الصف الثاني عشر

شكل المنحني الطبيعي، فأجد كلاً مما يأتي:

① النسبة المئوية للطلبة الذين تقع كتلهم فوق الوسط

الحسابي.

② النسبة المئوية للطلبة الذين لا يزيد البعد بين كتلهم

والوسط الحسابي على انحراف معياري واحد.

③ النسبة المئوية للطلبة الذين تقل كتلهم عن الوسط

الحسابي بمقدار لا يزيد على انحرافين معياريين.

④ النسبة المئوية للطلبة الذين تزيد كتلهم على الوسط

الحسابي بمقدار لا يزيد على انحرافين معياريين، أو تقلُّ

عنه بمقدار لا يزيد على انحراف معياري واحد.

إذا اتخذ التمثيل البياني لأطوال مجموعة من طلبة الصف الثاني

عشر شكل المنحني الطبيعي، فأجد كلاً مما يأتي:

① النسبة المئوية للطلبة الذين تقع أطوالهم فوق الوسط

الحسابي.

② النسبة المئوية للطلبة الذين لا يزيد البعد بين أطوالهم

والوسط الحسابي على انحراف معياري واحد.

③ النسبة المئوية للطلبة الذين تقلُّ أطوالهم عن الوسط

الحسابي بمقدار لا يزيد على انحرافين معياريين.

④ النسبة المئوية للطلبة الذين تقلُّ أطوالهم عن الوسط

الحسابي بمقدار لا يزيد على ثلاثة انحرافات معيارية،

أو تزيد عليه بمقدار لا يزيد على انحرافين معياريين.

المتغيرات العشوائية المتصلة والمنفصلة

(مفهوم أساسي)

إذا اتخذ التمثيل البياني لأطوال مجموعة من طلبة الصف

السابع شكل المنحنى الطبيعي، فأجد كلاً مما يأتي:

① النسبة المئوية للطلبة الذين تقع أطوالهم فوق الوسط

الحسابي.

② النسبة المئوية للطلبة الذين لا يزيد البعد بين أطوالهم

والوسط الحسابي على انحراف معياري واحد.

③ النسبة المئوية للطلبة الذين تقل أطوالهم عن الوسط

الحسابي بمقدار لا يزيد على انحرافين معياريين.

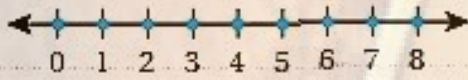
④ النسبة المئوية للطلبة الذين تقل أطوالهم عن الوسط

الحسابي بمقدار لا يزيد على ثلاثة انحرافات معيارية،

أو تزيد عليه بمقدار لا يزيد على انحرافين معياريين.

- المتغير العشوائي المنفصل هو متغير عشوائي يأخذ قيمًا معدودة.

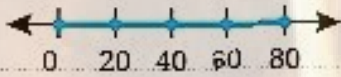
مثال: عدد السيارات التي ستمر أمام إحدى المدارس خلال



الساعة القادمة.

- المتغير العشوائي المتصل هو متغير عشوائي يأخذ قيمًا متصلة ضمن فترة معينة من الأعداد الحقيقية.

مثال: سرعة أول سيارة ستمر أمام إحدى المدارس خلال



الساعة القادمة.

مثال 4

إذا كان: $X \sim N(20, 4)$ فأجد كلاً مما يأتي:

① $P(X > 20)$

② $P(18 < X < 22)$

③ $P(X > 22)$

مثال 6

توصّلت دراسة إلى أنّ أطوال النساء في إحدى المدن

تتبع توزيعاً طبيعياً، وسطه الحسابي 167 cm ، وانحرافه

المعياري 8 cm . إذا اختيرت امرأة عشوائياً، فأجد ما يأتي:

① احتمال أن يكون طول المرأة أقل من 167 cm

② احتمال أن يتراوح طول المرأة بين 159 cm و 167 cm

مثال 5

إذا كان: $X \sim N(55, 121)$ فأجد كلاً مما يأتي:

① $P(X < 55)$

② $P(55 < X < 66)$

③ $P(X > 77)$

مثال 7

توصّلت دراسة إلى أنّ أطوال الرجال في إحدى المدن

تتبع توزيعاً طبيعياً، وسطه الحسابي 178 cm ، وانحرافه

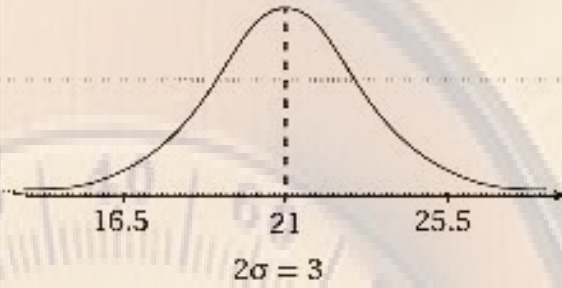
المعياري 7 cm . إذا اختير رجل عشوائياً، فأجد ما يأتي:

① احتمال أن يكون طول الرجل أكثر من 178 cm

② احتمال أن يتراوح طول الرجل بين 171 cm و 192 cm

مثال 8

يُبين الشكل منحى توزيع طبيعي. أعبّر عن المتغير العشوائي لهذا التوزيع باستعمال الرموز.



العشوائي لهذا التوزيع باستعمال الرموز.

مثال 10

إذا كان: $X \sim N(8, 0.04)$ ، فأجد كلاً مما يأتي:

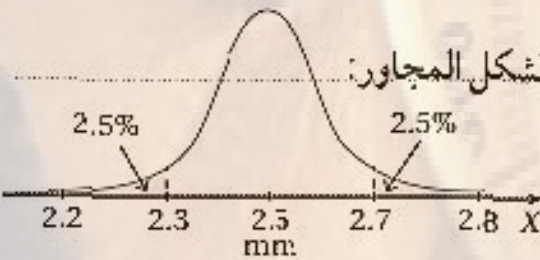
① $P(X > 8)$

② $P(7.8 < X < 8.2)$

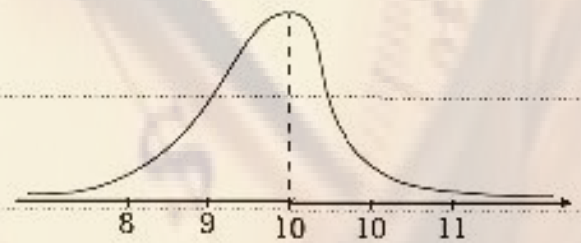
③ $P(X > 8.4)$

مثال 11

يُمكن نمذجة أطوال أقطار مسامير يُنتجها مصنع بمنحنى التوزيع الطبيعي المُبين في الشكل المجاور:



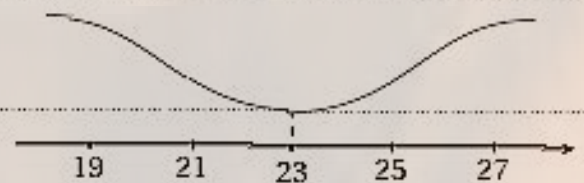
أبين لماذا لا يُمثل أيُّ من التمثيلين الآتين منحى توزيع طبيعي:



① أجد الوسط الحسابي، والانحراف المعياري لأطوال أقطار المسامير.

② أجد النسبة المئوية للمسامير التي يزيد طول قطر كلِّ

منها على الوسط الحسابي بما لا يزيد على انحرافين معيارين.



- 22 أكتشف الخطأ: قال يوسف: "إن $X \sim N(4^2, t^2)$ مُتغيّر عشوائي طبيعي، وسطه الحسابي 4، وانحرافه المعياري t^2 ". أكتشف الخطأ في قول يوسف، ثم أصحّحه.



- 23 تبرير: يدلُّ المتغيّر العشوائي $X \sim N(100, \sigma^2)$ على أطوال الأفاعي (بالسنتيمتر) في أحد مجتمعاتها. إذا كانت أطوال 68% منها تتراوح بين 93 cm و 107 cm، فأجد σ^2 ، مُبرّرًا إيجابيًا.

- 24 تحدّ: تتبع العلامات في أحد الاختبارات توزيعًا طبيعيًا، ووسطه الحسابي 68، وانحرافه المعياري 15. إذا لم ينجح في الاختبار 16% من الطلبة، فأجد علامة النجاح.

الدرس الرابع : التوزيع الطبيعي المعياري

مثال 1

⑥ $P(Z > -2.88)$

أجد كلاً مما يأتي، مُستعملًا جدول التوزيع الطبيعي المعياري:

① $P(Z < 1.34)$

⑦ $P(Z > 1.25)$

② $P(Z > -2.01)$

⑧ $P(Z < -0.62)$

③ $P(Z < 0.69)$

⑨ $P(Z > 2.56)$

④ $P(Z > -1.67)$

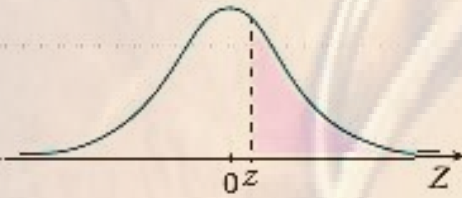
⑩ $P(Z < -0.09)$

⑤ $P(Z < 3.05)$

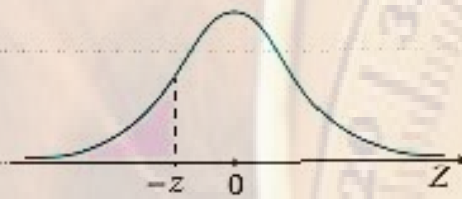
ملخص المفهوم

إذا كان: $Z \sim N(0, 1)$ ، فإن:

1 $P(Z > z) = 1 - P(Z < z)$

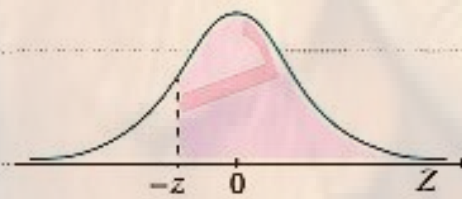


2 $P(Z < -z) = 1 - P(Z < z)$

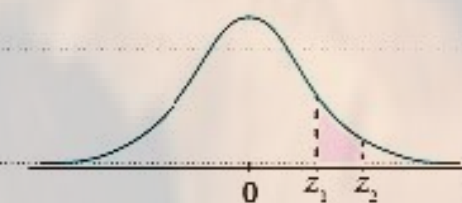


إذا كان: $Z \sim N(0, 1)$ ، فإن:

3 $P(Z > -z) = P(Z < z)$



4 $P(z_1 < Z < z_2) = P(Z < z_2) - P(Z < z_1)$



11 $P(Z > 1.01)$

12 $P(Z < -1.52)$

13 $P(0.47 < Z < 1.1)$

14 $P(-1.5 < Z < 2.34)$

15 $P(0 < Z < 0.33)$

16 $P(-1 < Z < 1.25)$

$$\textcircled{6} P(Z > 1.06)$$

$$\textcircled{7} P(Z < 0.87)$$

$$\textcircled{8} P(Z > -1.33)$$

$$\textcircled{9} P(0.24 < Z < 1.1)$$

$$\textcircled{10} P(Z < -1.75)$$

$$\textcircled{11} P(0.4 < Z < 1.7)$$

أوجد كلاً مما يأتي، مُستعملاً جدول التوزيع الطبيعي المعياري:

$$\textcircled{1} P(Z < 1.42)$$

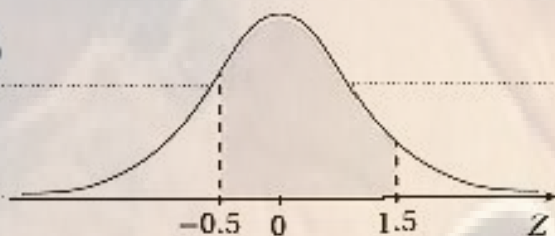
$$\textcircled{2} P(Z < -2.78)$$

$$\textcircled{3} P(-2.65 < Z < -1.43)$$

$$\textcircled{4} P(-1.8 < Z < 1.8)$$

$$\textcircled{5} P(-1 < Z < -0.33)$$

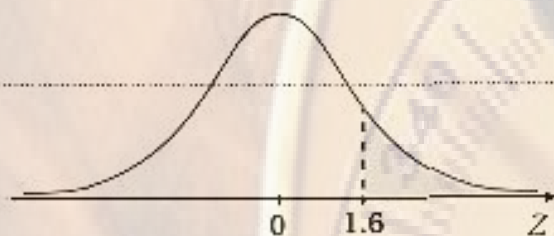
②



⑫ $P(1.1 < Z < 2.1)$

⑬ $P(Z < -0.54)$

③

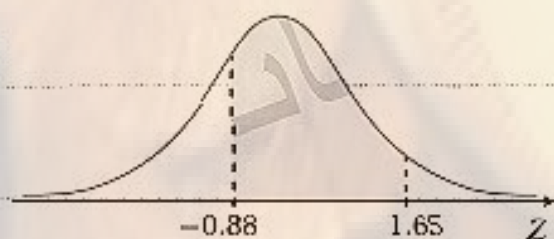


⑭ $P(Z > 0.81)$

⑮ $P(Z > 2.09)$

مثال 3

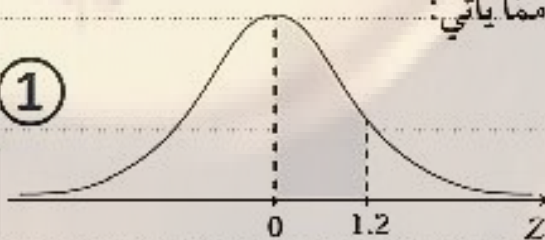
④



أجد مساحة المنطقة المظللة أسفل منحنى التوزيع الطبيعي

المعياري في كلِّ ممَّا يأتي:

①



إيجاد قيمة المتغير العشوائي إذا عُلِمَ الاحتمال

مثال 4

أوجد قيمة a التي تُحقِّق الاحتمال المعطى في كلِّ ممَّا يأتي:

⑥ $P(Z > a) = 0.9738$

⑦ $P(Z < a) = 0.25$

⑧ $P(Z > a) = 0.2$

⑨ $P(Z < a) = 0.9082$

⑩ $P(Z < a) = 0.5442$

⑪ $P(Z < a) = 0.0314$

① $P(Z < a) = 0.8212$

② $P(Z < a) = 0.32$

③ $P(Z > a) = 0.9406$

④ $P(Z > a) = 0.015$

⑤ $P(Z < a) = 0.9788$

$$\textcircled{12} P(Z > a) = 0.2743$$

$$\textcircled{13} P(Z > a) = 0.95$$

$$\textcircled{14} P(Z > a) = 0.6231$$

مثال 5

إذا كان: $Z \sim N(0, 1)$ ، وكان: $P(1 < Z < c) = 0.1408$

فأجد قيمة الثابت c .

22 أكتشف الخطأ: عبّرت روان عن المُتغيّر العشوائي الطبيعي المعياري على النحو الآتي:

$$N \sim Z(1, 0^2) \quad \text{X}$$

أكتشف جميع الأخطاء التي وقعت فيها روان، ثم أصحّحها.

23 تحدّد: إذا كان $a > 0$ ، فأثبت أنّ: $P(-a < Z < a) = 2P(Z < a) - 1$.

تبرير: أجد قيمة a التي تُحقّق الاحتمال المعطى في كلِّ ممّا يأتي، مُبرّرًا إجابتي:

24 $P(0 < Z < a) = 0.45$

25 $P(-a < Z < a) = 0.1272$

الدرس الخامس : احتمال المتغير العشوائي الطبيعي

باستعمال الجدول

① $x = 24$

تحويل قيم التوزيع الطبيعي إلى قيم معيارية

مثال 1

إذا كان X مُتغيرًا عشوائيًا طبيعيًا، وسطه الحسابي 64

وانحرافه المعياري 5، فأجد القيمة المعيارية z التي تُقابل

قيمة x في كلِّ ممَّا يأتي:

② $x = 10$

① $x = 70$

مثال 3

إذا كان X مُتغيرًا عشوائيًا طبيعيًا، وسطه الحسابي 89

وانحرافه المعياري 11.5، فأجد القيمة المعيارية z التي

تُقابل قيمة x في كلِّ ممَّا يأتي:

① $x = 81$

② $x = 55$

مثال 2

إذا كان X مُتغيرًا عشوائيًا طبيعيًا، وسطه الحسابي 15

وانحرافه المعياري 4، فأجد القيمة المعيارية z التي تُقابل

قيمة x في كلِّ ممَّا يأتي:

② $x = 92$

إيجاد احتمال المُتغيّر العشوائي الطبيعي (غير المعياري)

مثال 5

إذا كان: $X \sim N(36, 8^2)$ فأجد كل احتمال ممّا يأتي،
مُستعملًا جدول التوزيع الطبيعي المعياري:

① $P(X < 42)$

② $P(X > 28)$

③ $P(X > 46)$

④ $P(24 < X < 56)$

③ $x = 100$

مثال 4

إذا كان X مُتغيّرًا عشوائيًا طبيعيًا، وسطه الحسابي 220
وانحرافه المعياري 10، فأجد قيمة x التي تُقابل القيمة
المعيارية z في كل ممّا يأتي:

① $z = 2$

② $z = -3.5$

③ $z = 4.2$

مثال 6

إذا كان: $X \sim N(7, 0.25)$ ، فأجد كل احتمال مما يأتي،

مُستعملًا جدول التوزيع الطبيعي المعياري:

① $P(X < 7.7)$

② $P(X > 8.2)$

③ $P(X > 6.1)$

④ $P(6 < X < 7.1)$

مثال 7

إذا كان: $X \sim N(17, 100)$ ، فأجد كل احتمال مما يأتي،

مُستعملًا جدول التوزيع الطبيعي المعياري:

① $P(X < 25.8)$

② $P(X > 10.5)$

③ $P(19.4 < X < 30.2)$

④ $P(4 < X < 17)$

مثال 8

تتبع كتل ثمار الجوّافة في إحدى مزارع غور الأردن توزيعاً طبيعياً، وسطه الحسابي 70 g، وانحرافه المعياري 4 g:

①

أجد نسبة ثمار الجوّافة التي تزيد كتلة كلّ منها على 80 g

②

إذا وُضع في شاحنة 4500 ثمرة جوّافة من إنتاج هذه

المزرعة، فأجد عدد ثمار الجوّافة التي تقلُّ كتلة كلّ منها

عن 65 g في هذه الشاحنة.

مثال 9

تتبع كتل ثمار البندورة في إحدى المزارع توزيعاً طبيعياً، وسطه الحسابي 90 g، وانحرافه المعياري 5 g:

①

أجد نسبة ثمار البندورة التي تقلُّ كتلة كلّ منها عن 80 g

②

إذا احتوى صندوق على 200 حبة بندورة من إنتاج هذه

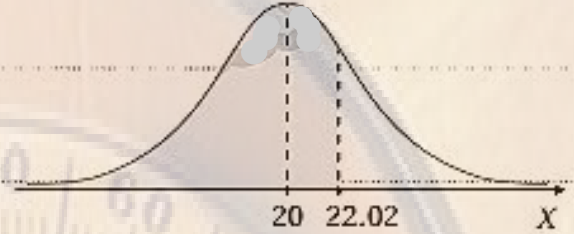
المزرعة، فأجد عدد ثمار البندورة التي تزيد كتلة كلّ منها

على 100 g في هذا الصندوق.

إذا كان: $X \sim N(20, 9)$ ، فأجد مساحة المنطقة المُظلَّلة أسفل

منحنى التوزيع الطبيعي للمتغير العشوائي X في كلِّ ممَّا يأتي:

①



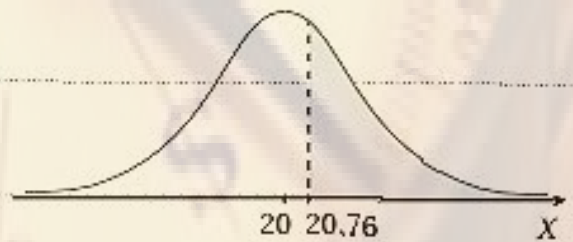
① احتمال أن يزيد طول اللاعب على 175 cm.

② احتمال أن يتراوح طول اللاعب بين 180 cm و 190 cm

③ العدد التقريبي للاعبين الذين تزيد أطوالهم عن 195 cm

من بين 2000 لاعب.

②



20 تبرير: إذا كان: $X \sim N(\mu, \sigma^2)$ ، وكانت القيمة المعيارية التي تُقابل $x = 14$ هي $z = 3.2$ ، والقيمة المعيارية التي تُقابل $x = -6$ هي $z = -1.8$ ، فأجد الوسط الحسابي والانحراف المعياري للمتغير العشوائي X .

21 تحدّ: إذا كانت مُعدّلات 600 طالب تتبع توزيعاً طبيعياً، ووسطه الحسابي هو 73، وانحرافه المعياري هو 8، وقرّرت إدارة المدرسة تكريم الطلبة الخمسين الحاصلين على أعلى المُعدّلات من بين هؤلاء الطلبة، فما أقل مُعدّل للطلبة الخمسين؟



اختبار نهاية الوحدة

6 إذا كانت علامات 2000 طالب في أحد الاختبارات تتبع توزيعاً طبيعياً، وسطه الحسابي 83، وانحرافه المعياري 4، فإن عدد الطلبة الذين تقلُّ علاماتهم عن 80 هو تقريباً:

- a) 453 b) 1547
c) 1567 d) 715

إذا كان: $X \sim \text{Geo}(0.3)$ ، فأجد كلاً مما يأتي:

- 7 $P(X = 4)$ 8 $P(3 < X \leq 5)$
9 $P(X > 4)$ 10 $E(X)$

إذا كان: $X \sim B(6, 0.3)$ ، فأجد كلاً مما يأتي:

- 11 $P(X = 2)$ 12 $P(X > 4)$
13 $P(2 \leq X < 3)$ 14 $E(X)$

أجد كلاً مما يأتي، مُستعملًا جدول التوزيع الطبيعي المعياري:

- 15 $P(Z < 1.93)$ 16 $P(Z < 0.72)$
17 $P(Z > -1.04)$ 18 $P(-1.7 < Z < 3.3)$

إذا كان: $X \sim N(55, 16)$ ، فأجد كلاً مما يأتي، مُستعملًا جدول التوزيع الطبيعي المعياري:

- 19 $P(X \leq 50)$ 20 $P(50 < X < 58)$
21 $P(56 < X < 59)$ 22 $P(X > 55)$

أختار رمز الإجابة الصحيحة في كلِّ مما يأتي:

1 إذا كان: $X \sim B(4, 0.4)$ ، فإن: $P(X = 3)$ يساوي:

- a) 0.1536 b) 0.0384
c) 0.064 d) 0.3456

2 إذا كان X مُتغيِّراً عشوائياً ذا حدِّين، وكان معاملُه $n = 320$ ، وتوقُّعه 60، فإنَّ المعامل p هو:

- a) $\frac{3}{16}$ b) $\frac{13}{16}$
c) $\frac{3}{4}$ d) $\frac{5}{16}$

3 إذا كان: $X \sim B(8, 0.1)$ ، فإن: $P(X < 2)$ إلى أقرب 4 منازل عشرية يساوي:

- a) 0.3826 b) 0.8131
c) 0.4305 d) 0.1488

4 إذا كان X مُتغيِّراً عشوائياً ذا حدِّين، وكان توقُّعه 8، وتباينه $\frac{20}{3}$ ، فإنَّ المعامل n هو:

- a) 32 b) 64
c) 56 d) 48

5 النسبة المئوية لمساحة المنطقة المحصورة بين $\mu - 3\sigma$ و $\mu + 3\sigma$ أسفل منحنى التوزيع الطبيعي هي:

- a) 68% b) 95%
c) 99.7% d) 89.7%

أجد القيمة a التي تُحقِّق كل احتمال ممَّا يأتي:

28 $P(Z < a) = 0.638$ 29 $P(Z > a) = 0.6$



تعبئة: يُعبئ مصنعُ حبَّوبِ الحِمِّصِ في أكياس
تتبع كتلتها توزيعًا طبيعيًا، وسطه الحسابي
250 g، وانحرافه المعياري 4 g:

30 أجد نسبة أكياس الحِمِّصِ التي تزيد كتلة كلِّ منها
على 260 g

31 أجد نسبة أكياس الحِمِّصِ التي تتراوح كتلة كلِّ منها
بين 240 g و 250 g



في دراسة لإحدى شركات الاتصالات،
تبين أنَّ 30% من المشتركين يستعملون
هواتفهم المحمولة لإجراء مكالمتين فقط
يومياً. إذا اختير 20 شخصاً من المشتركين عشوائياً، فأجد
كُلَّ ممَّا يأتي:

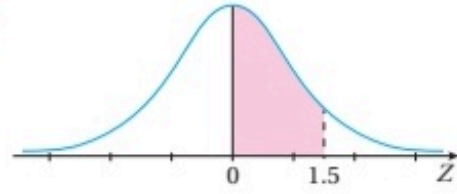
32 احتمال أن يُجسري 4 منهم فقط مكالمتين هاتفيتين في
اليوم الواحد.

33 احتمال أن يُجسري اثنان منهم على الأقل مكالمتين
هاتفيتين في اليوم الواحد.

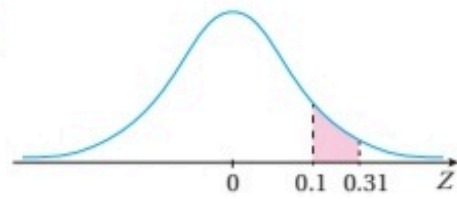
34 تُنتج إحدى الشركات قوارير زيت، ويُفترض أن تحوي
كل قارورة منها 500 mL من الزيت، وأن يتبع حجم
الزيت في هذه القوارير توزيعاً طبيعيًا، وسطه الحسابي
506 mL، وانحرافه المعياري 3 mL. إذا احتوى
صندوق على 100 قارورة توضع عشوائياً، فأجد عدد
القوارير في هذا الصندوق التي تحوي كلِّ منها أقل من
500 mL من الزيت.

أجد مساحة المنطقة المُظلَّلة أسفل منحنى التوزيع الطبيعي
المعياري في كلِّ ممَّا يأتي:

23



24



25 تبين في مصنع للمصابيح الكهربائية أنَّ
احتمال أن يكون أيُّ مصباح من إنتاج
المصنع تالفًا هو 0.17. إذا اختير 100
مصباح عشوائياً من إنتاج المصنع،
فأجد العدد المُتوقَّع من المصابيح التالفة.

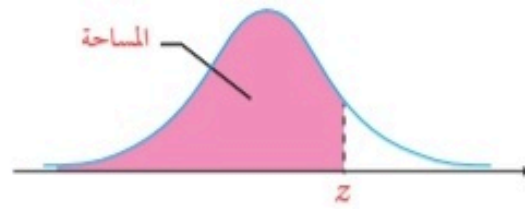


أخذت نور تُراقب السيَّارات
المارة أمام منزلها. إذا كان
احتمال أن تمرَّ أيُّ سيَّارة
زرقاء من أمام منزلها هو
0.1، فأجد كُلَّ ممَّا يأتي:



26 احتمال عدم مرور أيِّ سيَّارة زرقاء من بين أوَّل 5
سيَّارات مرَّت أمام المنزل.

27 احتمال مرور أكثر من 3 سيَّارات حتى شاهدت نور
أوَّل سيَّارة زرقاء.



جدول التوزيع الطبيعي المعياري

| z | 0.00 | 0.01 | 0.02 | 0.03 | 0.04 | 0.05 | 0.06 | 0.07 | 0.08 | 0.09 |
|-----|--------|--------|--------|--------|--------|--------|--------|--------|--------|--------|
| 0.0 | 0.5000 | 0.5040 | 0.5080 | 0.5120 | 0.5160 | 0.5199 | 0.5239 | 0.5279 | 0.5319 | 0.5359 |
| 0.1 | 0.5398 | 0.5438 | 0.5478 | 0.5517 | 0.5557 | 0.5596 | 0.5636 | 0.5675 | 0.5714 | 0.5753 |
| 0.2 | 0.5793 | 0.5832 | 0.5871 | 0.5910 | 0.5948 | 0.5987 | 0.6026 | 0.6064 | 0.6103 | 0.6141 |
| 0.3 | 0.6179 | 0.6217 | 0.6255 | 0.6293 | 0.6331 | 0.6368 | 0.6406 | 0.6443 | 0.6480 | 0.6517 |
| 0.4 | 0.6554 | 0.6591 | 0.6628 | 0.6664 | 0.6700 | 0.6736 | 0.6772 | 0.6808 | 0.6844 | 0.6879 |
| 0.5 | 0.6915 | 0.6950 | 0.6985 | 0.7019 | 0.7054 | 0.7088 | 0.7123 | 0.7157 | 0.7190 | 0.7224 |
| 0.6 | 0.7257 | 0.7291 | 0.7324 | 0.7357 | 0.7389 | 0.7422 | 0.7454 | 0.7486 | 0.7517 | 0.7549 |
| 0.7 | 0.7580 | 0.7611 | 0.7642 | 0.7673 | 0.7704 | 0.7734 | 0.7764 | 0.7794 | 0.7823 | 0.7852 |
| 0.8 | 0.7881 | 0.7910 | 0.7939 | 0.7967 | 0.7995 | 0.8023 | 0.8051 | 0.8078 | 0.8106 | 0.8133 |
| 0.9 | 0.8159 | 0.8186 | 0.8212 | 0.8238 | 0.8264 | 0.8289 | 0.8315 | 0.8340 | 0.8365 | 0.8389 |
| 1.0 | 0.8413 | 0.8438 | 0.8461 | 0.8485 | 0.8508 | 0.8531 | 0.8554 | 0.8577 | 0.8599 | 0.8621 |
| 1.1 | 0.8643 | 0.8665 | 0.8686 | 0.8708 | 0.8729 | 0.8749 | 0.8770 | 0.8790 | 0.8810 | 0.8830 |
| 1.2 | 0.8849 | 0.8869 | 0.8888 | 0.8907 | 0.8925 | 0.8944 | 0.8962 | 0.8980 | 0.8997 | 0.9015 |
| 1.3 | 0.9032 | 0.9049 | 0.9066 | 0.9082 | 0.9099 | 0.9115 | 0.9131 | 0.9147 | 0.9162 | 0.9177 |
| 1.4 | 0.9192 | 0.9207 | 0.9222 | 0.9236 | 0.9251 | 0.9265 | 0.9279 | 0.9292 | 0.9306 | 0.9319 |
| 1.5 | 0.9332 | 0.9345 | 0.9357 | 0.9370 | 0.9382 | 0.9394 | 0.9406 | 0.9418 | 0.9429 | 0.9441 |
| 1.6 | 0.9452 | 0.9463 | 0.9474 | 0.9484 | 0.9495 | 0.9505 | 0.9515 | 0.9525 | 0.9535 | 0.9545 |
| 1.7 | 0.9554 | 0.9564 | 0.9573 | 0.9582 | 0.9591 | 0.9599 | 0.9608 | 0.9616 | 0.9625 | 0.9633 |
| 1.8 | 0.9641 | 0.9649 | 0.9656 | 0.9664 | 0.9671 | 0.9678 | 0.9686 | 0.9693 | 0.9699 | 0.9706 |
| 1.9 | 0.9713 | 0.9719 | 0.9726 | 0.9732 | 0.9738 | 0.9744 | 0.9750 | 0.9756 | 0.9761 | 0.9767 |
| 2.0 | 0.9772 | 0.9778 | 0.9783 | 0.9788 | 0.9793 | 0.9798 | 0.9803 | 0.9808 | 0.9812 | 0.9817 |
| 2.1 | 0.9821 | 0.9826 | 0.9830 | 0.9834 | 0.9838 | 0.9842 | 0.9846 | 0.9850 | 0.9854 | 0.9857 |
| 2.2 | 0.9861 | 0.9864 | 0.9868 | 0.9871 | 0.9875 | 0.9878 | 0.9881 | 0.9884 | 0.9887 | 0.9890 |
| 2.3 | 0.9893 | 0.9896 | 0.9898 | 0.9901 | 0.9904 | 0.9906 | 0.9909 | 0.9911 | 0.9913 | 0.9916 |
| 2.4 | 0.9918 | 0.9920 | 0.9922 | 0.9925 | 0.9927 | 0.9929 | 0.9931 | 0.9932 | 0.9934 | 0.9936 |
| 2.5 | 0.9938 | 0.9940 | 0.9941 | 0.9943 | 0.9945 | 0.9946 | 0.9948 | 0.9949 | 0.9951 | 0.9952 |
| 2.6 | 0.9953 | 0.9955 | 0.9956 | 0.9957 | 0.9959 | 0.9960 | 0.9961 | 0.9962 | 0.9963 | 0.9964 |
| 2.7 | 0.9965 | 0.9966 | 0.9967 | 0.9968 | 0.9969 | 0.9970 | 0.9971 | 0.9972 | 0.9973 | 0.9974 |
| 2.8 | 0.9974 | 0.9975 | 0.9976 | 0.9977 | 0.9977 | 0.9978 | 0.9979 | 0.9979 | 0.9980 | 0.9981 |
| 2.9 | 0.9981 | 0.9982 | 0.9982 | 0.9983 | 0.9984 | 0.9984 | 0.9985 | 0.9985 | 0.9986 | 0.9986 |
| 3.0 | 0.9987 | 0.9987 | 0.9987 | 0.9988 | 0.9988 | 0.9989 | 0.9989 | 0.9989 | 0.9990 | 0.9990 |
| 3.1 | 0.9990 | 0.9991 | 0.9991 | 0.9991 | 0.9992 | 0.9992 | 0.9992 | 0.9992 | 0.9993 | 0.9993 |
| 3.2 | 0.9993 | 0.9993 | 0.9994 | 0.9994 | 0.9994 | 0.9994 | 0.9994 | 0.9995 | 0.9995 | 0.9995 |
| 3.3 | 0.9995 | 0.9995 | 0.9995 | 0.9996 | 0.9996 | 0.9996 | 0.9996 | 0.9996 | 0.9996 | 0.9997 |
| 3.4 | 0.9997 | 0.9997 | 0.9997 | 0.9997 | 0.9997 | 0.9997 | 0.9997 | 0.9997 | 0.9997 | 0.9998 |