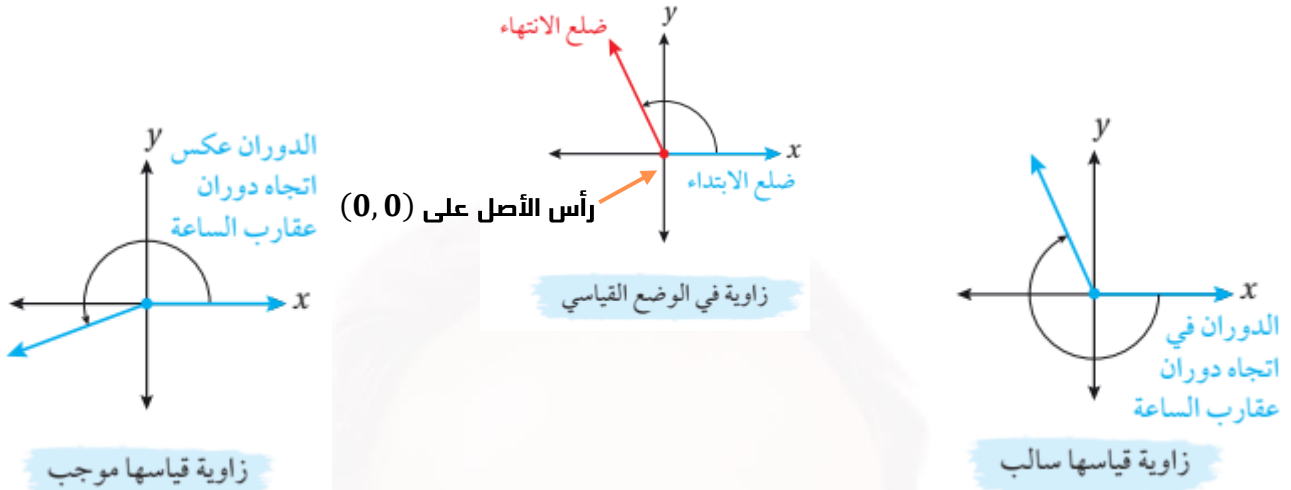


قياس الزاوية بالراديان

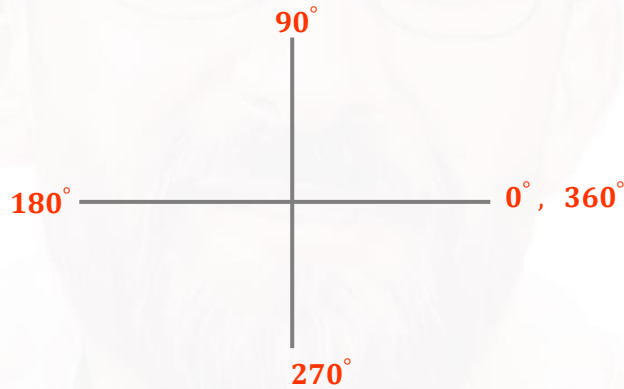
الزاوية في الوضع القياسي



ارسم في الوضع القياسي الزاوية التي علم قياسها في كل مما يأتي :

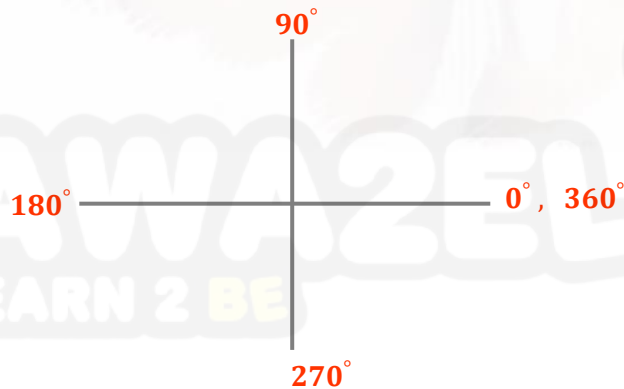
مثال 1

① 240°

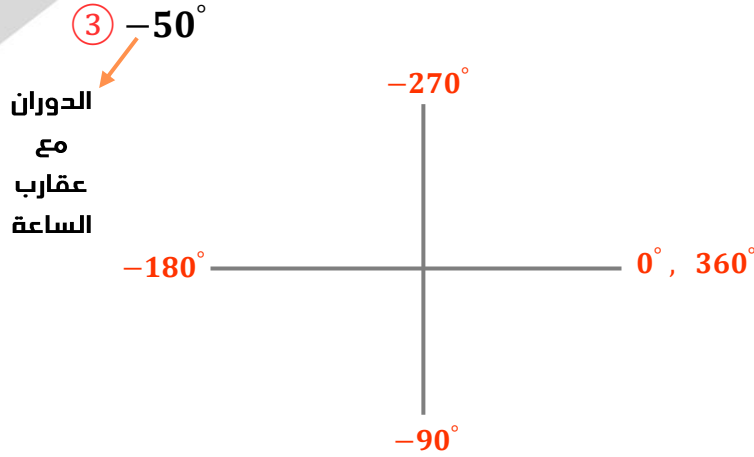


② 500°

■ إذا كانت الزاوية أكبر من 360° اطرح منها 360° لمعرفة أين يتوقف ضلع الانتهاء



الاقترنات المثلثية



أتحقق من فهمي

أرسم في الوضع القياسي الزاوية التي علم قياسها في كل مما يأتي :

a) 170°

b) 650°

c) -130°

أرسم في الوضع القياسي الزاوية التي علم قياسها في كل مما يأتي :

a) 450°

b) -900°

c) 540°

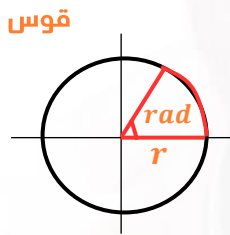
d) -70°

أتدرب وأحل
المسائل

• الراديان :

هو محيط الدائرة $c = 2\pi r$

• الزاوية بالراديان = $\frac{\text{طول القوس المقابل للزاوية}}{\text{نصف القطر}}$



AWAZEL
LEARN 2 BE



الاقتارات المثلثية

للتحويل من درجات إلى راديان اضرب بـ $\frac{\pi rad}{180^\circ}$

للتحويل من راديان إلى درجات اضرب بـ $\frac{180^\circ}{\pi}$

التحويل من القياس بالدرجات إلى القياس بالراديان , والعكس

مفهوم أساسي

$$180^\circ = \pi rad$$

$$1 rad = \left(\frac{180^\circ}{\pi}\right)$$

$$1^\circ = \frac{\pi}{180} rad$$

1. للتحويل من القياس بالدرجات إلى القياس بالراديان , أضرب قياس الزاوية في $\frac{\pi rad}{180^\circ}$

2. للتحويل من القياس بالراديان إلى القياس بالدرجات , أضرب قياس الزاوية في $\frac{180^\circ}{\pi rad}$

أحول قياس الزاوية المكتوبة بالدرجات إلى الراديان , وقياس الزاوية المكتوبة بالراديان

مثال 2

إلى الدرجات في كل مما يأتي :

① 140°

$$\begin{aligned} 140^\circ &= 140^\circ \left(\frac{\pi rad}{180^\circ}\right) \\ &= 140^\circ \left(\frac{\pi rad}{180^\circ}\right) \\ &= \frac{140\pi}{180} = \frac{7\pi}{9} rad \end{aligned}$$

② $-\frac{\pi}{12}$

$$\begin{aligned} -\frac{\pi}{12} &= -\frac{\pi}{12} rad \left(\frac{180^\circ}{\pi rad}\right) \\ &= -15^\circ \end{aligned}$$



أتحقق من فهمي

أحول قياس الزاوية المكتوبة بالدرجات إلى الراديان , وقياس الزاوية المكتوبة بالراديان إلى الدرجات

في كل مما يأتي :

a) 165°

b) $\frac{5\pi}{4}$

c) -80°

d) -6

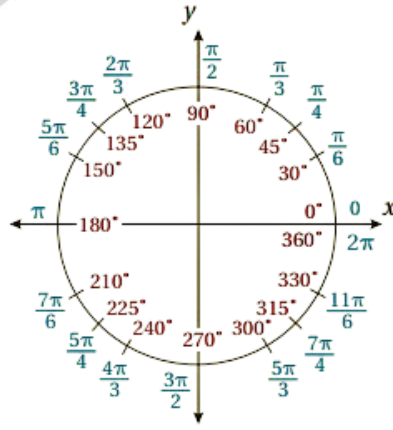
بوجه عام , تحذف كلمة (rad) عند التعبير عن قياسات الزوايا بالراديان . وحين

يكون قياس الزاوية من دون وحدة , فهذا يعني أن قياسها بوحدة راديان



أتعلم

الاقترانات المثلثية



■ بين الشكل المجاور القياسات المتكافئة
بالدرجات والراديان للزوايا الخاصة من
 0° إلى 360° (من 0 rad إلى $2\pi \text{ rad}$)

حول من راديان إلى درجات :

مثال 3

- ① $\frac{3\pi}{4}$
- ② $\frac{5\pi}{4}$
- ③ $\frac{7\pi}{4}$

بالدرجات	0°	30°	45°	60°	90°	180°	270°	360°
بالراديان	0	$\frac{\pi}{6}$	$\frac{\pi}{4}$	$\frac{\pi}{3}$	$\frac{\pi}{2}$	π	$\frac{3\pi}{2}$	2π

① $\frac{7\pi}{6}$

② $\frac{11\pi}{3}$

③ $\frac{13\pi}{4}$

تعميم :

$$\frac{n\pi}{6} = n \times 30^\circ$$

$$\frac{n\pi}{4} = n \times 45^\circ$$

$$\frac{n\pi}{3} = n \times 60^\circ$$



الاقتربات المثلثية

الزوايا المشتركة

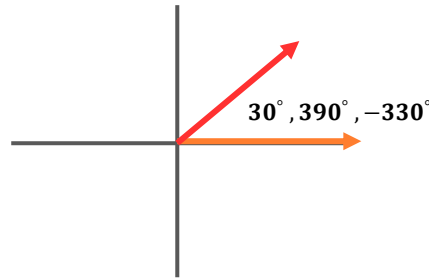
$$1 \times 360^\circ = 360^\circ$$

$$2 \times 360^\circ = 720^\circ$$

$$3 \times 360^\circ = 1080^\circ$$

الفرق بين الزوايا المشتركة ؟

مضاعفات 360°



الزوايا المشتركة لها
نفس ضلع الانتهاء →

يمكن إيجاد زاوية مشتركة في ضلع الانتهاء مع زاوية أخرى عن طريق
الجمع أو الطرح لأحد مضاعفات الزاوية 360° أو 2π

مفهوم أساسي

بالراديان

بالدرجات

إذا كانت θ تمثل القياس بالراديان لزاوية ما ،
فإن جميع الزوايا ذات القياس ذات القياس
 $\theta + 2n\pi$ هي زوايا مشتركة مع θ ،
حيث n عدد صحيح ($n \rightarrow \pm$)

إذا كانت θ تمثل القياس بالدرجات لزاوية ما ،
فإن جميع الزوايا ذات القياس $\theta + 360^\circ n$ هي
زوايا مشتركة مع θ ، حيث n عدد صحيح

أوجد 3 زوايا موجبة و 3 زوايا سالبة مشتركة للزاوية 50° ثم مثلها بيانيا

مثال 4

• الحل :

$$\theta + 360^\circ(n)$$

الموجبة

$$50 + 360 = 410^\circ$$

$$50 + 360(2) = 770^\circ$$

$$50 + 360(3) = 1130^\circ$$

• زوايا سالبة مشتركة لـ 50°

$$50^\circ - 360^\circ(1) \rightarrow 50^\circ - 360^\circ = -310^\circ$$

$$50^\circ - 360^\circ(2) \rightarrow 50^\circ - 720^\circ = -670^\circ$$

$$50^\circ - 360^\circ(3) \rightarrow 50^\circ - 1080^\circ = -1030^\circ$$

مع عقارب الساعة

الاقترانات المثلثية

أوجد زاويتان موجبتان وزاويتان سالبتان مشتركة للزاوية $\frac{\pi}{3}$ ثم مثلها بيانياً . $\theta \pm n(2\pi)$

مثال 5

الموجبة :

$$\frac{\pi}{3} + 2\pi(1) = \frac{\pi}{3} + \frac{3 \times 2\pi}{3 \times 1} = \frac{7\pi}{3}$$

$$\frac{\pi}{3} + 2\pi(2) = \frac{\pi}{3} + \frac{3 \times 4\pi}{3 \times 1} = \frac{13\pi}{3}$$

السالبة :

$$\frac{\pi}{3} - 2\pi(1) = \frac{\pi}{3} - \frac{3 \times 2\pi}{3 \times 1} = \frac{-5\pi}{3}$$

$$\frac{\pi}{3} - 2\pi(2) = \frac{\pi}{3} - \frac{3 \times 4\pi}{3 \times 1} = \frac{-11\pi}{3}$$

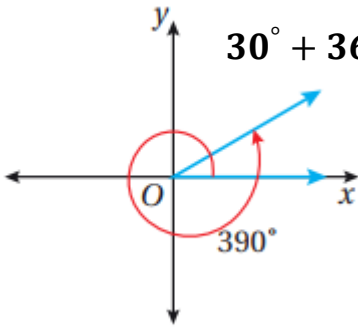
أجد زاويتين احدهما قياسها موجب , والأخرى قياسها سالب , وكتلتهما مشتركة في ضلع الانتهاء مع كل زاوية معطاة مما يأتي , ثم أرسمها :

مثال 6

① 30°

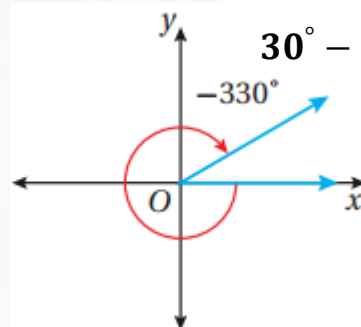
الموجبة

$$30^\circ + 360^\circ = 390^\circ$$



السالبة

$$30^\circ - 360^\circ = -330^\circ$$



② $-\frac{\pi}{3}$

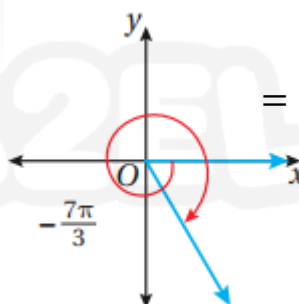
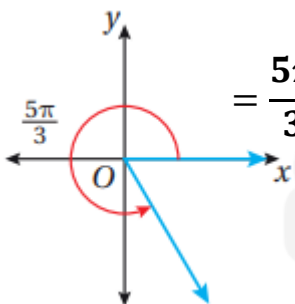
$$\theta \pm 2\pi(n)$$

الموجبة

$$\begin{aligned} -\frac{\pi}{3} + \frac{2\pi \times 3}{1 \times 3} \\ = \frac{-\pi + 6\pi}{3} \\ = \frac{5\pi}{3} \end{aligned}$$

السالبة

$$\begin{aligned} -\frac{\pi}{3} - \frac{2\pi \times 3}{1 \times 3} \\ = \frac{-\pi - 6\pi}{3} \\ = \frac{-7\pi}{3} \end{aligned}$$





أتحقق من فهمي

أجد زاويتين إحداهما قياسها موجب , والأخرى قياسها سالب , وعلتاها مشتركة في ضلع الانتهاء مع كل زاوية معطاة مما يأتي , ثم أرسمها :

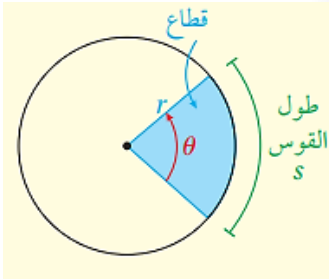
a) 88°

b) -920°

c) $\frac{2\pi}{3}$

d) $-\frac{3\pi}{4}$

طول القوس ومساحة القطاع



مفهوم أساسي

• طول القوس

بالكلمات : طول القوس s من الدائرة المقابل لزاوية مركزية قياسها θ

بالراديان يساوي ناتج ضرب طول نصف القطر r في θ

بالرموز : $s = r\theta$

• مساحة القطاع

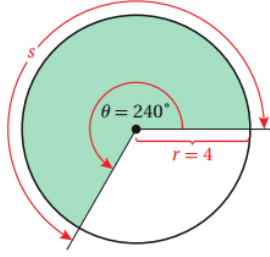
بالكلمات : مساحة القطاع A الذي قياس زاويته المركزية θ بالراديان في دائرة نصف

قطرها r تساوي نصف ناتج ضرب مربع طول نصف القطر r في θ

بالرموز : $A = \frac{1}{2}r^2\theta$



الاقتارات المثلثية



يبين الشكل المجاور قطاعا دائريا زاويته المركزية 240° في دائرة طول نصف قطرها 4 cm . أجد طول القوس ومساحة القطاع، مقربا إجابتي إلى أقرب جزء من عشرة.

مثال 7

$$\theta = 240^\circ \times \frac{\pi}{180} \rightarrow \theta = \frac{4\pi}{3} \text{ rad}$$

$$r = 4 \text{ cm}$$

طول القوس

$$s = r\theta$$

$$s = (4) \left(\frac{4\pi}{3} \right) = \frac{16\pi}{3} \text{ cm}$$

$$= 16.8 \text{ cm}$$

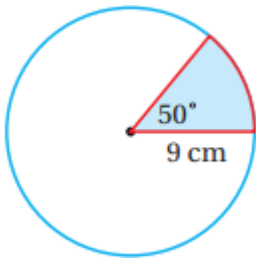
مساحة القطاع

$$A = \frac{1}{2} r^2 \theta$$

$$A = \frac{1}{2} (4)^2 \left(\frac{4\pi}{3} \right)$$

$$A = \frac{32\pi}{3}$$

$$= 33.5 \text{ cm}^2$$



يبين الشكل المجاور قطاعا دائريا زاويته المركزية 50° في دائرة طول نصف قطرها 9 cm . أجد طول القوس ومساحة القطاع، مقربا إجابتي إلى أقرب جزء من عشرة.



أتحقق من فهمي

$$r = 9 \text{ cm} \quad \theta = 50^\circ \times \frac{\pi}{180} = \frac{5\pi}{18} \text{ rad}$$

طول القوس

$$s = r\theta$$

$$s = (9) \left(\frac{5\pi}{18} \right) = \frac{5\pi}{2} \text{ cm}$$

$$= 7.9 \text{ cm}$$

مساحة القطاع

$$A = \frac{1}{2} r^2 \theta$$

$$A = \frac{1}{2} (9)^2 \left(\frac{5\pi}{18} \right)$$

$$A = \frac{1}{2} \times 81 \times \frac{5\pi}{18}$$

$$A = \frac{45\pi}{4} \text{ cm}^2$$

$$= 35.3 \text{ cm}^2$$

AWAZEL
LEARN 2 BE

الحركة الدائرية

$$v = \frac{s}{t} \rightarrow \begin{array}{l} \text{طول} \\ \text{القوس} \end{array} \quad \frac{\text{طول القوس المرسوم}}{\text{الزمن المستغرق}} = \text{السرعة الخطية}$$

$$w = \frac{\theta}{t} \rightarrow \begin{array}{l} \text{مقدار} \\ \text{التغير} \\ \text{في الزمن} \end{array} \quad \frac{\text{مقدار التغير بالزاوية}}{\text{الزمن المستغرق}} = \text{السرعة الزاوية}$$

سيارة: إطار سيارة يبلغ طول قطره 15 in , ويدور 9.3 دورات في الثانية :

مثال 8



① أجد السرعة الخطية للإطار بالإنش لكل ثانية

بما أن قياس الدورة الكاملة 2π , فإن 9.3 دورات تقابل زاوية الدوران θ التي قياسها $2\pi \times 9.3$, أو 18.6π راديان

$$v = \frac{s}{t} \quad \text{السرعة الخطية}$$

$$= \frac{r\theta}{t} \quad \text{بتعويض } s = r\theta$$

$$= \frac{(7.5)(18.6\pi) \text{ inch}}{1 \text{ sec}} \quad \text{بتعويض } r = 7.5 , \theta = 18.6\pi , t = 1 \text{ sec}$$

$$= \frac{139.5\pi \text{ inch}}{1 \text{ sec}} \quad \text{بالتبسيط}$$

إذن , السرعة الخطية للإطار هي 139.5π إنش لكل ثانية , أو 438.25 إنش لكل ثانية تقريبا

② أجد السرعة الزاوية للإطار بالراديان لكل ثانية

$$w = \frac{\theta}{t} \quad \text{السرعة الزاوية}$$

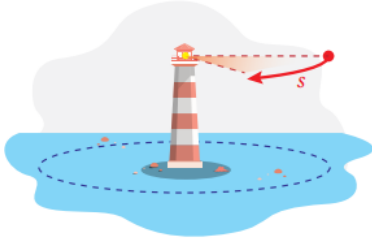
$$= \frac{18.6\pi \text{ rad}}{1 \text{ sec}} \quad \text{بتعويض } t = 1 \text{ sec} , \theta = 18.6\pi$$

إذن السرعة الزاوية للإطار هي 18.6π راديان لكل ثانية , أو 58.4 راديان لكل ثانية تقريبا

الاقترانات المثلثية



أتحقق من فهمي



منارة : تتوسط منارة قناة ماء , ويتحرك ضوءها حركة دائرية بسرعة ثابتة . إذا أكمل ضوء المنارة دورة كاملة كل 10 ثوان , فأجد السرعة الزاوية لضوئها في الدقيقة

عدد الدورات
الزمن المستغرق = السرعة الزاوية

$$w = \frac{1 \text{ rad}}{10 \text{ sec}} \times \frac{2\pi \text{ rad}}{1 \text{ rad}} \times \frac{60 \text{ sec}}{1 \text{ min}}$$

$$w = \frac{(1)(2\pi)(60)}{(10)(1)(1)} \text{ rad/min}$$

$$w = 12\pi \text{ rad/min}$$

AWAZEL
LEARN 2 BE



الاقتارات المثلثية

أدرب وأحل المسائل

أرسم في الوضع القياسي الزاوية التي علم قياسها في كل مما يأتي :

- ① 450° ② -900° ③ 540° ④ -700°
 ⑤ $-\frac{\pi}{6}$ ⑥ $\frac{21\pi}{4}$ ⑦ $\frac{7\pi}{6}$ ⑧ $\frac{\pi}{9}$

أحول قياس الزاوية المكتوبة بالدرجات إلى الراديان ، والزاوية المكتوبة بالراديان إلى الدرجات في كل مما يأتي :

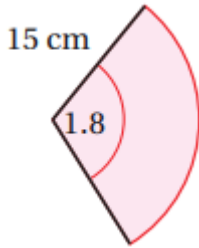
- ⑨ -225° ⑩ -135° ⑪ 75° ⑫ 500°
 ⑬ $-\frac{\pi}{7}$ ⑭ $\frac{5\pi}{12}$ ⑮ 1.2 ⑯ 4

أجد زاويتين إحداهما قياسها موجب ، والأخرى قياسها سالب ، وكتلتهما مشتركة في ضلع الانتهاء مع كل زاوية معطاة مما يأتي ، ثم أرسمها :

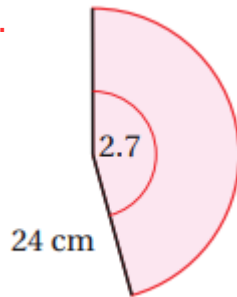
- ⑰ 50° ⑱ 135° ⑲ 1290° ⑳ -150°
 21. $\frac{11\pi}{6}$ 22. $-\frac{\pi}{4}$ 23. $-\frac{\pi}{12}$ 24. $\frac{7\pi}{6}$

أجد طول القوس ومساحة القطاع في كل مما يأتي ، مقربا إجابتي إلى أقرب جزء من عشرة :

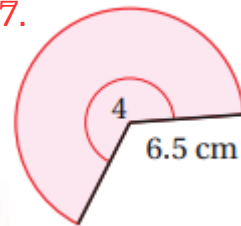
25.



26.



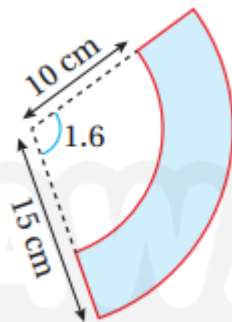
27.



يمثل الشكل المظلل المجاور جزءا من قطاع دائري :

28. أجد مساحة هذا الشكل

29. أجد مساحة هذا الشكل



الاقتارات المثلثية

30. قطاع دائري مساحته 500 cm^2 , وطول قوسه 20 cm ,

أجد قياس زاويته بالراديان

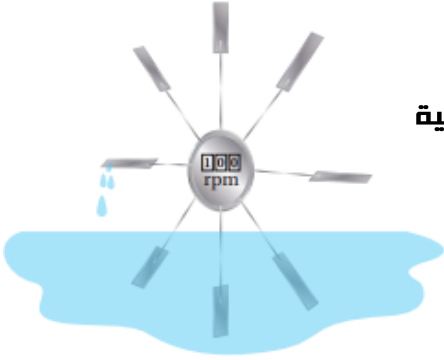
31. تيار ماء : استعمل العلماء عجلة مجداف لقياس سرعة التيارات

المائية بناء على معدل الدوران . أجد سرعة تيار مائي بالمتري لكل ثانية

إذا دارت العجلة 100 دورة في الدقيقة , علما بأن طول عجلة

المجداف (المسافة من مركز الدائرة إلى طرف المجداف)

هو 0.20 m



معلومة

الجزري مهندس عبقرى مسلم , ولد عام 1136م , وقد تمكن من ابتكار أول مضخة مياه في التاريخ , وهي الآلة التي أدت دورا محوريا فاعلا في الثورة الصناعية بأوروبا



32. يدور طفل حجرا مربوفا بطرف حبل طوله 3 ft بمعدل 15 دورة في 10 ثوان .

أجد السرعة الزاوية والسرعة الخطية للحجر

■ قطر شفرة منشار دائرية الشكل 7.5 in , وهي تدور 2400 دورة في الدقيقة :

33. أجد السرعة الزاوية لهذه الشفرة بالراديان لكل ثانية

34. أجد السرعة الخطية لأسنان المنشار عند ملامستها الخشب المراد قطعه



معلومة

الشفرة الماسية هي شفرة منشار تحتوي على ماس مثبت بحافتها , وتستعمل لقطع المواد الصلبة ,

مثل : الرخام , وحجر البناء , وبلاط السيراميك

AWAZEL
LEARN 2 BE

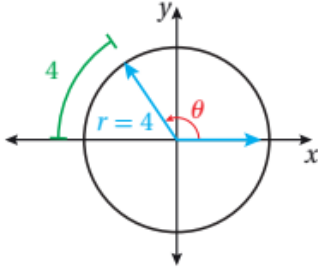
الاقتارات المثلثية

مهارات التفكير العليا

■ **تبرير:** قطاع دائري طول قوسه بالسنتيمترات يساوي عدديا مساحته بالأمتار المربعة :

35. أجد نصف قطر القطاع الدائري , مبررا إجابتي

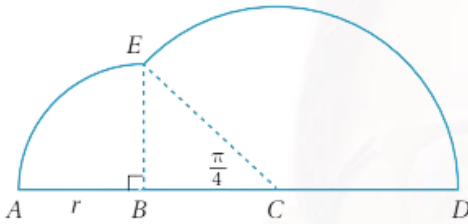
36. أجد قياس زاوية القطاع , مبررا إجابتي



37. **تبرير:** أجد قياس الزاوية θ في الشكل المجاور , مبررا إجابتي

■ **تحذ:** في الشكل المجاور زاوية مستقيمة ACD و ABE قطاع دائري مركزه B , ونصف قطره

r , و CE قطاع دائري مركزه C , و $m\angle ACE = \frac{\pi}{4}$:



38. أثبت أن طول \overline{CD} هو $\sqrt{2} r$

39. أجد قياس $\angle ECD$ بالراديان

40. أجد محيط الشكل ومساحته , علما بأن $r = 10 \text{ cm}$



صاحب المهمة

لا يقف

حتى يتم

المهمة

LAYLA AZIZ

AWAZEL
LEARN 2 BE



الاقتدرات المثلثية

الاقتدرات المثلثية

مفهوم أساسي

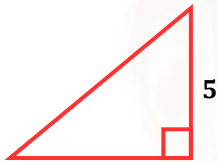


إذا مثلت θ قياس زاوية حادة في مثلث قائم الزاوية ،
فإن الاقتدرات المثلثية الستة تعرف بدلالة الوتر ، والضلع
المقابل ، والضلع المجاور كما يأتي :

$$\sin \theta = \frac{\text{المقابل}}{\text{الوتر}} \quad (\text{sine}) \quad \text{الجيب} \quad \csc \theta = \frac{\text{الوتر}}{\text{المقابل}} \quad (\text{consecant}) \quad \text{قاطع التمام}$$

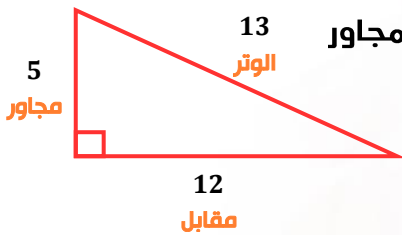
$$\cos \theta = \frac{\text{المجاور}}{\text{الوتر}} \quad (\text{cosine}) \quad \text{جيب التمام} \quad \sec \theta = \frac{\text{الوتر}}{\text{المجاور}} \quad (\text{secant}) \quad \text{القاطع}$$

$$\tan \theta = \frac{\text{المقابل}}{\text{المجاور}} \quad (\text{tangent}) \quad \text{الظل} \quad \cot \theta = \frac{\text{المجاور}}{\text{المقابل}} \quad (\text{cotangent}) \quad \text{ظل التمام}$$



أتحقق من فهمي

أجد قيم الاقتدرات المثلثية الستة للزاوية θ في المثلث المجاور



أجد قيم الاقتدرات المثلثية الستة للزاوية θ في المثلث المجاور

مثال 1

نجد الضلع الثالث أولاً

$$\sin \theta = \frac{12 \text{ مقابل}}{13 \text{ وتر}}$$

$$\csc \theta = \frac{13}{12}$$

$$L = \sqrt{12^2 + 5^2}$$

$$L = \sqrt{144 + 25}$$

$$\cos \theta = \frac{5 \text{ مجاور}}{13 \text{ وتر}}$$

$$\sec \theta = \frac{13}{5}$$

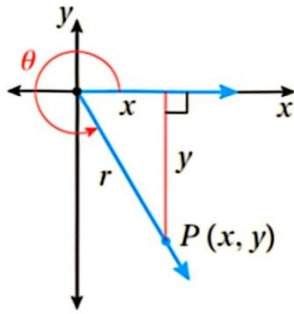
$$L = \sqrt{169} = 13$$

$$\tan \theta = \frac{12 \text{ مقابل}}{5 \text{ مجاور}}$$

$$\cot \theta = \frac{5}{12}$$

الاقترانات المثلثية

مفهوم أساسي



إذا كانت θ زاوية مرسومة في الوضع القياسي ، والنقطة $P(x, y)$

تقع على ضلع الانتهاء للزاوية θ ، و r يمثل

البعد بين النقطة P ونقطة الأصل ،

حيث : $r = \sqrt{x^2 + y^2}$ ، $r \neq 0$

فإن الاقترانات المثلثية للزاوية θ تعرف كما يأتي :

$$\sin \theta = \frac{y}{r}$$

$$\cos \theta = \frac{x}{r}$$

$$\tan \theta = \frac{y}{x} , x \neq 0$$

$$\csc \theta = \frac{r}{y} , y \neq 0$$

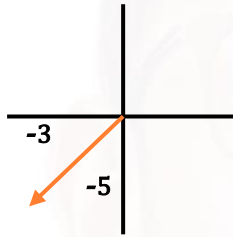
$$\sec \theta = \frac{r}{x} , x \neq 0$$

$$\cot \theta = \frac{x}{y} , y \neq 0$$

تقع النقطة $(-3, -5)$ على ضلع انتهاء الزاوية θ المرسومة في الوضع القياسي .

مثال 2

أجد قيم الاقترانات المثلثية الستة للزاوية θ



$$x = -3$$

$$y = -5$$

$$r = \sqrt{(-3)^2 + (-5)^2} = \sqrt{9 + 25} = \sqrt{34}$$

$$\sin \theta = \frac{y}{r} = \frac{-5}{\sqrt{34}}$$

$$\csc \theta = \frac{-\sqrt{34}}{5}$$

$$\cos \theta = \frac{x}{r} = \frac{-3}{\sqrt{34}}$$

$$\sec \theta = \frac{-\sqrt{34}}{3}$$

$$\tan \theta = \frac{y}{x} = \frac{-5}{-3} = \frac{5}{3}$$

$$\cot \theta = \frac{3}{5}$$



أتحقق من فهمي

تقع النقطة $(1, -3)$ على ضلع انتهاء الزاوية θ المرسومة في الوضع القياسي . أجد قيم

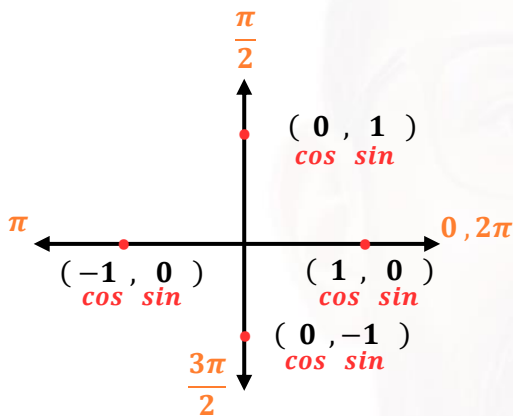
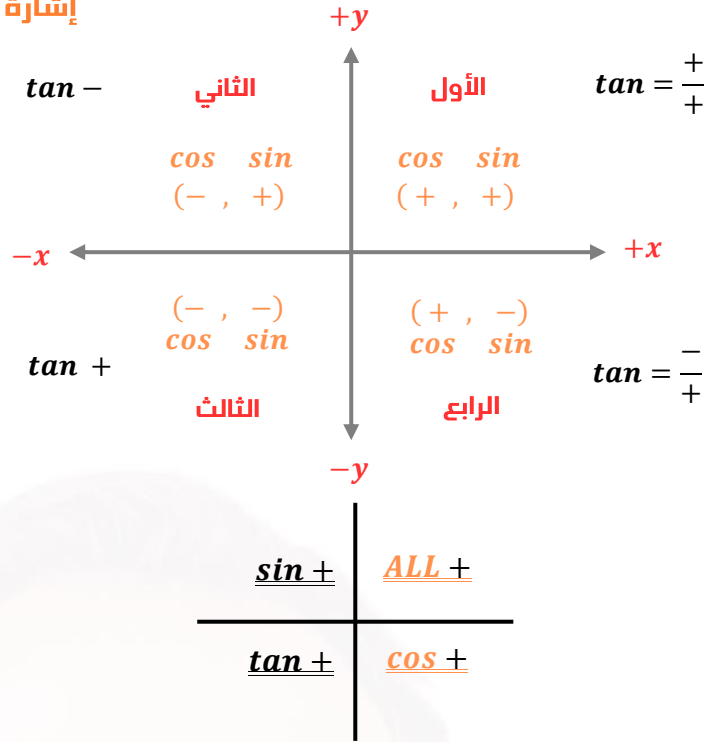
الاقترانات المثلثية الستة للزاوية θ

$x =$

$y =$

$r =$

إشارة فقط وليس قيم



θ	$0, 2\pi$	$\frac{\pi}{2}$	π	$\frac{3\pi}{2}$
$\sin \theta$				
$\cos \theta$				
$\tan \theta$				
$\csc \theta$				
$\sec \theta$				
$\cot \theta$				

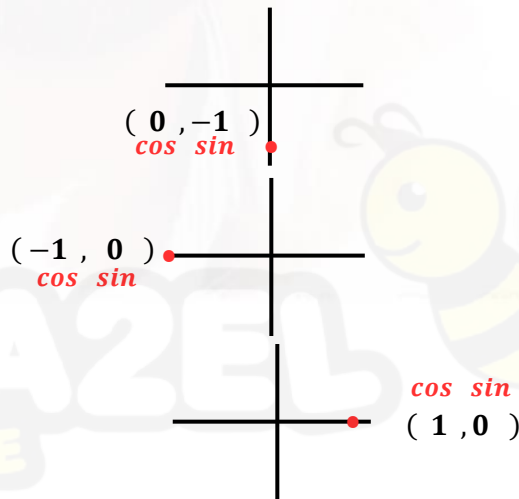
أجد قيمة كل اقتران مثلثي مما يأتي إذا كان معرفا , وإلا أكتب عبارة (غير معرف) :

مثال 3

$$\begin{aligned} \textcircled{1} \cot 270^\circ &= \frac{\cos 270^\circ}{\sin 270^\circ} \\ &= \frac{0}{-1} = 0 \end{aligned}$$

$$\begin{aligned} \textcircled{2} \csc(-\pi) &= \frac{1}{\sin(-\pi)} \\ &= \frac{1}{0} \text{ غير معرف} \end{aligned}$$

$$\textcircled{3} \cos 4\pi = 1$$



الاقترانات المثلثية



أتحقق من فهمي

أجد قيمة كل اقتران مثلثي مما يأتي إذا كان معرفا , وإلا أكتب عبارة (غير معرف) :

a) $\sin 3\pi$

b) $\tan 90^\circ$

c) $\sec\left(-\frac{3\pi}{2}\right)$

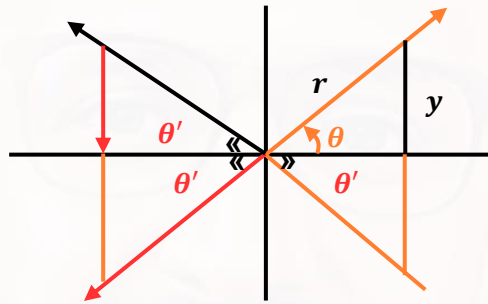
يوجد عدد لانهائي من الزوايا الربعية التي تشترك مع الزوايا الربعية في الدورة الكاملة , وتكون قياساتها مضاعفات 90° أو $\frac{\pi}{2}$



أتعلم

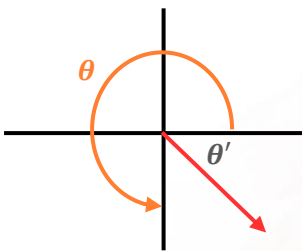


$$\left. \begin{aligned} \sin(-\theta) &= -\sin \theta \\ \tan(-\theta) &= -\tan \theta \\ \cos(-\theta) &= \cos \theta \end{aligned} \right\}$$



$$\left. \begin{aligned} \sin \theta \\ \cos \theta \\ \tan \theta \end{aligned} \right\}$$

θ' : هي زاوية مرجعية حادة محصورة بين ضلع الانتهاء ومحور x



الربع الرابع

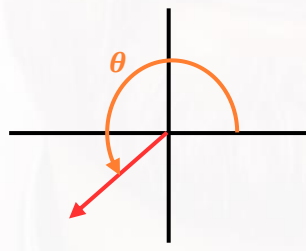
$$\theta' = 360^\circ - \theta$$

$$\theta' = 2\pi - \theta$$

$$\theta = 300^\circ$$

$$\theta' = 360^\circ - 300$$

$$= 60^\circ$$



الربع الثالث

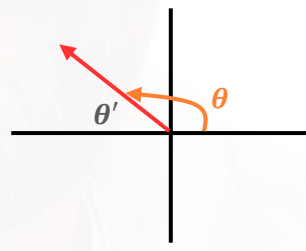
$$\theta' = \theta - 180^\circ$$

$$\theta' = \theta - \pi$$

$$\theta = 210^\circ$$

$$\theta' = 210^\circ - 180$$

$$= 30^\circ$$



الربع الثاني

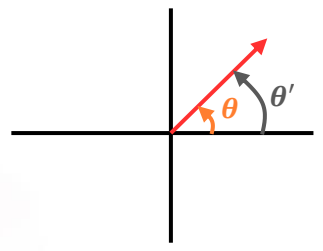
$$\theta' = 180^\circ - \theta$$

$$\theta' = \pi - \theta$$

ما هي الزاوية المرجعية

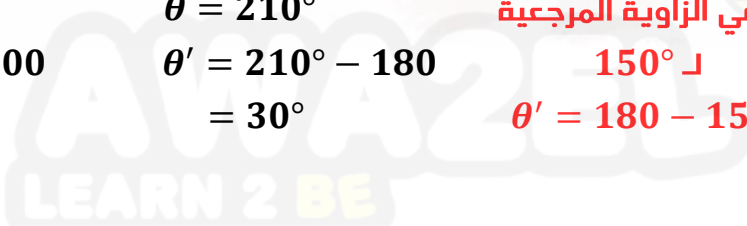
$$\angle 150^\circ$$

$$\theta' = 180 - 150 = 30^\circ$$



الربع الأول

$$\theta' = \theta$$



الاقتوانات المثلثية

θ	$30^\circ = \frac{\pi}{6}$	$45^\circ = \frac{\pi}{4}$	$60^\circ = \frac{\pi}{3}$
$\sin \theta$	$\frac{1}{2}$	$\frac{1}{\sqrt{2}}$	$\frac{\sqrt{3}}{2}$
$\cos \theta$	$\frac{\sqrt{3}}{2}$	$\frac{1}{\sqrt{2}}$	$\frac{1}{2}$
$\tan \theta$	$\frac{1}{\sqrt{3}}$	1	$\sqrt{3}$

أجد قيمة كل مما يأتي :

مثال 4

$$\begin{aligned} \textcircled{1} \sin 135^\circ &\rightarrow \text{الثاني} \rightarrow \sin + & \theta' = 180^\circ - 135^\circ \\ &= \sin 45^\circ & = 45^\circ \\ &= \frac{1}{\sqrt{2}} \end{aligned}$$

لإيجاد النسب المثلثية لأي زاوية منعكسة عن زاوية مشهورة نرجعها إلى الربع الأول للتعامل معها مع الانتباه إلى الإشارة

$$\begin{aligned} \textcircled{2} \cos 600^\circ & \\ &= \cos 240^\circ \\ &= -\cos 60^\circ \\ &= -\frac{1}{2} \end{aligned}$$

الثالث

$\cos \ominus$

$$\theta' = 240 - 180$$

$$\theta' = 60^\circ$$

لا نتعامل الأصغر الدورة الواحدة

$[0^\circ, 360^\circ]$

تجهيز :

$$\begin{array}{r} 510 \\ 600^\circ \\ -360^\circ \\ \hline 240 \end{array}$$

$$\text{مهارات} \quad \text{csc} \rightarrow \frac{1}{\sin}$$

$$\text{sec} \rightarrow \frac{1}{\cos}$$

$$\text{cot} \rightarrow \frac{1}{\tan}$$

الاقترانات المثلثية

$$\begin{aligned}
 \textcircled{3} \quad \csc \frac{17\pi}{6} &= \frac{1}{\sin \frac{17\pi}{6}} \\
 &= \frac{1}{\sin 510^\circ} \\
 &= \frac{1}{\sin 150^\circ} \\
 &= \frac{1}{\sin (30^\circ)} = \frac{1}{\frac{1}{2}} \\
 &= 2
 \end{aligned}$$

$$\begin{aligned}
 \textcircled{4} \quad \cot \left(-\frac{4\pi}{3}\right) &= \frac{1}{-\tan \left(\frac{4\pi}{3}\right)} \\
 &= \frac{1}{-\tan 240^\circ} \\
 &= \frac{-1}{\tan 60^\circ} \\
 &= \frac{-1}{\sqrt{3}}
 \end{aligned}$$

حول الراديان إلى درجات

$$\begin{aligned}
 \frac{17\pi}{6} &= 17 \times 30 \\
 &= 510^\circ
 \end{aligned}$$

$$510^\circ - 360^\circ = 150^\circ$$

$$\theta' = 180^\circ - 150^\circ$$

$$\theta' = 30^\circ$$

$$\begin{aligned}
 4\left(\frac{x}{3}\right) &= 4 \times 60 \\
 &= 240^\circ
 \end{aligned}$$

⊕ الربع الثالث

$$\theta' = 240 - 180$$

$$= 60^\circ$$

• لا تتعامل مع سالب

$$\sin(-\theta) = -\sin \theta$$

$$\tan(-\theta) = -\tan \theta$$

$$\cos(-\theta) = \cos \theta$$



أتحقق من فهمي

أجد قيمة كل مما يأتي :

a) $\sin 210^\circ$

c) $\sec 5\pi$

b) $\cos 510^\circ$

d) $\tan \left(-\frac{2\pi}{3}\right)$

AWAZEL
LEARN 2 BE

الاقتدرات المثلثية

إذا كان $\tan \theta = -4$, حيث $\sin \theta < 0$, فأجد قيمة كل من

مثال 5

الاقتدرات المثلثية الخمسة المتبقية للزاوية θ

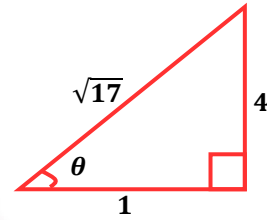
الرابع $\begin{cases} \tan \theta & \ominus \\ \sin \theta & \ominus \end{cases} \therefore$

$$\tan \theta = \frac{-4}{1} = \frac{\text{مقابل}}{\text{مجاور}}$$

$$l = \sqrt{16 + 1} = \sqrt{17}$$

$$\sin \theta = \frac{-4}{\sqrt{17}}$$

$$\csc \theta = \frac{-\sqrt{17}}{4}$$



$$\cos \theta = \frac{1}{\sqrt{17}}$$

$$\sec \theta = \sqrt{17}$$

$$\tan \theta = \frac{-4}{1} = -4$$

$$\cot \theta = \frac{-1}{4}$$



أتحقق من فهمي

إذا كان $\sec \theta = 2$, حيث $\sin \theta < 0$, فأجد قيمة كل من الاقتدرات المثلثية الخمسة المتبقية للزاوية θ

الرابع

$$\sec \theta = \frac{\text{وتر}}{\text{مجاور}} = \frac{2}{1}$$

$$\sin \theta = \frac{-\sqrt{3}}{2}$$

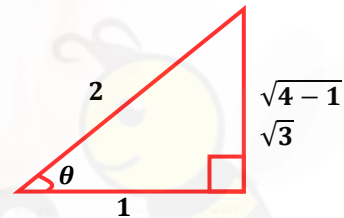
$$\csc \theta = \frac{-2}{\sqrt{3}}$$

$$\cos \theta = \frac{1}{2}$$

$$\sec \theta = 2$$

$$\tan \theta = -\sqrt{3}$$

$$\cot \theta = \frac{-1}{\sqrt{3}}$$



AWAZEL
LEARN 2 BE

الاقترانات المثلثية

تذكرة: يمكن حساب الزمن (بالثواني) الذي تستغرقه عملية الانزلاق

على منحدر تل يميل عن الأفق بزاوية قياسها θ باستعمال العلاقة :



$$t = \frac{\sqrt{d \csc \theta}}{4}$$

حيث d طول المنحدر بالأقدام .

أجد الزمن الذي تستغرقه عملية الانزلاق على منحدر

طوله 2000 ft وزاوية ميله $\frac{\pi}{6}$

مثال 6

$$\csc \frac{\pi}{6} = \frac{1}{\sin \frac{\pi}{6}}$$

$$= \frac{1}{\frac{1}{2}}$$

$$= 2$$

$$t = \frac{\sqrt{2000 \csc \frac{\pi}{6}}}{4}$$

$$t = \frac{\sqrt{2000 \times 2}}{4} = \frac{\sqrt{4000}}{4} = \frac{\sqrt{400 \times 10}}{4}$$

$$= \frac{20\sqrt{10}}{4}$$

$$= 5\sqrt{10} \text{ sec}$$



أتتحقق من فهمي

أجد الزمن الذي تستغرقه عملية الانزلاق على منحدر طوله 3000 ft , وزاوية ميله $\frac{\pi}{4}$, مستعملا

العلاقة الواردة في المثال 6

$$t = \frac{\sqrt{3000 \csc \frac{\pi}{4}}}{4}$$

$$= \frac{\sqrt{3000 \sqrt{2}}}{4}$$

$$\approx 16.28 \text{ sec}$$

$$\csc \frac{\pi}{4} = \frac{1}{\sin \frac{\pi}{4}}$$

$$= \frac{1}{\frac{1}{\sqrt{2}}}$$

$$= \sqrt{2}$$

AWAZEL
LEARN 2 BE



الاقترانات المثلثية

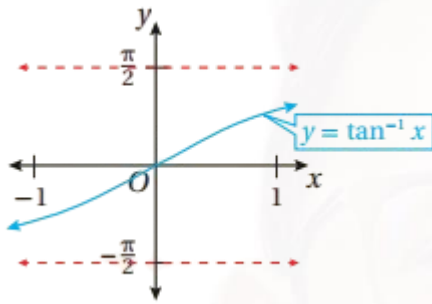
معكوس اقتران الظل

إذا $y = \tan^{-1}x$ فقط إذا
, $\tan y = x$

حيث: $-\infty < x < \infty$
و $-\frac{\pi}{2} < y < \frac{\pi}{2}$

المجال: $(-\infty, \infty)$

المدى: $(-\frac{\pi}{2}, \frac{\pi}{2})$



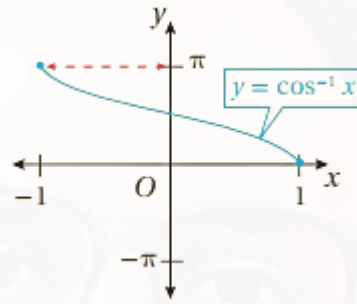
معكوس اقتران جيب التمام

إذا $y = \cos^{-1}x$ فقط إذا
, $\cos y = x$

حيث: $-1 \leq x \leq 1$
و $0 \leq y \leq \pi$

المجال: $[-1, 1]$

المدى: $[0, \pi]$



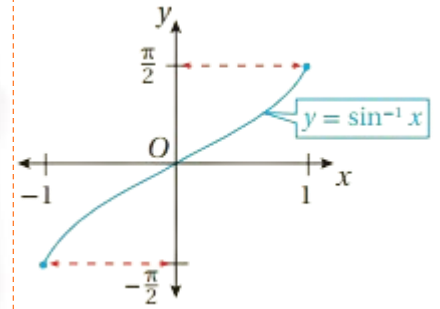
معكوس اقتران الجيب

إذا $y = \sin^{-1}x$ فقط إذا
, $\sin y = x$ حيث:

$-1 \leq x \leq 1$
و $-\frac{\pi}{2} \leq y \leq \frac{\pi}{2}$

المجال: $[-1, 1]$

المدى: $[-\frac{\pi}{2}, \frac{\pi}{2}]$



$\sin^{-1}(x)$

المدخلات $[-1, 1]$

المخرجات $[-\frac{\pi}{2}, \frac{\pi}{2}]$

ما بداخل
 \sin^{-1}
سالب
↓
الزاوية
سالبة
أي في
الربع الرابع

ما بداخل
 \sin^{-1}
موجب
↓
الزاوية
موجبة
أي في
الربع الأول

$\cos^{-1}(x)$

$[-1, 1]$

$[0, \pi]$

ما بداخل
 \cos^{-1}
سالب
↓
الزاوية
سالبة
أي في
الربع الثاني

ما بداخل
 \cos^{-1}
موجب
↓
الزاوية
موجبة
أي في
الربع الأول

$\tan^{-1}(x)$

$(-\infty, \infty)$

$[-\frac{\pi}{2}, \frac{\pi}{2}]$

ما بداخل
 \sin^{-1}
سالب
↓
الزاوية
سالبة
أي في
الربع الرابع

ما بداخل
 \sin^{-1}
موجب
↓
الزاوية
موجبة
أي في
الربع الرابع



AWAZEL
LEARN 2 BE

$$\textcircled{1} \sin^{-1} \frac{1}{2}$$



أي من هي الزاوية التي عند تعويضها في $\sin x$ يكون الإجابة $\frac{1}{2}$

$$= \frac{\pi}{6}$$

$$\textcircled{2} \sin^{-1} \left(\frac{-1}{2} \right)$$

$$= \frac{-\pi}{6}$$

$$\textcircled{3} \sin^{-1} \left(\frac{1}{\sqrt{2}} \right)$$

$$= \frac{\pi}{4}$$

$$\textcircled{4} \sin^{-1} \left(\frac{-1}{\sqrt{2}} \right)$$

$$= \frac{-\pi}{4}$$

$$\textcircled{5} \sin^{-1} \left(\frac{\sqrt{3}}{2} \right)$$

$$\textcircled{6} \sin^{-1} \left(\frac{-\sqrt{3}}{2} \right)$$

$$\textcircled{7} \cos^{-1} \frac{\sqrt{3}}{2} = \frac{\pi}{6}$$

, $[0, \pi]$

$$\cos^{-1} \left(\frac{-\sqrt{3}}{2} \right) = \frac{6\pi}{6} - \frac{\pi}{6} = \frac{5\pi}{6}$$

الربع الثاني

$$\textcircled{8} \cos^{-1} \left(\frac{1}{2} \right) = \frac{\pi}{3}$$

, $[0, \pi]$

$$\cos^{-1} \left(\frac{-1}{2} \right) = \frac{3\pi}{3} - \frac{\pi}{3} = \frac{2\pi}{3}$$

$$\textcircled{9} \cos^{-1} \left(\frac{1}{\sqrt{2}} \right) = \frac{\pi}{4}$$

, $[0, \pi]$

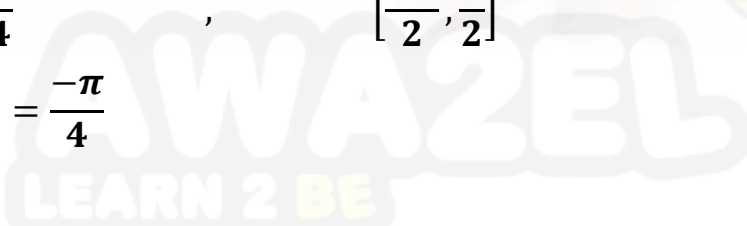
$$\cos^{-1} \left(\frac{-1}{\sqrt{2}} \right) = \frac{4\pi}{4} - \frac{\pi}{4} = \frac{3\pi}{4}$$



$$\textcircled{10} \tan^{-1} 1 = \frac{\pi}{4}$$

, $\left[\frac{-\pi}{2}, \frac{\pi}{2} \right]$

$$\tan^{-1}(-1) = \frac{-\pi}{4}$$



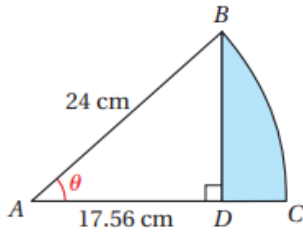
الاقتربات المثلثية

$$\textcircled{11} \tan^{-1}(\sqrt{3}) = \frac{\pi}{3}$$

$$\tan^{-1}(-\sqrt{3}) = -\frac{\pi}{3}$$

$$\textcircled{12} \tan^{-1}\left(\frac{1}{\sqrt{3}}\right) = \frac{\pi}{6}$$

$$\tan^{-1}\left(\frac{-1}{\sqrt{3}}\right) = -\frac{\pi}{6}$$



يمثل الشكل المجاور قطاعا دائريا مركزه A

وقياس زاويته θ , وطول نصف قطره 24 cm . إذا كانت

الزاوية ADB قائمة , وطول \overline{AD} هو 17.56 cm , فأجد

كلا مما يأتي :

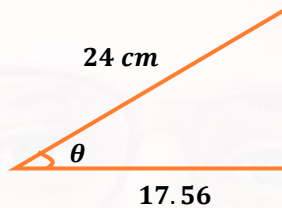
1. قياس زاوية القطاع θ بالراديان

2. مساحة الجزء المظلل

$$\cos \theta = \frac{17.56}{24}$$

$$\theta = \cos^{-1}\left(\frac{17.56}{24}\right)$$

$$\theta = 0.75 \text{ rad}$$



يوجد علاقتين لمساحة المثلث

تذكير

$$= \frac{1}{2} (\text{الارتفاع})(\text{القاعدة})$$

$$= \frac{1}{2} (\text{الثاني})(\text{الأول}) \sin \theta \leftarrow \text{بينهما}$$

$$A_{\text{المظلل}} = A_{\text{القطاع}} - A_{\text{المثلث}}$$

$$= \frac{1}{2} r^2 \theta - \frac{1}{2} (\text{الثاني})(\text{الأول}) \sin \theta$$

$$= \frac{1}{2} (29)^2 (0.75) - \frac{1}{2} (17.56)(24) \sin(0.75)$$

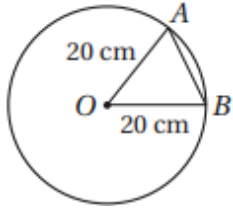
$$= 72.37 \text{ cm}^2$$

AWAZEL
LEARN 2 BE





أتحقق من فهمي



إذا كانت مساحة القطاع الدائري OAB هي 164 cm^2

في الشكل المجاور , فأجد مساحة ΔOAB

ما هو طول الضلع AB

$$AB = \sqrt{(20)^2 + (20)^2 - 2(20)(20)\cos 0.82}$$

$$AB = 15.94 \text{ cm}$$

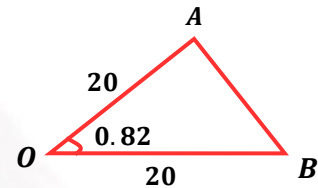
نجد الزاوية AOB أولاً

$$A_{\text{المقطاع}} = \frac{1}{2}(r^2)\theta$$

$$164 = \frac{1}{2}(20)^2\theta$$

$$\frac{164}{200} = \frac{200}{200}\theta$$

$$\theta = 0.82 \text{ rad}$$



مساحة ΔOAB

$$= \frac{1}{2}(20)(20)\sin(0.82)$$

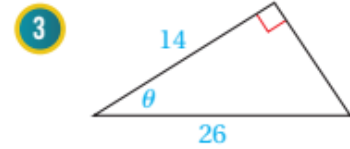
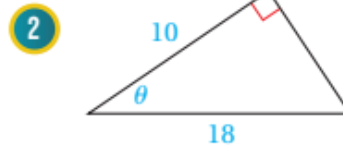
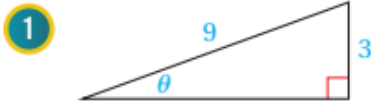
$$\approx 146.2 \text{ cm}^2$$



الاقتدرات المثلثية

أدرب وأحل المسائل

أجد قيم الاقتدرات المثلثية الستة للزاوية θ في كل مما يأتي:



تقع النقطة المعطاة في كل مما يأتي على ضلع انتهاء الزاوية θ المرسومة في الوضع القياسي. أجد قيم الاقتدرات المثلثية الستة للزاوية θ :

4 $(-12, 5)$

5 $(3, -3)$

6 $(-2, -5)$

7 $(3, 7)$

أجد قيمة كل مما يأتي:

8 $\sec 135^\circ$

9 $\tan\left(-\frac{3\pi}{4}\right)$

10 $\cot\left(\frac{8\pi}{3}\right)$

11 $\cos\frac{7\pi}{4}$

12 $\sec\frac{15\pi}{4}$

13 $\csc(-630^\circ)$

14 $\tan 7\pi$

15 $\sin\left(-\frac{2\pi}{3}\right)$

أجد قيمة كل من الاقتدرات المثلثية الخمسة المتبقية للزاوية θ في كل مما يأتي:

16 $\cos \theta = -\frac{7}{12}, \tan \theta > 0$

17 $\sec \theta = 5, \sin \theta < 0$

18 $\cot \theta = \frac{1}{4}, \sin \theta < 0$

19 $\csc \theta = 2, \cos \theta > 0$



20 **بكرة:** يُمثل الاقتران $y = 20 + \sin(10t)$ الارتفاع الرأسي عن سطح الأرض

بالستيمترات لسِنِّ بكرة دراجة هوائية بعد t ثانية من بدء حركة الدراجة. أجد

الارتفاع الرأسي لسِنِّ البكرة بعد 2.5 ثانية من بدء حركة الدراجة.

إذا كان $\cos \frac{\pi}{12} = 0.966$ لأقرب ثلاث منازل عشرية، فاستعمل هذه الحقيقة لإيجاد قيمة كل مما يأتي:

21 $\cos \frac{13\pi}{12}$

22 $\cos \frac{11\pi}{12}$

23 $\cos \frac{-\pi}{12}$

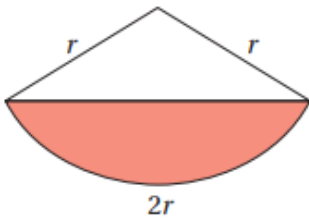
24 $\cos \frac{23\pi}{12}$

أجد قيمة كل مما يأتي:

25 $\left(\cos \frac{3\pi}{4}\right)^2 + \left(\sin \frac{4\pi}{3}\right)^2 + \left(\cos \frac{5\pi}{4}\right)^2$

26 $\sin \frac{\pi}{3} - \sin \frac{2\pi}{3} + \sin \pi - \sin \frac{4\pi}{3} + \sin \frac{5\pi}{3} - \sin 2\pi$

الاقترانات المثلثية



يُبيِّن الشكل المجاور قطاعًا دائريًا، طول نصف قطره r ، وطول قوسه $2r$. إذا كانت مساحة الجزء المُظلل من القطاع 24 cm^2 ، فأجد كلاً ممَّا يأتي:

27 طول نصف قطر القطاع. 28 محيط الجزء المُظلل.

أجد قيمة كلِّ ممَّا يأتي (إن وُجِدَت):

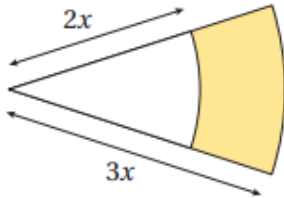
29 $\sin^{-1}\left(-\frac{\sqrt{3}}{2}\right)$

30 $\tan^{-1}(-1)$

31 $\tan^{-1}(\sqrt{3})$

32 $\cos^{-1}(2)$

مهارات التفكير العليا

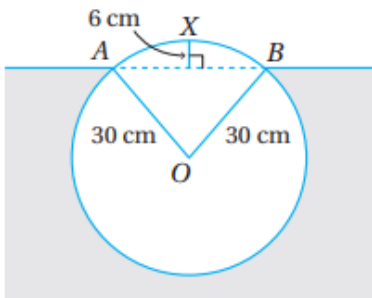


33 تحدِّ: يُبيِّن الشكل المجاور قطاعين دائريين ناتجين من دائرتين متحدتين في المركز. إذا كان قياس زاوية القطاعين 0.75 ، ومساحة الجزء المُظلل 30 cm^2 ، فأجد قيمة x .

تبرير: أثبت كلاً ممَّا يأتي، مُبرِّراً إجابتي:

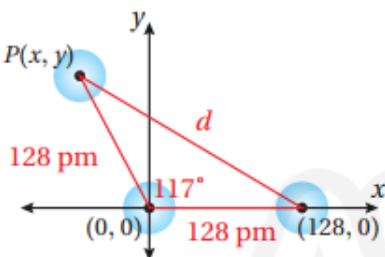
34 $\tan 210^\circ + \tan 240^\circ = \frac{4\sqrt{3}}{3}$

35 $\frac{\sin 30^\circ + \sin 60^\circ}{\sin 45^\circ} = \frac{1}{2}(\sqrt{2} + \sqrt{6})$



36 تحدِّ: يُبيِّن الشكل المجاور المقطع العرضي لقطعة خشب أسطوانية الشكل عائمة على الماء. إذا كان نصف قطر المقطع العرضي لقطعة الخشب 30 cm ، وكانت النقطتان A و B على سطح الماء، وكان ارتفاع أعلى نقطة من هذه القطعة 6 cm فوق سطح الماء؛ فأجد النسبة المئوية للجزء من هذه القطعة الواقع تحت سطح الماء.

تبرير: يتكوَّن جزيء الأوزون من ثلاث ذرات أكسجين مُرتبطة كما في الشكل المجاور:



37 أجد إحداثيي مركز ذرة الأكسجين $P(x, y)$ الواقع في الربع الثاني، علماً بأنَّ الأبعاد على الشكل هي بوحدة البيكومتر ($1 \text{ pm} = 10^{-12} \text{ m}$)، ثم أبرر إجابتي.

38 أجد المسافة d بالبيكومتر بين ذرتي الأكسجين غير المُرتبطتين.