

# دوسية تلخيص الدراسات الاجتماعية المصف الرابع الفصل الثاني

بصيغة (سؤال وجواب)

بالإضافة الى ملحق امتحانات قصيرة

\*\*بالنسبة للأسئلة المفتوحة او التي ليس لها اجابة محددة مثل اقترح ،أبدي رأيي  
أفكر ، أطبق ، بعض أسئلة أستنتج وأصنف – التفكير الناقد - ترك أمامها فراغ .....

المنهاج الأردني

اعداد

أميرة عيال سلمان السعودي

مديرة تربية لواء بصيرا / محافظة الطفيلة الهاشمية





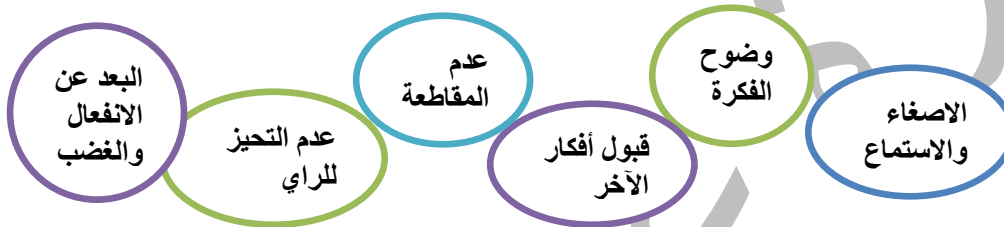
1- أعرّف المقصود بـ (الحوار)؟ هو تبادل الحديث بين شخصين أو أكثر ، ويكون حول موضوع معين .

2- من وسائل التواصل وتبادل الآراء والأفكار بين الناس؟ الحوار



4- السبب والنتيجة : السبب : استعمال الحوار في حياتنا اليومية النتيجة : زيادة الطلاقة اللغوية عند الأفراد

5- أذكر أسس الحوار وآدابه التي لا بد من الالتزام بها ، كي يكون الحوار فعالا وناجحا ومفيدا ؟



6- التصنيف : أصنف المواقف والسلوكيات الآتية ، من حيث اتفاقها أو اختلافها مع أسس الحوار وآدابه بوضع إشارة ( √ ) بجانبها :

الموقف	يتفق مع أسس الحوار وآدابه	يخالف أسس الحوار وآدابه
أعبر عن رأيي بانفعال .		√
أستمع لآراء الآخرين وأحترمها .		
أقاطع اخواني ان كان رأيهم مخالف لرأيي		
اعطي فرصة لزملائي / للتعبير عن رأيهم		

7- اعدد مظاهر الحوار في كل من ؟

1- الأسرة :

- أشارك أسرتي في أحداث يومي وخبراتي .
- أحترم الجميع في أسرتي .
- أستمع باهتمام لآراء والدي واخوتي.

3- الحي :

- أحترم رأيي أصدقائي وجيرانني .
- أحل الخلاف بالحوار ، ولا ألجأ الى العنف .
- أستمع لأفكار الآخرين ومقترحاتهم ، من أجل الحي.

2- المدرسة :

- أحترم آراء الجميع في صفني .
- أستمع جيدا ، ولا أقاطع زملائي / زميلاتي.

4- مواقع التواصل الاجتماعي :

- أحترم رأي الآخرين في منشوراتهم وخصوصياتهم .
- أعبر عن رأيي بما لا يتعارض مع آداب الحوار .
- أظهر الاحترام للآخر في الحوار والمناقشات والردود .
- لا أعتدي على الآخرين بالتعليقات السلبية .

8- التفكير الناقد : ابدي رأيي في الجمل الآتية :

- ◀ يجعلني الحوار أتقبل الآخرين على تنوعهم وأختلافهم ..... ▶ يسهم الحوار في بناء شخصيتي.....
- ◀ الاصرار على الرأي دلالة على قوة الشخصية..... ▶ يزيد الحوار من طلاقتي اللغوية .....



## 1- أميز بين مفهومي الاحترام – واحترام الآخرين -؟

- **الاحترام** : هو خلق انساني يعبر عن تقديرك لذاتك ، والتعامل مع كل ما حولك بتقدير واهتمام وعناية .
- **احترام الآخرين** : هو خلق يدعو الى تقدير قيمة الآخرين بإظهار الاهتمام بهم ، وعدم الإساءة اليهم ، ومعاملتهم معاملة حسنة ، واعطائهم قيمة على اختلاف الدين والعرق واللون والجنس والعمر .

## 2- أوضح أهمية الاحترام ؟

- نشر المحبة والمودة بين الناس .
- تقوية العلاقات والروابط في المجتمع .
- الابتعاد عن السلوكيات العدائية بين الأفراد .

## 3- السبب والنتيجة : السبب : احترام الآخرين النتيجة : تقليل الخلافات والنزاعات بين الناس

## 4\_ من اشكال الاحترام ؟

تعدد اشكال الاحترام وتنوع، ويميز معرفة بعضها عن طريق نامل الصور والبطاقات الآتية.



## 5- استخلص النتائج : استخلص من البطاقات اعلاه بعض أشكال الاحترام ؟

## 6- ناقش أفراد مجموعتي في الجملة المجاورة ؟

المواطن الصالح هو الذي يحترم الآخرين ويؤدي واجباته تجاه وطنه

## 7- اعدد مظاهر الاحترام في البيت في المدرسة في المجتمع ؟

## 1- في البيت

- احترم والدي .
- ألتزم بما يطلبانه .
- أعطف على الصغير واحترم الكبير .

## 2- في المدرسة

- احترم العاملين جميعهم في مدرستي .
- أحافظ على البيئة المدرسية .
- أحترم الطلبة ، وأعاملهم بالطريقة التي أحب ان اعامل بها .

## 3- في المجتمع

- أتعامل مع الجميع بكل لطف ومودة
- احترم عادات وتقاليد مجتمعي .
- أقدر العاملين في المهن المختلفة ، وأحترم أدوارهم .

## 8- التصنيف : لون البطاقات التي (تعبّر) عن الاحترام باللون الأخضر والتي (لا تعبّر) عن الاحترام باللون الاحمر .

ارفع صوتي لأثبت رأيي امام الجميع

اختر المعلم أحد الطلبة ، ليلقي كلمة في احتفال المدرسة ولم يخترني أنا فهنأت زميلي

الترم بمواعيد الدوام في مدرستي ، واصل في الوقت المحدد

سخر احد الطلبة من زملانه وتندر عليه

## 9- ابدى رأيي في الجملة الآتية " احترم تحترم " .....

## 10- أفسر كيف اظهر احترامي للبيئة .....

1- اوضح المقصود بـ ( الحقيقة ) ؟

هي معلومات أو أحداث ثابتة لا تتغير ، جرى اثبات صحتها والتأكد من دقتها بالعلم .

1- اوضح المقصود بـ ( الرأي ) ؟

يعبر عما يفكر به الشخص أو يشعر به تجاه موضوع ما ، وقد يكون صحيحا أو غير صحيح وقد يختلف من شخص الى آخر.

2- أذكر مثلا على الحقيقة ؟

- حقيقة دوران الارض حول الشمس

2- أذكر مثلا على الرأي ؟ الاعتقاد بأن العيش في

الريف أجمل من العيش في المدينة ، أجمل الألوان الأمور المحببة أو المفضلة .

3- مثبتة علميا . لا يختلف عليها أحد هي؟

الحقيقة

3- نختلف عليه حسب شعورنا وفكرنا وخبراتنا ونستعمل كلمات مثل أحب ، أفضل ، أرى ، أظن - هو؟

الرأي

4- تأمل الصورة الآتية جيدا ، ثم ناقش أفراد مجموعتي في الأسئلة المرفقة .



- ◀ ما أجمل ما في الصورة؟
- ◀ أين تعيش الأسماك؟
- ◀ ما طعم مياه البحر؟
- ◀ ما الاجابات التي تشابهت بيني وبين زملائي؟ ولماذا؟
- ◀ ما الاجابات التي اختلفت بها مع زملائي؟ ولماذا؟
- ◀ عندما تتشابه اجابتنا ، في الأمور المثبت صحتها نستطيع القول ان هذه ..... لا نختلف فيها .
- ◀ أما عند اختلاف اجابتنا وتعددنا ، فعندها نقول ان هذه ..... لانها تختلف حسب وجهة نظرنا اليها .

5- التصنيف : أصنف ما يأتي الى

حقائق

أو

آراء :



البحر الميت أخفض بقعة عن مستوى سطح البحر.

حقيقة



يعيش الجمل في الصحراء.

حقيقة



فضل الشتاء أجمل فصول السنة.

رأي



الشمس أكبر من الأرض.

حقيقة



العلم الإلكتروني أكثر شغاً من العلم التقليدي.

رأي



لعبة كرة القدم لعبة للبنين فقط.

رأي



قيادة الدراجة أصعب من قيادة السيارة.

رأي

6- التفكير الناقد : كل معلومة أسمعها أو أفروها ، قد تكون صادقة أو غير صادقة . كيف أتأكد من ذلك ؟

7- العمل الجماعي : أتعاون مع مجموعتي على كتابة جمل تعبر عن حقائق ، وأخرى تعبر عن آراء .....

حقائق	آراء
.....	.....

1- أعرّف المقصود بـ ( الحقوق ) ؟ هي التي يتمتع بها كل إنسان بوصفه إنساناً ، دون تمييز أو تفرقة بسبب اللون أو الجنس أو العرق أو الدين أو اللغة .

2- ( نعم / لا ) أقر الدستور الأردني حقوق الإنسان كما جاءت في الإعلان العالمي لحقوق الإنسان \_ الجواب \_ نعم

3- أعدد حقوق الإنسان ؟

الحق في التعليم

الحق في الرعاية

حرية التعبير والرأي

المساواة وعدم التمييز

الحق في الحياة

4- أي الحقوق له الأولوية بالنسبة الي ؟ ولماذا ؟ .....

5- ناقش ماذا لو لم يكن لي حقوق في البلد الذي اعيش فيه ؟ .....

ينتمتع الانسان بحقوقه كاملة ، ويجب عدم انتهاكها أو الاعتداء عليها ، لذا :

- عند عدم احترام أي حق من حقوق ، فأنتي .....
- عند عدم احترام أي حق من حقوق زملائي / زميلاتي ، فأنتي .....

## الواجبات

1- أعرّف المقصود بـ ( الواجبات ) ؟ هي التزام أخلاقي نلتزم به تجاه الآخرين .

2- من الواجبات المفروضة علينا ؟

المشاركة في الاعمال المنزلية

الاحترام المتبادل

بر الوالدين

- الواجبات تجاه الاسرة :

احترام النظام المدرسي ، والالتزام بالتعليمات

احترام المعلمين والمعلمات والعاملين فيها

الحفاظ على نظافة المدرسة ومرافقها

- الواجبات تجاه المدرسة :

الحفاظ على ممتلكات الوطن وأثاره

احترام عادات المجتمع وتقاليده

الالتزام بالأنظمة والقوانين

- الواجبات تجاه الوطن :

3- نشاط : أصنف المواقف الآتية الى \_ هل هي واجبات تجاه الوطن أم الاسرة أم المدرسة ثم اكتبها في الفراغ .

- ساعدت نجوى أختها على انشاء عرض تقديمي ، باستعمال أحد التطبيقات الالكترونية .....
- ذهبنا مع المدرسة في رحلة الى آثار جرش ، وجمعنا النفايات الملقاة على الارض .....
- شاركت هديل في مبادرة لتزيين المدرسة ، احتفالاً بعيد الاستقلال .....
- أسهمت في مبادرة حملة الشتاء الخيرية التي تقيمها المدرسة .....
- شارك محمود زملاؤه في تنظيم اليوم الطبي المجاني ، الذي أقيم في مدرسته .....

## المسؤوليات

1- أعرّف المقصود بـ ( المسؤوليات ) ؟ مهام تختص بكل منا ، يجب علينا انجازها على أكمل وجه .

2- من مسؤوليات الأسرة تجاه أبنائها ؟

• اكمل الجمل الآتية بالمسؤولية التي احتملها ، كما في

المثال :

المسؤولية

العبارة

- عندما استعير كتاباً من المكتبة ، - أحافظ عليه وأعيده

- عندما تقرر القوانين ، -

- عندما انتهى من طعامي ، -

- عندما أخرج في رحلة الى المتنزه -

- عندما استعمل الجهاز اللوحي التابلت -



3- من مسؤوليات تجاه نفسي ؟ اهتم بصحة اسناني / أراجع دروسي وأحل واجباتي / أحافظ على نظافة جسدي وملابسي .

## المشاركة المجتمعية

1- اوضح المقصود بـ ( المشاركة المجتمعية ) ؟ هي اسهامات الأفراد الايجابية والتطوعية في مجتمعهم ، عبر تنفيذهم أنشطة ومبادرات لخدمة مجتمعهم وتنمية تكافله وتعزيزه .

2- ابين أهمية المشاركة المجتمعية ؟

## اهمية المشاركة

اكتساب المهارات والخبرات

تحقيق التكافل بين أفراد المجتمع

تعزيز الثقة بالنفس ، وتحمل المسؤولية عند الافراد

تعزيز الانتماء للوطن

3- للمشاركة المجتمعية عدة مجالات تتمثل في ما يأتي :



**المجال الاعلامي**  
المشاركة الفاعلة في وسائل التواصل والاتصال ، كاستعمال منصات التواصل الاجتماعي ، للتعريف بوطني وانجازاته ، والتعبير عن الرأي

**المجال البيئي**  
المشاركة في حملات التوعية البيئية وترشيد الاستهلاك

**المجال الصحي**  
المشاركة في التوعية الصحية عن الامراض ، واتباع اجراءات الوقاية ، والمشاركة في حملات التبرع بالدم

**المجال الثقافي**  
المشاركة في مبادرات الحفاظ على اللغة العربية وزيارة معارض الكتب وتشجيع القراءة ومحو الامية

**المجال الاجتماعي**  
المشاركة في المناسبات الوطنية والدينية والاجتماعية ومبادرات المحافظة على التراث

## العمل التطوعي

1- اوضح المقصود بـ ( العمل التطوعي ) ؟ هو العمل او الجهد الذي يقدم دون مقابل ، بدافع اخلاقي تجاه الوطن والمجتمع .

2- اعدد ايجابيات العمل التطوعي ؟

## ايجابيات العمل التطوعي

تعزيز مهارات الفرد القيادية واثراء خبراته

نشر الخير في المجتمع

تأكيد الثقة بالنفس

اشاعة روح التعاون بين أفراد المجتمع



قيم العمل التطوعي

3- السبب والنتيجة **السبب** : أشرك في الاعمال التطوعية في مدرستي **النتيجة** : .....

4- أعدد قيم العمل التطوعي ؟ ( انتماء ، تعاون ، محبة ، عطاء ، مشاركة ) أفسر العلاقة بين هذه القيم وبين العمل التطوعي .....

5- أذكر صور ومظاهر للعمل التطوعي الذي يمكن القيام به ؟



المشاركة في حملات المحافظة على نظافة الحدائق والمرافق العامة



التعاون مع زملائي / زميلاتي على تزيين مدرستي وتجميلها



التطوع في أعمال الإغاثة والإنعاش لمساعدة الناس عند الطوارئ كالحروب أو الزلازل.



التطوع في مبادرات وطنية تدعم الشباب، وتطور مهاراتهم.



تقديم المساعدة للطلبة ذوي الإعاقة، إذا طلبوا المساعدة.

المشاركة في حملات المحافظة على نظافة الحدائق والمرافق العامة

التعاون مع زملائي / زميلاتي المشاركة في حملات التزيين المدرسي وتجميلها .

التطوع في أعمال الإغاثة والاسعاف لمساعدة الناس عند الطوارئ كالحروب أو الزلازل

التطوع في مبادرات وطنية تدعم الشباب وتطور مهاراتهم .

تقديم المساعدة للطلبة ذوي الإعاقة إذا طلبوا المساعدة .



1 يتكون الكون من عدد كبير من ؟ النجوم

2- يدور حولها عدد كبير من الكواكب ومنها كوكب الارض ؟ نجم الشمس

3- ما المقصود بـ ( المجموعة الشمسية ) ؟ هي النظام الذي يتكون من نجم الشمس أكبر الاجرام السماوية ، وتدور حوله ثمانية كواكب معتمة تستمد الضوء من الشمس ، ومن ضمنها كوكب الارض .

4- **عدد كواكب المجموعة الشمسية** ؟ 8 كواكب

5- جسم مضيء بذاته ، درجة حرارته مرتفعة جدا ؟



6- جسم معتم يستمد الضوء والطاقة من النجم؟

7- تستمد الضوء والطاقة من الشمس ، وهي الكوكب الوحيد الذي تعيش عليه الكائنات الحية هي ؟ الارض

8- يدور حول الارض ، ويستمد الضوء والحرارة من الشمس ، ويتغير شكله على مدار الشهر حسب موقعه من

الارض هو ؟



9- الجرم السماوي الوحيد الذي هبط عليه الانسان بأقدامه هو ؟

10- **الشبه والاختلاف** : ما اوجه الشبه والاختلاف بين الأرض والقمر؟

**الاختلاف** : الارض : تدور حول الشمس  
**الشبه** : الارض : تستمد الحرارة والضوء ومن الشمس  
القمر : يستمد الحرارة والضوء من الشمس

**القمر** : يدور حول الأرض



أتأمل الشكل وأقرأ البطاقات المرافقة ، ثم اجيب عن الاسئلة التي تليه:

- ما اقرب الكواكب الى الشمس ؟ عطارد
- ما أبعد الكواكب عن الشمس ؟ نبتون
- ما ترتيب كوكبنا الارض بالنسبة الى الشمس ؟ الثالث
- ما الذي يميز كوكب زحل ؟ تحيط به حلقات
- أكبر كواكب المجموعة الشمسية حجماً ؟ المشتري
- تدور حوله ثمانية كواكب وهو ثابت ، ودرجة حرارته مرتفعة ويعطي الحرارة والضوء الى الكواكب التي تدور حوله ؟ نجم الشمس
- **أذكر كواكب المجموعة الشمسية** ؟ عطارد ، الارض ، المريخ ، الزهرة ، المشتري ، زحل ، اورانوس ، نبتون .
- 11- **السبب والنتيجة** : **السبب** : حسب موقعه من الأرض. **النتيجة** : تغير شكل القمر على مدار الشهر .

- **التفكير الناقد** : ماذا سيحدث اذا اقتربت الأرض من الشمس ؟ .....
- حجم الشمس يعادل أضعاف حجم الأرض ، فلماذا نراها صغيرة ؟ .....
- هل استطيع العيش على كوكب زحل ؟ لماذا ؟ .....



س1 للأرض حركتان ، أذكرهما ؟ الحركة اليومية ، الحركة السنوية

### الحركة اليومية

1 ما هي الحركة اليومية للأرض ؟

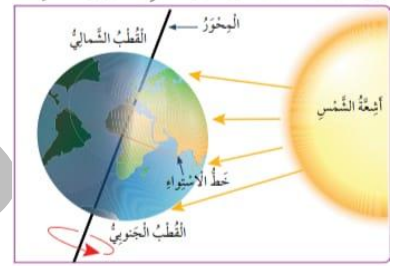
دوران الأرض حول محورها (نفسها) بعكس عقارب الساعة .

2- مدة دوران الأرض حول نفسها؟

تنتهي دورتها في أربع وعشرين ساعة ونطلق عليها اليوم الكامل

3- ماذا ينتج عن دوران الأرض حول نفسها ؟

حدوث الليل والنهار ، وهذا يؤدي إلى اختلاف التوقيت بين مناطق العالم



### الحركة السنوية

1- ما هي الحركة السنوية للأرض ؟

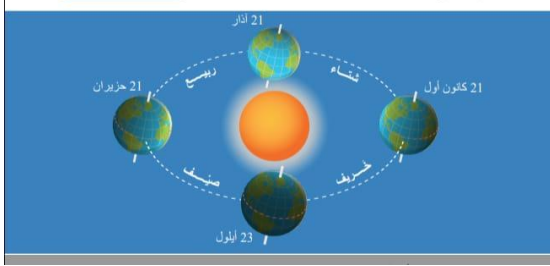
دوران الأرض حول الشمس

2- مدة دوران الأرض حول الشمس ( الحركة السنوية )؟

تدور الأرض حول الشمس مرة كل (365) يوماً و(6) ساعات

3- ماذا ينتج عن الحركة السنوية للأرض؟

تعاقد الفصول الأربعة ، وهي : الشتاء والربيع والصيف والخريف



4- من الشكل السابق ، أكمل بالتعاون مع زملائي /

زميلاتي بيانات الجدول الآتي ؟

بداية فصل الشتاء : 21 كانون الأول  
بداية فصل الربيع : 21 آذار  
بداية فصل الصيف : 21 حزيران  
بداية فصل الخريف : 23 أيلول

4- احدد على الشكل السابق الأجزاء التي تكون نهاراً

والأجزاء التي تكون ليلاً ؟

- يكون النهار في الجهة المقابلة للشمس  
- يكون الليل في الجهة الأخرى

س2- السبب والنتيجة \_ السبب: دوران الأرض حول الشمس النتيجة : حدوث الفصول الأربعة

س3- اعدد الفصول الأربعة ؟

1 فصل الربيع يمتاز الربيع باعتدال الحرارة ، وهو فصل النمو وتفتح الأزهار ، ويبدأ في الحادي والعشرين من آذار من كل عام ، حيث يتساوى طول الليل والنهار في ذلك اليوم .

2 فصل الصيف يمتاز الصيف بدرجات الحرارة المرتفعة ، وتبدأ فيه مواسم الحصاد ، وجني الثمار الناضجة ، ويبدأ في الحادي والعشرين من حزيران من كل عام

3 فصل الخريف تبدأ درجات الحرارة في الخريف بالانخفاض ، وتفقد معظم النباتات أوراقها وتتحول إلى اللون الأصفر ، يبدأ في الثالث والعشرين من أيلول من كل عام ، وهو يوم يتساوى فيه طول الليل والنهار

4 فصل الشتاء يتصف فصل الشتاء بانخفاض درجات الحرارة ، وتتساقط فيه الأمطار والثلوج في بعض المناطق ، ويبدأ في الحادي والعشرين من كانون الأول من كل عام .

س4- عدد أيام السنة العادية ؟ ( 365 ) يوماً و ( 6 ) ساعات

س5- عدد أيام السنة الكبيسة؟ (366) يوماً- السنة الكبيسة يضاف لها يوم واحد كل أربع سنوات في التقويم الميلادي

س5- أبين الشبه والاختلاف بين فصلي الشتاء والصيف

الشبه : يحدث فصلي الصيف والشتاء نتيجة الحركة السنوية للأرض  
الاختلاف : الشتاء : يتصف بانخفاض درجات الحرارة ، وتتساقط فيه الأمطار والثلوج

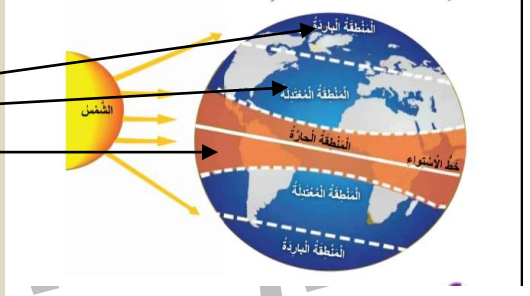
الصيف : يمتاز بدرجات الحرارة المرتفعة ، وتبدأ فيه مواسم الحصاد ، وجني الثمار الناضجة

التفكير الناقد :

- ماذا سيحدث إذا توقفت الأرض عن الدوران ؟.....
- ماذا سيحدث لو أن اليوم كله نهار ؟.....
- ما أثر الفصول الأربعة في الإنتاج الزراعي ؟.....


- 1\_ هل تتوزع اشعة الشمس بصورة متساوية على سطح الأرض ؟ **الجواب لا**
- 2- لماذا تختلف كمية الاشعاع الشمسي الذي يصل الى الأرض ؟ **بسبب شكل الأرض**
- 3- المناطق التي تسقط عليها اشعة الشمس بصورة عمودية تكون ؟؟؟ **حارة**
- 4- المناطق التي تسقط عليها اشعة الشمس بصورة مائلة شمالا وجنوبا تكون ؟؟؟ **أقل حرارة**
- 5- أعدد المناطق الحرارية الرئيسة على سطح الأرض ؟

- 1- المنطقة الباردة
- 2- المنطقة المعتدلة
- 3- المنطقة الحارة



- 6- ما النتائج المترتبة على تنوع المناطق الحرارية على سطح الأرض ؟ أدى الى تنوع الانتاج الزراعي ، وتنوع النباتات الطبيعية والحيوانات على سطح الأرض .
  - 7- خط وهمي يقسم الكرة الارضية الى قسمين شمالي وجنوبي - هو ؟ **خط الاستواء**
  - 8- بماذا تمتاز المناطق المجاورة لخط الاستواء ؟ **تمتاز بارتفاع درجة الحرارة وتساقط الامطار الغزيرة طوال العام .**
  - 9- أبين أوجه الشبه والاختلاف بين المنطقة الحارة ذات الأمطار الغزيرة والمنطقة الحارة الجافة .
- | الاختلاف              | الشبه          | الاختلاف                           |
|-----------------------|----------------|------------------------------------|
| المنطقة الحارة الجافة | ارتفاع الحرارة | المنطقة الحارة ذات الامطار الغزيرة |
| قليلة الأمطار         |                | غزارة الامطار                      |
- 10- أعرف المقصود بالمنطقة الحرارية ؟ **منطقة ناتجة عن اختلاف كمية الاشعاع الشمسي التي تصل الى سطح الأرض.**

أنظر الى الأشكال الآتية ، التي تظهر التنوع في النمط النباتي والحيواني تبعاً لاختلاف الأمطار والمناطق الحرارية التي تنتمي إليها .



- التفكير الناقد**
- أوضح أثر تنوع المناطق الحرارية في الانتاج الزراعي .....
  - هل يمكن للدب القطبي العيش في البيئة الحارة الجافة ؟ لماذا ؟ .....
  - كيف يؤثر تنوع المناطق الحرارية في النشاط البشري ؟ .....

1 اوضح المقصود بالخريطة ؟ رسم مصغر لسطح الأرض أو لجزء منه ، ويمكن أن يكون هذا الرسم لإحدى الظواهر الطبيعية أو البشرية أو لثلاثتين معا ، باستعمال رموز والوان لتمثيل تلك الظواهر .

2- أبين أهمية الخرائط في حياتنا اليومية ؟ تساعدنا على تحديد المواقع والاتجاهات ، وتحديد المسافات بين الظواهر ، ومعرفة التضاريس والظواهر الجغرافية والطبيعية والبشرية ، وتساعدنا على تسهيل الملاحة الجوية والبحرية .

3- عالم عربي مسلم ، يعد مؤسس علم الجغرافيا الحديث . رسم أول خريطة للكرة الأرضية في العالم\_ هو؟  
الادريسي

4- ما شكل الخريطة التي رسمها الادريسي للكرة الأرضية ؟ شكل كروي \_ ليوضح أن الأرض كروية الشكل

5- نستطيع عن طريقها قراءة الخريطة وفهم معناها\_ هي ؟ عناصر الخريطة

6- أبين عناصر الخريطة ؟

1- أطار الخريطة

يحيط بالخريطة من الخارج ويحدد المنطقة الجغرافية التي تمثلها الخريطة

2- عنوان الخريطة

يبين محتوى الخريطة ويدل على الفكرة الرئيسية منها.

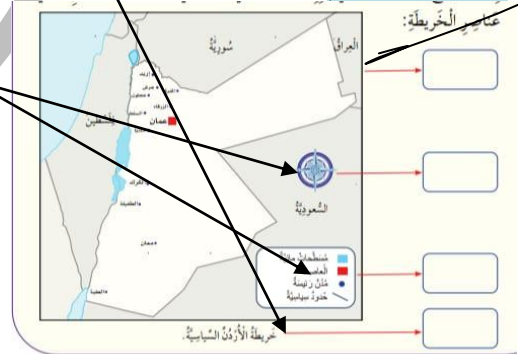
3- مفتاح الخريطة

شكل هندسي يوضع في احد جوانب الخريطة، وتكمن مهمته الرئيسية في توضيح ما تعنيه هذه الألوان والرموز.

4- مؤشر الاتجاهات

شكل يبين الاتجاهات الاربعة على الخريطة

5- مقياس الرسم



7- اعدد الدول التي لها حدود مشتركة مع الاردن ؟ فلسطين وسوريا والعراق والسعودية .

8- بالاستعانة بمفتاح الخريطة اجيب عن الاسئلة الاتية :

- ◀ ما دلالة الخطوط الحمراء ؟ .....
- ◀ ما دلالة النقاط السوداء ؟ .....
- ◀ ما دلالة المربع ؟ .....



9- تسمى الاتجاهات التي تقع بين الاتجاهات الرئيسية ؟ الاتجاهات الفرعية

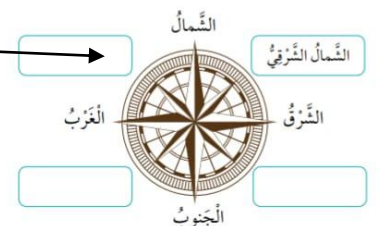
10 - استنتج أهمية الاتجاهات الفرعية ؟ تحدد المواقع بدقة أكبر

11- البوصلة\_ هي ؟ أداة تستعمل لتحديد الاتجاهات بالاعتماد على القطبين

المغناطيسيين للأرض .

12- ماذا سيحدث لو رسمت الخريطة من دون مفتاح الخريطة ؟ .....

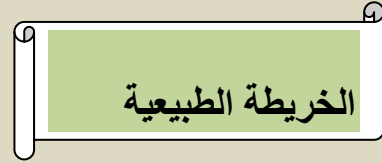
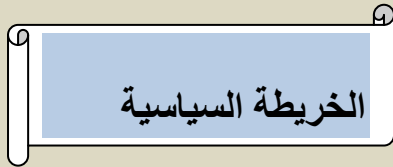
نشاط تحديد الاتجاهات الفرعية





س1 الاطلس ؟ هو كتاب يحتوي على مجموعة خرائط جغرافية عن الأرض أو منطقة محددة من الأرض مرتبطة بموضوع محدد .

س2\_ أبين أنواع الخرائط ؟ 1- الخريطة الطبيعية 2- الخريطة السياسية



1\_ ما المقصود بالخريطة السياسية ؟  
خريطة تمثل الدول والحدود المرسومة بينها.

1\_ ما المقصود بالخريطة الطبيعية ؟  
خريطة تمثل الظواهر الطبيعية كالجبال والسهول والهضاب والأنهار وغيرها .

2- ما هي الحدود ؟  
خطوط وهمية ، تفصل بين الدول على الخريطة.

2\_ ما أهم ما يميز الخريطة الطبيعية ؟  
استعمال الألوان .

3\_ ما دلالة الألوان التالية في الخريطة الطبيعية؟

- البني : يدل على المرتفعات الجبلية .
- الأصفر : يدل على الهضاب .
- الأخضر : يدل على المناطق السهلية .
- الأزرق : يدل على المسطحات المائية .



خريطة الأردن السياسية



خريطة الأردن الطبيعية

س3- الشبه والاختلاف ما أوجه الشبه والاختلاف بين الخريطة الطبيعية والخريطة السياسية .

الشبه : تتشابه في وجود عناصر الخريطة

الاختلاف : الخريطة الطبيعية: تمثل الظواهر الطبيعية  
الخريطة السياسية : تمثل الدول والحدود

س4- أفسر سبب استعمال الألوان في الخرائط الطبيعية ؟ لتدل على الظواهر الطبيعية كالجبال والهضاب والسهول .  
س5- استنتج أهمية تنوع الخرائط ؟ .....

1- أعرّف المقصود بـ ( بلاد الشام ) ؟ منطقة تشتمل على اربعة دول هي ( الأردن وسورية ولبنان وفلسطين ).

2- أعدد دول بلاد الشام ؟ الأردن ، سورية ، لبنان ، فلسطين .

3- اين تقع بلاد الشام والعراق ؟ في غرب قارة آسيا ، في موقع متوسط بين قارات العالم القديم .

4- ما هي قارات العالم القديم ؟ ( آسيا و افريقيا و أوروبا ) .

### 1- المملكة الاردنية الهاشمية :

- اين يقع وطني الاردن ؟ جنوب بلاد الشام .
- عاصمة وطني الأردن هي مدينة ؟ عمان
- قامت على ارض وطني العديد من الحضارات القديمة منها ؟ العمونية والمؤابية والمملكة النبطية.



### 2- دولة فلسطين :

- ◆ اين تقع فلسطين الحبيبة ؟ تقع غرب بلاد الشام وتشرف على البحر المتوسط
- ◆ عاصمة فلسطين هي مدينة ؟ القدس
- ◆ من اهم الحضارات التي قامت على ارض فلسطين ؟ الحضارة الكنعانية



### 3- الجمهورية العربية السورية :

- اين تقع سورية ؟ شمال بلاد الشام
- عاصمة سورية هي مدينة ؟ دمشق
- من الحضارات التي قامت في سورية ؟ حضارة (أوغاريت) والحضارة الآرامية



### 4-الجمهورية اللبنانية :

- ◀ اين تقع لبنان ؟ غرب بلاد الشام الى الشمال من فلسطين
- ◀ عاصمة لبنان هي مدينة ؟ بيروت
- ◀ قامت على أرض لبنان العديد من الحضارات منها ؟ الحضارة الفينيقية



### 5-الجمهورية العراقية :

- اين تقع العراق ؟ شرق بلاد الشام
- عاصمة العراق هي مدينة ؟ بغداد
- من الحضارات القديمة التي قامت على ارض العراق ؟ الحضارة البابلية والحضارة الآشورية



5- السبب والنتيجة : السبب : الموقع المتميز النتيجة : قيام الحضارات القديمة في الاردن

التفكير الناقد : • ما أهمية وجود خليج العقبة للأردن ؟  
• لماذا سميت قارات آسيا وافريقيا وأوروبا باسم قارات العالم القديم ؟

-أنظر الى الشكل الآتي ، ثم أجب عن الأسئلة التي تليه :

- « ما الدول التي تحد الاردن من جهة الشرق ؟
- « ما المسطح المائي الذي يحده لبنان من جهة الغرب ؟
- « ما الدول التي تحد العراق من جهة الجنوب ؟
- « أعدد موقع مصر بالنسبة الى فلسطين ؟



- 1- اين تقع شبه الجزيرة العربية؟ في الجزء الجنوبي الغربي من قارة آسيا، وتتكون من سبع دول. **تشتهر بانتاج النفط**
- 2- أعدد الدول المكونة لشبه الجزيرة العربية؟ **السعودية ، والامارات ، وقطر ، والبحرين ، واليمن ، والكويت ، وعمان**
- 3- استنتج سبب تسمية شبه الجزيرة العربية هذا الاسم؟ **لأن المياه تحيط بها من ثلاث جهات .**

- 4- ما الفرق بين الجزيرة و شبه الجزيرة ؟ الجزيرة : تحيط بها المياه من الجهات الأربع .  
شبه الجزيرة : تحيط بها المياه من ثلاث جهات .

### المملكة العربية السعودية :

- « الدولة التي تحتل المساحة الاكبر من شبه الجزيرة العربية ؟ السعودية »  
« عاصمة المملكة السعودية مدينة ؟ **الرياض** . »  
« من أشهر مدن السعودية ؟ مكة المكرمة ، المدينة المنورة ، وجدة . »  
« المملكة التي امتدت الى شمال شبه الجزيرة العربية ( السعودية ) هي المملكة النبطية »  
« من اهم معالم المملكة النبطية في السعودية ؟ مدائن صالح »



### الجمهورية اليمنية:

- اين تقع الجمهورية اليمنية ؟ تقع جنوب شبه الجزيرة العربية .  
■ عاصمة الجمهورية اليمنية ؟ مدينة **صنعا**  
■ من الحضارات القديمة التي قامت على اليمن ؟ حمير وسبأ ، وقد سيطرت على طرق التجارة بين الهند وبلاد الشام



### سلطنة عمان :

- ◀◀ اين تقع سلطنة عمان ؟ تقع الى الجنوب والجنوب الشرقي من شبه الجزيرة العربية  
◀◀ عاصمة عمان مدينة ؟ **مسقط**  
◀◀ من اشهر الحضارات التي قامت على أرض عمان ؟ مجان



### دولة الامارات العربية المتحدة :

- ◆ اين تقع دولة الامارات ؟ تقع الى الشرق من شبه الجزيرة العربية  
◆ عاصمة الامارات العربية المتحدة مدينة ؟ **أبو ظبي**  
◆ من اشهر حضارات الامارات العربية ؟ حضارة أم النار ، التي سميت نسبة الى جزيرة النار



### دولة قطر :

- اين تقع دولة قطر ؟ تقع شرق شبه الجزيرة العربية .  
○ عاصمة قطر مدينة ؟ **الدوحة**  
○ قامت قطر بدور تجاري مهم وارتبطت بعلاقات مع حضارة ؟ دلمون ومجان وبابل .  
○ من اهم المعالم الأثرية في دولة قطر ؟ موقع عسيلة



### مملكة البحرين:

- اين تقع البحرين ؟ البحرين **جزيرة** في الخليج العربي ، تقع الى الشرق من شبه الجزيرة .  
● عاصمة مملكة البحرين مدينة ؟ **المنامة**  
● من اشهر الحضارات التي أقيمت على أرض البحرين ؟ حضارة دلمون



### دولة الكويت :

- «« اين تقع دولة الكويت ؟ في الشمال الشرقي من شبه الجزيرة العربية .  
«« عاصمة الكويت مدينة ؟ **الكويت**  
«« من اشهر الحضارات التي قامت على أرض الكويت ؟ فيلكا





## ملحق امتحانات القصيرة

درس 1 (بناء الشخصية) أ-أصنف العوامل الآتية الى عوامل وراثية او مكتسبة  
- لون العيون - اكتساب اللغة - طول القامة - تحمل المسؤولية  
أضع المصطلح المناسب في الفراغ ؟  
- صفات لا تورث من الأبوين بل بالتدريب والتعلم وتنشأ نتيجة الخبرات .....

## درس 2 (الحوار)

1-تبادل الحديث والتقاش بين شخصين او أكثر حول موضوع معين هو .....  
2- من فوائد الحوار ..... و .....  
3- من أسس الحوار و أدابه .....و.....

## درس 3 (الاحترام)

1-.....خلق انساني يعبر عن تقديرك لذاتك .  
2-.....خلق يدعو الى تقدير قيمة الآخرين بأظهار الاهتمام بهم ، وعدم الاساءة اليهم .  
3- من اشكال الاحترام ..... و .....  
4- من مظاهر الاحترام في البيت .....المدرسة..... المجتمع .....

## درس 4 (الحقيقة والرأي)

1-.....مثبتة علميا لا يختلف عليها أحد .  
2-.....يعبر عما يفكر به الشخص أو يشعر به .  
3-.....معلومات أو احداث ثابتة لا تتغير .  
4-.....نختلف عليه حسب شعورنا وفكرنا وخبراتنا .  
5-.....فصل الربيع أجمل الفصول  
6-.....مدينة المنامة عاصمة البحرين

## درس 5 (الحقوق والواجبات والمسؤوليات)

أضع المفهوم المناسب في الفراغ .  
1.....مجموعة من الحقوق التي يتمتع بها كل انسان بوصفه انسان .  
2-.....التزام اخلاقي نلتزم به تجاه الآخرين .  
3-.....مهام تختص بكل منا يجب علينا انجازها على أكمل وجه .

## درس 6 (المشاركة المجتمعية والعمل التطوعي)

أكمل الفراغ بما هو مناسب .  
1.....اسهامات الافراد الايجابية والتطوعية في مجتمعهم.  
2-.....العمل او الجهد الذي يقدم دون مقابل بدافع اخلاقي  
أصنف الاعمال الآتية حسب مجال المشاركة المجتمعية : الثقافي ، البيئي ، الاجتماعي ، الصحي . الاعلامي .  
( مبادرة لثرتي ) ( طلاء ارضفة الحي ) ( التبرع بالدم )  
( المشاركة في المناسبات الدينية ) ( المشاركة الفاعلة في وسائل التواصل والاتصال )

## درس 7 (المجموعة الشمسية) - اجيب بـ (نعم) او (لا)

1- ( ) الكوكب جسم مضيء بذاته درجة حرارته مرتفعة . 3- ( ) نبتون اقرب الكواكب الى الشمس .  
2- ( ) الارض الكوكب الثالث بعد الشمس . 4- ( ) تدور حول نجم الشمس ثمانية كواكب .  
أضع دائرة حول رمز الاجابة الصحيحة .

1 اقرب الكواكب الى الشمس ؟ أ- زحل ب- عطارد ج- المشتري  
2- اكبر كواكب المجموعة الشمسية ؟ أ- الزهرة ب- الارض ج- المشتري  
3- يدور حول الارض ويستمد الضوء والحرارة من الشمس ؟ أ- النجم ب- المريخ ج القمر  
4- تدور الارض حول ؟ أ- الشمس ب- القمر ج - المشتري  
5- أكبر كواكب المجموعة الشمسية حجما ؟ المريخ ب- زحل ج- المشتري

درس 8 (حركة الأرض) اجب ب نعم او لا

- 1- الحركة اليومية للأرض هي دوران الأرض حول الشمس ( )
- 2- دوران الأرض حول محورها يسمى الحركة اليومية ( )
- 3- ينتج عن دوران الأرض حول الشمس تعاقب الفصول الأربعة ( )
- 4- تنهي الأرض دورتها في 48 ساعة يومين كاملين ( )
- 5- السنة التي يضاف لها يوم كل أربع سنوات لتصبح 366 يوماً هي السنة الكبيسة ( )

درس 9 (المناطق الحرارية) أ- اجب ب نعم او لا

- 1- تتوزع أشعة الشمس بصورة متساوية على سطح الأرض ( )
- 2- المناطق التي تسقط عليها أشعة الشمس بصورة عمودية تكون حارة ( )
- ب- اعد المناطق الحرارية الرئيسية في العالم 1.....2.....3.....

درس 10- (الخريطة وعناصرها)

- 1- عالم عربي مسلم رسم أول خريطة للكرة الأرضية هو .....
- 2- احد عناصر الخريطة يحيط بالخريطة من الخارج ويحدد المنطقة الجغرافية التي تمثلها الخريطة .....
- 3- يبين محتوى الخريطة ويدل على الفكرة الرئيسية منها .....
- 4- شكل هندسي يوضع في أحد جوانب الخريطة .....
- 5- شكل يبين الاتجاهات الأربعة على الخريطة .....
- 6- اداة تستخدم لتحديد الاتجاهات .....

درس 11- (انواع الخرائط) أ- اضع المفهوم المناسب ؟

- 1\_ تمثل الظواهر الطبيعية كالجبال والسهول والهضاب والأنهار وغيرها .....
- 2- تمثل الدول والحدود المرسومة بينها .....
- ب- على ماذا تدل كل من الألوان الآتية في الخريطة الطبيعية : البني.....الأصفر.....الأخضر.....الازرق.....

درس 12 (بلاد الشام) اكمل الفراغ فيما يلي .

- 1- وحدة طبيعية تتكون من الدول الآتية فلسطين والاردن ولبنان وسورية . هي .....
- 2- قارات العالم القديم هي ..... و..... و.....
- 3- أذكر عواصم الدول التالية : العراق.....سورية.....الاردن.....فلسطين.....لبنان.....
- 4- أنا دولة من دول بلاد الشام وعاصمتي عمان وقامت على ارضي حضارة الانباط . فمن أنا .....
- 5- أنا دولة اقع شرق الاردن، وعاصمتي بغداد ، يمر في نهر دجلة والفرات . فمن أنا .....
- 6- أنا دولة احد الاردن شمالا وعاصمتي دمشق ، يمر في نهر الفرات فمن أنا .....
- 7- منفذ الاردن البحري الوحيد هو خليج .....

درس 13- (شبه الجزيرة العربية)

\*\* اضع دائرة حول رمز الاجابة الصحيحة فيما يلي ؟

- 1- تحيط بها المياه من الجهات الأربع هي ؟ أ- الجزيرة ب- شبه الجزيرة
- 2- تحيط بها المياه من ثلاث جهات هي ؟ أ- الجزيرة ب- شبه الجزيرة
- 3- من معالم الحضارة النبطية في شبه الجزيرة العربية أ- صيدا ب- مدائن صالح
- \*\*أكمل الفراغ فيما يلي .
- 4- تتكون شبه الجزيرة العربية من سبع دول هي ؟ ..... و..... و..... و..... و..... و..... و.....
- 5- أنا دولة أقع جنوب الاردن وعاصمتي الرياض . فمن أنا .....
- 6- أنا دولة في شبه الجزيرة العربية وعاصمتي المنامة . قامت على ارضي حضارة دلمون . فمن أنا .....