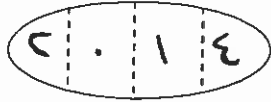
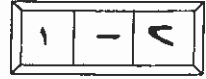


بِسْمِ اللَّهِ الرَّحْمَنِ الرَّحِيمِ



المملكة الأردنية الهاشمية
وزارة التربية والتعليم
إدارة الامتحانات والاختبارات
قسم الامتحانات العامة



امتحان شهادة الدراسة الثانوية العامة لعام ٢٠١٢ / الدورة الصيفية

(وثيقة محمية/محدود)

مدة الامتحان : ٣٠ : ١

اليوم والتاريخ : الاثنين ٢٠١٢/٧/٢

المبحث : الجغرافيا / المستوى الرابع
الفرع : الأدبي

ملحوظة : أجب عن الأسئلة الآتية جميعها وعددها (٥)، علماً بأن عدد الصفحات (٣).

السؤال الأول : (١٦ علامة)

عرف المفاهيم والمصطلحات الآتية :

- ١- الظهير. ٢- القناة. ٣- التركيب الجيولوجي. ٤- المياه الإقليمية.
٥- التغير المناخي. ٦- المناطق القارية. ٧- الطاقة النووية. ٨- بنك الجينات.

السؤال الثاني : (١٩ علامة)

(أ) اذكر :

موقع الإوائل

- ١- أربعة آثار سلبية للمساحة الصغيرة في قوة الدولة.
٢- أربعة من استخدامات الإنسان للأهوار.
٣- أربعة من آثار الكوارث الطبيعية الناجمة عن التغير المناخي.
(ب) يُعد مشروع مكافحة المتكاملة للآفات الزراعية في الأردن أحد برامج مكافحة المتكاملة. (٣ علامات)
- ما السنة التي أُطلق بها المشروع ؟
- اذكر هدف المشروع.
(ج) بيّن أربعاً من المشكلات التي تعاني منها غابات دبين. (٤ علامات)

السؤال الثالث : (١٨ علامة)

يتكوّن هذا السؤال من (٩) فقرات، لكل فقرة أربعة بدائل، واحد منها فقط صحيح. انقل إلي دفتر إجابتك رقم الفقرة ورمز الإجابة الصحيحة لها على الترتيب :

- ١- يُعدّ بُعد الدول الحبيسة عن مراكز التجارة الدولية من المشكلات :
أ - الاقتصادية ب - الاجتماعية ج - العسكرية د - الحضارية
٢- تشجيع روح الوطنية للدولة وشيوع الأمن والاستقرار الداخلي من الآثار الإيجابية لشكل الدولة :
أ - المجزأ ب - المستطيل ج - غير المنتظم د - المنتظم (المتراص)

يتبع الصفحة الثانية ...

الصفحة الثانية

٣- أطول حدود جبلية في العالم والتي تمتد بين دولتي تشيلي والأرجنتين هي سلاسل جبال :

أ - الهيماليا ب- الأنديز ج- الألب د - تيان شان

٤- الدولة التي يغلب عليها طابع تضاريسي هضبي من بين الآتية هي :

أ - إيران ب- أفغانستان ج- العراق د - الباكستان

٥- ترتفع الكثافة السكانية في دول جنوب وجنوب شرق آسيا بسبب :

أ - اعتدال الحرارة ب- توفر المعادن
ج- ارتفاع معدلات الأمطار د - انخفاض معدلات الأمطار

٦- دول استفادت من التطور العلمي وتغلّبت على ظروفها المناخية بتحلية مياه البحر من بين الآتية هي :

أ - بلاد الشام ب- شمال إفريقيا ج- شرق المتوسط د - الخليج العربي

٧- إزالة التربة على شكل طبقة رقيقة وبصورة متساوية على مساحة كبيرة من الأرض يُعدّ انجرافاً :

أ - قنويّاً ب- غشائياً ج- بالتناثر د - جزئياً

٨- واحدة من بين الآتية تُعدّ من أسباب تملح التربة في الأريون :

أ - انخفاض معدلات التبخر ب- الإدارة السليمة لمياه المزارع وغسل الأملاح
ج- استخدام تربة زراعية د - الإفراط في استخدام الأسمدة الكيماوية في الزراعة

٩- أول مؤتمر بيئي للأمم المتحدة كان في السويد عام ١٩٧٢م وعُقد في مدينة :

أ - نيروبي ب- استوكهولم ج- ريودي جانيرو د - جوهانسبرغ

السؤال الرابع : (١٤ علامة)

(٨ علامات)

أ) قارن بين تربة التندرا والتربة الفيضية من حيث :

- أهم مناطق انتشارها. - مدى خصوبتها.

(٦ علامات)

ب) كوّن تعميماً توضّح فيه العلاقة بين كلّ ممّا يأتي :

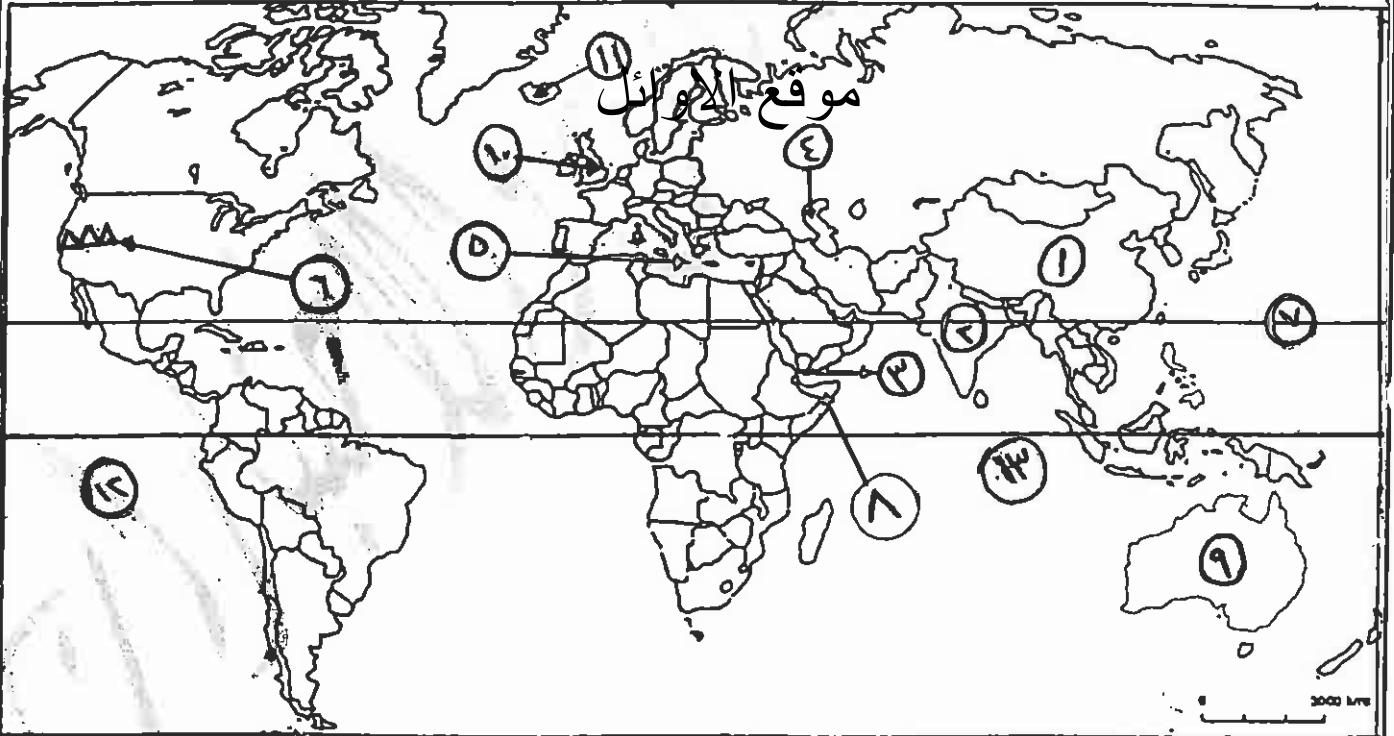
- الموقع بالنسبة لدوائر العرض ودرجة الحرارة.

- الرعي الجائر والتصحر.

السؤال الخامس : (١٣ علامة)

ادرس خريطة العالم أدناه، ثم اكتب في دفتر إجابتك ما تشير إليه الأرقام الآتية وعلى الترتيب :

- دول ذات كثافة سكانية مرتفعة (١ ، ٢) .
- مضيق (٣) .
- بحر مغلق (٤) .
- بحر مفتوح (٥) .
- سلسلة جبلية تؤثر في جفاف جنوب غرب الولايات المتحدة (٦) .
- دائرة عرض رئيسة (٧) .
- دولة عربية تعاني من الجفاف (٨) .
- دول ذات دخل مرتفع (٩ ، ١٠) .
- دولة معظم صادراتها من الأسماك (١١) .
- محيطات (١٢ ، ١٣) .



(انتهت الأسئلة)



بسم الله الرحمن الرحيم
امتحان شهادة الدراسة الثانوية العامة لعام ٢٠١٢ (الدورة الصيفية).

صفحة رقم (١)

وزارة التربية والتعليم
إدارة الامتحانات والاختبارات
قسم الامتحانات العامة
المبحث : الجغرافيا
الفرع : الجغرافيا

مدة الامتحان : ٣٠ د
التاريخ : ٢٠١٢ / ٧ / ٣

الإجابة النموذجية :

رقم الصفحة
في الكتاب

السؤال الأول : عرف المصطلحات الآتية ^{١٦} علامة

١٧١ ١ الظهير : يعرف الظهير بأنه أرفف من الجانب تقع خلف خط الساحل ^٢ علامة

١٨١ ٢ القناة : هي مائي اصطناعي يُصنع ^١ لتسهيل عمليات النقل وذلك يربط المسطحات المائية لبعضها البعض ^١

٢٠٦ ٣ التركيب الجيولوجي : طبيعة الصخور التي تتكون من منطقة ^١ والتي تصنف له ثلاث مجموعات صخرية ^١ صخرية ^١ صخرية ^١ صخرية ^١

٢٢٩ ٤ المياه الإقليمية : هي المساحة المائية ^١ الواقعة في الاوائل ^١ داخل الحدود المطلقة على البحار والمحيطات ^١ وتنفذها الدولة ضمن ملامتي ^١ وتسمى ^١ مياه تلك الدول ^١

٢٦٥ ٥ التعرّف المناخي : تعرّف بطرائق مكنيات الفترات الجوية ^١ وتقلب طبيعتها من فترات زمنية متتالية وتعدّ بمساحة ^١ ارضية مساحة الى الأربعة البرية ^١

٢٨٢ ٦ المناطقة القارية : المناطقة التي تقع داخل القارات بعيدة عن ^١ المسطحات المائية ^١ ومحدودة عن بعض بقاها ^١ وتتميز المناطقة القارية بارتفاع ^١ أقل أمطاراً من السواحل ^١ (بدل)

٣٢٦ ٧ الطاقة النورية : الطاقة الكاشفة في نوى ذرات اليورانيوم ^١ ويربط بين مكنيات النواة الذرية والذرية ^١ وهذه الطاقة عند حدوث التفاعل النووي تكون مرم (الطاقة) كحدودها طبيعية ^١ أو مكنيات مادة الفوسفور ^١ (بدل)

٢٤٦ ٨ تلك الكائنات : الحشرات ^١ التي تنتمي الى النوع الحيواني ^١ إذ تضمه هبة بدر ^١ الأنواع النباتية ^١ في حشرات ^١ كما في النوع الحيواني ^١

رقم الصفحة
في الكتاب

السؤال الثاني : - (١٩ علامه) اذكر :

١- اربعة آثار رئيسية للمياه العذبة في قوه الدوله : (٤ علامات)

٢- لا تستطيع الدول العذبة استيعاب المدد المتزايد من السكان (١)

٣- ينتج عن اضرار حاد من اقتصادها اذا لم تكن الى احدى

التوارث الطبيعيه بالزلازل والبراكين (٥)

٤- سهوله تقنين الحزم الاقتصادي على الدول العذبه المساعده (١)

٥- سهوله اجتناب حزم لغير ساعته (١)

٦- تستطيع الدول عذبه المساعده بالدول العذبه في حال

تمت منحه للهدوات الخارجيه (١) بديل .

٢ ٣٥ اربعة من استعمالات الانشآت للاسفلت (٤ علامات)

١- حصر همام المياه العذبه في العالم (١)

٢- تمثل مياه الانشآت المصدر الرئيس للزراعه المرويه (٥)

٣- تستخدم الانشآت في الملاعب (١)

٤- تستخدم مياه الانشآت في توليد الطاقه الكهربائيه خاصه في

موقع الاوائل
مياه السوريه (٥)

٥- تستخدم الانشآت كمورد سياحي لبعده تقبل سائر الدول (١) بديل

٦- تمثل الانشآت المصدر الرئيس للاسماك التي تاكل حورده

اقتصاديا وياها مآق العديد من الدول (١) بديل .

٢ ٧٣ اربعة من آثار التوارث الطبيعيه الناتجه عن التقه المناخي (٤ علامات)

١- التوارث الطبيعيه مثل : الجفاف والحرائق والفيضانات

وحواصات البحر والاعاصير (٥)

٢- ارتفاع منسوب سطح البحر وتغير الاراضي الساحليه من القارات

والزئبه من سطح البحر وتغير عدد من الجزر المنخفضه حول العالم (٥)

٣- التأثير على الزراعه وانتاج القدام (٥)

٤- التظم البيئيه (٥)

٥- مصادر المياه (٥) بديل .

٦- الاقتصاد (٥) بديل .

رقم الصفحة
في الكتاب

السؤال الثاني :- (٣)

٣ علامات

- عثر في المأثور المعاملة للآفات الزراعية في الارز

٣٢٤

١- صحت : [١] سنة اطلاق المشرى ٣-٣٠٠٣ (١)

[٢] هدف المشرى : - ١- تقليب التربة والقضاء (١)

٢- تحسبه حاله الأرض القذائي (١)

(٤) تين اربعة وكالات تقاني شرح فئات دسبن

٣٢١

(٤ علامات)

١- البياض العنق والبق (١)

٢- التوتيب (١)

٣- الرصف العنق (١)

٤- جمع اوراقه الاشجار المستامقه لتضيد

السجاد المصون (١)

٥- الرعي الحاشي موقع الاوائل

~~تتمتع بزراعه تين~~

المجلد الثالث :-

رقم الصفحة في الكتاب	العنوان	الرمز	الرقم
١٦٨	الاقتصادية	P	١
١٩٦	المستطعم (المترجم)	S	٥
٢١٩	الابتدائي	U	٢
٢١٤	ايراف	P	٤
٢٤٦	المتطوعون	H	٥
٢٢٠	التحليل العربي	S	٦
٢٩٢	شواهد	U	٧
٢٩٧	الافعال المتعددة	S	٨
٢٤٨	استوكهولم	U	٩

موقع الاوائل

(١٨) على

رقم الصفحة
في الكتاب

السؤال الرابع ١٤ علاقة

٢- قارن بين تربة التندرا و التربة النقيية من حيث

أهم مناطق انتشارها - مدى ظهورها

الإحاطة :- (٨ علامات)

٢٤٥

التربة	مدى انتشار	مدى ظهورها
التندرا	⑤ المناطق القطبية / أواسط المرتفعات الثلجية	⑤ فقيرة لكنها تربة متجمدة
التربة النقيية	⑤ في اودية الأنهار الكبرى و الدلتاوات	⑤ غنية لكنها تجمد عميقا و اغلبها مغلف بالجليد
		⑤ ما تسمه الأنهار على حاشيتها

ب- كون تجمداً توضع فيه العلاقة بين وائاتي :-

- الموقع :- بلدوات العظمى و الأوتل (٣ علامات)

الإحاطة :- كلما اقتربت الأماكن من خط الاستواء

ارتفعت درجة حرارتها / وكلما ابتعد عنه انخفضت ①

درجة الحرارة / و ذلك لأن أشعة الشمس ^{تصل} ② تسقط عمودية

أو شبه عمودية في العروض الاستوائية و تترفع حرارتها / بينما

ينزل ميل الشمس ^{تقل} ③ تأثيرها الحراري كلما ابتعدنا عن خط

الاستواء شمالاً و جنوباً (الشرح بتفسير واحد كبدن)

٣٠١

الرياح الحارة و الباردة

الإحاطة :-

كلما زادت عمليات الرعي أدى ذلك إلى تدهور محولة الرعي

لرعي ما يؤدي إلى تدهور الغطاء النباتي / و تدهور

الحيوانات الرعيه / و الخراف لئلا ①

(كلما زاد الرعي الخائر زاد التدهور ٣ علامات / بدني)

(كلما قل الرعي الخائر قل التدهور ٢ علامات / بدني)

السؤال الخامس

(١٣ علامة)

ادرس خريطة العالم الآتية ثم أكتب تأثير إليه

الإرقام

٣١١ (١) (٢) دول ذات كثافة مكانية مرتفعة (٣) الصين (٤) الهند

١٨٠ (٣) رقيق (٤) رقيق باب الهند

١٧٢ (٤) بحر قزوين (٥) بحر قزوين

١٧٣ (٥) بحر قزوين (٥) البحر المتوسط

٢٨١ (٦) بلاد بلخ توتر في جفاف بلاد شمال إفريقيا

جنوب غرب الولايات المتحدة

(٧) دائرة عرض رتيبة (٧) السرطان

٢٨٣ (٨) دولة عربية تعاني من الجفاف (٨) الصومال

٣١٢ (٩) (١١) دول ذات دخل مرتفع (٩) استراليا (١١) بريطانيا

١٦٩، ٢٥٩ (١٢) دولة معظم موارثها من الشمال (١٢) أستراليا

٢٨١ (١٣) (١٤) صحاري (١٣) المحيط الهندي

موقع الأوزان على الخريطة الهندية