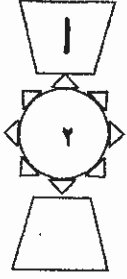
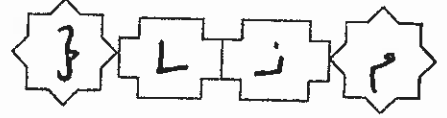


بِسْمِ اللَّهِ الرَّحْمَنِ الرَّحِيمِ



المملكة الأردنية الهاشمية
وزارة التربية والتعليم
إدارة الامتحانات والاختبارات
قسم الامتحانات العامة



امتحان شهادة الدراسة الثانوية العامة لعام ٢٠١٥ / الدورة الصيفية

(وثيقة عمومية/محدود)

مدة الامتحان : ٣٠ : ١

اليوم والتاريخ : الخميس ٢٥/٦/٢٠١٥

المبحث : الجغرافيا / المستوى الثالث + الجغرافيا الإضافية
الفرع : الأدبي + الفندقي والسياحي (نفس الورقة الامتحانية)

ملحوظة : أجب عن الأسئلة الآتية جميعها وعددها (٥)، علماً بأن عدد الصفحات (٣).

السؤال الأول : (١٦ علامة)

عرف المفاهيم والمصطلحات الآتية:

١- الخرائط الطبوغرافية.

٢- درجة الانحدار.

٣- النهر.

٤- المراوح الفيضية.

٥- الأمن القومي العربي.

٦- مستلزمات الإنتاج.

٧- صناعات قادة التوطن.

٨- ارسابات اللوس.

موقع الاوائل

السؤال الثاني : (١٥ علامة)

فستر ما يأتي:

١- تُعد الحدود السياسية ظاهرة بشرية.

٢- تتغير أحجام الصخور بتعاقب الحرارة والبرودة.

٣- اختيار الأنهار كمؤشر على شدة تقطع سطح الأرض.

٤- نشأة الحماد في المناطق الجافة ذات السطح المنبسط.

(٤ علامات)

(٤ علامات)

(٣ علامات)

(٤ علامات)

يتبع الصفحة الثانية/؛؛؛

الصفحة الثالثة

السؤال الثالث : (٢٠ علامة)

(١٠ علامات)

(أ) أعطِ مثالاً لكل مما يأتي :

١- منظمة عالمية سياسية.

٢- منظمة إقليمية.

٣- صناعات تحويلية عربية.

٤- دولة تحتوي على توازن عرقي بين مجموعتين عرقيتين.

٥- أحواض نفطية عربية.

(ب) انقل إلى دفتر إجابتك الجدول أدناه، ثم صنف ما يأتي بما يناسبه في الجدول (إقليم الغابات المطيرة، نفط، فحم حجري، أراضي ما بين الأودية، الولايات المتحدة الأمريكية، الحافلات الصاعدة للحتية). (١٠ علامات)

إقليم سياسي	إقليم جغرافي	مصادر طاقة غير متجددة	أشكال أرضية متبقية	أشكال أرضية ناتجة عن عاملين

السؤال الرابع : (١٨ علامة)

(أ) انكر :

(٤ علامات)

١- أربعا من سبل تحقيق الأمن المائي العربي.

(٤ علامات)

٢- أشكال الإرساب النهري.

(٣ علامات)

(ب) ما أبرز إنجازات ابن سينا في الفكر الجيومورفولوجي ؟

(ج) وضّح :

١- أثر انخفاض نسبة الاكتفاء الذاتي من المواد الغذائية الرئيسة على الأمن الخارجي للوطن العربي.

(٤ علامات)

(٣ علامات)

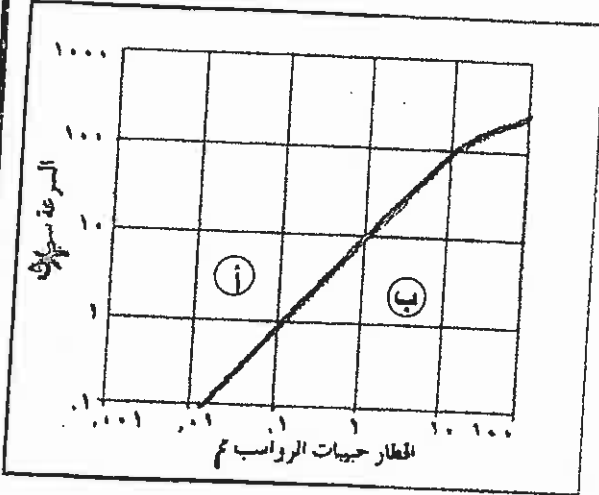
٢- العلاقة بين علم الجيومورفولوجيا والخرائط الطبوغرافية.

يتبع الصفحة الثالثة / ،،،،

الصفحة الثالثة

السؤال الخامس: (١١ علامة)

(٣ علامات)



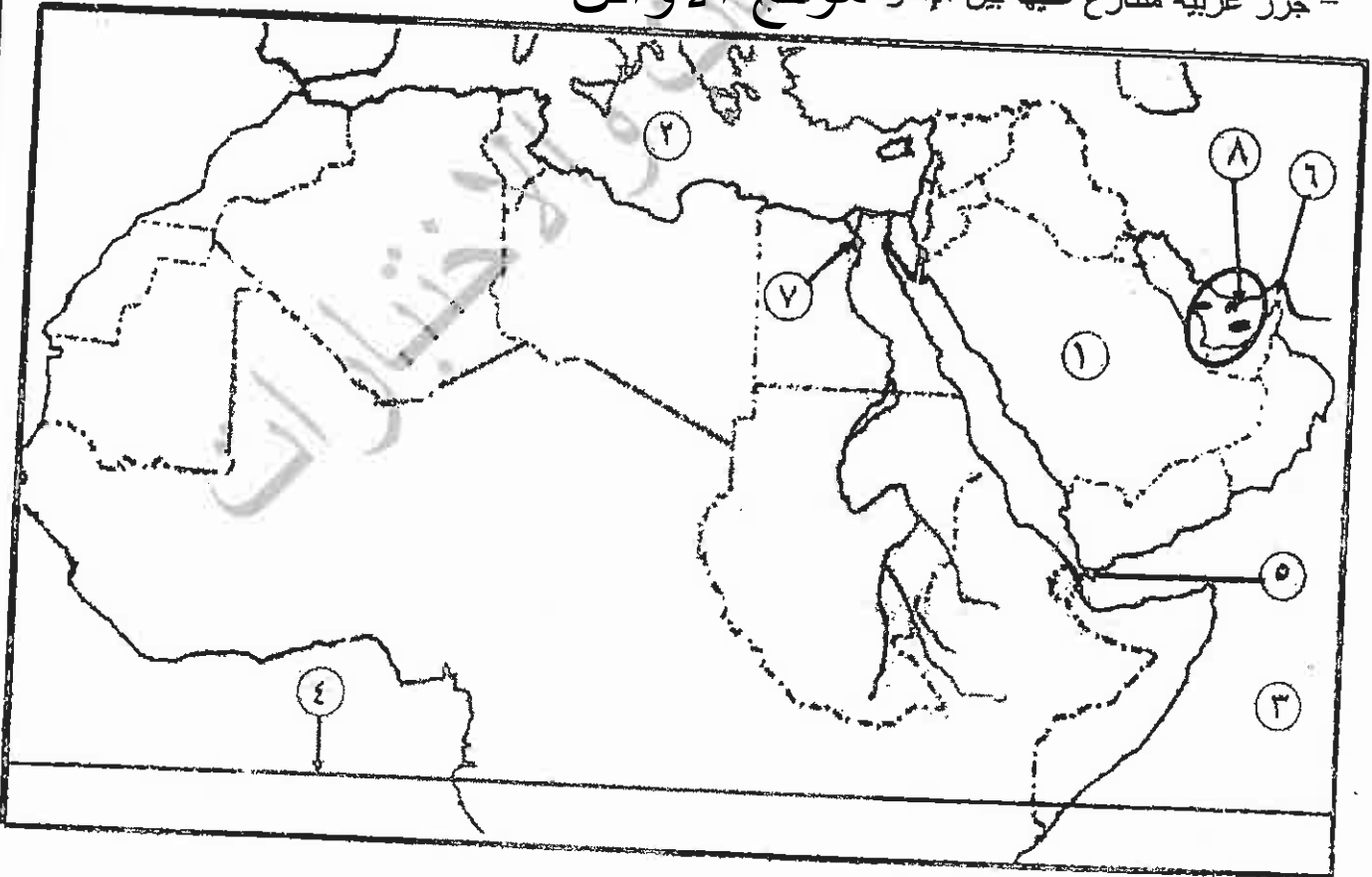
أ) ادرس الشكل المجاور، ثم أجب عن الأسئلة التي تليه:

- ١- ماذا تسمى العملية المشار إليها بالرمز (أ).
- ٢- ماذا تسمى العملية المشار إليها بالرمز (ب).
- ٣- ما مقدار السرعة الحرجة لراسب حجمه ١ ملم.

(٨ علامات)

ب) ادرس خريطة العالم أدناه، ثم اكتب في دفتر إجابتك ما تشير إليه الأرقام الآتية:

- دولة عكلت حدودها مع الأردن (١).
- مسطحات مائية (٢، ٣).
- دائرة عرض رئيسة (٤).
- مضائق وممرات (٥، ٦).
- مدينة عربية فيها مقر جامعة الدول العربية (٧).
- جزر عربية متنازع عليها بين الإمارات وقبرص واليونان (٨).



﴿ انتهت الأسئلة ﴾



المبحث: الجغرافيا المستوية الثالث
القرع: الأدوية والفندقي والسيهي

مدة الامتحان: ٣٠
التاريخ: ١٦/٥/١٤

الإجابة النموذجية:

١٦- علاقة:

علاقة المناخ مع المظاهر الطبيعية والاصطناعية
المناخات الطبيعية هي مناخات طبيعية تتكون نتيجة
مظاهر طبيعية مثل التضاريس والرياح والشمس والماء
كيفية تفاعلها مع بعضها البعض في البيئة الطبيعية
مناخات اصطناعية هي مناخات تتكون نتيجة تدخل الإنسان
في البيئة الطبيعية مثل استخدام الأسمدة والمبيدات
والرياح الاصطناعية.

١- درجة الحرارة الزائدة التي يصحبها الجفاف والحرارة
في المناطق الجبلية العالية في جبال جبال جبال
الجبلية العالية هو موقع الجبال.

٢- المناخ الطبيعي هو المناخ الطبيعي الذي يتكون
بالتفاعل بين المناخ الطبيعي والمناخ الاصطناعي
المناخ الاصطناعي هو المناخ الذي يتكون نتيجة
تدخل الإنسان في البيئة الطبيعية مثل استخدام
الأسمدة والمبيدات والرياح الاصطناعية.

٣- المناخ الطبيعي هو المناخ الطبيعي الذي يتكون
بالتفاعل بين المناخ الطبيعي والمناخ الاصطناعي
المناخ الاصطناعي هو المناخ الذي يتكون نتيجة
تدخل الإنسان في البيئة الطبيعية مثل استخدام
الأسمدة والمبيدات والرياح الاصطناعية.

٤- المناخ الطبيعي هو المناخ الطبيعي الذي يتكون
بالتفاعل بين المناخ الطبيعي والمناخ الاصطناعي
المناخ الاصطناعي هو المناخ الذي يتكون نتيجة
تدخل الإنسان في البيئة الطبيعية مثل استخدام
الأسمدة والمبيدات والرياح الاصطناعية.

رقم الصفحة
في الكتاب

السؤال الثاني: (١٥ علامة)

سـ ٨٤ -

تعد الحدود السياسية ظاهرة طبيعية وليست اجتماعية كما هو
الذي يقيم يخطئ تماماً كما هو الافتصادية والسياسية
والسياسية كما اني قدما تفصل مضموناً عاماً بين الشعب
الذي يكتسب لاصلا عرفيه متقلنة وذلك لبيد الاقتلاف
والتناقض بين سكان الدول المتجاورة .

٤ علامات

سـ ٣١

تتغير احوال الهواء بتتابع الحرارة والبرودة
؛ يؤدي الاختلاف في درجات الحرارة بين ركنين وصفتا
الحدود الهواء وتقلصه ، منتقلاً منه الهواء رديئة الكيف
للرطوبة لاي الامطار لم امية للرياح لتعرف للشمس
ثم الفرد فندفاً للافطار موقع الاوائل يؤدي الى اختلاف
الجزر المتعدد للهواء الايام وسياسه في هرو عليه
اقتلاف مما لا يحد من عدد في الهواء الى جانب اقتلاف
الدائم معاد الهواء .

٤ علامات

سـ ٥٣

اهتمت الاجرام كثر في حدة تقطع سطح ارضها بالاراء
كل حده من كتابه فضلياً ثم دائره الجبال ، لا يراهم بعد في نظري
وام في ابعاد متناسيه صفره وطاقتهم من زخمه للتقريبات
العنقوا اي جوايا علم الصلابة .

٣ علامات

سـ ٦١

مؤامر الحماره طناضه احيافه ذات السطح المنسطح
سببه زوايا الحلات الخويه اعلى ثلثية الي ثلثي
تخلف المخرجات الخويه السطوح في قيام السطح بتبديده
المخرجات الرطبة لتختلف في السطح المخرجات الخويه الخشنة

٤ علامات

(ذلك الخلف احياف)

رقم الصفحة
في الكتاب

الجزء الثالث : علامات

١٠١ - ١٠٢ - ١٠٣ - ١٠٤ - ١٠٥ - ١٠٦ - ١٠٧ - ١٠٨ - ١٠٩ - ١١٠ - ١١١ - ١١٢ - ١١٣ - ١١٤ - ١١٥ - ١١٦ - ١١٧ - ١١٨ - ١١٩ - ١٢٠ - ١٢١ - ١٢٢ - ١٢٣ - ١٢٤ - ١٢٥ - ١٢٦ - ١٢٧ - ١٢٨ - ١٢٩ - ١٣٠ - ١٣١ - ١٣٢ - ١٣٣ - ١٣٤ - ١٣٥ - ١٣٦ - ١٣٧ - ١٣٨ - ١٣٩ - ١٤٠ - ١٤١ - ١٤٢ - ١٤٣ - ١٤٤ - ١٤٥ - ١٤٦ - ١٤٧ - ١٤٨ - ١٤٩ - ١٥٠ - ١٥١ - ١٥٢ - ١٥٣ - ١٥٤ - ١٥٥ - ١٥٦ - ١٥٧ - ١٥٨ - ١٥٩ - ١٦٠ - ١٦١ - ١٦٢ - ١٦٣ - ١٦٤ - ١٦٥ - ١٦٦ - ١٦٧ - ١٦٨ - ١٦٩ - ١٧٠ - ١٧١ - ١٧٢ - ١٧٣ - ١٧٤ - ١٧٥ - ١٧٦ - ١٧٧ - ١٧٨ - ١٧٩ - ١٨٠ - ١٨١ - ١٨٢ - ١٨٣ - ١٨٤ - ١٨٥ - ١٨٦ - ١٨٧ - ١٨٨ - ١٨٩ - ١٩٠ - ١٩١ - ١٩٢ - ١٩٣ - ١٩٤ - ١٩٥ - ١٩٦ - ١٩٧ - ١٩٨ - ١٩٩ - ٢٠٠

٩٦ - ٩٩

منظمة عالمية سياسية : عصبة الأمم ، هيئة الأمم
دول مسلم الاطهار .

١٠٣ - ١٠٩

منظمة اقليمية : جامعة الدول العربية
- اتحاد الارمن
- منظمة الانتظام الحصري للنفط (أوبك)
- منظمة المؤتمر الإسلامي
- جبهة شان الاطهار لسانو

١٢٢

صناعات نموذجية عربية : الصناعات النسيجية ، الحديد
السكر ، الكاكي ، الخلابي ، الحمضيات ، الباك ، النخل

١١٦

دلالة على تدرجه عربي بين غير مسلمين : بلعينا
مواضع نفط عربية : موقع الاطراف ، مواضع ابدن خطت للونزي
(ن) هنت ما أتوت - مواضع استراتيجي ، خوف بشاد لاد استراتيجي

١٤٩

١٢٧ - ١٢٨ - ١٢٩ - ١٣٠ - ١٣١ - ١٣٢ - ١٣٣ - ١٣٤ - ١٣٥ - ١٣٦ - ١٣٧ - ١٣٨ - ١٣٩ - ١٤٠ - ١٤١ - ١٤٢ - ١٤٣ - ١٤٤ - ١٤٥ - ١٤٦ - ١٤٧ - ١٤٨ - ١٤٩ - ١٥٠ - ١٥١ - ١٥٢ - ١٥٣ - ١٥٤ - ١٥٥ - ١٥٦ - ١٥٧ - ١٥٨ - ١٥٩ - ١٦٠ - ١٦١ - ١٦٢ - ١٦٣ - ١٦٤ - ١٦٥ - ١٦٦ - ١٦٧ - ١٦٨ - ١٦٩ - ١٧٠ - ١٧١ - ١٧٢ - ١٧٣ - ١٧٤ - ١٧٥ - ١٧٦ - ١٧٧ - ١٧٨ - ١٧٩ - ١٨٠ - ١٨١ - ١٨٢ - ١٨٣ - ١٨٤ - ١٨٥ - ١٨٦ - ١٨٧ - ١٨٨ - ١٨٩ - ١٩٠ - ١٩١ - ١٩٢ - ١٩٣ - ١٩٤ - ١٩٥ - ١٩٦ - ١٩٧ - ١٩٨ - ١٩٩ - ٢٠٠

١٠١ - ١٥١

رقم الصفحة
في الكتاب

التوازي الرابع: (١٨) علامتها

١ اذكري

١٩١-١٩٠

١- ارسواً من سبل قصبة الرضف لما في العزب

٢- حل الخلافات العربية حول تقسيم لعمارة وحل الخلافات

المعلقة باقتسام مياه الانهر النهرية

٣- العمل على تحسين اساليب الري والمخاض للمخاض

٤- العمل على تطوير طابع جديد من خلال اجراء دراسات

واستكشافها في لاجراء دراسات مياه هوية هوية

٥- استنباط وسائل وتقنيات لاستغناء مياه الري

٦- الاضطرار والحصاد المائي

٧- العمل على نقل الامور المتعلقة بتطوير الري الى

المدن التي تعاني من نقص حاد في كروت الري الذي يربط

موقع الاوائل

٨- استنباط اسباب النهر - السهم لنقص المياه الري

٩- الدراسات في برامج التطوير

٤ علامات

٤ علامات

(ب) ما أبرز التغيرات التي سببها الفيضان الجوف في

تقريباً ١٩٨٠م حيث انزلت المياه في

المنطقة الجوفية والنتيجة انخفضت منسوب المياه الجوفية

كما انزلت المياه الجوفية في المنطقة الجوفية

٣ علامات

(ج) وضع

١٤٨ استراتيجيات التنمية ودفع فوائدها الى ارباب العمل

التي تتيح انتاجها في السوق والاحتفاظ بها

٤ علامات

١٤٩ من ضمنها اطلاقها في السوق وبيعها

في المجتمعات النائية والريفية وخاصة في

٣ علامات

رقم الصفحة
في الكتاب

المدال الخامس :- العلالة

٤- ادراك انفسهم في اجزاء من الاصله الى
نكبه :-

- ماذا تسمى العلية لهذا اليه بالرمز م - نقل

- ماذا تسمى العلية لهذا اليه بالرمز ن - انا

- ماذا تسمى العلية لحرية لرأسه بجه امامه ا

٥ مدالونات

٥) ادراك فاعلة العالم اذناه ثم اليه فاعلة

اليه الامام

٦ دولة حدثت مروجها في ارضه السمرية

٣ - العرا الحنزية

موقع الاوائل - الخيم الطنزي

٤ - مدالوناتي

٥ - باب الحنزي

٦ - هرمز

٧ - القاهرة

٨ - طينتي الحنزي

مدينة عربية بنىها جاسم لؤلؤ البربر

مدينة عربية بنىها خليج

٨ مدالونات