

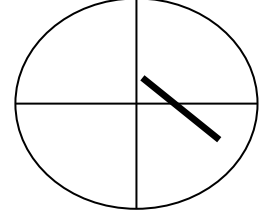
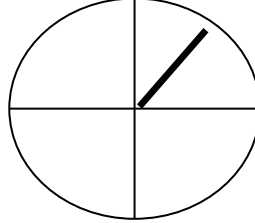
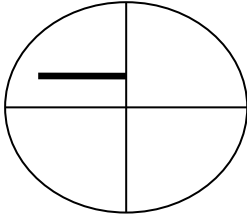
(4علامات)

س1 : وضح مفهوم الرياح ؟ و تحدثني عن مبدأ عمل جهاز الرياح ؟

www.awa2el.net

(6 علامات)

س2 : حدد اتجاه و سرعة الرياح في كل مما يلي :



(4علامات)

س3 : تحدث عن القوى المؤثرة على الرياح من مبدأ عمل كل منها ؟

(علامتان)

س4: عرف ما يلي:

1- خط تساوي الضغط الجوي:

2- خريطة الضغط الجوي:

س5) ماذا تتوقع أن يحدث لخصائص كتلة هوائية قطبية قارية عند تحركها باتجاه المناطق المدارية البحرية ؟

(علامتان)

س6) : تحركت كتلة هوائية قطبية بحرية لتستقر فوق منطقة شرقي البحر الأبيض المتوسط، استنتج التغيرات التي ستطرأ على الأحوال الجوية في هذه المنطقة ؟

(علامتان)

أنتهت الاسئلة مع خالص تمنياتي للجميع بالنجاح