

مراجعة مكثفة

لمادة الجغرافيا

الفصل الثاني

للمعلمة أمل ولدعلي

## الوحدة الثالثة " علم دراسة أشكال سطح الأرض "

# العلم الذي يدرس أشكال الأرض، هو:

أ) الهيدروجيولوجيا. ب) الجيومورفولوجيا. ج) إثنوجيولوجيا. د) الجيولوجيا.

# من الصخور الصلبة عالية المقاومة للعوامل الخارجية:

أ) الرمل. ب) الجير. ج) الفحم. د) البازلت.

# من العوامل الباطنية التي تعمل على تشكيل معالم سطح الأرض: (سؤال وزارى)

أ) الجليد. ب) الرياح. ج) البراكين. د) الأمواج.

# من الأمثلة على جبال البركانية سلسلة جبال: (سؤال وزارى)

أ) زاغروس. ب) الأمانوس. ج) الأندونيسية. د) أطلس التل.

# نشأت أخفض نقطة على اليابس (البحر الميت) نتيجة لحركات: (سؤال وزارى)

أ) صدعية باطنية. ب) بركانية. ج) إلتوائية. د) جيومورفولوجية.

# نشأت أخفض نقطة على اليابس (البحر الميت) نتيجة: (سؤال وزارى)

أ) نشاط بركاني. ب) حركة صدعية باطنية. ج) حركة إلتوائية. د) عوامل جيومورفولوجية.

# المصدر الأساس للبيانات الجيومورفولوجية: (سؤال وزارى)

أ) الخرائط. ب) العمل الميداني. ج) الصور الجوية. د) المرئيات الفضائية.

# الخرائط التي تمثل عنصر الارتفاع عن طريق خطوط تصل بين المناطق المتساوية في الارتفاع هي

الخرائط: (سؤال وزارى)

أ) السياسية. ب) الطبوغرافية. ج) الاقتصادية. د) الطبيعية.

# إذا عملت أن فرق الارتفاع بين خطي كنتور رئيسين يبلغ (100 م) وعدد الخطوط الفرعية بينهما (4)

خطوط فإن قيمة الفاصل الكنتوري يبلغ: (سؤال وزارى)

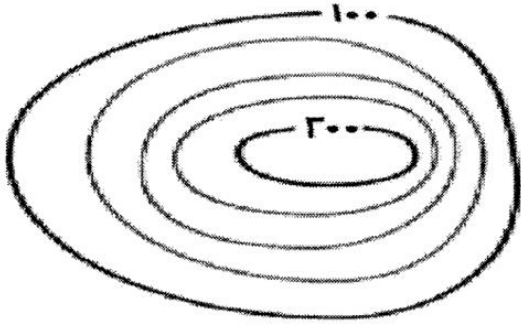
أ) 20 م. ب) 25 م. ج) 50 م. د) 100 م.

# إذا عملت أن الفرق بين خطي كنتور رئيسين يبلغ (150 م) وعدد الخطوط الفرعية بينهما (3) فاحسب

كم تبلغ قيمة الفاصل الرأسى:

أ) 20 م. ب) 25 م. ج) 50 م. د) 75 م.

# تبلغ قيمة الفاصل الرأسي في الخريطة الكنتورية المجاورة: (سؤال وزارى)



أ ( 3 م.

ب) 25 م.

ج) 20 م.

د) 50 م.

# عندما تأخذ خطوط الكنتور شكلاً حلقياً مغلقاً وتتناقص القيم نحو الداخل، فإنها تدل على: (سؤال وزارى)

أ) مرتفع أرضى. ب) منخفض أرضى. ج) مناطق ما بين الأودية. د) وادى.

# عندما تأخذ خطوط الكنتور شكلاً حلقياً مغلقاً وتتناقص القيم نحو الداخل، فإنها تدل على:

أ) مرتفع أرضى. ب) منخفض أرضى. ج) مناطق ما بين الأودية. د) وادى.

# عندما تأخذ خطوط الكنتور شكل الرقمين ( ٧ و ٨ ) وتتناقص قيمها نحو الخارج، فإنها تدل على: (سؤال

وزارى)

أ) مرتفع أرضى. ب) منخفض أرضى. ج) مناطق ما بين الأودية. د) وادى.

# عندما تأخذ خطوط الكنتور شكل الرقمين ( ٧ و ٨ ) وتتناقص قيمها نحو الخارج، فإنها تدل على:

(سؤال وزارى)

أ) مرتفع أرضى. ب) منخفض أرضى. ج) مناطق ما بين الأودية. د) وادى.

# مصدر المعلومات الذي يتميز بالدقة والسرعة في تحليل البيانات وتقديم معلومات وفيرة عن الأرض،

ويساعد على المراقبة المستمرة للتطورات التي تحدث لظواهر سطح الأرض: (سؤال وزارى)

أ) الخرائط. ب) الدراسة الميدانية. ج) تقنية الاستشعار عن بُعد. د) نظم المعلومات الجغرافية.

# عملية انفصال وتفتت للصخور دون حدث أي تغيرات في خصائصها الكيميائية يُعد تعريف لـ: (سؤال

وزارى)

أ) التجوية. ب) التجوية الميكانيكية. ج) التجوية الكيميائية. د) التجوية العضوية.

# تنشط التجوية الكيميائية في المناطق: (سؤال وزارى)

أ) القطبية الباردة. ب) المعتدلة. ج) الرطبة الدافئة. د) الحارة الجافة.

# عندما يتجمد الماء الموجود في الفواصل والشقوق الصخرية بسبب انخفاض درجة الحرارة عن الصفر المئوي، فإن حجم الماء يزداد بمقدار: (سؤال وزاري)

أ) 6% ب) 9% ج) 12% د) 15%

# يزداد حجم الماء عندما يتجمد بنسبة: (سؤال وزاري)

أ) 7% ب) 9% ج) 11% د) 13%

# هناك العديد من العوامل المؤثرة في عمليات التجوية، من بين العبارات الآتية فقط عبارة واحدة صحيحة: (سؤال وزاري)

أ) تؤثر درجة الانحدار في سرعة ونوعية عملية التجوية.

ب) الصخور الصلبة أقل من مقاومة التجوية من الصخور اللينة.

ج) يقل نشاط التجوية على السفوح شديدة الانحدار.

د) المناطق قليلة الانحدار أقل عرضه للتجوية الكيميائية.

# من أهم عناصر المناخ تأثيراً في نشاط التجوية في المناطق الجافة والرطبة: (سؤال وزاري)

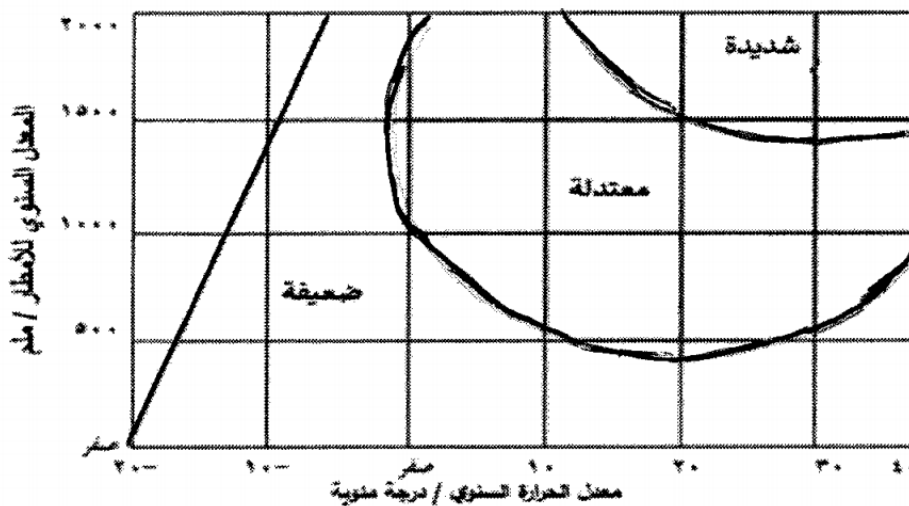
أ) الحرارة. ب) الأمطار. ج) الحرارة والأمطار. د) الرطوبة.

# أكثر العوامل المؤثرة في شدة عمليات التجوية هي: (سؤال وزاري)

أ) الأمطار والحرارة. ب) الحرارة والرياح. ج) الأمطار والرياح. د) الحرارة والضغط الجوي.

# بالاعتماد على الشكل المجاور، تبلغ شدة التجوية الكيميائية عندما يكون معدلات الإمطار (1500 ملم)

ومعدل درجة الحرارة (10) درجة مئوية: (سؤال وزاري)



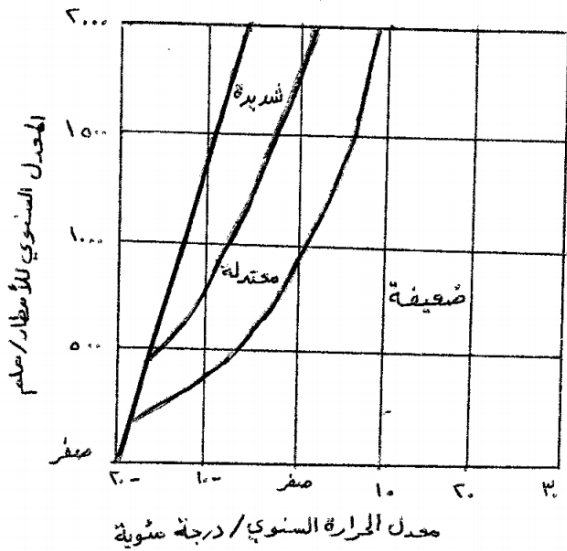
أ) ضعيفة جداً.

ب) ضعيفة.

ج) معتدلة.

د) شديدة.

# في الشكل المجاور عندما تكون درجة الحرارة (- 10) درجة مئوية ومعدلات الإمطار (1000 ملم) فان التجوية الميكانيكية تكون: (سؤال وزاري)



- أ) ضعيفة جداً.  
ب) ضعيفة.  
ج) معتدلة.  
د) شديدة.

# الشكل الأرضي الناتج عن التجوية الكيميائية والذي ينتشر فوق الأسطح المكشوفة قليلة الانحدار نتيجة للتفاوت في تآكل الصخر يُعرف بـ: (سؤال وزاري)

- أ) التربة. ب) الحطام الصخري. ج) خُفر التجوية. د) قباب التقشير.

# الأشكال الأرضية التي تنتشر فوق السطوح الصخرية المكشوفة قليلة الانحدار نتيجة للتفاوت في تآكل الصخر هي: (سؤال وزاري)

- أ) الحطام الصخري. ب) خُفر التجوية. ج) قباب التقشير. د) خُفر التذرية.

# تتكون التربة نتيجة تجوية وتفتت الصخور وتحلل المواد العضوية إلى حطام وذرات ويزداد سُمكها في المناطق: (سؤال وزاري)

- أ) الجافة الحارة. ب) الرطوبة الحارة. ج) المعتدلة. د) القطبية.

# يزداد سُمك التربة في المناطق: (سؤال وزاري)

- أ) الرطوبة الحارة. ب) الصحراوية الجافة. ج) المعتدلة. د) القطبية.

# تنشأ بفعل التجوية عن طريق التفتت أو الإذابة ويزداد حجمها باستمرار نتيجة تجمع الرطوبة في داخلها وما تقوم به عملية التميؤ: (سؤال وزاري)

- أ) خفر التجوية. ب) الحطام الصخري. ج) التربة. د) قباب التقشير.

# الوسيلة التي تنقل الرياح من خلالها الجزء الأكبر من حمولتها، هي: (سؤال وزاري)

- أ) التعلق. ب) الزحف. ج) الجر. د) القفز.

# العملية التي لها الدور الأكبر في الحت الريحي، هي: (سؤال وزارى)

أ) التعلق. ب) القفز. ج) الزحف. د) الانحراف.

# تقوم الرياح بنقل المواد الأكبر حجما من خلال القفز حيث تنقل ما نسبته: (سؤال وزارى)

أ) 50%. ب) 75%. ج) 85%. د) 95%.

# وسيلة النقل الوحيدة التي تسلكها أكثر الرمال خشونة، هي: (سؤال وزارى)

أ) السحب. ب) التعلق. ج) القفز. د) الزحف.

# طريقة النقل الوحيدة التي تسلكها أكثر الرمال خشونة أثناء نقل الرياح لحمولتها، هي: (سؤال وزارى)

أ) التعلق. ب) السحب. ج) الزحف. د) الدحرجة.

# من الأشكال الأرضية الناشئة عن الحت والتذرية الريحية: (سؤال وزارى)

أ) الشواهد الصخرية. ب) النباك. ج) اللويس. د) صحاري العرق.

# تطلق ظاهرة الفطر على: (سؤال وزارى)

أ) التلال الصخرية. ب) حُفر التجوية. ج) حُفر التذرية. د) الموائد الصخرية.

# إن الأشكال الأرضية التي تحدث نتيجة نحت الرياح المحملة بالرمال والطبقات الصخرية اللينة

الموجودة عند قواعد تلك الصخور مما يؤدي إلى تآكل الطبقات اللينة عند القاعدة تُسمى: (سؤال وزارى)  
أ) المنخفضات الصحراوية. ب) الحِما. ج) ظاهرة الفطر. د) التلال الصخرية المعزولة.

# الأشكال الأرضية التي تحدث نتيجة حت الرياح المحملة بالرمال للطبقات الصخرية اللينة الموجودة عند

قواعد هذه الصخور هي: (سؤال وزارى)

أ) الشواهد الصخرية. ب) الموائد الصخرية. ج) حُفر التذرية. د) الصحاري الحجرية.

# الأسطح المستوية المرصوفة بحجارة ذات زوايا حادة تعرف بـ: (سؤال وزارى)

أ) الشواهد الصخرية. ب) الموائد الصخرية.  
ج) الحِما (الصحاري الحجرية). د) المنخفضات الصحراوية.

# من الأشكال الأرضية الناشئة عن التعرية الريحية: (سؤال وزارى)

أ) اللويس. ب) النباك. ج) صحاري العرق. د) تلال صحراوية.

# الكثبان الرملية التي تنشأ في المناطق التي تهب عليها الرياح باتجاه واحد هي الكثبان: (سؤال وزارى)  
أ) الكثبان الطولية. ب) الكثبان الهلالية. ج) الكثبان النجمية. د) النباك.

# الكثبان الرملية التي تنشأ نتيجة وجود رياح من اتجاهين: (سؤال وزارى)  
أ) الهلالية. ب) الطولية. ج) النجمية. د) السيف.

# الكثبان الرملية التي لها قمة واحدة وتظهر في المناطق التي تتناوب الرياح في هبوبها في اتجاهات عدة هي: (سؤال وزارى)

أ) الهلالية. ب) النجمية. ج) الطولية. د) العرضية.

# الكثبان الرملية التي تتناوب الرياح في هبوبها من اتجاهات عدة ولها قمة واحدة هي الكثبان: (سؤال وزارى)

أ) الهلالية. ب) الطولية. ج) النجمية. د) النباك.

# الكثبان الرملية التي تنتشر في تركمانستان وشمال غرب الهند هي الكثبان: (سؤال وزارى)

أ) الكثبان الهلالية. ب) الكثبان النجمية. ج) الكثبان الطولية. د) كثبان السيف.

# يسمى السطح السفلي لمجرى النهر: (سؤال وزارى)

أ) قاع النهر. ب) سرير النهر. ج) مجرى النهر. د) حوض النهر.

# أخفض نقطة في أجزاء الحوض النهري هي منطقة: (سؤال وزارى)

أ) المصب. ب) السرير. ج) الروافد. د) القاع.

# أخفض نقطة في أجزاء الحوض النهري التي تتجمع فيها المياه، هي: (سؤال وزارى)

أ) سرير النهر. ب) المجرى النهري. ج) المصب. د) الروافد.

# العملية التي يتم فيها تشكل القسم الأكبر من الحمولة النهريّة: (سؤال وزارى)

أ) الإذابة. ب) السحب. ج) التعلق. د) الترسيب.

# ينقل النهر معظم حمولته عن طريق: (سؤال وزارى)

أ) الإذابة. ب) الجر. ج) السحب. د) التعلق.

# الطريق التي يتم فيها نقل الجزء الأكبر من حمولة النهرية، هي: (سؤال وزارى)

أ) التعلق. ب) الإذابة. ج) السحب. د) الجر.

# الانحدار المفاجئ في مجرى النهر يُسمى: (سؤال وزارى)

أ) الشلالات. ب) الجنادل. ج) الخوانق. د) البحيرات الكوعية.

# تقع شلالات نياجارا على نهر: (سؤال وزارى)

أ) الزامبيزي. ب) سان لورنس. ج) المسيسيبي. د) ريوجراند.

# تقع شلالات فكتوريا على نهر: (سؤال وزارى)

أ) سان لورانس. ب) المسيسيبي. ج) الزمبيزي. د) الأمازون.

# الشكل الأرضي الناتج عن الحت النهري ويتميز بشدة انحدار جوانبه وعمقه يُعرف بـ: (سؤال وزارى)

أ) الخوانق. ب) البحيرات الكوعية. ج) الجنادل. د) الشلالات.

# جزء من مجرى النهر يتميز بشدة انحدار جوانبه وعمقه بالنسبة إلى اتساعه يمثل: (سؤال وزارى)

أ) الشلالات. ب) الخوانق. ج) الجنادل. د) البحيرات الكوعية.

# من الأشكال الأرضية الناتجة عن عملية الترسيب النهري: (سؤال وزارى)

أ) البحيرات الكوعية. ب) الجنادل. ج) السهل الفيضي. د) الخوانق.

# من الأمثلة على الدلتاوات التي تشبه القوس أو المثلث:

أ) دلتا نهر التيبير. ب) دلتا نهر الأمازون. ج) دلتا نهر النيل. د) دلتا نهر المسيسيبي.

# تأخذ الدلتا أشكال عدة، ومن الأمثلة على تلك الأشكال ما يتخذ شكل القوس أو المثلث مثل:

أ) دلتا نهر الأمازون. ب) دلتا نهر السند. ج) دلتا نهر التيبير. د) دلتا نهر المسيسيبي.

# من الأمثلة على الدلتاوات التي تأخذ النمط المدبب: (سؤال وزارى)

أ) دلتا نهر التيبير. ب) دلتا نهر السند. ج) دلتا نهر النيل. د) دلتا نهر المسيسيبي.

# تقع دلتا نهر التيبير في: (سؤال وزارى)

أ) ألمانيا. ب) فرنسا. ج) إيطاليا. د) هولندا.



# من الأمثلة على الدلتاوات التي تأخذ الشكل الإصبعي: (سؤال وزارى)

أ ( دلتا نهر النيل. ب) دلتا نهر السند. ج) دلتا نهر التير. د ( دلتا نهر المسيسى).

# من وضع نموذج بناء على العامل الزمنى الذى يبين تطور الأشكال الأرضية فى ثلاث مراحل أطلق

عليها اسم دورة التعرية النهريّة، هو: (سؤال وزارى)

أ ( راتزل. ب) رودلف كيلين. ج) ديفز. د ( أرسطو.

# المرحلة النهريّة التى يبدأ فيها تشكّل البحيرات الكوعية على جوانب المجرى النهري، هى مرحلة:

(سؤال وزارى)

أ ( النشأة. ب) الشباب. ج) النضج. د ( الشيخوخة.

## الوحدة الرابعة "الجغرافيا السياسية"

# أول من كتب عن قوة الدولة المستمدة من توازن ثرواتها وعدد سكانها، هو: (سؤال وزارى)

أ) أرسطو. (ب) ابن خلدون. (ج) افلاطون. (د) فريديريك راتزل.

# الذي وصف الدولة بالكائن الحي الذي يمر بمراحل حياته التي تتمثل في النشأة والنضج والشيخوخة،

هو: (سؤال وزارى)

أ) أرسطو. (ب) افلاطون. (ج) ابن خلدون. (د) فريديريك راتزل.

# العالم الذي يرجع إليه الفضل في كتابة أول مؤلف يحمل بعنوان " الجغرافيا السياسية " : (سؤال

وزارى)

أ) رودلف كيلين. (ب) ابن خلدون. (ج) أرسطو. (د) راتزل.

# العالم الذي شبه الدولة بكائن حي يمر بمراحل الميلاد والنمو والوفاة، هو: (سؤال وزارى)

أ) أرسطو. (ب) ابن خلدون. (ج) راتزل. (د) ديفيز.

# ظهر مصطلح الجيوبولتيك على يد العالم: (سؤال وزارى)

أ) ديفيز. (ب) فريديريك راتزل. (ج) رودلف كيلين. (د) أرسطو.

# ظهر مصطلح الجيوبولتيك عام 1899م على يد العالم: (سؤال وزارى)

أ) ديفيز. (ب) ابن خلدون. (ج) رودلف كيلين. (د) فريديريك راتزل.

# تطلق تسمية (الجات) على: (سؤال وزارى)

أ) حلف شمال الأطلسي. (ب) السوق الأوروبية المشتركة.

(ج) السوق العربية المشتركة. (د) منظمة التجارة العالمية.

# من الأمثلة على الأحلاف العسكرية: (سؤال وزارى)

أ) حلف شمال الأطلسي. (ب) السوق الأوروبية المشتركة.

(ج) منظمة التجارة العالمية. (د) منظمة شنغهاي للتعاون.

# من الأمثلة على الدول الفيدرالية: (سؤال وزارى)

أ) فرنسا. (ب) اليابان. (ج) استراليا. (د) الأردن.

# من الدول العربية التي تمثل شكل الدول الفيدرالية: (سؤال وزارى)

أ ( لبنان. ب) مصر. ج) اليمن. د ( الإمارات العربية.

# من الأمثلة على الدول الكونفدرالية التي تحولت إلى دول فيدرالية: (سؤال وزارى)

أ ( إسبانيا. ب) سويسرا. ج) إيطاليا. د ( فرنسا.

# من ميزات الحدود السياسية أنها: (سؤال وزارى)

أ ( مناطق جغرافية ذات مساحة ممتدة. ب) لا تستند إلى معاهدات أو اتفاقيات بين الدول.

ج) ظاهرة تتعرض للتغيير والاختفاء والظهور. د ( طبيعية لا تتغير.

# كان السبب الرئيس لإقامة سور الصين العظيم في العصور القديمة: (سؤال وزارى)

أ ( لإنجاز أضخم عمل بشري. ب) صد هجمات المغول.

ج) وقف الفتوحات الإسلامية. د ( لترسيم الحدود الخارجية.

# حدث الخلاف على استثمار الحديد في منطقتي الألزاس واللورين بين: (سؤال وزارى)

أ ( بريطانيا وفرنسا. ب) فرنسا وألمانيا. ج) إسبانيا وفرنسا. د ( إيطاليا وألمانيا.

# حدث الخلاف على استثمار معدن الحديد بين ألمانيا و: (سؤال وزارى)

أ ( روسيا. ب) إيطاليا. ج) النمسا. د ( فرنسا.

# تفصل جبال الهملايا بين: (سؤال وزارى)

أ ( الهند وباكستان. ب) الصين وروسيا. ج) الهند والصين. د ( روسيا ومنغوليا.

# تُشكل جبال الأنديز حداً طبيعياً فاصلاً بين: (سؤال وزارى)

أ ( تشيلي والأرجنتين. ب) الأرجنتين والبرازيل. ج) تشيلي والبيرو. د ( البيرو والأكوادور.

# تُشكل جبال الألب حدوداً طبيعية بين كل من: (سؤال وزارى)

أ ( فرنسا وإيطاليا وإسبانيا. ب) فرنسا وإيطاليا وسويسرا.

ج) فرنسا وإسبانيا وسويسرا. د ( فرنسا وإسبانيا وألمانيا.

# النهر الذي يفصل الحدود بين أراضي جنوب افريقيا وناميبيا هو: (سؤال وزارى)

أ ( نهر ريوجراند. ب) نهر الأورانج. ج) نهر النيل. د ( نهر الزمبيري.

# ظهرت فكرة ترسيم الحدود البحرية في القرن السابع عشر في كتابات العالم البريطاني: (سؤال وزارى)  
أ) رودلف كيلين. ب) راتزل. ج) هرتزل. د) جون سلدين.

# المسطح المائي الذي يفصل بين تركيا وكل من روسيا وأوكرانيا، هو: (سؤال وزارى)  
أ) بحر ايجيه. ب) البحر المتوسط. ج) البحر الأسود. د) بحر البلطيق.

# تُشكل المياه الدولية من مجمل مساحة البحار والمحيطات ما نسبته: (سؤال وزارى)  
أ) 34%. ب) 44%. ج) 54%. د) 64%.

# على الرغم من وجود المعاهدات والاتفاقيات بين الدول حول الحدود البحرية، إلا أنه يسود أحياناً بعض التوتر مثل التداخل في المياه الإقليمية في منطقة القنال الانجليزية بين: (سؤال وزارى)  
أ) بريطانيا واسبانيا. ب) بريطانيا وألمانيا. ج) بريطانيا وفرنسا. د) بريطانيا والبرتغال.

# يسود التوتر في منطقة القنال الانجليزية؛ لتداخل المياه الإقليمية والمنطقة الاقتصادية الخاصة بين:  
(سؤال وزارى)

أ) بريطانيا وفرنسا. ب) فرنسا واسبانيا. ج) فرنسا والبرتغال. د) بريطانيا واسبانيا.

# تُشكل البحيرات حدوداً سياسية بين العديد من الدول، ومن أبرز الأمثلة عليها البحيرات العظمى التي تفصل بين: (سؤال وزارى)

أ) أوغندا وكينيا. ب) الولايات المتحدة وكندا.  
ج) كينيا وتنزانيا. د) الولايات المتحدة والمكسيك.

# الحدود التي أوجدها الإنسان وتتميز باستقامتها ووضوحها وسهولة تخطيطها، هي الحدود: (سؤال وزارى)

أ) الطبيعية. ب) النهرية. ج) البحرية. د) الهندسية.

# أطول حد فلكي في العالم يقع بين دولتين هما: (سؤال وزارى)

أ) البرازيل والأرجنتين. ب) روسيا والصين. ج) الولايات المتحدة وكندا. د) الجزائر وليبيا.

# الحدود السياسية بين مصر والسودان هي من نوع الحدود: (سؤال وزارى)

أ) الفلكية. ب) الطبيعية. ج) البحرية. د) الخطوط المستقيمة.

# يمكن تعديل الحدود السياسية بين الدول كما حدث بين الأردن وكل من: (سؤال وزارى)

أ ( العراق وسوريا. ب) السعودية ومصر. ج) العراق والسعودية. د ( سوريا والسعودية.

# تم تعديل الحدود بين الأردن والسعودية عام: (سؤال وزارى)

أ ( 1945م. ب) 1955م. ج) 1965م. د ( 1975م.

# عدلت الأردن حدودها سنة 1965م مع: (سؤال وزارى)

أ ( العراق. ب) سوريا. ج) فلسطين. د ( السعودية.

# رُسمت الحدود بين الهند وباكستان على أساس: (سؤال وزارى)

أ ( لغوي. ب) دينى. ج) عرقى. د ( تاريخى.

# من الأمثلة على الحدود التي رُسمت أساس دينى: (سؤال وزارى)

أ ( الهند وباكستان. ب) صربيا وكرواتيا. ج) العراق وإيران. د ( ماليزيا وسنغافورة.

# هناك خلاف حدودى على الجزر الثلاث في الخليج العربى بين: (سؤال وزارى)

أ ( قطر وإيران. ب) الإمارات والبحرين. ج) قطر والبحرين. د ( الإمارات وإيران.

# النزاع الحدودى الذي لا يكون فيه الاختلاف بين الدول على مناطق جغرافية كبيرة المساحة، بل تختلف

على مكان وضع خط الحدود بصورة دقيقة يعرف بالنزاع على: (سؤال وزارى)

أ ( مناطق حدودية. ب) وضع الحدود. ج) وظيفة الحدود. د ( المصادر الطبيعية.

# حدث خلاف بين دولتي قطر والبحرين على جزر: (سؤال وزارى)

أ ( طناب الكبرى. ب) طناب الصغرى. ج) أبو موسى. د ( الحوار.

# انتهى الخلاف على جزر الحوار بصور قرار محكمة العدل العليا والذي تضمن: (سؤال وزارى)

أ ( سيادة قطر على جزر الحوار. ب) سيادة البحرين على جزر الحوار.

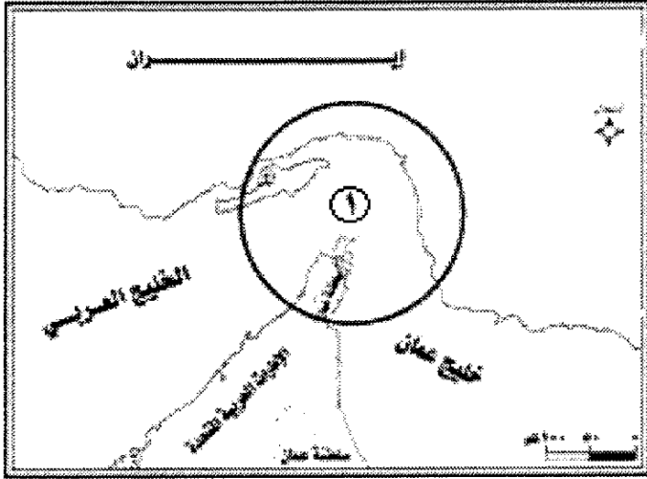
ج) سيادة العراق على جزر الحوار. د ( سيادة الكويت على جزر الحوار.

# صدر قرار محكمة العدل العليا عام 2001م بسيادة مملكة البحرين على جزر الحوار؛ لحل الخلاف

الحدودى بينها وبين دولة: (سؤال وزارى)

أ ( الكويت. ب) الإمارات العربية المتحدة. ج) قطر. د ( إيران.

# المضيق المائي المُشار إليه بالرقم (1) في الخريطة أدناه، مضيق: (سؤال وزارى)



- أ ( جبل طارق. )  
ب) باب المندب.  
ج) هرمز.  
د ( قناة السويس.

# يقع سد أتاتورك على نهر: (سؤال وزارى)

- أ ( دجلة. )  
ب) الأردن.  
ج) النيل.  
د ( الفرات.

# يصل مضيق جبل طارق بين: (سؤال وزارى)

- أ ( البحر المتوسط والبحر الأحمر. )  
ب) البحر الأحمر والمحيط الهندي.  
ج) البحر المتوسط والمحيط الأطلسي.  
د ( الخليج العربي والمحيط الهندي.

# المضيق الذي يربط بين الخليج العربي والمحيط الهندي هو مضيق: (سؤال وزارى)

- أ ( هرمز. )  
ب) باب المندب.  
ج) تيران.  
د ( جبل طارق.

# تُعد الصحراء الغربية أرضاً متنازحاً عليها بين: (سؤال وزارى)

- أ ( المغرب وجبهة البوليساريو. )  
ب) الجزائر وجبهة البوليساريو.  
ج) المغرب وجبهة الاستقلال.  
د ( الجزائر وجبهة الاستقلال.

# تُعد الصحراء الغربية أرضاً متنازحاً عليها بين جبهة البوليساريو ودولة: (سؤال وزارى)

- أ ( الجزائر. )  
ب) المغرب.  
ج) موريتانيا.  
د ( ليبيا.

# نشأ صراع على الصحراء الغربية بين جبهة البوليسارية و: (سؤال وزارى)

- أ ( الجزائر. )  
ب) موريتانيا.  
ج) المغرب.  
د ( إسبانيا.

# تدعم جامعة الدول العربية سيادة المغرب على الصحراء الغربية باستثناء: (سؤال وزارى)

- أ ( موريتانيا. )  
ب) الجزائر.  
ج) تونس.  
د ( ليبيا.

# نصت اتفاقية شط العرب سنة 1913م على أن شط العرب يبقى مفتوحاً أمام سفن الدول جميعها، وقد وقعت هذه الاتفاقية بين كل من: (سؤال وزارى)

- أ ( العراق وإيران.  
ب) الدولة العثمانية وإيران.  
ج) الدولة العثمانية والعراق.  
د ( الدولة العثمانية والدولة الصفوية.

# اعترفت العراق بحق إيران في الملاحة في شط العرب بعد عقد: (سؤال وزارى)  
أ ( اتفاقية باريس. ب) اتفاقية بغداد. ج) اتفاقية الرياض. د ( اتفاقية الجزائر.

# ظهر الخلاف على منطقة التبت بين: (سؤال وزارى)  
أ ( الصين واليابان. ب) الهند وباكستان. ج) الصين والهند. د ( الهند وبنغلادش.

# استولت الصين على منطقة التبت في عام: (سؤال وزارى)  
أ ( 1945م. ب) 1951م. ج) 1955م. د ( 1958م.

# من الدول التي ظهرت بعد تفكك الاتحاد السوفييتي: (سؤال وزارى)  
أ ( صربيا. ب) استونيا. ج) مقدونيا. د ( الجبل الأسود.

# من الدول التي ظهرت بعد تفكك الاتحاد السوفييتي: (سؤال وزارى)  
أ ( كرواتيا. ب) كوسوفو. ج) أذربيجان. د ( سلوفينيا.

# مجموعة من الأفراد تنتمي إلى سلالة تختلف عن سلالة أكثرية أفراد المجتمع الذي تعيش فيه، هي الأقليات: (سؤال وزارى)

- أ ( القومية. ب) الدينية. ج) اللغوية. د ( العرقية.