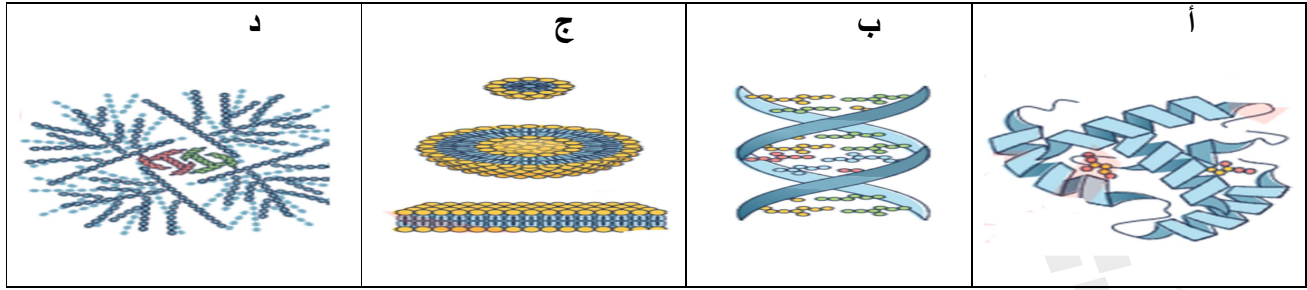
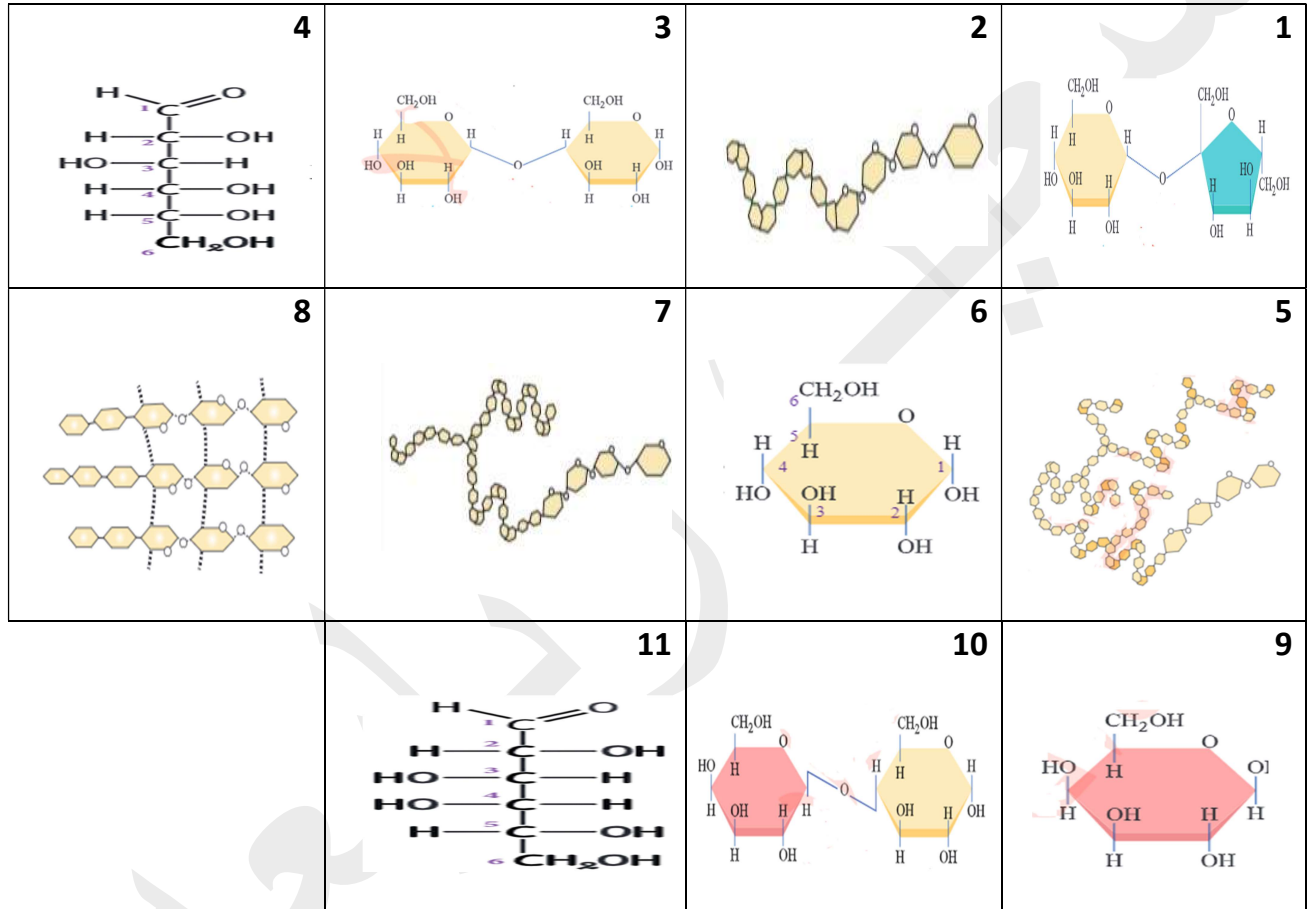


س 1 : ما اسم المركب العضوي الحيوي الذي يشير له كل شكل من الاشكال الاتية ؟



س 2 : ادرس الاشكال (1 - 11) ثم اجب عن الاسئلة التي تليها .



1- ما اسم السكر الذي يشير له كل شكل من الاشكال الاتية ؟

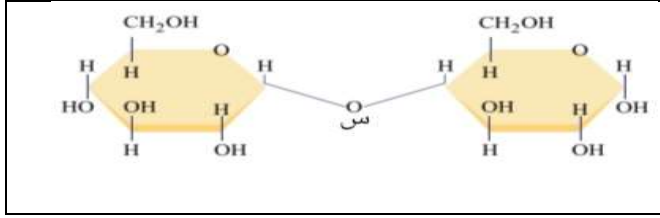
2- حدد ارقام الاشكال التي تشير الى سكر احادي والارقام التي تشير الى سكر ثنائي والارقام التي تشير الى سكر متعدد ؟

3- ما اهمية السكر رقم (5) واين يتم تخزينه في اجسام الحيوانات

4- ما هي ارقام السكريات المتعددة التي يتكون منها النشا

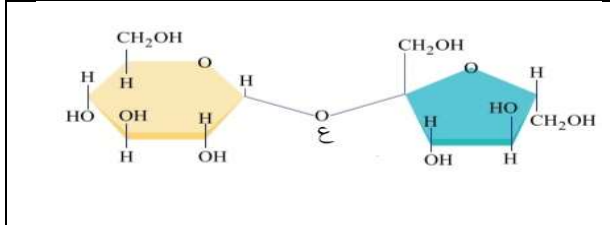


س 3 : ادرس الشكل واجب عن الاسئلة :



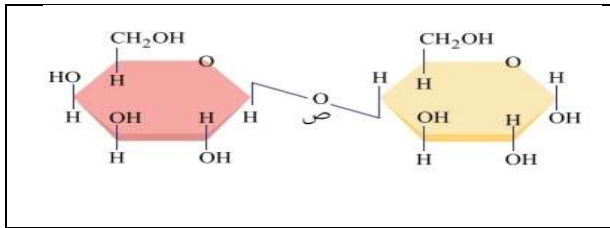
- 1- ما اسم هذا السكر
- 2- سم الوحدات البنائية التي يتكون منها السكر
- 3- ما نوع الرابطة (س) ؟ وضح كيف تكونت هذه الرابطة

س 4 : ادرس الشكل واجب عن الاسئلة :



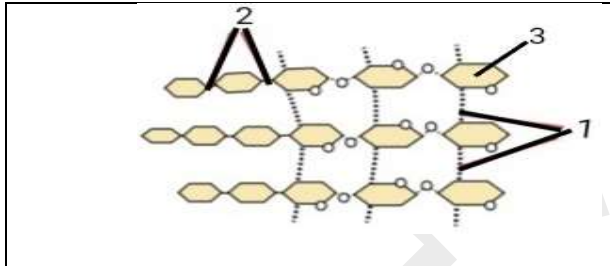
- 1- ما اسم هذا السكر
- 2- سم الوحدات البنائية التي يتكون منها السكر
- 3- ما نوع الرابطة (ع) ؟ وضح كيف تكونت هذه الرابطة

س 5 : ادرس الشكل واجب عن الاسئلة :



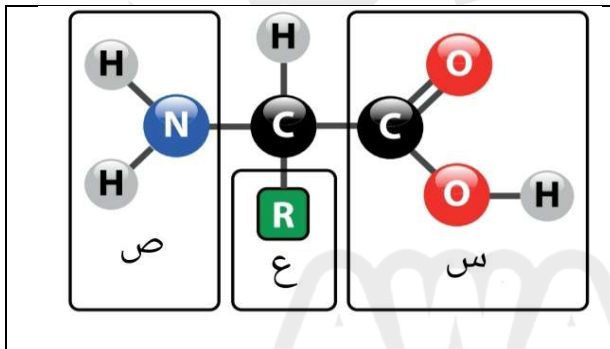
- 1- ما اسم هذا السكر
- 2- سم الوحدات البنائية التي يتكون منها السكر
- 3- ما نوع الرابطة (س) ؟ وضح كيف تكونت هذه الرابطة

س 6 : ادرس الشكل واجب عن الاسئلة :



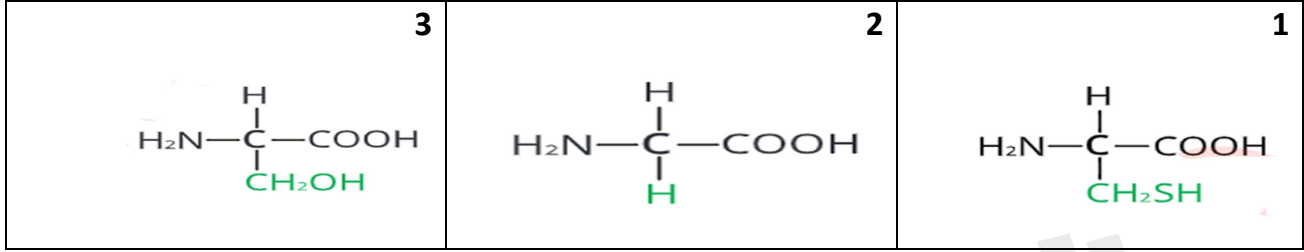
- 1- ما اسم هذا السكر
- 2- في اي اجزاء النبات يوجد هذا السكر
- 3- ما اهمية هذا السكر للنبات
- 4- سم السكر المشار له بالرقم (3)
- 5- ما نوع الرابطة (1) والرابطة (2)

س 7 : ادرس الشكل واجب عن الاسئلة :




- 1- الى ماذا يشير الشكل
- 2- سم الاجزاء (س ، ص ، ع)
- 3- ما هي المجموعات الوظيفية التي تميز هذا المركب عن غيره من المركبات
- 4- يعتبر هذا الشكل الوحدة الاساسية لبناء احد المركبات العضوية الحيوية في الجسم ، اذكر اسم هذا المركب

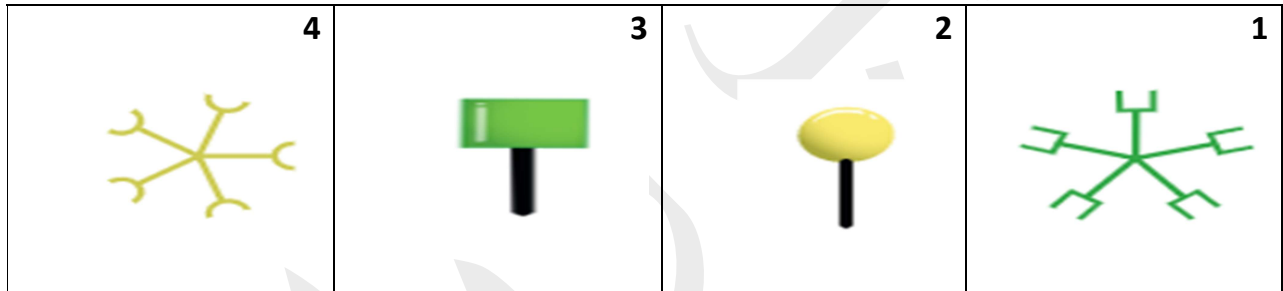
س 8 : سم الاحماض الامينية التي يمثلها كل شكل من الاشكال الاتية :



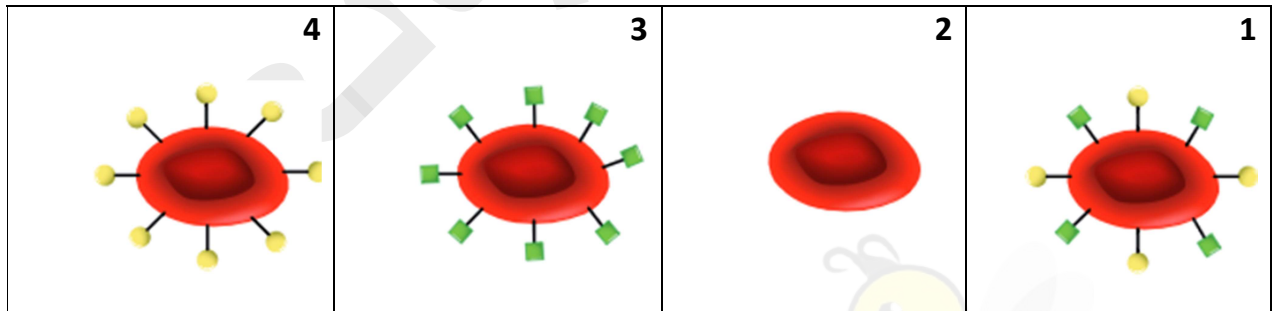
س 9 : الى ماذا تشير الاشكال (س ، ص ، ع) ثم اذكر وظيفة كل شكل ؟



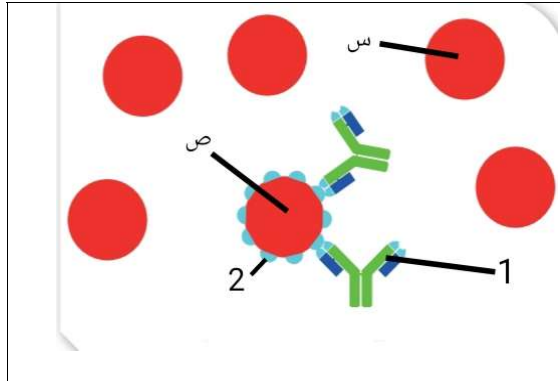
س 10 : الى ماذا يشير كل شكل من الاشكال (1 ، 2 ، 3 ، 4) ؟



س 11 : حدد فصيلة الدم في كل شكل من الاشكال (1 ، 2 ، 3 ، 4) ثم اذكر انواع مولدات الضد والاجسام المضادة في كل فصيلة ؟

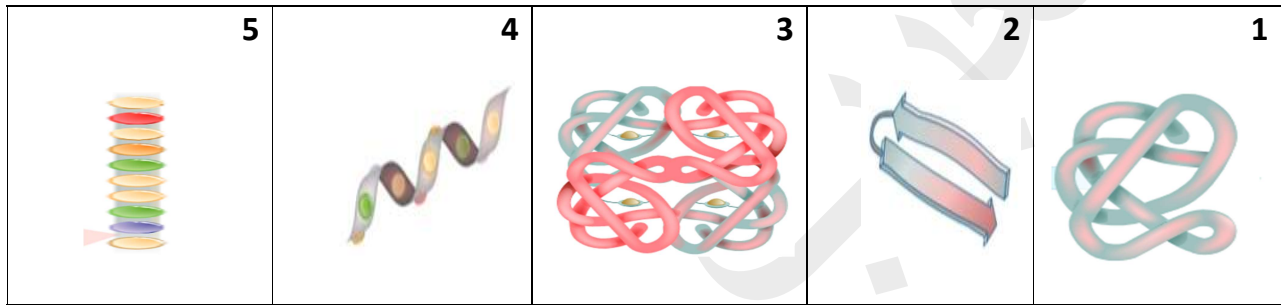


س 12 : ادرس الشكل المجاور الذي يمثل عملية نقل دم من شخص موجب العامل الريزيسي الى شخص سالب العامل الريزيسي ثم اجب عن الاسئلة ؟

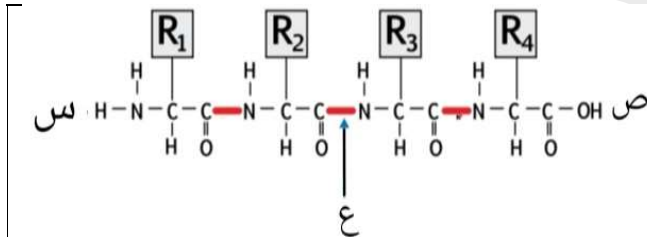


- 1- حدد العامل الريزيسي (Rh) لخلية الدم (س) وخلية الدم (ص)
- 2- الى ماذا يشير الرقم (1) والرقم (2)
- 3- ما سبب تكون الجزء رقم (1)
- 4- ماذا يحدث عند ارتباط الجزء (1) بالجزء (2)

س 13 : حدد مستوى التركيب لكل بروتين من البروتينات الاتية ؟ ثم حدد عدد السلاسل التي يتكون منها كل تركيب

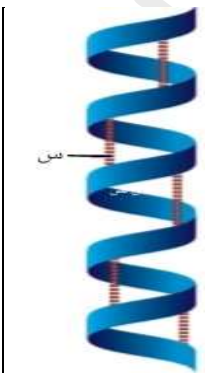


س 14 : ادرس الشكل المجاور ثم اجب عن الاسئلة ؟



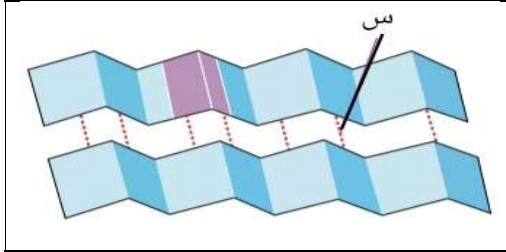
- 1- الى ماذا يشير الرمز (س) و (ص)
- 2- كم عدد الاحماض الامينية في الشكل
- 3- ما نوع الرابطة المشار لها بالرمز (ع)
- 4- كيف تكونت الرابطة (ع)
- 5- ما هو مستوى التركيب البروتيني الذي يمثله الشكل

س 15 : ادرس الشكل ثم اجب عن الاسئلة



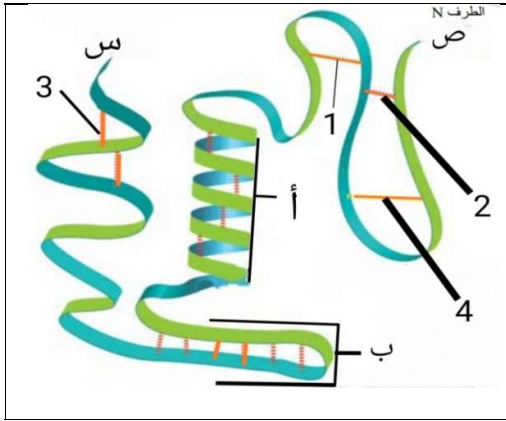
- 1- ما هو مستوى التركيب البروتيني الذي يمثله الشكل
- 2- ما هو نوع الرابطة (س)
- 3- كيف تكون هذا التركيب البروتيني
- 4- من اي مجموعة وظيفية يتم نزع ذرة الاكسجين لتكوين الرابطة (س)
- 5- من اي مجموعة وظيفية يتم نزع ذرة الهيدروجين لتكوين الرابطة (س)
- 6- ما اهمية الرابطة (س)
- 7- كم يبعد الحمض الاميني عن الحمض الاميني الاخر الذي تتكون بينهما الرابطة (س)

س 16 : ادرس الشكل ثم اجب عن الاسئلة




- 1- ما هو مستوى التركيب البروتيني الذي يمثله الشكل
- 2- ما هو نوع الرابطة (س)
- 3- كيف تكون هذا التركيب البروتيني
- 4- ما اهمية الرابطة (س)

س 17 : ادرس الشكل ثم اجب عن الاسئلة



- 1- ما هو مستوى التركيب البروتيني الذي يمثله الشكل
- 2- ما اسم المجموعة الوظيفية التي يمثها الرمز (س) والرمز (ص)
- 3- الى ماذا يشير الرمز (أ) والرمز (ب)
- 4- ما نوع الرابطة المشار لها بالارقام (1 ، 2 ، 3 ، 4)
- 5- ماذا يحدث لهذا البروتين لو فقد تركيبه
- 6- أعط مثلا مستوى التركيب البروتيني الذي يمثله الشكل

س 18 : ادرس الشكل ثم اجب عن الاسئلة



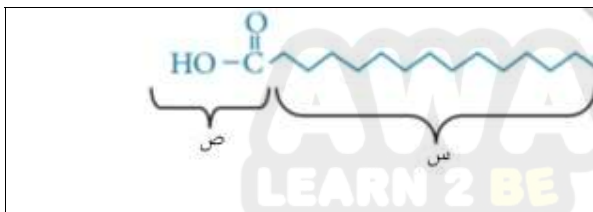
- 1- ما هو المستوى التركيبي الذي يمثله الشكل
- 2- ما نوع السلسلة (1) والسلسلة (2)
- 3- كم عدد السلاسل التي يتكون منها هذا البروتين
- 4- كم عدد انواع السلاسل التي يتكون منها هذا البروتين
- 5- ما هي انواع الروابط التي تعمل على تثبيت هذا البروتين
- 6- ما اهمية هذا البروتين

س 19 : ادرس الشكل واجب عن الاسئلة



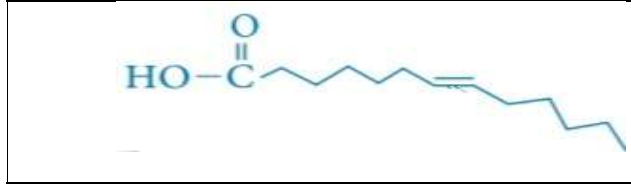
- 1- ما اسم هذا الجزيء
- 2- سم الاجزاء (س) ، (ص)
- 3- ما هي العناصر التي يتكون منها الجزء (س)

س 20 : ادرس الشكل واجب عن الاسئلة



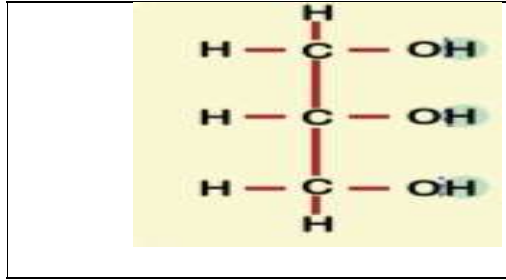
- 1- سم الاجزاء (س) ، (ص)
- 2- ما هي العناصر التي يتكون منها الجزء (س)
- 3- هل الحمض الدهني مشبع ام غير مشبع ؟ ولماذا ؟

س 21 : ادرس الشكل واجب عن الاسئلة



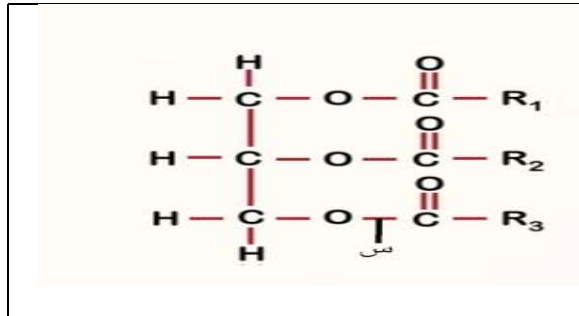
- 1- ما اسم هذا الجزيء
- 2- هل هذا الجزيء مشبع ام غير مشبع ؟ ولماذا ؟

س 22 : ادرس الشكل واجب عن الاسئلة



- 1- سم هذا الجزيء
- 2- كم عدد الجزيئات اللازمة من هذا الجزيء لتكوين كل من :
جزيء دهن ثلاثي ، ليبيد مفسفر
- 3- ما هي الذرة التي يتم نزعها من هذا الجزيء عند تكوين الرابطة الاسترية

س 23 : ادرس الشكل واجب عن الاسئلة



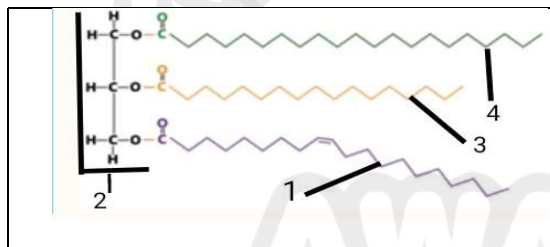
- 1- سم هذا الجزيء
- 2- ما نوع الرابطة (س)
- 3- كيف تكونت الرابطة (س)
- 4- مما يتكون هذا الجزيء

س 24 : ادرس الشكل واجب عن الاسئلة



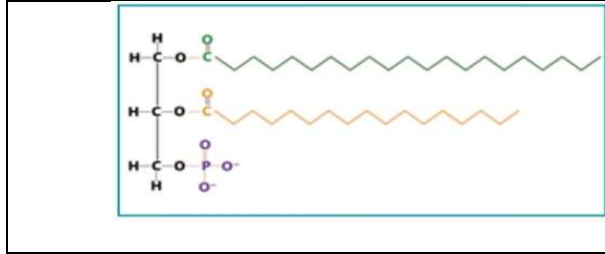
- 1- ما اسم هذا الجزيء
- 2- هل هذا الجزيء مشبع ام غير مشبع ؟ ولماذا ؟

س 25 : ادرس الشكل واجب عن الاسئلة



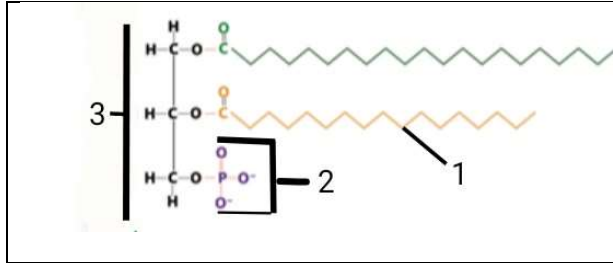
- 1- سم الاجزاء (1 ، 2)
- 2- ما اسم هذا الجزيء الذي يمثله الشكل
- 3- ما الرقم (الارقام) الذي يمثل حمض دهني غير مشبع
- 4- ما الرقم (الارقام) التي تمثل حمض دهني مشبع

س 26 : ادرس الشكل واجب عن الاسئلة



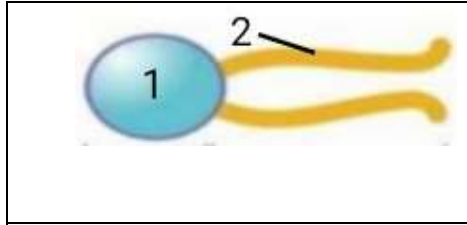
- 1- ما اسم هذا الجزيء
- 2- ما سبب تسمية هذا الجزيء
- 3- ما هي مكونات هذا الجزيء
- 4- ما اهمية هذا الجزيء في الغشاء البلازمي

س 27 : ادرس الشكل واجب عن الاسئلة



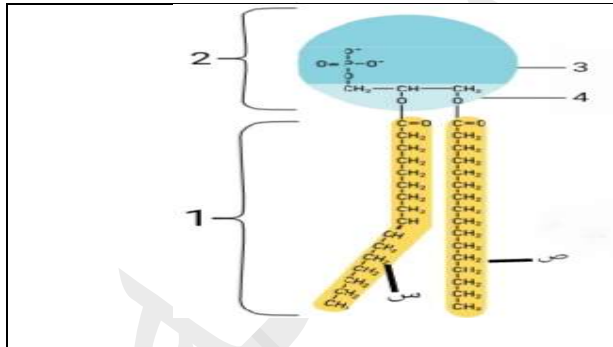
- 1- سم الجزيء الذي يمثله الشكل
- 2- سم الاجزاء (1 ، 2 ، 3)

س 28 : ادرس الشكل واجب عن الاسئلة



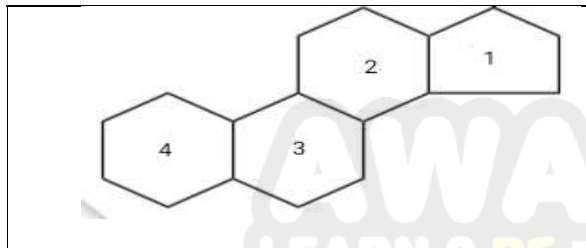
- 1- سم الجزيء الذي يمثله الشكل
- 2- سم الاجزاء (1 ، 2)
- 3- أي الاجزاء (1 ، 2) يتجه للخارج في الغشاء البلازمي
- 4- كيف تكون الجزء (1) والجزء (2)

س 29 : ادرس الشكل واجب عن الاسئلة



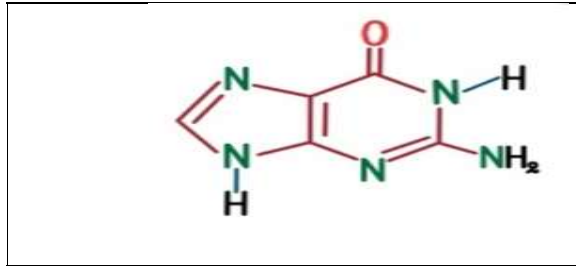
- 1- ما اسم هذا الجزيء
- 2- سم الاجزاء (1 ، 2 ، 3 ، 4)
- 3- كيف تكون الجزء (1) والجزء (2)
- 4- أي الاجزاء (س ، ص) مشبعة وايها غير مشبعة

س 30 : ادرس الشكل واجب عن الاسئلة



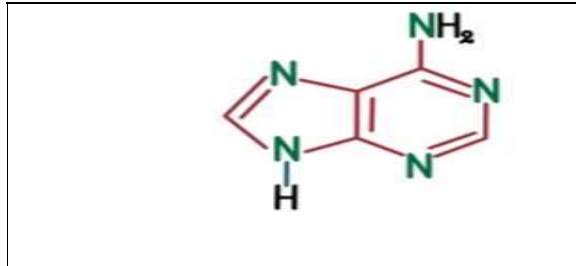
- 1- سم الجزيء الذي يمثله الشكل
- 2- ما رقم الحلقة الكربونية التي ترتبط بها المجموعة الكيميائية

س 31 : ادرس الشكل واجب عن الاسئلة



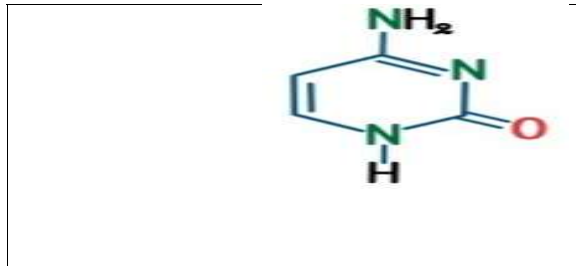
- 1- سم القاعدة النيتروجينية في الشكل
- 2- هل هذه القاعدة من البيريميدينات أم البيورينات
- 3- ما اسم القاعدة النيتروجينية التي ترتبط بها هذا القاعدة في السلسلة المقابلة لجزيء DNA
- 4- في أي أنواع الحموض النووية توجد هذه القاعدة

س 32 : ادرس الشكل واجب عن الاسئلة



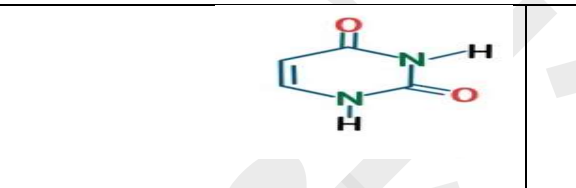
- 1- سم القاعدة النيتروجينية في الشكل
- 2- هل هذه القاعدة من البيريميدينات أم البيورينات
- 3- ما اسم القاعدة النيتروجينية التي ترتبط بها هذا القاعدة في السلسلة المقابلة لجزيء DNA
- 4- في أي أنواع الحموض النووية توجد هذه القاعدة

س 33 : ادرس الشكل واجب عن الاسئلة



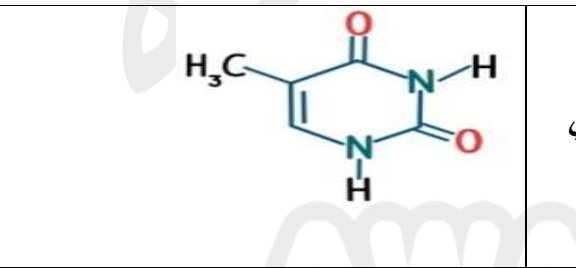
- 1- سم القاعدة النيتروجينية في الشكل
- 2- هل هذه القاعدة من البيريميدينات أم البيورينات
- 3- ما اسم القاعدة النيتروجينية التي ترتبط بها هذا القاعدة في السلسلة المقابلة لجزيء DNA
- 4- في أي أنواع الحموض النووية توجد هذه القاعدة

س 34 : ادرس الشكل واجب عن الاسئلة



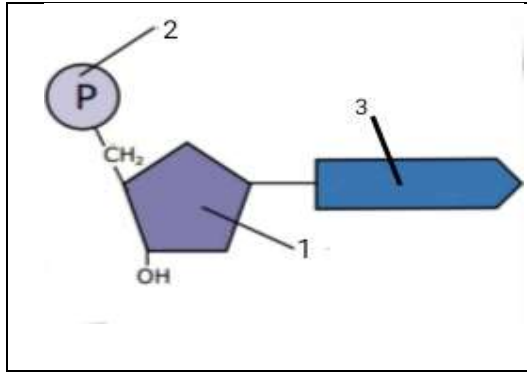
- 1- سم القاعدة النيتروجينية في الشكل
- 2- هل هذه القاعدة من البيريميدينات أم البيورينات
- 3- في أي أنواع الحموض النووية توجد هذه القاعدة

س 35 : ادرس الشكل واجب عن الاسئلة



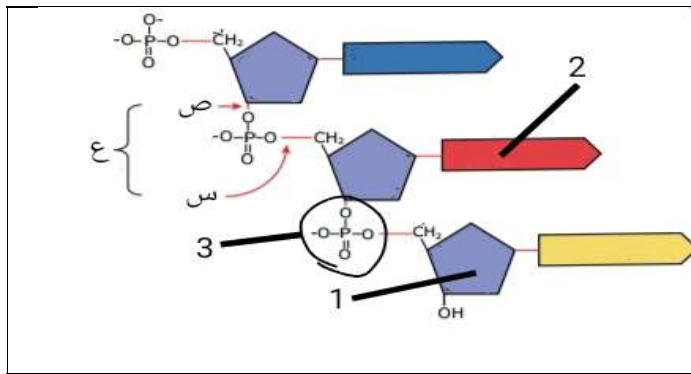
- 1- سم القاعدة النيتروجينية في الشكل
- 2- هل هذه القاعدة من البيريميدينات أم البيورينات
- 3- ما اسم القاعدة النيتروجينية التي ترتبط بها هذا القاعدة في السلسلة المقابلة لجزيء DNA
- 4- في أي أنواع الحموض النووية توجد هذه القاعدة

س 36 : ادرس الشكل الذي يمثل جزء من DNA ، واجب عن الاسئلة



- 1- سم الجزيء الذي يمثله الشكل
- 2- سم الاجزاء (1 ، 2 ، 3)
- 3- اكتب الصيغة الجزيئية للجزء رقم (1)
- 4- ما هو رقم ذرة الكربون في الجزء رقم (1) التي ترتبط بالجزء رقم (3)
- 5- ما هو رقم ذرة الكربون في الجزء رقم (1) التي ترتبط بالجزء رقم (2)

س 37 : ادرس الشكل واجب عن الاسئلة



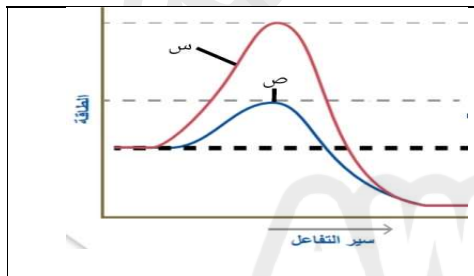
- 1- سم الاجزاء (1 ، 2 ، 3)
- 2- ما نوع الرابطة (س) والرابطة (ص)
- 3- ما رقم الجزء الذي يختلف بين نيوكليوتيد واخر
- 4- ما نوع الرابطة بين الجزء رقم (2) وسلسلة DNA المقابلة .

س 38 : ادرس الشكل واجب عن الاسئلة



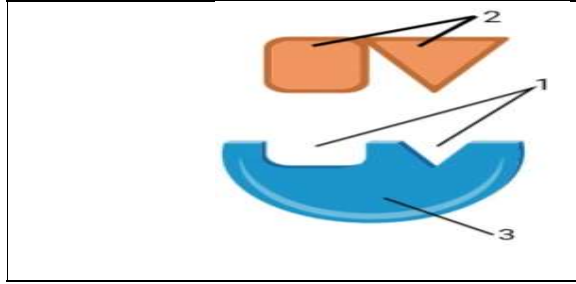
- 1- صنف الحمض النووي في الشكل المجاور إلى DNA أو RNA ، فسراجابتك.
- 2- ما نسبة السايتوسين في قطعة من DNA إذا كانت نسبة الغوانين فيها (42%)؟
- 3- فسر : نسبة البيورينات إلى نسبة البيريميديئات في DNA ثابتة

س 39 : ادرس الشكل واجب عن الاسئلة



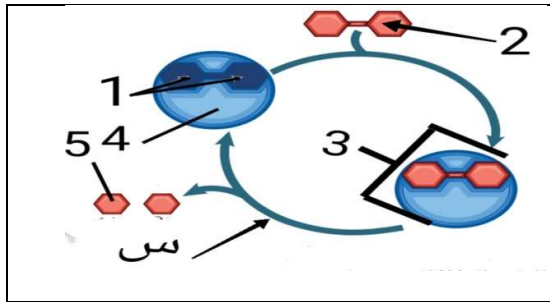
- 1- في اي الحالتين (س ، ص) تم استخدام انزيم ؟ ولماذا ؟
- 2- في اي الحالتين (س ، ص) لم يتم استخدام انزيم ؟ ولماذا ؟
- 3- في اي الحالتين (س ، ص) تكون طاقة التنشيط اقل ؟ ولماذا ؟

س 40 : ادرس الشكل واجب عن الاسئلة



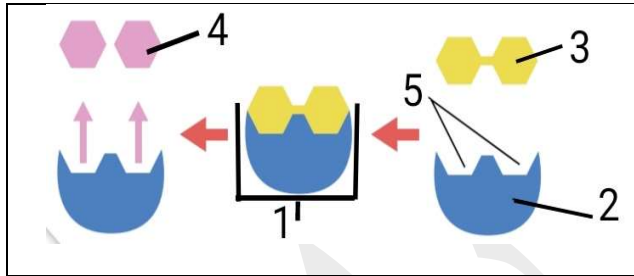
- 1- سم الاجزاء (1 ، 2 ، 3)
- 2- ما هي مكونات الجزء رقم (1)
- 3- ما اهمية الجزء (1) والجزء (2)

س 41 : ادرس الشكل الذي يمثل الية عمل انزيم المالتيز واجب عن الاسئلة



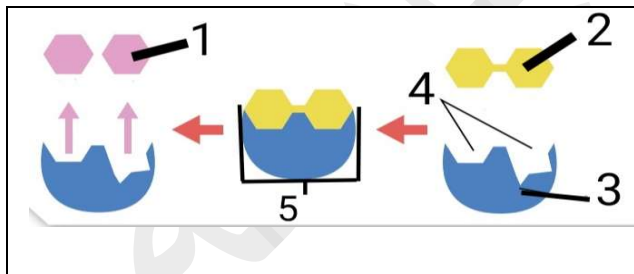
- 1- الى ماذا يشير كل رقم من الارقام (1 ، 2 ، 3 ، 4 ، 5)
- 2- ما هي مكونات الجزء رقم (3)
- 3- سم المادة المشار لها بالرمز (س)

س 42 : ادرس الشكل واجب عن الاسئلة



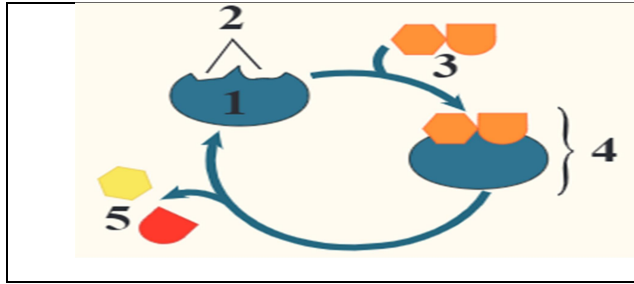
- 1- الى ماذا يشير كل رقم من الارقام (1 - 5)
- 2- ما اسم هذه الفرضية
- 3- ما اهمية الجزء (5)
- 4- هل يستطيع الجزء (5) الارتباط باكثر من شكل للمادة متفاعلة ؟ ولماذا ؟

س 43 : ادرس الشكل واجب عن الاسئلة



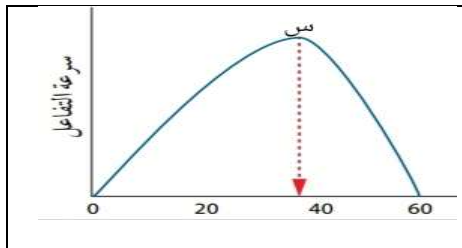
- 1- الى ماذا يشير كل رقم من الارقام (1 - 5)
- 2- ما اسم هذه الفرضية
- 3- ما اهمية الجزء (4)
- 4- هل يستطيع الجزء (4) الارتباط باكثر من شكل للمادة متفاعلة ؟ ولماذا ؟

س 44 : ادرس الشكل واجب عن الاسئلة



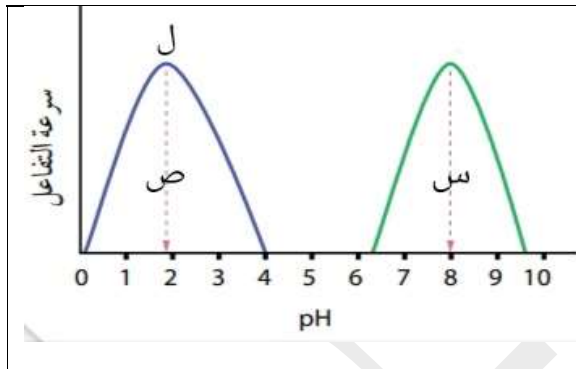
- 1- اكتب اسم هذه الفرضية.
- 2- اكتب اسم المفهوم الذي تشير إليه كل من الأرقام الآتية: (1)، (2)، (3) (4) (5)
- 3- وضح : ماذا سيحدث لنشاط إنزيم يعمل في درجة حرارة مثلى 37°C ، إذا استخدم في تفاعل درجة حرارته 60°C ؟ برر إجابتك؟

س 45 : ادرس الشكل واجب عن الاسئلة ، علما ان الارقام تشير الى درجة حرارة التفاعل .



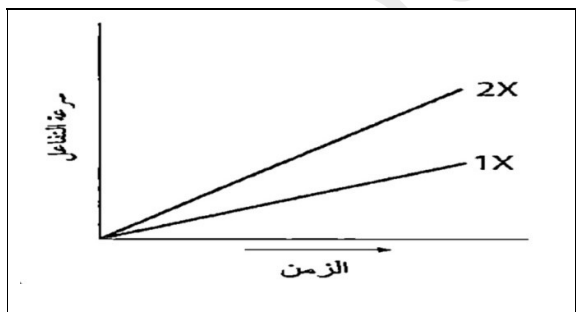
- 1- ماذا تسمى درجة الحرارة (س)
- 2- ماذا يحدث للإنزيم بعد درجة الحرارة (س)
- 3- ما العلاقة بين درجة الحرارة وسرعة التفاعل قبل النقطة (س)
- 4- ما العلاقة بين درجة الحرارة وسرعة التفاعل بعد النقطة (س)

س 46 : ادرس الشكل واجب عن الاسئلة



- 1- اي الشكلين (س ، ص) يمثل انزيم الببسين وايها يمثل انزيم التربسين
- 2- ماذا يسمى الرقم الهيدروجيني في النقطة (ل)
- 3- ما العلاقة بين الرقم الهيدروجيني وسرعة التفاعل قبل النقطة (ل)
- 4- ما العلاقة بين الرقم الهيدروجيني وسرعة التفاعل بعد النقطة (ل)

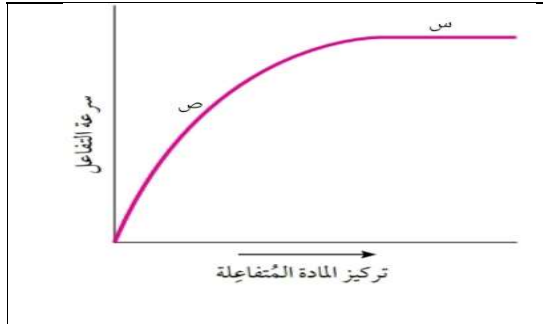
س 47 : ادرس الشكل الذي يمثل تفاعلين الاول تركيزه (1X) والثاني تركيزه (2X) واجب عن الاسئلة



- 1- صف العلاقة بين تركيز الإنزيم وسرعة التفاعل
- 2- صف العلاقة بين الزمن وسرعة التفاعل

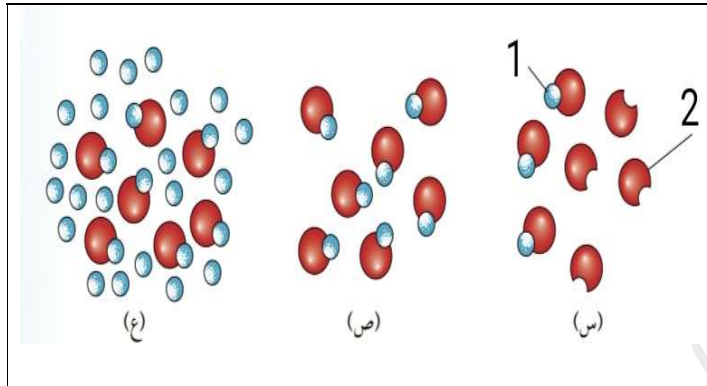
AWAZEL
LEARN 2 BE

س 48 : ادرس الشكل واجب عن الاسئلة



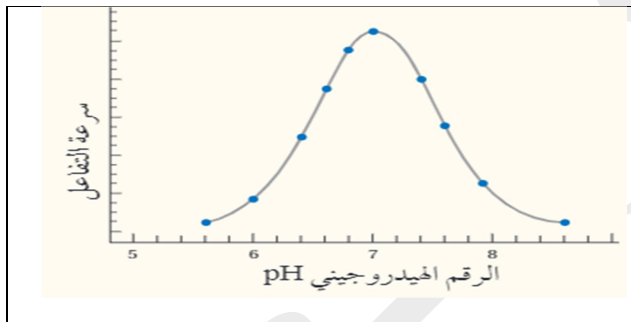
- 1- ما سبب زيادة سرعة التفاعل عند النقطة (ص)
- 2- ما سبب ثبات سرعة التفاعل عند النقطة (س)

س 49 : ادرس الشكل واجب عن الاسئلة



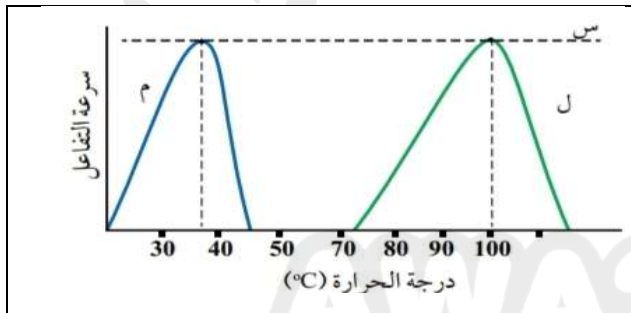
- 1- سم الاجزاء (1 ، 2)
- 2- أي الحالات (س، ص، ع) يمكن فيها زيادة سرعة التفاعل عند زيادة تركيز المادة المتفاعلة ؟ ولماذا ؟
- 3- حدد الحالات التي لا يمكن فيها زيادة سرعة التفاعل مها زاد تركيز المادة المتفاعلة ؟ ولماذا ؟

س 50 : ادرس الشكل واجب عن الاسئلة



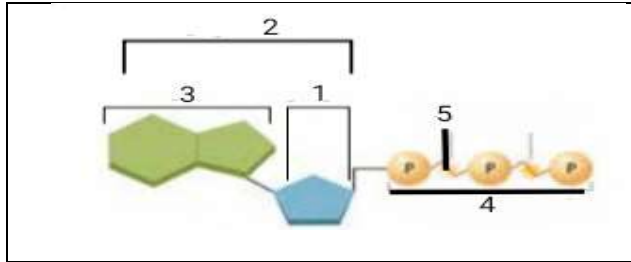
- أ- حدد الرقم الهيدروجيني الأمثل لعمل هذا الإنزيم
- ب- أستنتج: كيف تعرف أن هذا الإنزيم ليس إنزيم الببسين ، برر اجابتك؟

س 51 : ادرس الشكل واجب عن الاسئلة



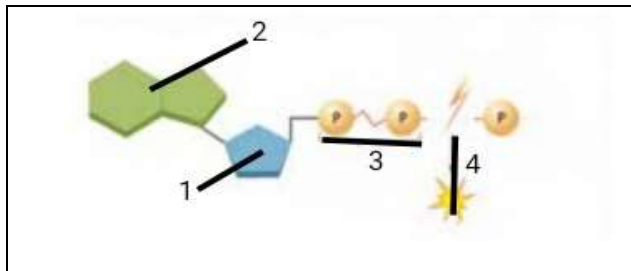
- أ. ماذا تسمى درجة الحرارة التي يصل فيها نشاط الإنزيم إلى النقطة س؟
- ب. أي الكائنات يمثل بكتيريا تعيش في المياه الحارة ، فسر إجابتك؟

س 52 : ادرس الشكل واجب عن الاسئلة



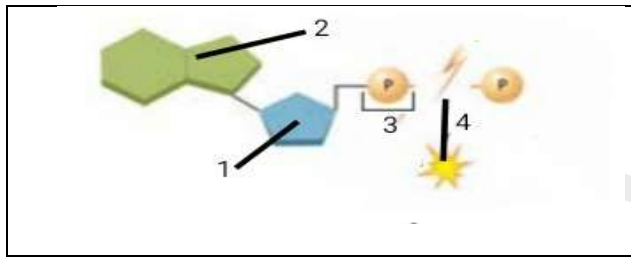
- 1- الى ماذا تشير الارقام (1 - 5) على الشكل
- 2- سم هذا الجزيء
- 3- ما رقم الجزء الذي يشير الى مكان تخزين الطاقة

س 53 : ادرس الشكل واجب عن الاسئلة



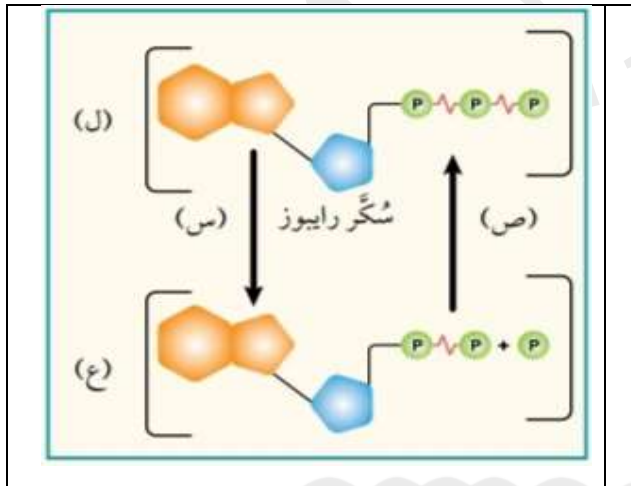
- 1- الى ماذا تشير الارقام (1 - 5) على الشكل
- 2- سم هذا الجزيء

س 54 : ادرس الشكل واجب عن الاسئلة



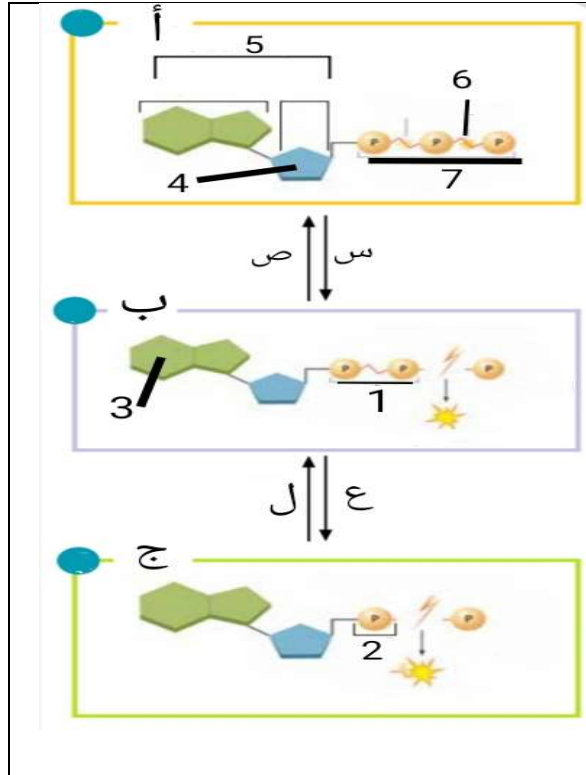
- 1- الى ماذا تشير الارقام (1 - 5) على الشكل
- 2- سم هذا الجزيء

س 55 : ادرس الشكل واجب عن الاسئلة



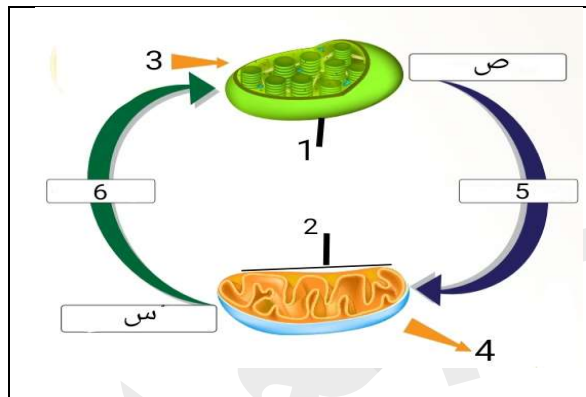
- 1- ما اسم كل من الجزيء المشار إليه بالرمز (ج)، والجزيء المشار إليه بالرمز (ع)؟
- 2- سم الانزيم المستخدم في الخطوة (ص) والانزيم المستخدم في الخطوة (س)

س 56 : ادرس الشكل واجب عن الاسئلة



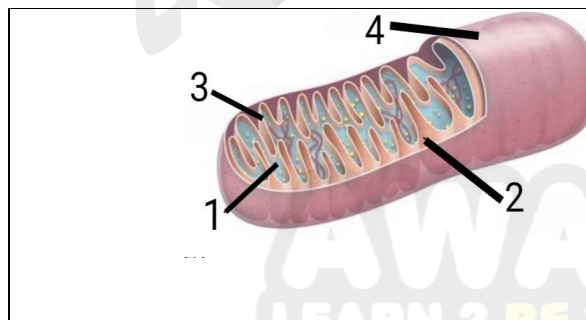
- 1- الى ماذا تشير الارقام (1-6) على الشكل
- 2- سم الانزيم المستخدم في الخطوة (س)
- 3- سم الانزيم المستخدم في الخطوة (ص)
- 4- ما اسم العملية (ع)
- 5- ما اسم العملية (ل)
- 6- سم الجزيئات المشار اليها بالاحرف (أ ، ب ، ج)
- 7- اي الجزيئات (أ ، ب ، ج) يمتلك طاقة اعلى ، وايها يمتلك طاقة أقل
- 8- كم مجموعة فسفات نحتاج في كل حالة مما يلي :
 - تحويل الجزيء (ج) الى الجزيء (ب)
 - تحويل الجزيء (ب) الى الجزيء (أ)
 - تحويل الجزيء (ج) الى الجزيء (أ)
- 9- كم مجموعة فسفات ينتج في كل حالة مما يلي :
 - تحويل الجزيء (أ) الى الجزيء (ب)
 - تحويل الجزيء (ب) الى الجزيء (ج)
 - تحويل الجزيء (أ) الى الجزيء (ج)

س 57 : ادرس الشكل واجب عن الاسئلة



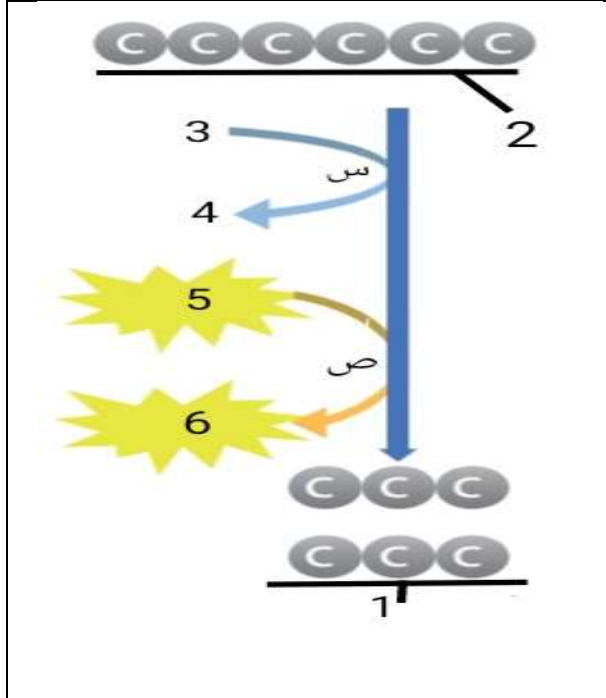
- 1- سم العضيات (1 ، 2)
- 2- سم عمليات الايض (س ، ص)
- 3- سم المادتان المشار لهما بالرقم (5) والمادتان المشار لهما بالرقم (6)
- 4- الى ماذا يشير الرقمين (3 ، 4)
- 5- في اي انواع الخلايا توجد العضية (1) والعضية (2)

س 58 : ادرس الشكل واجب عن الاسئلة



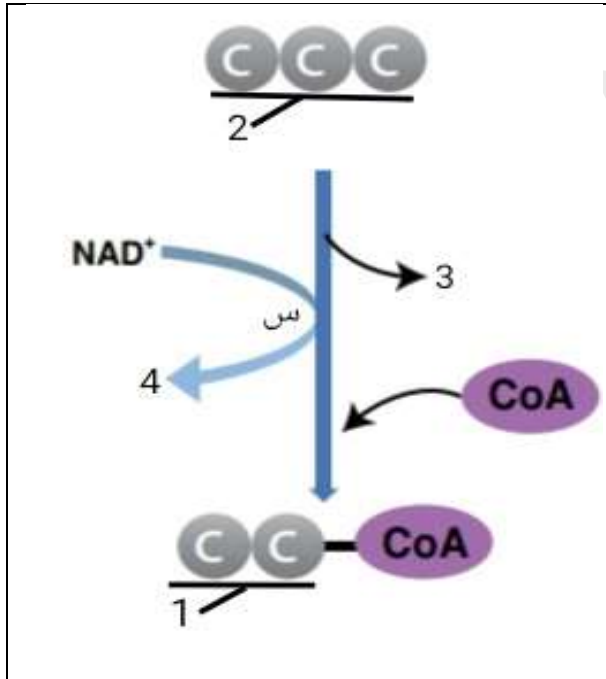
- 1- سم العضوي الذي يمثله الشكل
- 2- سم الاجزاء (1-4)
- 3- في انواع الخلايا توجد هذه العضية
- 4- ما هي عملية الايض التي تحدث في هذه العضية
- 5- ما اهمية الجزء رقم (3)
- 6- ما هي محتويات الجزء رقم (1)

س 59 : ادرس الشكل واجب عن الاسئلة



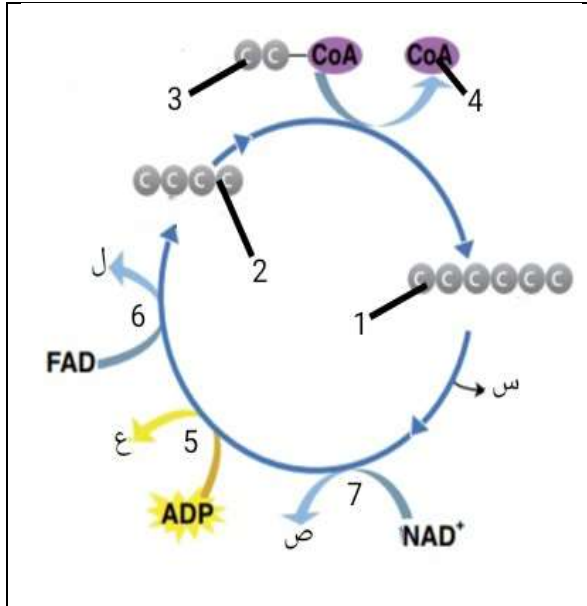
- 1- ما اسم هذه المرحلة من التنفس الخلوي
- 2- في اي اجزاء الخلية تحدث هذه المرحلة
- 3- هل تحتاج هذه المرحلة للاكسجين ؟
- 4- سم كل مما يلي :
 - المركبان (1 ، 2) - العمليتان (س ، ص)
 - الجزيئات (3 ، 4 ، 5 ، 6)
- 5- ما هو عدد جزيئات كل من : الجزيء (4) و الجزيء (6)
- 6- ما هو عدد جزيئات ATP الناتجة بشكل مباشر من هذه المرحلة
- 7- ما هو عدد جزيئات ATP الناتجة بشكل غير مباشر (الفسفرة التأكسدية) من هذه المرحلة
- 8- ما هو عدد جزيئات ATP الناتجة بشكل كامل من هذه المرحلة

س 60 : ادرس الشكل واجب عن الاسئلة



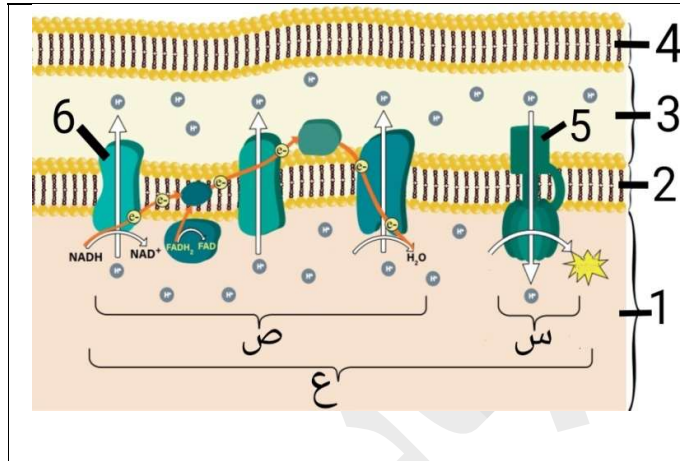
- 1- سم المركبان (1 ، 2)
- 2- سم المادة (4) وحدد عددها
- 3- سم المادة المنزوعة رقم (3) وحدد عددها
- 4- ما هو مصير المادة (1) والمادة (3)
- 5- ما هو عدد جزيئات ATP الناتجة بشكل مباشر من الخطوة التي يمثلها الشكل
- 6- ما هو عدد جزيئات ATP الناتجة بشكل غير مباشر (الفسفرة التأكسدية) من الخطوة التي يمثلها الشكل
- 7- ما هو عدد جزيئات ATP الناتجة بشكل كامل من الخطوة التي يمثلها الشكل

س 61 : ادرس الشكل واجب عن الاسئلة



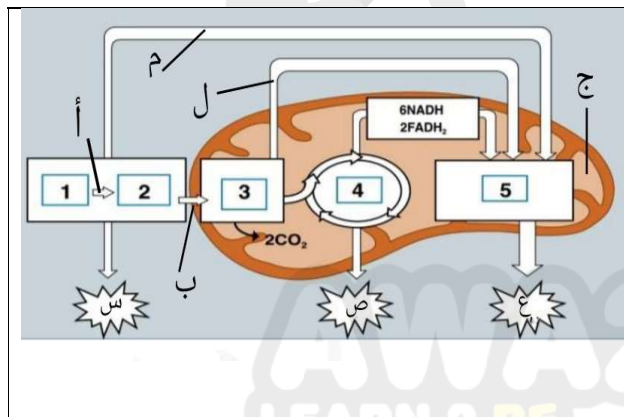
- 1- ما اسم الخطوة من خطوات التنفس الهوائي التي يمثلها الشكل
- 2- سم المركبات (1 ، 2 ، 3)
- 3- سم المادة (4) وحدد اهميتها
- 4- سم العمليات (5 ، 6 ، 7)
- 5- سم المواد (س ، ص ، ع ، ل) وحدد عدد كل منهما
- 6- ما هو عدد جزيئات ATP الناتجة بشكل مباشر من الخطوة التي يمثلها الشكل
- 7- ما هو عدد جزيئات ATP الناتجة بشكل غير مباشر (الفسفرة التأكسدية) من الخطوة التي يمثلها الشكل
- 8- ما هو عدد جزيئات ATP الناتجة بشكل كامل من الخطوة التي يمثلها الشكل

س 62 : ادرس الشكل واجب عن الاسئلة



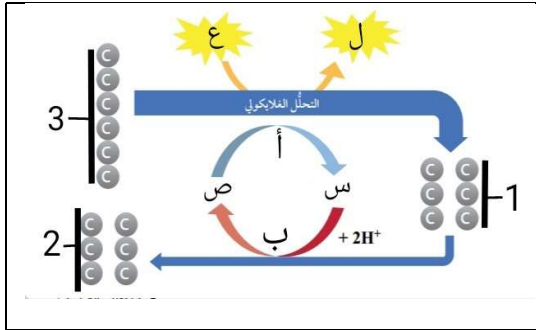
- 1- سم اجزاء الميتوكوندريا (1 - 4)
- 2- سم المادتان (5 ، 6)
- 3- الى ماذا تشير الاحرف (س ، ص ، ع)
- 4- ما هو اتجاه انتقال البروتونات في الجزء (5) والجزء (6)
- 5- ما هو سبب ووسيلة انتقال البروتونات من الجزء (1) الى الجزء (3)
- 6- ما هو سبب ووسيلة انتقال البروتونات من الجزء (3) الى الجزء (1)

س 63 : ادرس الشكل واجب عن الاسئلة



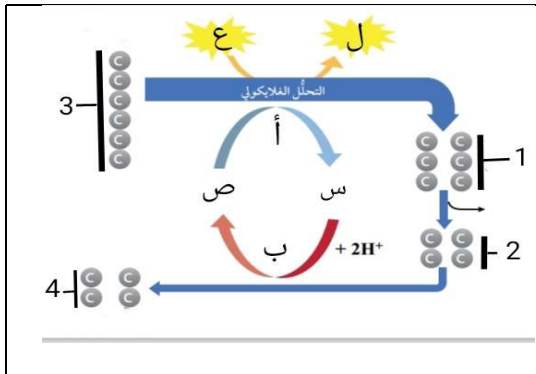
- 1- سم كل مما يلي :
- العمليتان (أ ، ب) ، العضية (ج)
- 2- الى ماذا تشير الارقام (1 - 5)
- 3- كم عدد جزيئات ATP في كل من (س ، ص ، ع)
- 4- الى ماذا يشير السهم (م)
- 5- كم عدد جزيئات CO2 الناتجة في الخطوة (4)
- 6- ما سبب انتقال جزيئات NADH و FADH2 الى الخطوة رقم (5)

س 64 : ادرس الشكل واجب عن الاسئلة



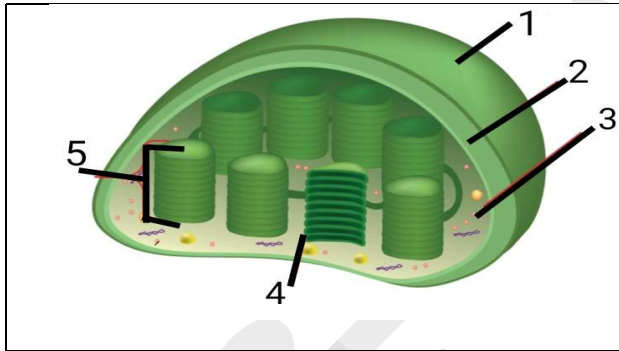
- 1- سم المركبات (1 ، 2 ، 3)
- 2- سم المواد (س ، ص ، ع ، ل)
- 3- سم العمليات (أ ، ب)
- 4- كم عدد جزيئات كل مادة من المواد (س ، ص ، ع ، ل)
- 5- ما نوع التخمر الذي يمثله الشكل
- 6- ما هو رقم المستقبل النهائي للالكترونات في الشكل

س 65 : ادرس الشكل واجب عن الاسئلة



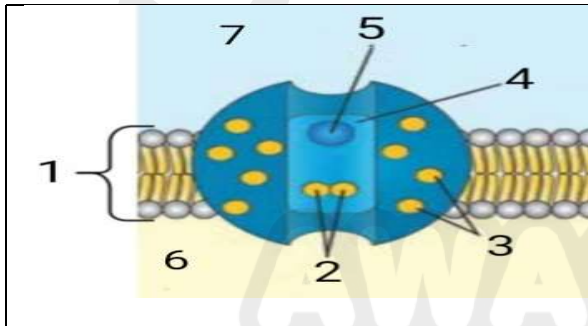
- 1- سم المركبات (1 ، 2 ، 3)
- 2- سم المواد (س ، ص ، ع ، ل)
- 3- سم العمليات (أ ، ب)
- 4- كم عدد جزيئات كل مادة من المواد (س ، ص ، ع ، ل)
- 5- ما نوع التخمر الذي يمثله الشكل
- 6- ما هو رقم المستقبل النهائي للالكترونات في الشكل

س 66 : ادرس الشكل واجب عن الاسئلة



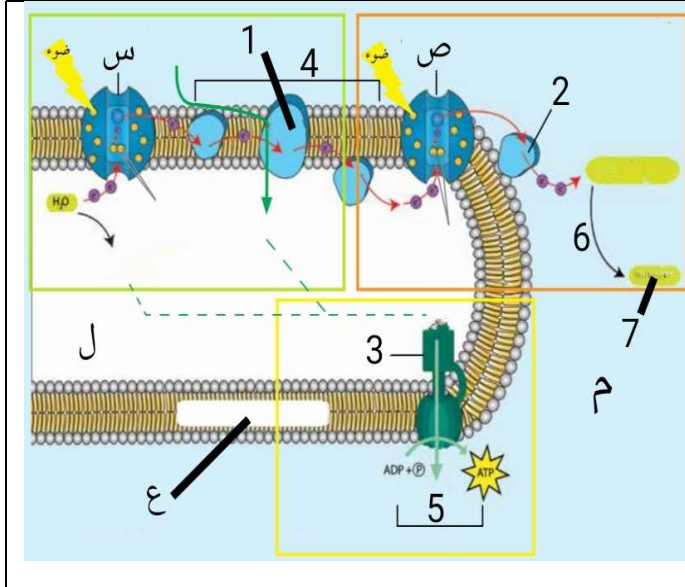
- 1- سم الاجزاء (1 - 5)
- 2- ما هو رقم الجزء الذي تحدث فيه كل من :
أ- التفاعلات الضوئية ب- التفاعلات اللاضوئية
- 3- ماذا يمثل الشكل
- 4- ما هي عملية الايض التي تحدث في هذه العضية

س 67 : ادرس الشكل واجب عن الاسئلة



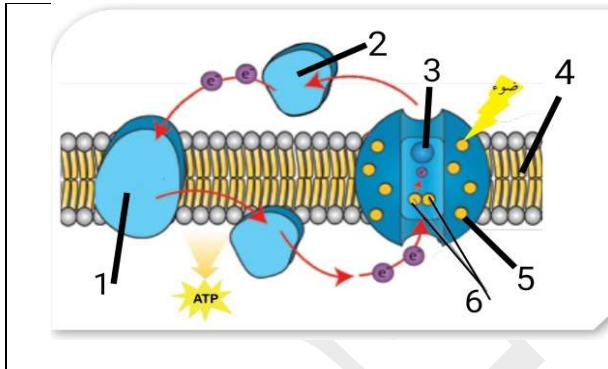
- 1- الى ماذا تشير الارقام (1 - 7)
- 2- اعط امثلة على المادة المشار لها بالرقم (3)
- 3- ما هي ارقام الاجزاء التي يتكون منها معقد مركز التفاعل

س 68 : ادرس الشكل واجب عن الاسئلة



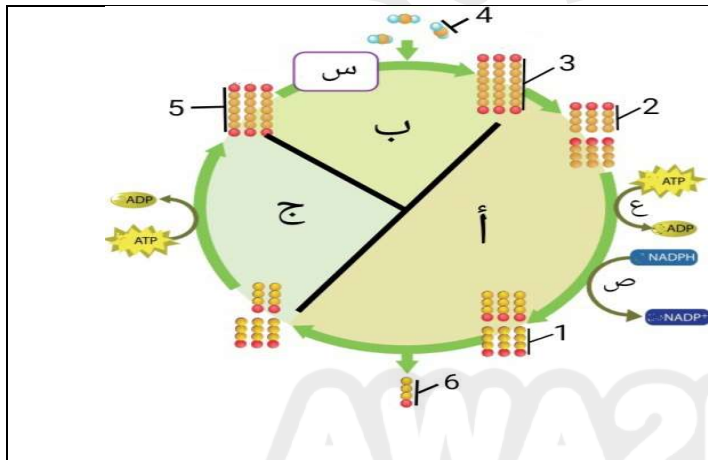
- 1- الى ماذا تشير الارقام (1 - 7)
- 2- ما هو الطول الموجي الذي يمتصه النظام الضوئي (س) والنظام (ص)
- 3- ما هو المستقبل النهائي للالكترونات في الشكل
- 4- سم الاجزاء (ل ، م ، ع) من البلاستيدة الخضراء
- 5- في اي الاجزاء يكون تركيز البروتونات اعلى (ل) أم (م)
- 6- على ماذا يعتمد انتقال البروتونات (H+) من الجزء (ل) الى الجزء (م)

س 69 : ادرس الشكل واجب عن الاسئلة



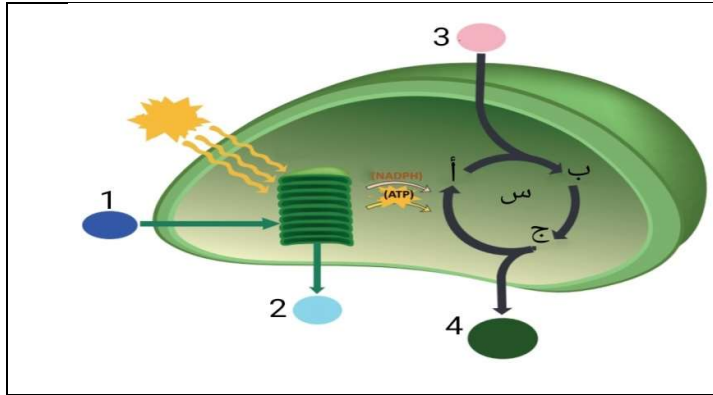
- 1- الى ماذا تشير الارقام (1 _ 6)
- 2- ما هو مسار التفاعلات الضوئية الذي يمثله الشكل
- 3- ما هي نواتج هذه العملية

س 70 : ادرس الشكل واجب عن الاسئلة



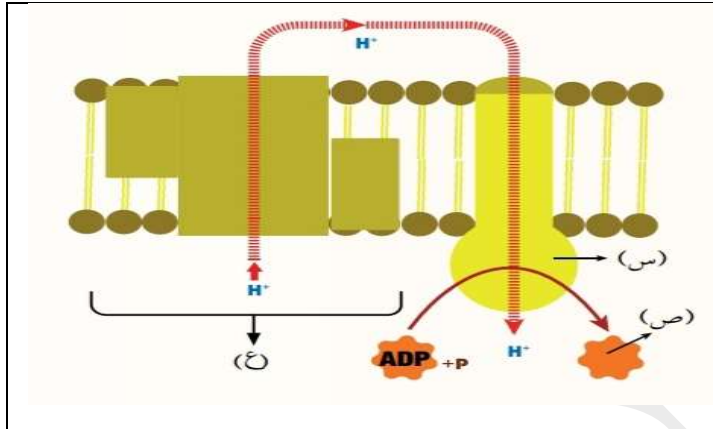
- 1- سم المركبات (1 - 6)
- 2- سم المراحل (أ ، ب ، ج)
- 3- سم العمليات (ص ، ع)
- 4- سم الانزيم (س)
- 5- لماذا يغادر المركب رقم (6) حلقة كالفن
- 6- ما هو عدد جزيئات ATP المستهلكة في كل من : المرحلة (أ) ، المرحلة (ج)
- 7- ما هو عدد جزيئات NADPH المستهلكة في المرحلة (أ)

س 71 : ادرس الشكل واجب عن الاسئلة



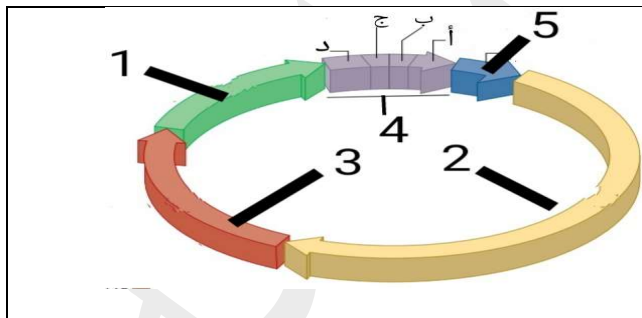
- 1- سم المركبات (1 - 4)
- 2- سم المركبات (أ ، ب ، ج)
- 3- كم جزيء من المركب رقم (4) يلزم لبناء (4) جزيئات من الغلوكوز
- 4- الى ماذا يشير الرمز (س)
- 5- كم عدد جزيئات المركب (3)
- 6- كم عدد جزيئات المركب (ب)

س 72 : ادرس الشكل واجب عن الاسئلة



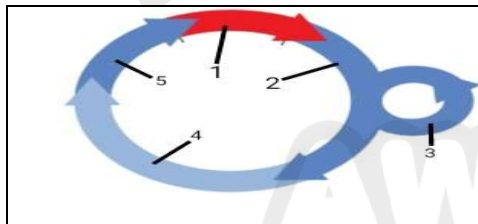
- 1- اذكر أسماء الأجزاء المشار إليها بالرموز: س، ص، ع، التي توجد في كل من الميتوكوندريا، والبلاستيدات الخضراء
- 2- وضح اتجاه انتقال البروتونات بطريقة الأسموزية الكيميائية لإنتاج جزيئات ATP في كل من الميتوكوندريا والبلاستيدات الخضراء

س 73 : ادرس الشكل واجب عن الاسئلة



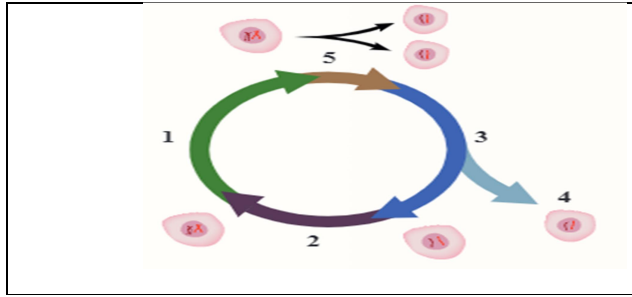
- 1- سم الاطوار المشار لها بالارقام (1 - 5)
- 2- الى ماذا تشير الاحرف (أ ، ب ، ج ، د)
- 3- ما هو رقم الطور الذي يحدث فيه كل مما يلي :
أ- تضاعف DNA
ب- زيادة حجم الخلية
ج- بروتينات تصنع منها الخيوط المغزلية

س 74 : ادرس الشكل واجب عن الاسئلة



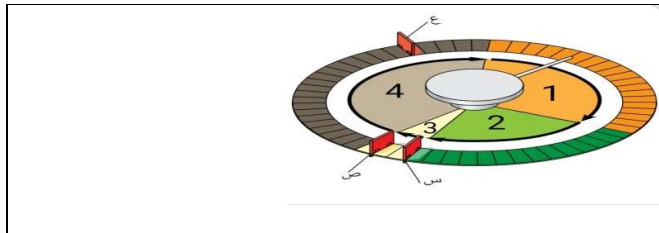
- 1- سم الاطوار المشار لها بالارقام (1 - 5)
- 2- ما رقم الطور الذي يزداد فيه عدد عضيات الخلية
- 3- لماذا تغادر الخلية من الطور (2) الى الطور (3)
- 4- لماذا تعود بعض الخلايا من الطور (3) الى الطور (2)

س 75 : أدرس الشكل المجاور الذي يمثل دورة الخلية، ثم أجب عن الأسئلة الآتية:



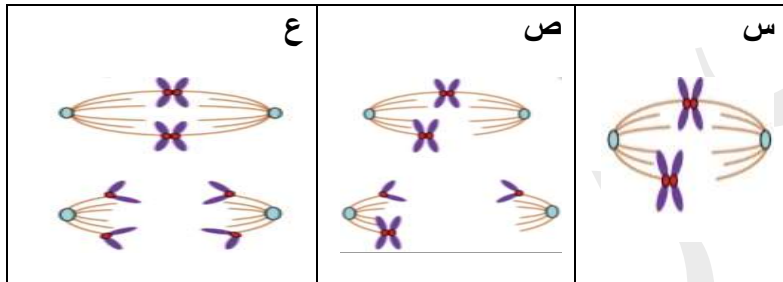
- 1- أكتب اسم الطور (في المرحلة البينية) الذي يشير إليه كل من الأرقام الآتية: 1، 2، 3
- 2- ما رقم الطور (1-4) الذي لا يحدث فيه استعداد لعملية الانقسام؟
- 3- ما رقم الطور الأطول في المرحلة البينية لدورة الخلية الظاهرة في الصورة؟

س 76 : ادرس الشكل واجب عن الاسئلة



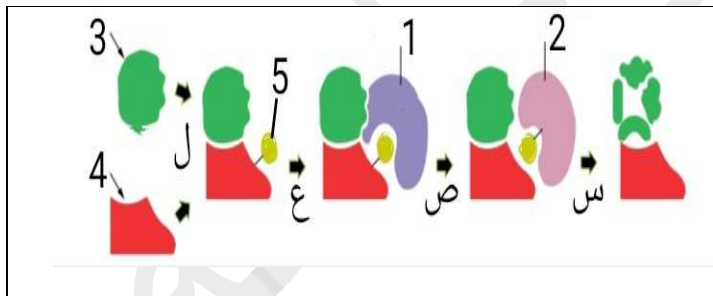
- 1- سم الاطوار (1 - 4)
- 2- الى ماذا تشير الاحرف (س ، ص ، ع)
- 3- ما اهمية كل جزء من الاجزاء (س ، ص ، ع)

س 77 : ادرس الشكل واجب عن الاسئلة



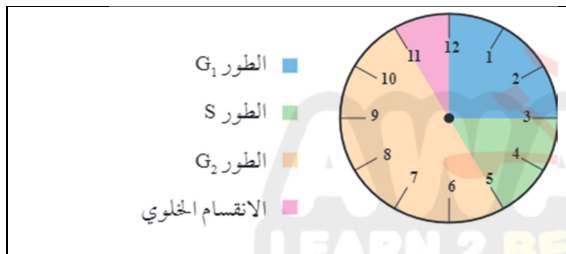
- 1- ما هو سبب عدم انقسام الخلية في الشكل (س)
- 2- ما هو سبب انقسام الخلية في كل شكل من الاشكال (ص) ، (ع)

س 78 : ادرس الشكل واجب عن الاسئلة



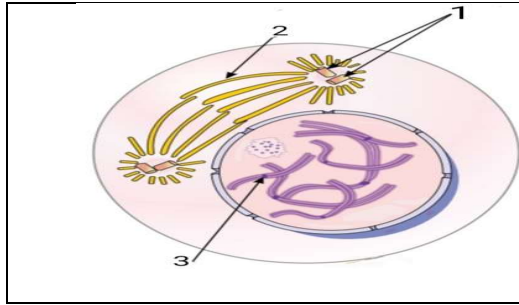
- 1- الى ماذا تشير الارقام (1 - 5)
- 2- سم العمليات (س ، ص ، ع ، ل)
- 3- ما اهمية كل جزء من الاجزاء الآتية : (2 ، 3 ، 4)

س 79 : أدرس الشكل المجاور الذي يبين دورة خلية يستغرق إكمالها 12 ساعة ثم أجب عن الأسئلة الآتية:



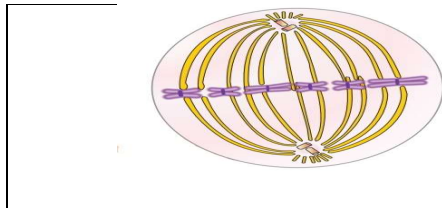
- 1- ما الطور الذي ستكون فيه الخلية الساعة 6:30؟
- 2- أحسب عدد الدقائق اللازمة لتضاعف DNA
- 3- في أي طور ستكون الخلية بعد 7 ساعات من الساعة 9 ؟
- 4- في أي وقت تقريبا ستحدث عملية الانقسام الخلوي؟
- 5- في أي وقت / اوقات سنضاعف الخلية عضياتها؟

س 80 : ادرس الشكل واجب عن الاسئلة



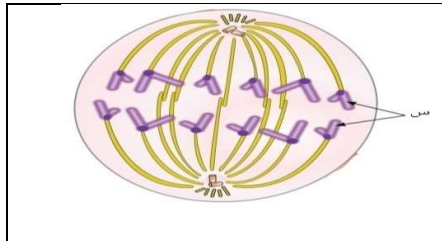
- 1- اي اطوار الانقسام المتساوي الذي تمر به الخلية الظاهرة في الشكل
- 2- سم الاجزاء (1 ، 2 ، 3)
- 3- بماذا تتصف الكروموسومات في هذا الطور
- 4- ماذا يحدث لكل من - النواة - الغلاف النووي في هذا الطور

س 81 : ادرس الشكل واجب عن الاسئلة



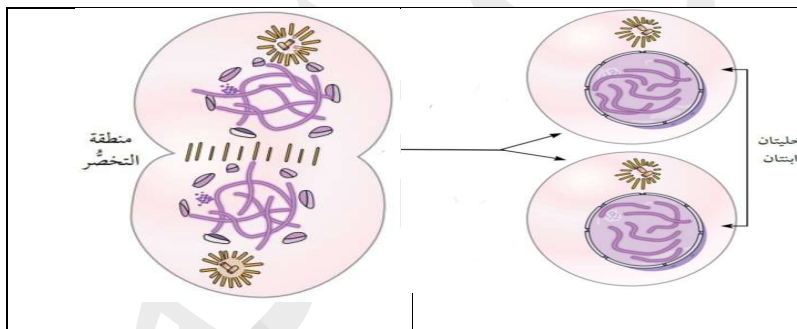
- 1- اي اطوار الانقسام المتساوي الذي تمر به الخلية الظاهرة في الشكل
- 2- بماذا يمتاز هذا الطور

س 82 : ادرس الشكل واجب عن الاسئلة



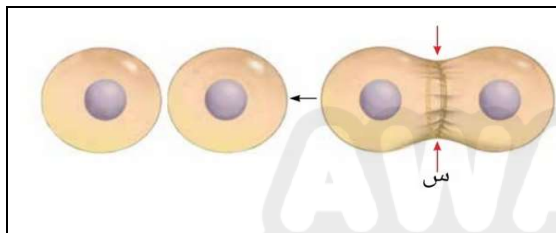
- 1- اي اطوار الانقسام المتساوي الذي تمر به الخلية الظاهرة في الشكل
- 2- الى ماذا يشير الرمز (س) في الشكل
- 3- ما هو شكل الكروماتيدات في هذا الطور

س 83 : ادرس الشكل واجب عن الاسئلة



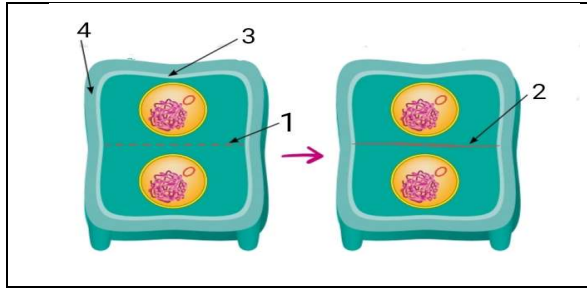
- 1- اي اطوار الانقسام المتساوي الذي تمر به الخلية الظاهرة في الشكل
- 2- بماذا تتصف الكروموسومات في هذا الطور
- 3- كم عدد الانوية المتكونة في هذا الطور

س 84 : ادرس الشكل واجب عن الاسئلة



- 1- ما نوع الخلية في الشكل المجاور (حيوانية أم نباتية)
- 2- ما اسم العملية (س)
- 3- ما اهمية بروتين الاكتين والميوسين في العملية (س)

س 85 : ادرس الشكل واجب عن الاسئلة



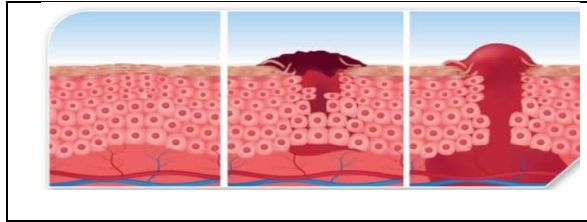
- 1- ما نوع الخلية في الشكل المجاور (حيوانية أم نباتية)
- 2- سم الاجزاء المشار لها بالارقام (1 ، 2 ، 3)
- 3- مما يتكون الجزء رقم (2)
- 4- ما هو سبب عدم حدوث تخصر في هذه الخلية

س 86 : ادرس الشكل واجب عن الاسئلة



- 1- ماذا يمثل الشكل
- 2- ما نوع الانقسام الذي تحولت فيه البويضة المخصبة الى جنين

س 87 : ادرس الشكل واجب عن الاسئلة



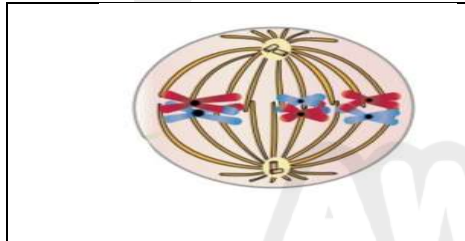
- 1- ماذا يمثل الشكل
- 2- ما نوع الانقسام الذي حدث للخلايا في الشكل

س 88 : ادرس الشكل واجب عن الاسئلة



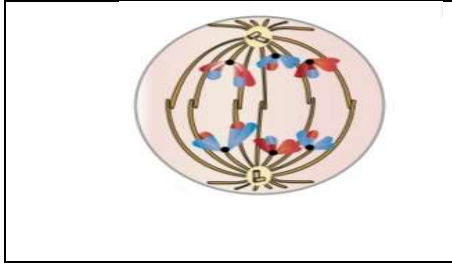
- 1- اي اطوار الانقسام المنصف الذي تمر به الخلية الظاهرة في الشكل
- 2- ما هي خصائص الكروموسومات في هذا الشكل
- 3- ماذا يحدث للخيوط المغزلية في هذا الطور
- 4- ماذا يحدث للغلاف النووي في هذا الطور

س 89 : ادرس الشكل واجب عن الاسئلة



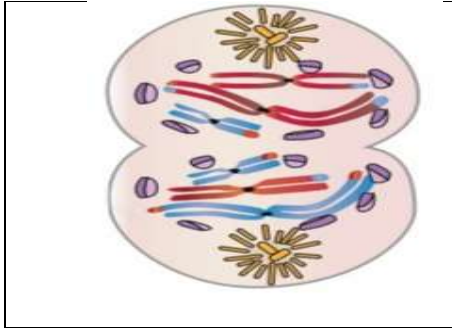
- 1- اي اطوار الانقسام المنصف الذي تمر به الخلية الظاهرة في الشكل
- 2- كيف تصطف الكروموسومات في هذا الطور
- 3- ما هي اهمية اصطاف الكروموسومات في هذا الطور

س 90 : ادرس الشكل واجب عن الاسئلة



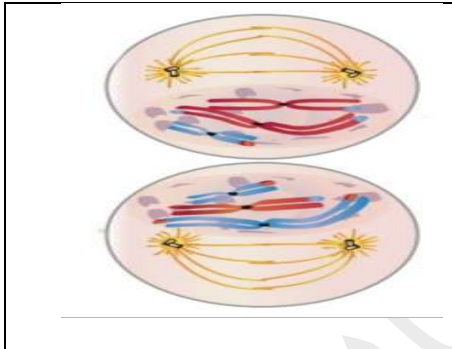
- 1- اي اطوار الانقسام المنصف الذي تمر به الخلية الظاهرة في الشكل
- 2- ما هو سبب انفصال الكروموسومات المتماثلة في هذا الطور

س 91 : ادرس الشكل واجب عن الاسئلة



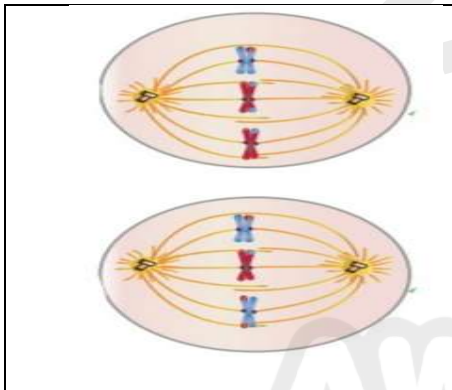
- 1- اي اطوار الانقسام المنصف الذي تمر به الخلية الظاهرة في الشكل
- 2- ماذا يحدث لكل مما يلي في هذا الطور
- الغلاف النووي - الخيوط المغزلية
- 3- ماذا يحدث للخلية بعد هذا الطور

س 92 : ادرس الشكل واجب عن الاسئلة



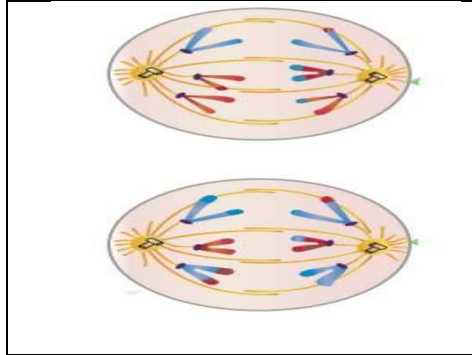
- 1- اي اطوار الانقسام المنصف الذي تمر به الخلية الظاهرة في الشكل
- 2- ماذا يحدث لكل مما يلي في هذا الطور
- الغلاف النووي
- المريكزات
- الخيوط المغزلية

س 93 : ادرس الشكل واجب عن الاسئلة



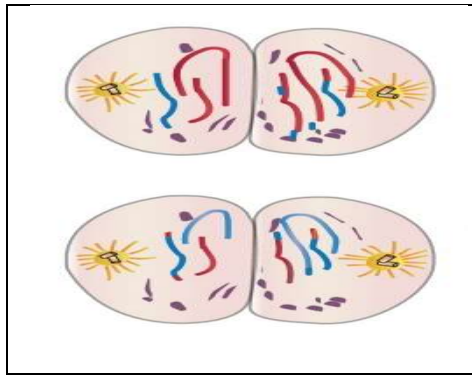
- 1- اي اطوار الانقسام المنصف الذي تمر به الخلية الظاهرة في الشكل
- 2- ماذا يحدث للكروموسومات في هذا الطور

س 94 : ادرس الشكل واجب عن الاسئلة



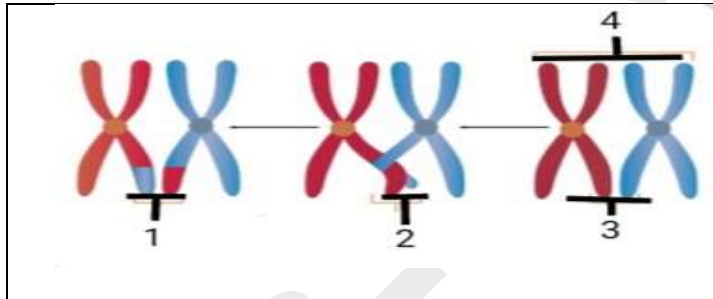
- 1- اي اطوار الانقسام المنصف الذي تمر به الخلية الظاهرة في الشكل
- 2- ماذا يحدث للكروماتيدات في هذا الطور

س 95 : ادرس الشكل واجب عن الاسئلة



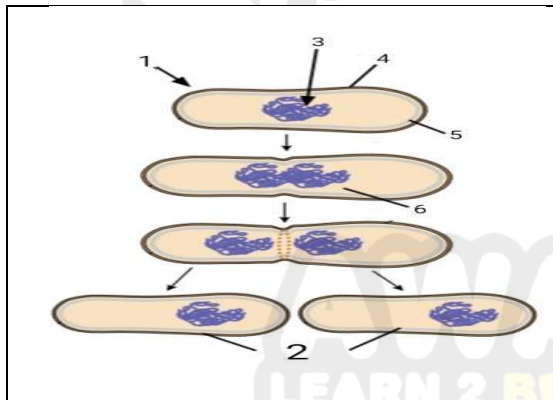
- 1- اي اطوار الانقسام المنصف الذي تمر به الخلية الظاهرة في الشكل
- 2- ماذا يحدث لكل مما يلي في هذا الطور
 - الغلاف النووي
 - الخيوط المغزلية

س 96 : ادرس الشكل واجب عن الاسئلة



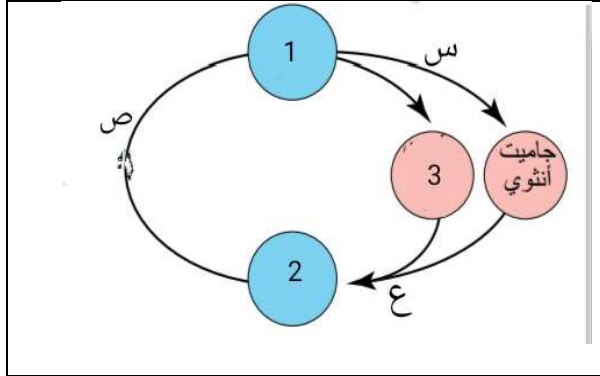
- 1- الى ماذا تشير الارقام (1 ، 2 ، 3 ، 4)
- 2- ما اهمية العملية المشار لها بالرقم (1)
- 3- ما هو نوع الانقسام واسم الطور الذي تحدث فيه العملية المشار لها بالرقم (1)

س 97 : ادرس الشكل واجب عن الاسئلة



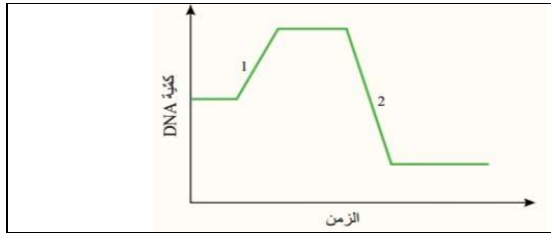
- 1- ما اسم العملية التي يمثلها الشكل
- 2- في انواع الخلايا تحدث العملية (حقيقية النواة أم بدائية النواة)
- 3- الى ماذا تشير الارقام (1 - 6)
- 4- بماذا تتشابه هذه العملية وعملية الانقسام المتساوي
- 5- ماذا يحدث لكروموسوم البكتيريا بعد التضاعف

س 98 : ادرس الشكل واجب عن الاسئلة



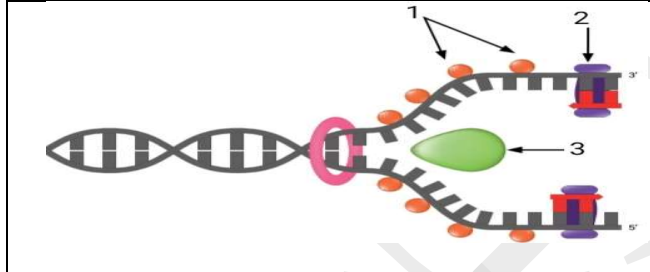
- 1- سم الخلايا المشار لها بالارقام (1 ، 2 ، 3)
- 2- سم العمليات (س ، ص ، ع)
- 3- كم عدد المجموعة الكروموسومية في كل خلية من الخلايا (1 ، 2 ، 3)
- 4- كم عدد الكروموسومات في كل خلية من الخلايا (1 ، 2 ، 3)

س 99 : أدرس الشكل الآتي الذي يبين كمية DNA في خلية تمر بسلسلة من العمليات خلال مدة من الزمن، ثم أجب عن الأسئلة الآتية .



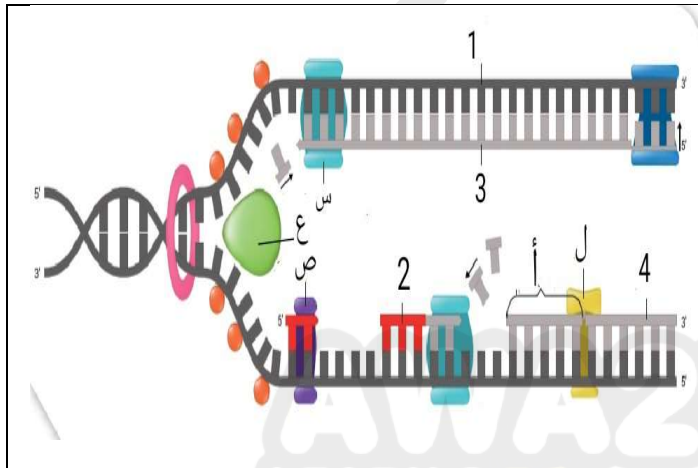
- 1- هل يمثل الرقم (1) انقسامًا منصفًا، أو انقسامًا متساويًا أو اخصابًا أو تضاعف DNA
- 2- ما نوع الانقسام الذي يمثله الرقم (2)؟

س 100 : ادرس الشكل واجب عن الاسئلة



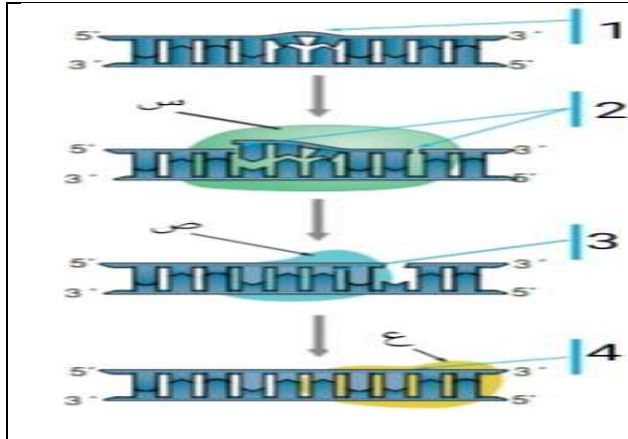
- 1- الى ماذا تشير الارقام (1 - 3)
- 2- ما اهمية الانزيم (3)
- 3- ما اهمية البروتين (1)
- 4- ماذا يحتاج الانزيم (1) للقيام بعمله

س 101 : ادرس الشكل واجب عن الاسئلة



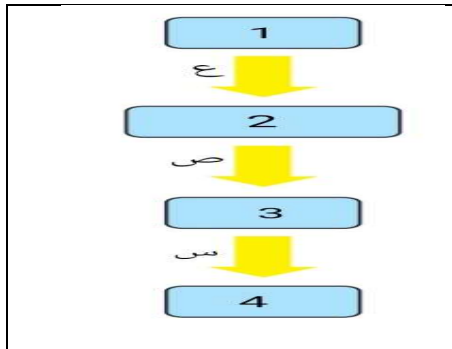
- 1- الى ماذا يشير كل رقم وكل حرف على الشكل
- 2- ما اهمية كل من : الانزيمات (س ، ص ، ع ، ل)
- 3- بماذا يختلف بناء السلسلة (3) عن بناء السلسلة (4)
- 4- ما نوع الرابطة التي يكونها الانزيم (ل)

س 102 : ادرس الشكل واجب عن الاسئلة



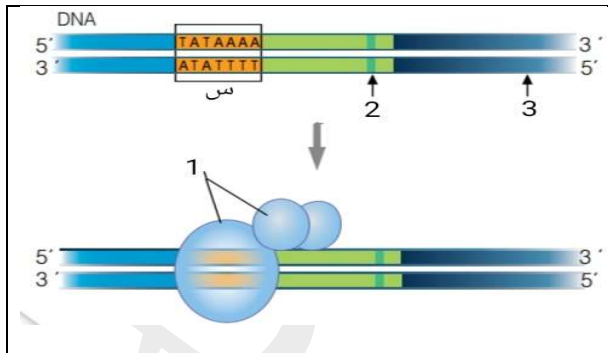
- 1- ماذا تمثل كل خطوة من الخطوات (1 - 4)
- 2- الى ماذا تشير الاحرف (س ، ص ، ع)
- 3- ما أهمية كل انزيم من الانزيمات (س ، ص ، ع)

س 103 : ادرس الشكل الذي يمثل خطوات تصنيع البروتين في الخلية ، واجب عن الاسئلة



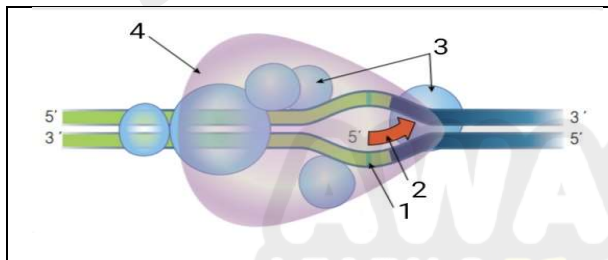
- 1- سم التراكيب (1 ، 2 ، 3 ، 4)
- 2- سم العمليات (س ، ص ، ع)
- 3- حدد مكان حدوث كل عملية من العمليات (س ، ص ، ع) في الخلية

س 104 : ادرس الشكل واجب عن الاسئلة



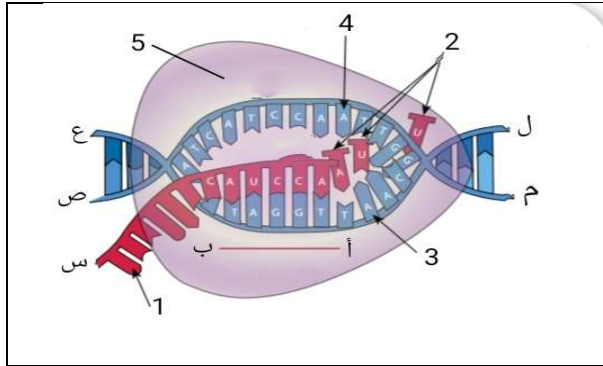
- 1- سم الاجزاء (1 ، 2 ، 3)
- 2- الى ماذا يشير الرمز (س)
- 3- مما يتكون الجزء (س) وما أهمية هذا الجزء

س 105 : ادرس الشكل واجب عن الاسئلة



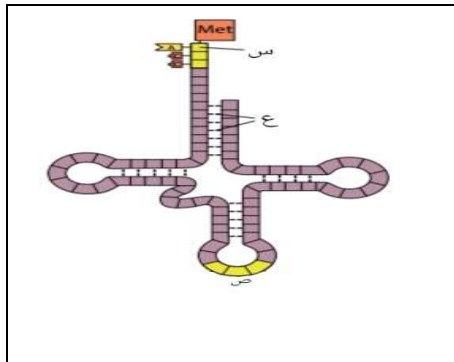
- 1- اي مراحل عملية النسخ يمثل الشكل
- 2- الى ماذا تشير الارقام (1 ، 2 ، 3 ، 4)
- 3- ماذا يسمى الجزء (3) والجزء (4) معا
- 4- ما أهمية الانزيم (4) في هذا المرحلة

س 106 : ادرس الشكل واجب عن الاسئلة



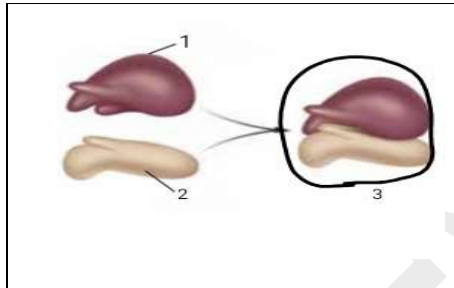
- 1- أي مراحل عملية النسخ يمثل الشكل
- 2- الى ماذا تشير الارقام (1 - 5)
- 3- حدد اتجاه النسخ بالاعتماد على الحرفين (أ ، ب)
- 4- عبر عن نهايات السلاسل المشار لها بالاحرف (س ، ص ، ع ، ل ، م) باستخدام الرمز (3') او الرمز (5')
- 5- لماذا لم تستخدم السلسلة رقم (4) في عملية النسخ

س 107 : ادرس الشكل واجب عن الاسئلة



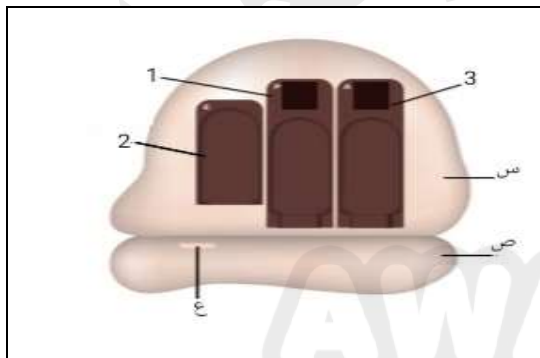
- 1- ماذا يمثل الشكل المجاور
- 2- ما اهمية التركيب المجاور في عملية تصنيع البروتينات
- 3- ما نوع الرابطة المشار لها بالرمز (ع)
- 4- ما اهمية الموقع المشار له بالرمز (س)
- 5- ماذا يمثل الموقع المشار له بالرمز (ص)

س 108 : ادرس الشكل واجب عن الاسئلة



- 1- الى ماذا يشير الشكل
- 2- سم الاجزاء (1 ، 2 ، 3)

س 109 : ادرس الشكل واجب عن الاسئلة



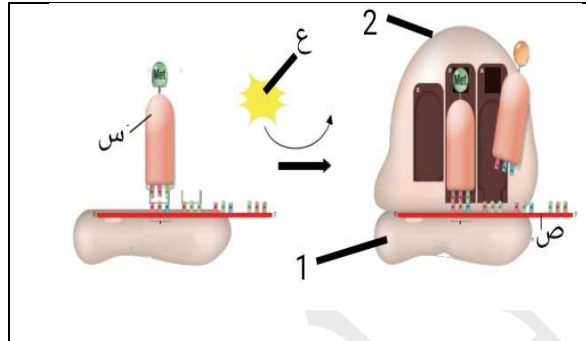
- 1- سم المواقع (1 ، 2 ، 3)
- 2- سم الاجزاء (س ، ص ، ع)
- 3- ما اهمية كل موقع من المواقع (1 ، 2 ، 3)

س 110 : ادرس الشكل واجب عن الاسئلة

	U	C	A	G	
U	UUU } Phe UUC } فينيل UUA } ألانين UUG } Leu ليوسين	UCU } UCC } 4 Ser ليوسين UCG }	UAU } Tyr UAC } تايروسين UAA Stop UAG Stop	UGU } Cys UGC } سيستين UGA Stop UGG Trp تريبتوفان	U C A G
C	CUU } CUA } 2 Leu ليوسين CUG }	CCU } CCC } Pro برولين CCA } CCG }	CAU } His CAC } هستادين CAA } CAG } Gln غلوتامين	CGU } CGC } Arg أرغينين CGA } CGG }	U C A G
A	AUU } AUC } Ile أيسوليوسين AUA } AUG Met Start ميتيونين	ACU } ACC } 1 Thr ثريونين ACG }	5 } AAC } Asn أسبارغينين AAA } AAG } Lys لايسين	AGU } Ser سيرين AGC } AGA } Arg أرغينين AGG }	U C A G
G	GUU } GUC } Val فالنين GUA } GUG }	3 } GCC } Ala ألانين GCA } GCG }	GAU } Asp حمض GAC } أسباريك حمض GAA } Glu حمض GAG } غلوتاميك	GGU } GGC } Gly غلايسين GGA } GGG }	U C A G

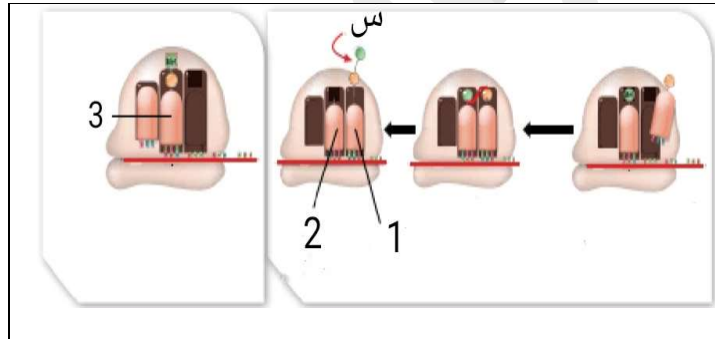
- 1- كم عدد الاحماض الامينية في جسم الانسان
- 2- كم عدد انواع الكودونات على mRNA
- 3- كم عدد الكودونات التي تمثل احماض امينية
- 4- كم عدد الكودونات التي لا تمثل احماض امينية
- 5- ما اسم الحمض الاميني الذي يمثل كودون البدء
- 6- اكتب الكودونات المشار اليها بالارقام (1 ، 2 ، 3 ، 4 ، 5) في الجدول

س 111 : ادرس الشكل واجب عن الاسئلة



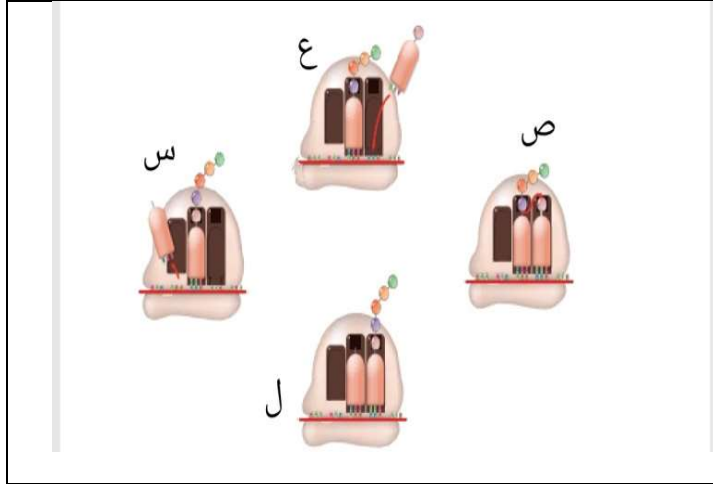
- 1- أي مراحل الترجمة يمثل الشكل المجاور
- 2- سم الأجزاء (1 ، 2)
- 3- ما نوع RNA المشار له بالرمز (س) والرمز (ص)
- 4- ما نوع جزيئات حفظ الطاقة المشار لها بالرمز (ع)

س 112 : ادرس الشكل واجب عن الاسئلة



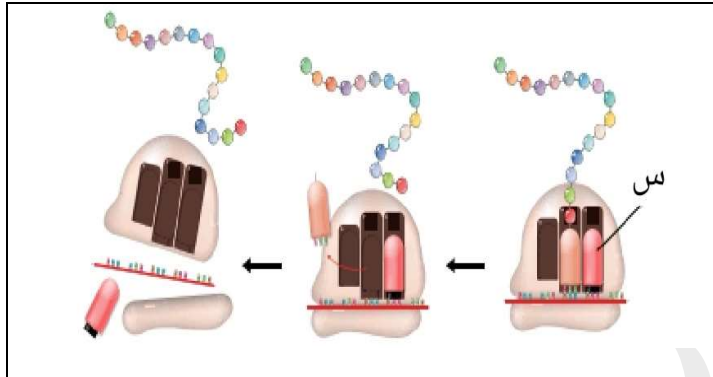
- 1- أي مراحل الترجمة يمثل الشكل المجاور
- 2- ما نوع الرابطة (س)
- 3- الى ماذا تشير الأرقام (1 ، 2 ، 3) في الشكل
- 4- كيف تكونت الرابطة (س)

س 113 : ادرس الشكل واجب عن الاسئلة



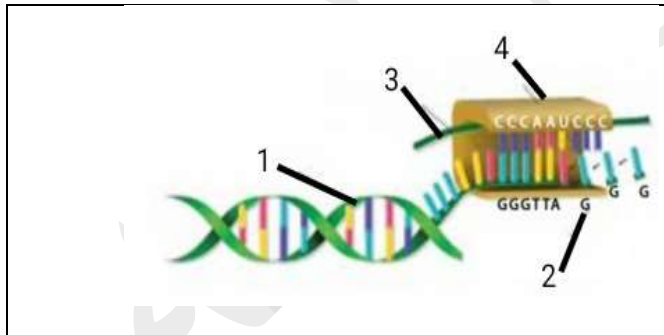
- 1- أي مراحل الترجمة يمثل الشكل المجاور
- 2- رتب الخطوات (س ، ص ، ع ، ل) حسب تسلسل حدوثها

س 114 : ادرس الشكل واجب عن الاسئلة



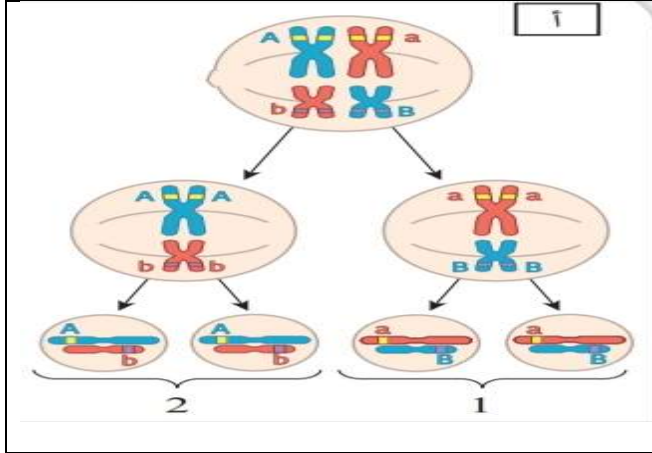
- 1- أي مراحل الترجمة يمثل الشكل المجاور
- 2- إلى ماذا يشير الرمز (س)
- 3- ما أهمية التركيب (س)

س 115 : ادرس الشكل واجب عن الاسئلة



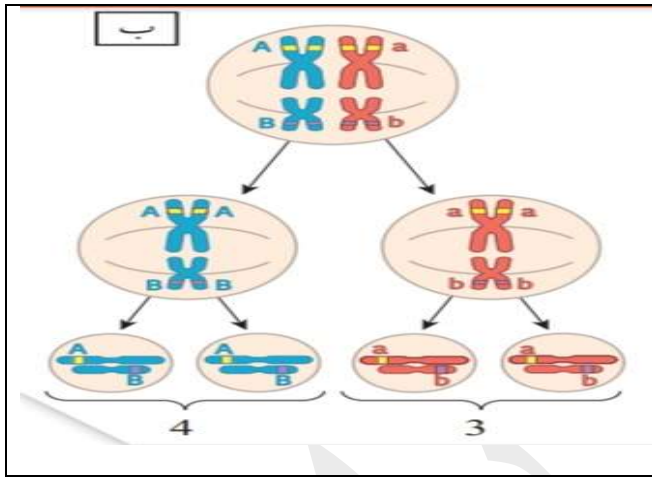
- 1- إلى ماذا تشير الأرقام (1 - 4)
- 2- ما أهمية الإنزيم رقم (4)

س 116 : ادرس الشكل واجب عن الاسئلة :



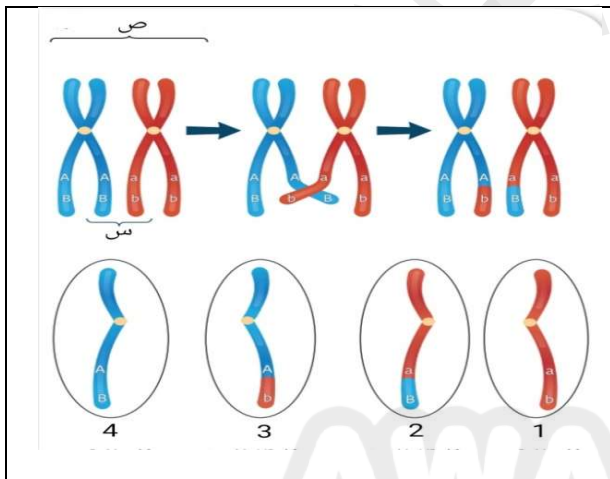
- 1- ما هو الطراز الجيني للجاميت رقم (1)
- 2- ما هو احتمال ظهور الجاميت رقم (2)
- 3- اي اطوار الانقسام المنصف يمثله الشكل
- 4- هل تحمل اليلات الصفتين على نفس الكروموسوم ام على كروموسومين مختلفين
- 5- هل تحمل هذه الجاميتات تراكيب جينية جديدة ام لا

س 117 : ادرس الشكل واجب عن الاسئلة :



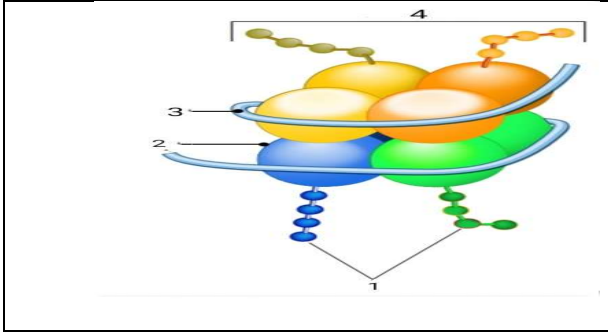
- 1- ما هو الطراز الجيني للجاميت رقم (3)
- 2- ما هو احتمال ظهور الجاميت رقم (4)
- 3- اي اطوار الانقسام المنصف يمثله الشكل
- 4- هل تحمل اليلات الصفتين على نفس الكروموسوم ام على كروموسومين مختلفين
- 5- هل تحمل هذه الجاميتات تراكيب جينية جديدة ام لا

س 118 : ادرس الشكل واجب عن الاسئلة :



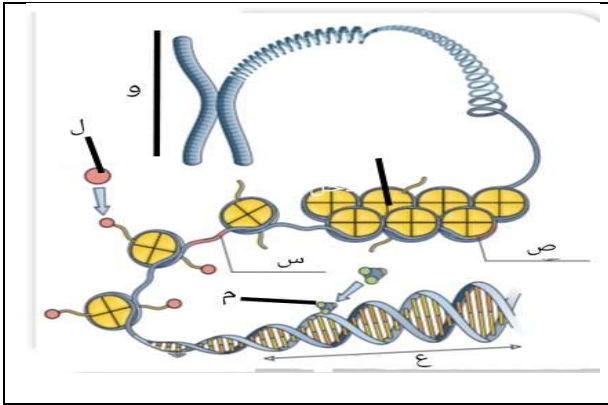
- 1- الى ماذا تشير الاحرف (س ، ص) على الشكل
- 2- هل تحمل اليلات الصفتين على نفس الكروموسوم ام على كروموسومين مختلفين
- 3- ما هي ارقام الجاميتات التي تحمل تراكيب جينية جديدة
- 4- ما هي ارقام الجاميتات التي لا تحمل تراكيب جينية جديدة
- 5- ما هو نوع الانقسام واسم الطور الذي تحدث فيه العملية التي يمثله الشكل
- 6- ما نتيجة حدوث هذه العملية بين كروماتيدين شقيقين

س 119 : ادرس الشكل واجب عن الاسئلة :



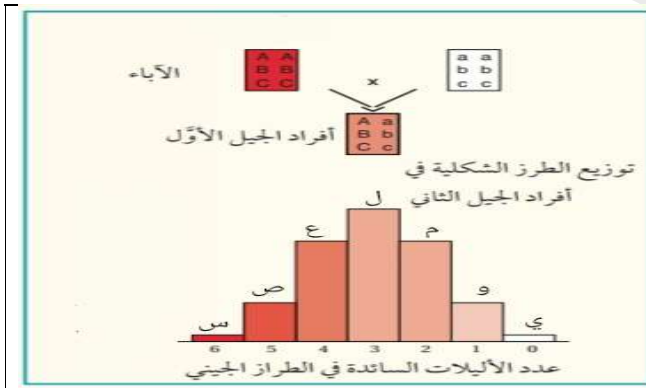
- 1- ماذا يمثل الشكل
- 2- سم الاجزاء المشار اليها بالارقام (1 ، 2 ، 3 ، 4)
- 3- ما هو رقم الجزء الذي تضاف اليه مجموعة الاستيل
- 4- ما هو تأثير مجموعة الاستيل على الجين

س 120 : ادرس الشكل واجب عن الاسئلة :



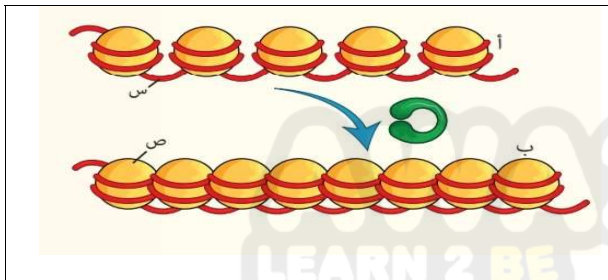
- 1- سم الاجزاء (ع ، م ، ل ، و)
- 2- بماذا يختلف الجين (س) عن الجين (ص)

س 121 : ادرس الشكل المجاور الذي يمثل وراثه لون الحبوب في نبات القمح ثم اجب عن الاسئلة ؟



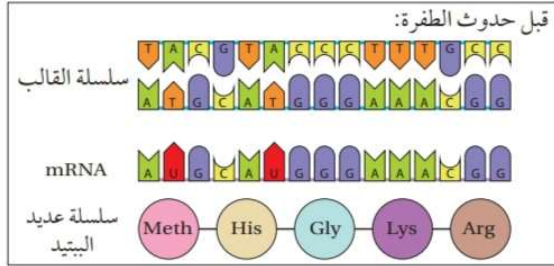
- 1- ما هو نمط وراثه هذه الصفة
- 2- اكتب الطراز الشكلي للابوين
- 3- اكتب الطراز الشكلي لافراد الجيل الاول
- 4- ما هي الطرز الجينية لافراد (س ، ي)
- 5- اكتب ثلاثة طرز جينية محتملة للفراد (ل)
- 6- اكتب طرازان جينيان محتملة للفراد (و)
- 7- اكتب اربعة طرز محتملة للفراد (ع)

س 122 : ادرس الشكل المجاور الذي يمثل تأثير الوراثة فوق الجينية في التعبير الجيني ، ثم اجب عن الاسئلة ؟

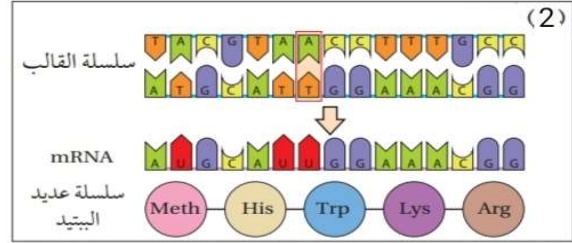


- 1- سم التراكيب المشار لها بالحروف (س ، ص)
- 2- اي الخطوتين (أ) ام (ب) لايمكن فيها نسخ الجين
- 3- اي الخطوات (أ) ام (ب) تمثل جينا نشطا

س 123 : ما نوع الطفرة الجينية في الشكل الاتي ؟

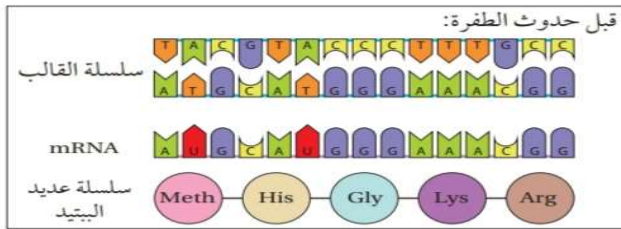


ج- غير معبرة د- ازالة

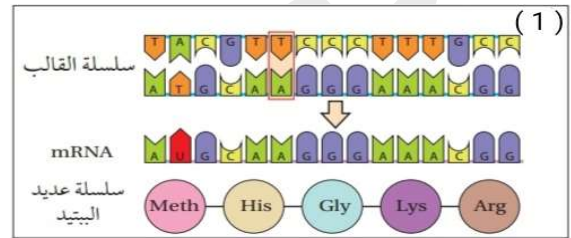


أ- صامتة ب- مخطئة التعبير

س 124 : ما نوع الطفرة الجينية في الشكل الاتي ؟

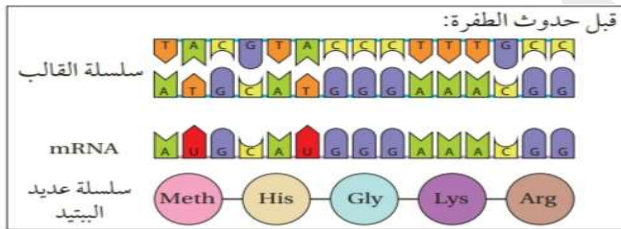


ج- غير معبرة د- ازالة

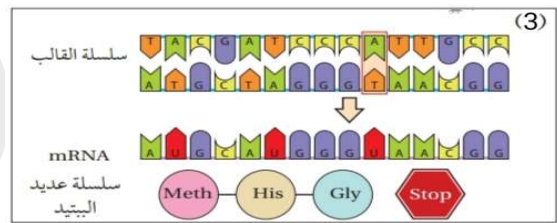


أ- صامتة ب- مخطئة التعبير

س 125 : ما نوع الطفرة الجينية في الشكل الاتي ؟

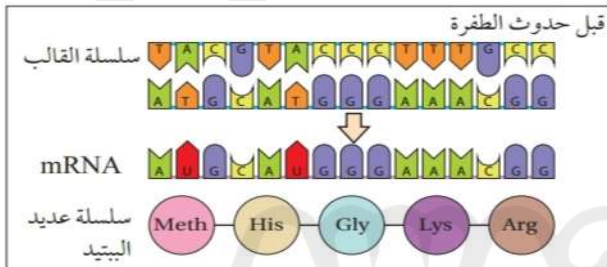


ج- غير معبرة د- ازالة

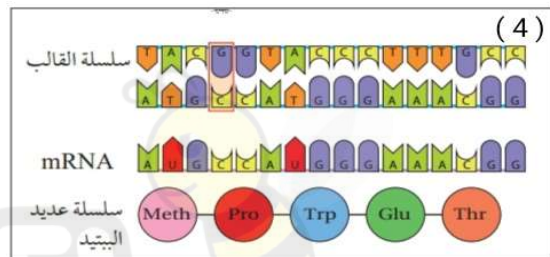


أ- صامتة ب- مخطئة التعبير

س 126 : ما نوع الطفرة الجينية في الشكل الاتي ؟

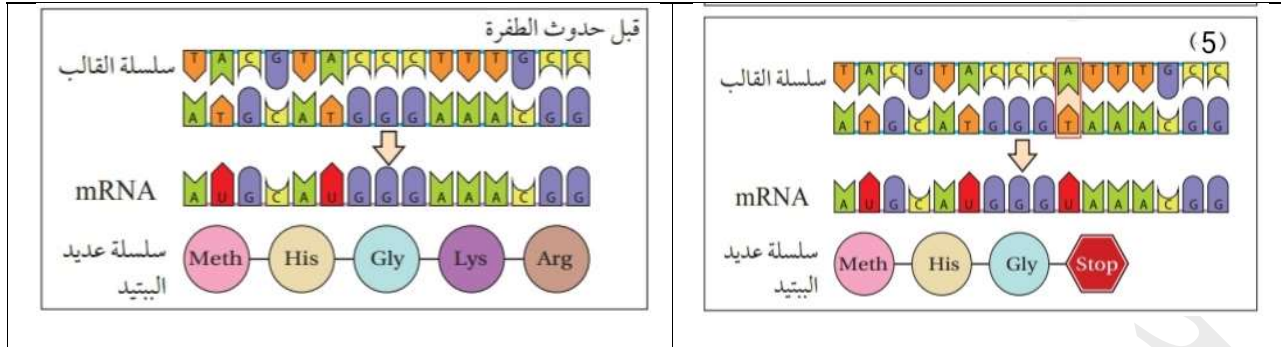


ج- غير معبرة د- ازالة



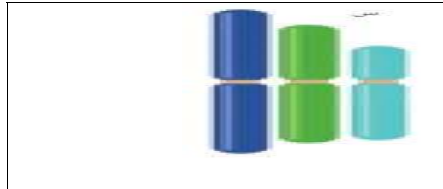
أ- صامتة ب- مخطئة التعبير

س 127 : ما نوع الطفرة الجينية في الشكل الاتي ؟




أ- صامتة ب- مخطئة التعبير ج- غير معبرة د- ازالة

س 128 : ادرس الشكل واجب عن الاسئلة



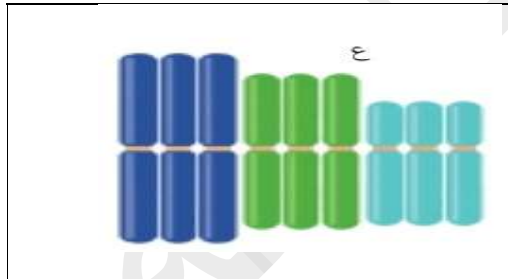
1- ما هو عدد المجموعة الكروموسومية التي يمثلها الشكل

س 129 : ادرس الشكل واجب عن الاسئلة




1- ما هو عدد المجموعة الكروموسومية التي يمثلها الشكل
2- كيف تتكون هذه المجموعة في الجاميتات

س 130 : ادرس الشكل واجب عن الاسئلة



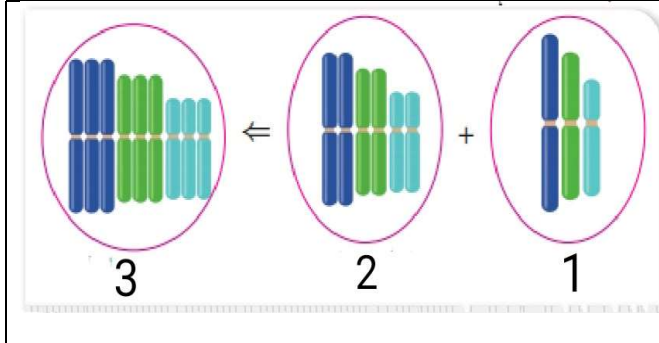
1- ما هو عدد المجموعة الكروموسومية التي يمثلها الشكل
2- كيف يمكن ان تتكون بويضة مخصبة تحمل هذه المجموعة الكروموسومية

س 131 : ادرس الشكل واجب عن الاسئلة



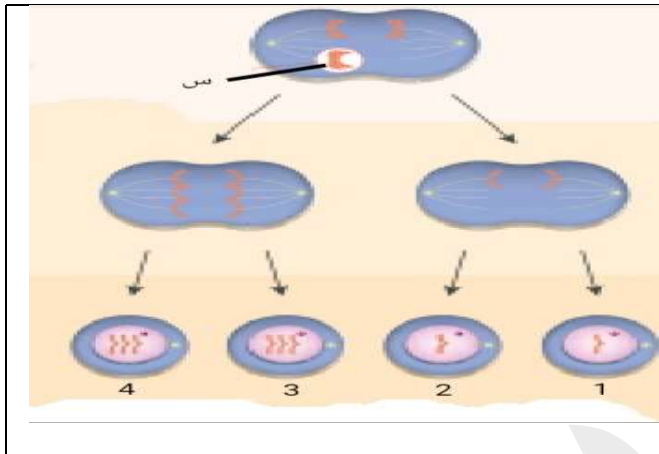
1- ما هو عدد المجموعة الكروموسومية التي يمثلها الشكل
2- كيف يمكن ان تتكون بويضة مخصبة تحمل هذه المجموعة الكروموسومية
3- اعط مثلا على نبات يحمل هذه المجموعة الكروموسومية

س 132 : ادرس الشكل واجب عن الاسئلة



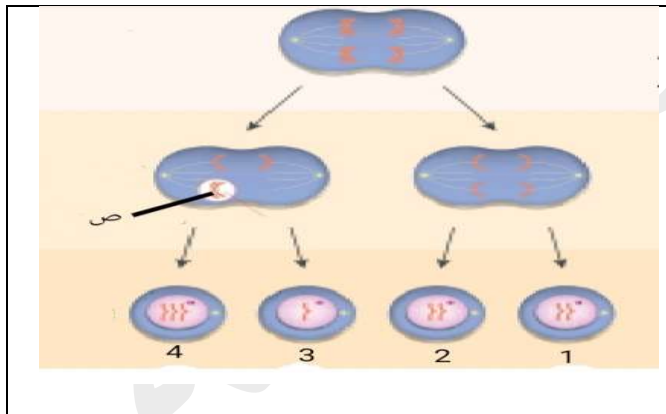
- 1- ما هو عدد المجموعة الكروموسومية للخلايا (3 ، 2 ، 1)
- 2- كيف تكونت الخلية رقم (2)

س 133 : ادرس الشكل واجب عن الاسئلة



- 1- الى ماذا يشير الرمز (س) في الشكل
- 2- ما هو عدد المجموعة الكروموسومية للجاميتات (4 - 1)
- 3- كم عدد انواع الجاميتات الناتجة
- 4- ما نسبة الجاميتات غير الطبيعية
- 5- ما نسبة الجاميتات التي تحتوي على عدد كروموسومات اقل من العدد الطبيعي
- 6- في اي مراحل الانقسام المنصف حدث هذا الخلل

س 134 : ادرس الشكل واجب عن الاسئلة



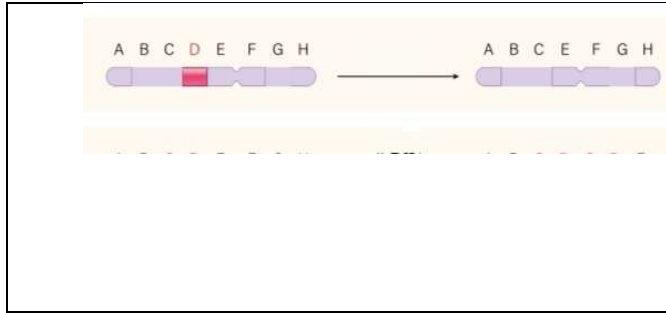
- 1- الى ماذا يشير الرمز (ص) في الشكل
- 2- ما هو عدد المجموعة الكروموسومية للجاميتات (4 - 1)
- 3- كم عدد انواع الجاميتات الناتجة
- 4- ما نسبة الجاميتات غير الطبيعية
- 5- ما نسبة الجاميتات التي تحتوي على عدد كروموسومات اقل من العدد الطبيعي
- 6- في اي مراحل الانقسام المنصف حدث هذا الخلل

س 135 : ادرس الشكل واجب عن الاسئلة



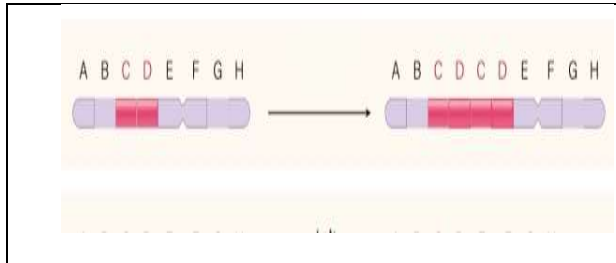
- 1- اي مراحل الانقسام المنصف تمثل هذه الخلية
- 2- ما هي انواع الجاميتات الناتجة عن انقسام هذه الخلية

س 136 : ادرس الشكل واجب عن الاسئلة



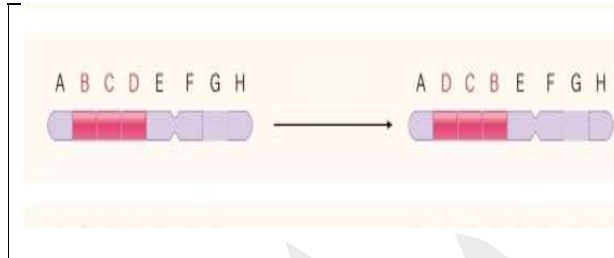
- 1- ما نوع الطفرة التي تؤثر في تركيب الكروموسوم التي يمثلها الشكل
- 2- كم عدد الكروموسومات التي تحدث فيها الطفرة
- 3- ما هو تأثير الطفرة في عدد الجينات
- 4- لماذا تكون هذه الطفرة مميتة اذا حدثت في الكروموسوم الجنسي (X) لدى ذكر الانسان

س 137 : ادرس الشكل واجب عن الاسئلة



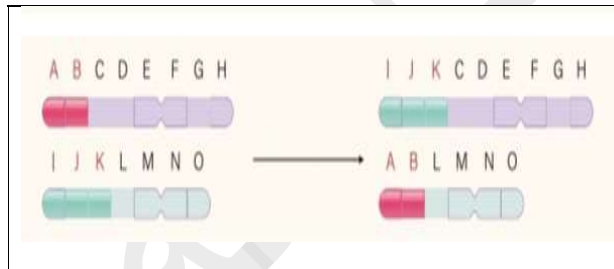
- 1- ما نوع الطفرة التي تؤثر في تركيب الكروموسوم التي يمثلها الشكل
- 2- كم عدد الكروموسومات التي تحدث فيها الطفرة
- 3- ما هو تأثير الطفرة في عدد الجينات

س 138 : ادرس الشكل واجب عن الاسئلة



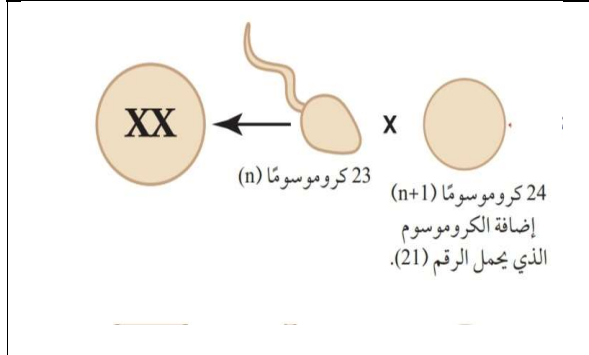
- 1- ما نوع الطفرة التي تؤثر في تركيب الكروموسوم التي يمثلها الشكل
- 2- كم عدد الكروموسومات التي تحدث فيها الطفرة
- 3- ما هو تأثير الطفرة في عدد الجينات

س 139 : ادرس الشكل واجب عن الاسئلة



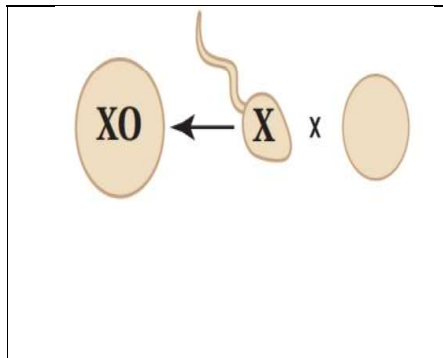
- 1- ما نوع الطفرة التي تؤثر في تركيب الكروموسوم التي يمثلها الشكل
- 2- كم عدد الكروموسومات التي تحدث فيها الطفرة

س 140 : ادرس الشكل واجب عن الاسئلة



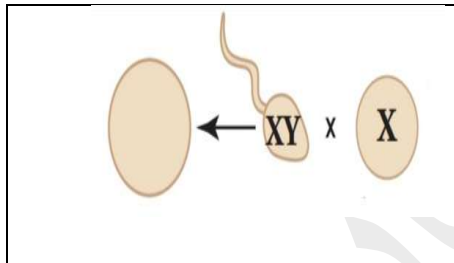
- 1- ما اسم الاختلال الناتج
- 2- ما هو جنس الفرد الناتج
- 3- كم عدد الكروموسومات الجسمية في كل من : الحيوان المنوي ، البويضة ، الفرد الناتج
- 4- كم عدد الكروموسومات الجنسية في كل من : الحيوان المنوي ، البويضة ، الفرد الناتج
- 5- كم عدد الكروموسومات في الخلية الجسمية للفرد الناتج

س 141 : ادرس الشكل واجب عن الاسئلة



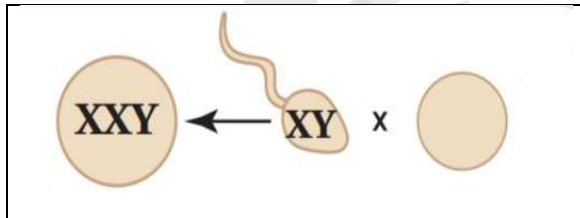
- 1- كم عدد الكروموسومات الجنسية في البويضة غير المخصبة
- 2- ما اسم الاختلال الناتج وما هو جنس الفرد الناتج
- 3- كم عدد الكروموسومات الجسمية في الحيوان المنوي
- 4- كم عدد الكروموسومات الجسمية في الخلية الجسمية للفرد الناتج
- 5- ما هي الاعراض التي تظهر على الفرد الناتج
- 6- ما هو عدد المجموعة الكروموسومية للبويضة غير المخصبة ولل فرد الناتج

س 142 : ادرس الشكل واجب عن الاسئلة



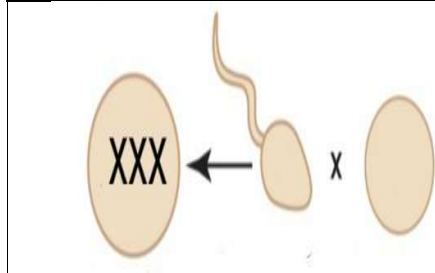
- 1- اكتب الطراز الكروموسومي الجنسي للفرد الناتج
- 2- سم الاختلال للفرد الناتج
- 3- كم عدد الكروموسومات في كل خلية جسمية للفرد الناتج
- 4- ما هو عدد المجموعة الكروموسومية للحيوان المنوي ولل فرد الناتج
- 5- كم عدد الكروموسومات الجنسية في كل خلية من خلايا الفرد الناتج

س 143 : ادرس الشكل واجب عن الاسئلة



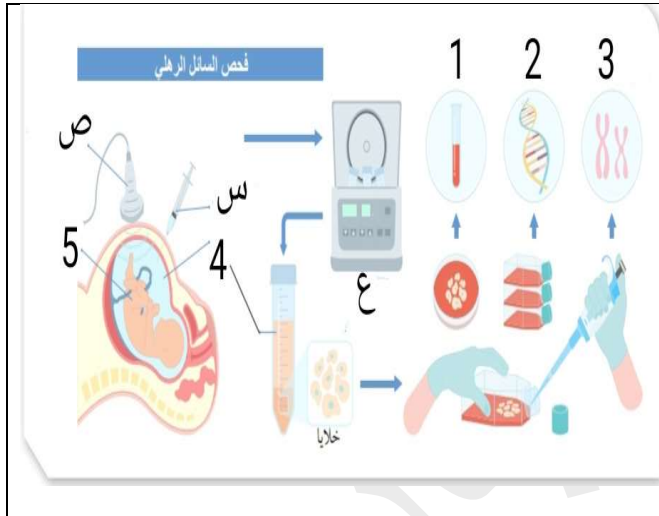
- 1- سم الاختلال الناتج
- 2- كم عدد الكروموسومات في الحيوان المنوي
- 3- ما هي الاعراض التي تظهر على الفرد الناتج

س 144 : ادرس الشكل واجب عن الاسئلة



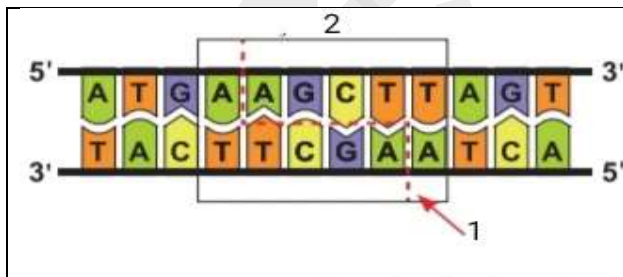
- 1- سم الاختلال الناتج في الشكل
- 2- ما هو عدد الكروموسومات الجسمية في الخلايا الجسمية للفرد الناتج
- 3- ما عدد الكروموسومات في كل من : الحيوان المنوي ، البويضة ، الفرد الناتج ،
- 4- ما عدد الكروموسومات الجسمية في كل من : الحيوان المنوي ، البويضة ، الفرد الناتج
- 5- ما عدد الكروموسومات الجنسية في كل من : الحيوان المنوي ، البويضة ، الفرد الناتج
- 6- ما عدد المجموعة الكروموسومية في كل من : الحيوان المنوي ، البويضة ، الفرد الناتج

س 145 : ادرس الشكل واجب عن الاسئلة



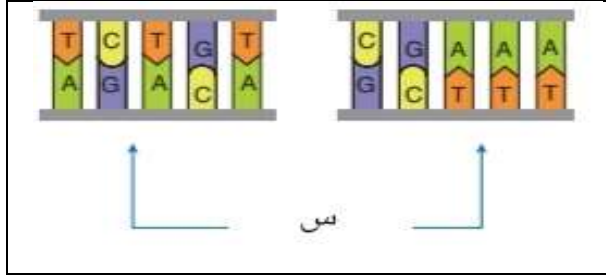
- 1- سم الاجهزة (ص ، ع)
- 2- سم العمليات (1 ، 2 ، 3)
- 3- سم المادة (4)
- 4- الى ماذا يشير الرقم (5)
- 5- ما اهمية الجهاز (ص) والجهاز (ع)
- 6- ما اهمية العمليات (1 ، 3)
- 7- ما اهمية الجزء (س)

س 146 : ادرس الشكل واجب عن الاسئلة



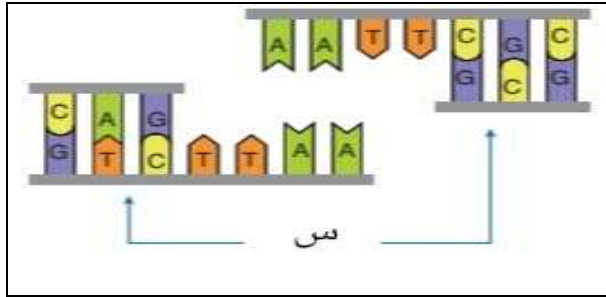
- 1- الى ماذا يشير الرقمين (1 ، 2) في الشكل المجاور

س 147 : ادرس الشكل واجب عن الاسئلة



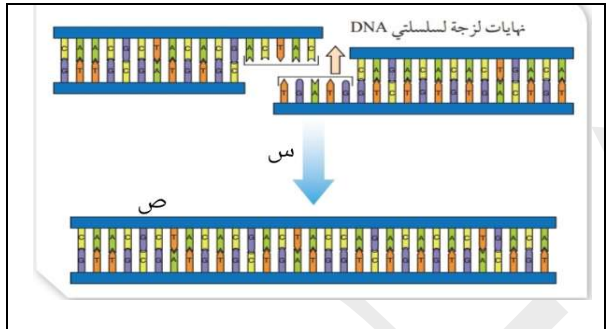
- 1- ما نوع نهايات قطع DNA المشار اليها بالرمز (س) في الشكل
- 2- ما هي امكانية هذه القطع في التكنولوجيا الحيوية ؟ ولماذا ؟
- 3- كم عدد سلاسل DNA في نهايات هذه القطع

س 148 : ادرس الشكل واجب عن الاسئلة



- 1- ما نوع نهايات قطع DNA المشار اليها بالرمز (س) في الشكل
- 2- ما هي امكانية هذه القطع في التكنولوجيا الحيوية ؟ ولماذا ؟
- 3- كم عدد سلاسل DNA في نهايات هذه القطع

س 149 : ادرس الشكل واجب عن الاسئلة .



- 1- سم الانزيم المشار اليه بالرمز (س)
- 2- ماذا يسمى DNA المشار اليه بالرموز (ص)
- 3- ما همية الانزيم (س)
- 4- ما نوع الرابطة التساهمية التي يكونها الانزيم (س)

س 150 : ادرس الجدول واجب عن الاسئلة

رقم الإنزيم	السلاطة	السلاطة	النوع	اسم الجنس للبكتريا	إنزيم القطع المحدد
1	-	R	coli	<i>Escherichia</i>	لس
1		H	<i>amyloliquefaciens</i>	<i>Bacillus</i>	ص
3	d	-	<i>influenza</i>	<i>Haemophilus</i>	ع
1	-	-	<i>stuartii</i>	<i>Providencia</i>	ل

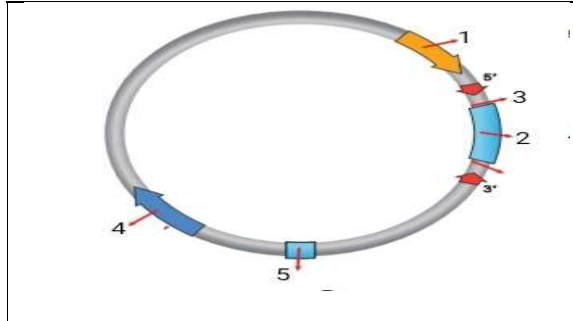
- 1- اكتب اسم انزيمات القطع المحدد المشار لها بالرموز (س ، ص ، ع ، ل)

س 151 : ادرس الشكل واجب عن الاسئلة

موقع القطع	
5'-GAATTC-3' 3'-CTTAAG-5'	س
5'-GGATCC-3' 3'-CCTAGG-5'	ص
5'-AAGCTT-3' 3'-TTCGAA-5'	ع
5'-GGCC-3' 3'-CCGG-5'	ل

- 1- ما رمز الانزيم (الانزيمات) الذي تنتج عنه قطع يصعب استخدامها في التكنولوجيا الحيوية
- 2- ما هو رمز الانزيم (الانزيمات) الذي ينتج عنه قطع نهاياتها مزدوجة
- 3- ما رمز الانزيم (الانزيمات) الذي ينتج عنه نهايات مكونة من سلسلتين من النيوكليوتيدات

س 152 : ادرس الشكل واجب عن الاسئلة



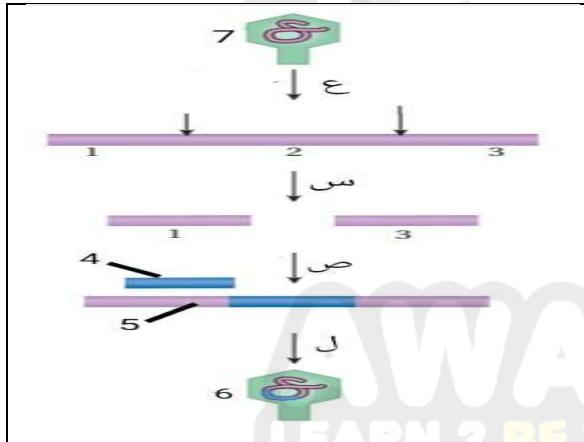
- 1- ماذا يمثل الشكل
- 2- ما اهمية هذا التركيب
- 3- من اين يتم الحصول على هذا التركيب
- 4- سم الاجزاء والمواقع المشار اليها بالارقام (1- 5)

س 153 : ادرس الشكل واجب عن الاسئلة



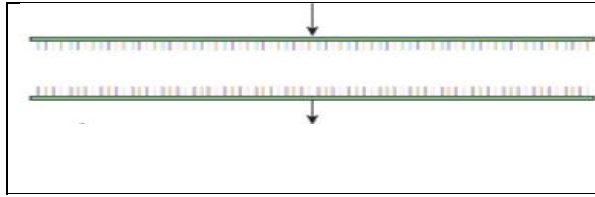
- 1- سم الجهاز المجاور
- 2- ما اهمية هذا الجهاز
- 3- اذا تم ادخال جزيي DNA في الجهاز ، كم عدد النسخ الناتجة بعد (5) دورات في هذا الجهاز

س 154 : ادرس الشكل واجب عن الاسئلة



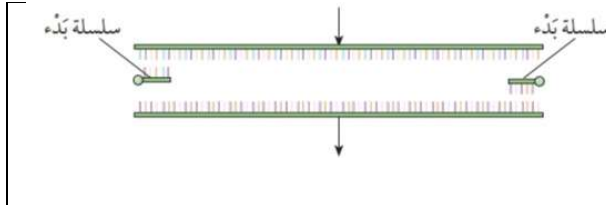
- 1- الى ماذا تشير الخطوات (ع ، س ، ص ، ل)
- 2- سم التراكيب (4 ، 5 ، 6 ، 7)
- 3- ما هو الانزيم المستخدم في الخطوة (س) والانزيم المستخدم في الخطوة (ص)
- 4- بماذا يختلف التركيب (6) عن التركيب (7)

س 155 : ادرس الشكل واجب عن الاسئلة



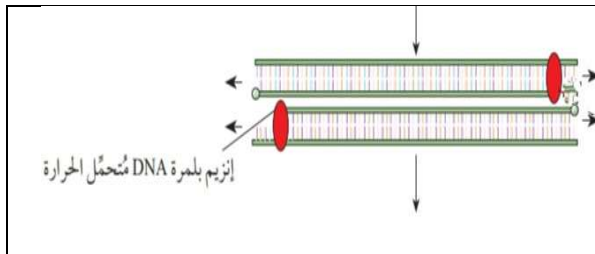
- 1- اي خطوات تفاعل انزيم البلمرة المتسلسل (PCR) يمثلها الشكل المجاور
- 2- ما هي درجة الحرارة اللازمة لاتمام هذه الخطوة
- 3- ما اهمية هذه الخطوة

س 156 : ادرس الشكل واجب عن الاسئلة



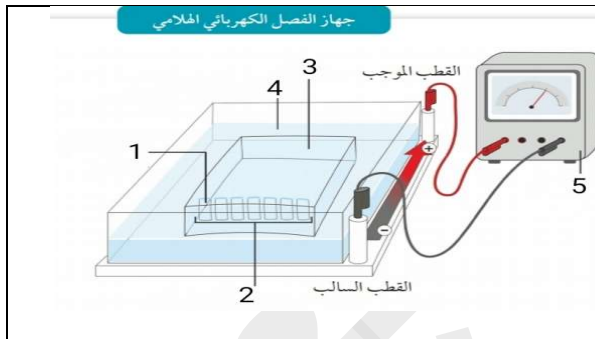
- 1- اي خطوات تفاعل انزيم البلمرة المتسلسل (PCR) يمثلها الشكل المجاور
- 2- ما هي درجة الحرارة اللازمة لاتمام هذه الخطوة
- 3- ما اهمية هذه الخطوة

س 157 : ادرس الشكل واجب عن الاسئلة



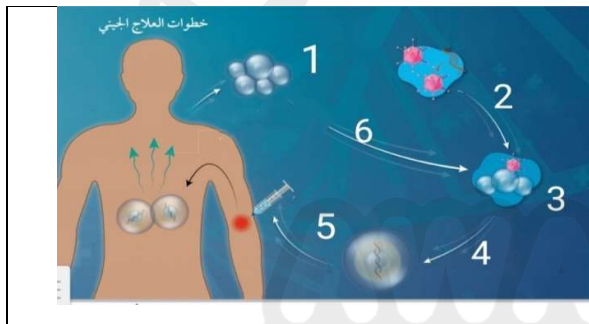
- 1- اي خطوات تفاعل انزيم البلمرة المتسلسل (PCR) يمثلها الشكل المجاور
- 2- ما هي درجة الحرارة اللازمة لاتمام هذه الخطوة
- 3- ما اهمية هذه الخطوة

س 158 : ادرس الشكل واجب عن الاسئلة



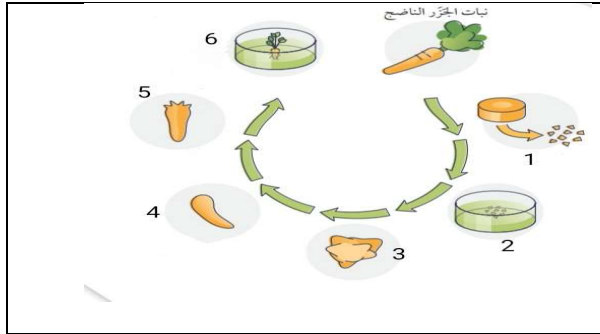
- 1- الى ماذا تشير الارقام (1- 5)
- 2- ما هو مبدأ عمل هذا الجهاز في فصل قطع DNA
- 3- لماذا توضع قطع DNA من جهة القطب السالب

س 159 : ادرس الشكل واجب عن الاسئلة



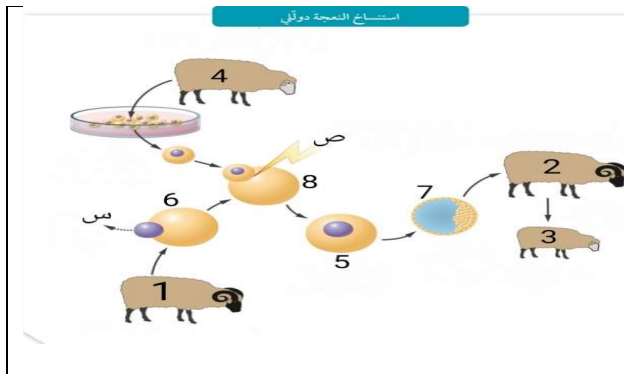
- 1- الى ماذا تشير الخطوات (1- 6) على الشكل
- 2- ما هو الناقل الجيني المستخدم في العملية التي يمثلها الشكل

س 160 : ادرس الشكل واجب عن الاسئلة



- 1- الى ماذا تشير الخطوات (1- 6) على الشكل
- 2- كم وسط غذائي تم استخدامه في العملية

س 161 : ادرس الشكل واجب عن الاسئلة



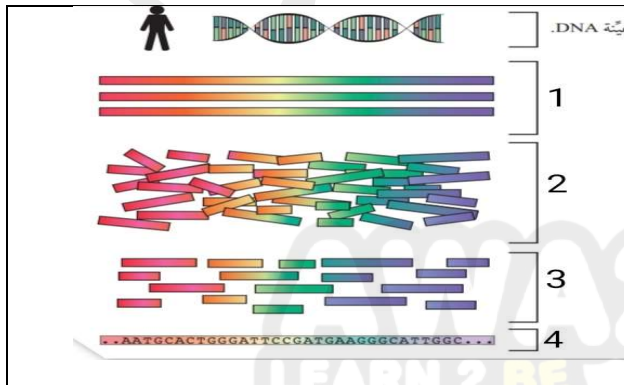
- 1- ما هو رقم النعجة التي اخذت منها البويضة غير المخصبة
- 2- ما هو رقم النعجة التي اخذت منها الخلية الجسمية
- 3- ما هو رقم النعجة التي زرع الجنين في رحمها
- 4- ما رقم النعجة التي تماثل صفات الفرد الناتج
- 5- سم العمليات (س ، ص)
- 6- الى ماذا تشير الارقام (5 ، 6 ، 7 ، 8)

س 162 : ادرس الشكل واجب عن الاسئلة



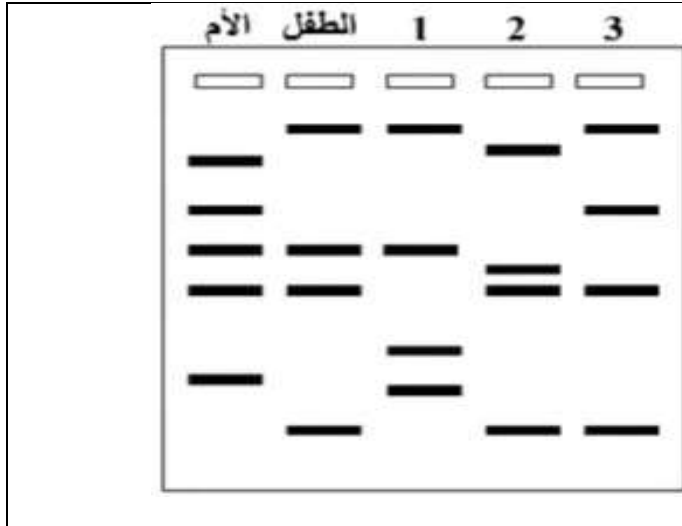
- 1- الى ماذا تشير الارقام والاحرف على الشكل
- 2- ما اهمية الخطوة (4)

س 163 : ادرس الشكل واجب عن الاسئلة



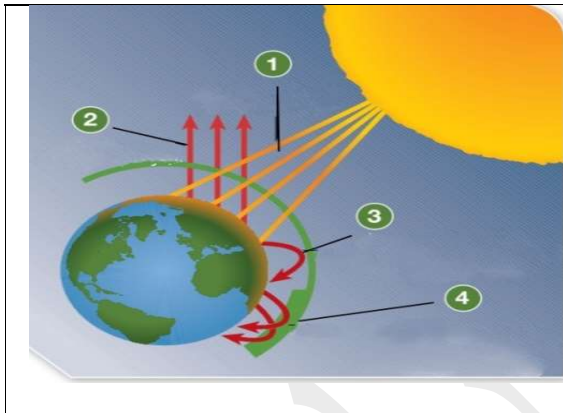
- 1- الى ماذا تشير الخطوات (1- 4)
- 2- ما اسم الجهاز المستخدم لاتمام الخطوة (1)
- 3- ما اسم الانزيمات المستخدمة في الخطوة (2)

س 164 : ادرس الشكل واجب عن الاسئلة



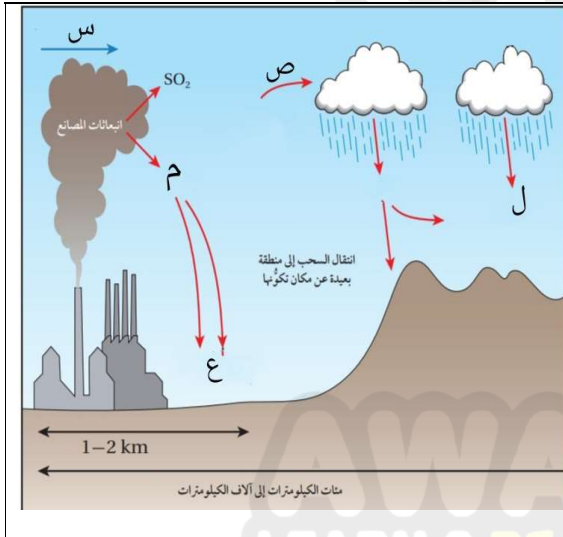
1- اي الابعاء (1 ، 2 ، 3) يمثل والد الطفل في الشكل

س 165 : ادرس الشكل واجب عن الاسئلة



- 1- سم العمليات (1 ، 2 ، 3 ، 4)
- 2- ما نوع الاشعة المنعكسة عن سطح الارض
- 3- ما هو سبب عودة الاشعة المنعكسة عن سطح الارض الى الارض مرة اخرى

س 166 : ادرس الشكل واجب عن الاسئلة



- 1- ما اسم المادة (م)
- 2- الى ماذا تشير الرموز (س ، ص ، ع ، ل) في الشكل